

تم تحميل وعرض المادة من

منهجي

mnhaji.com



موقع منهجي منصة تعليمية توفر كل ما يحتاجه المعلم
والطالب من حلول الكتب الدراسية وشرح للدروس
بأسلوب مبسط لكافة المراحل التعليمية وتوزيع
المناهج وتحضير وملخصات ونماذج اختبارات وأوراق
عمل جاهزة للطباعة والتحميل بشكل مجاني

حمل تطبيق منهجي ليصلك كل جديد



نموذج اسئلة الاختبار النهائي
المادة: الدراسات الاجتماعية
الصف: الأول المتوسط
الفصل الدراسي الاول
1448هـ

نموذج اسئلة الاختبار النهائي لمادة الدراسات الاجتماعية للفصل الدراسي الاول 1448هـ			
4	عدد الاوراق	الأول المتوسط	الصف
3	عدد الأسئلة	40 درجة	الدرجة النهائية

درجة السؤال الاول	درجة السؤال الثاني	درجة السؤال الثالث	مجموع درجات الطالبة

المصححة	المراجعة
التوقيع	التوقيع

اسم الطالبة

تعليمات هامة

- ✓ التوكل على الله وتذكرني حديث نبينا محمد صلى الله عليه وسلم حيث قال (من غشنا فليس منا)
- ✓ اكتب اسمك الرباعي كاملا في الصفحة الأولى وفصلك (أ أو ب) فقط
- ✓ تأكدي من عدد الأسئلة انها ثلاثة أسئلة
- ✓ الكتابة تكون بالقلم الأزرق الجاف
- ✓ الالتزام بالهدوء في قاعة الاختبار
- ✓ تأكدي من جوابك على جميع الأسئلة
- ✓ الخروج من قاعة الاختبار بعد مضي نصف الوقت

16 درجة

السؤال الأول ضع علامة (√) أمام العبارة الصحيحة و علامة (x) أمام العبارة الخاطئة فيما يلي ؟

1	اول رائد فضاء عربي مسلم هو صاحب السمو الملكي الامير سلطان بن سلمان
2	قامت حضارة بلاد الرافدين على نهر النيل
3	أول بيت وضع للناس على وجه الارض هو (الكعبة المشرفة)
4	ارتبطت الفنون والعمارة في الحضارة الاسلامية بالأمور الدينية
5	اقرب الكواكب للشمس هو المريخ
6	اهتم المسلمون بعلم التاريخ لارتباطه بغزوات النبي صلى الله عليه وسلم
7	ديوان الرسائل مهمته الفصل بين الخصومات بين الناس
8	حسان بن ثابت رضي الله (شاعر النبي صلى الله عليه وسلم)
9	أستثمر النبي صلى الله عليه وسلم موسم الحج في الدعوة
10	كل أبناء النبي صلى الله عليه وسلم من السيدة خديجة ماعدا ابراهيم
11	هاجر المسلمون الأوائل الى الحبشة .
12	حدثت ثلاثة بيعات في العقبة
13	اتسمت الحالة السياسية في شبة الجزيرة العربية قبل الاسلام بالصراعات و الحروب
14	في شهر رمضان نزل جبريل عليه السلام على النبي محمد صلى الله عليه وسلم في غار حراء
15	حجّ النبي محمد صلى الله عليه وسلم مرتين
16	أمّ عمر بن الخطاب رضي الله عنه المسلمين في الصلاة لما مرض النبي محمد صلى الله عليه وسلم

السؤال الثاني اختاري الاجابة الصائبة والصحيحة لما يأتي؟

هو كل ما يحيط بنا من نجوم ومجرات ومخلوقات حية :					1
أ	الكون	ب	درب التبانة	ج	الارض
د	الشمس				
تعد أقدم الحضارات واطولها زمنا في تاريخ العالم :					2
أ	الحضارة اليونانية	ب	الحضارة الصينية	ج	الحضارة الفرعونية
د	الحضارة الاسلامية				
يغطي الماء من سطح الارض مانسبته :					3
أ	%29	ب	%45	ج	%60
د	%71				
شكل الارض :					4
أ	مربعة	ب	دائرة	ج	كروي
د	مسطحة				
بنى المصريون القدماء الاهرامات وذلك لـ :					5
أ	يدفنوا موتاهم	ب	يسكنوها	ج	للعبادة
د	لاشيء مما ذكر				
عدد كواكب مجموعتنا الشمسية :					6
أ	10 كواكب	ب	11 كوكب	ج	8 كواكب
د	6 كواكب				
أكبر القارات مساحة :					7
أ	قارة أفريقيا	ب	قارة استراليا	ج	قارة أوروبا
د	قارة آسيا				
الدائرة الرئيسية والكبرى من دوائر العرض ودرجتها صفر وتقسّم الكرة الارضية الى قسمين شمالي وجنوبي هي :					8
أ	دائرة السرطان	ب	دائرة (خط الاستواء)	ج	الدائرة القطبية
د	دائرة الجدي				
قسمت دول العالم الى منطقة زمنية :					9
أ	22 منطقة	ب	23 منطقة	ج	24 منطقة
د	25 منطقة				
تعد اللغة هي أثرى اللغات وأكملها في المعاني والألفاظ وهي لغة القرآن الكريم :					10
أ	اللغة الفرنسية	ب	اللغة الانجليزية	ج	اللغة العربية
د	اللغة الصينية				
آخر وصايا النبي محمد صلى الله عليه وسلم قبل وفاته :					11
أ	الصيام	ب	الحج	ج	بر الوالدين
د	الصلاة				
كل أبناء النبي محمد صلى الله عليه وسلم الذكور و الاناث من السيدة خديجة رضي الله عنها عدا :					12
أ	ابراهيم	ب	فاطمة	ج	القاسم
د	عبدالله				
كفل النبي صلى الله عليه وسلم بعد وفاة أمه :					13
أ	حليمة السعدية	ب	جده عبدالمطلب	ج	عمه ابوطالب
د	ورقة بن نوفل				
هي ملة أبينا ابراهيم عليه السلام ملة التوحيد :					14
أ	الحنيفية	ب	اليهودية	ج	النصرانية
د	المجوسية				

القطر القطبي

البدو

التخطيط

سلمان الفارسي

العسس

السرية

نعيم بن مسعود

ديوان الخراج

الحضارة

غار حراء

1	تنظيم و ترتيب الاعمال و المهام و وضع الزمن لتنفيذها
2	أشار على النبي بحفر الخندق في غزوة الخندق
3	الجند الذي يكلفهم الخليفة بمراقبة الامن ليلا
4	هو الذي ينظم الواردات التي ترد بيت المال
5	تفاعل المجموعات البشرية مع البيئة
6	هم السكان الذين يسكنون الصحراء و البادية
7	هو خط وهمي يصل بين القطبين الشمالي و الجنوبي
8	اتخذة النبي في جبل النور ليتعبد فيه قبل البعثة
9	حملات وجهها النبي ﷺ ولم يقدها بنفسه
10	أمره النبي ﷺ بزعة صفوف الاحزاب بالخدعة

← انتهت الاسئلة ←
تمنّياتي للجميع بالتوفيق و النجاح ,,,

..... مديرة المدرسة:

..... معلمة المادة:

نموذج اسئلة الاختبار النهائي
المادة: الدراسات الاجتماعية
الصف: الأول المتوسط
الفصل الدراسي الاول
1448هـ

نموذج اسئلة الاختبار النهائي لمادة الدراسات الاجتماعية للفصل الدراسي الاول 1448هـ			
4	عدد الاوراق	الأول المتوسط	الصف
3	عدد الأسئلة	40 درجة	الدرجة النهائية

درجة السؤال الاول	درجة السؤال الثاني	درجة السؤال الثالث	مجموع درجات الطالبة
نموذج الإجابة			
التوقيع		التوقيع	

اسم الطالبة

<p style="text-align: center;">تعليمات هامة</p> <p>✓ التوكل على الله وتذكرني حديث نبينا محمد صلى الله عليه وسلم حيث قال (من غشنا فليس منا)</p> <p>✓ اكتب اسمك الرباعي كاملا في الصفحة الأولى وفصلك (أ أو ب) فقط</p> <p>✓ تأكدي من عدد الأسئلة انها ثلاثة أسئلة</p> <p>✓ الكتابة تكون بالقلم الأزرق الجاف</p> <p>✓ الالتزام بالهدوء في قاعة الاختبار</p> <p>✓ تأكدي من جوابك على جميع الأسئلة</p> <p>✓ الخروج من قاعة الاختبار بعد مضي نصف الوقت</p>

16 درجة

السؤال الأول	ضعي علامة (√) أمام العبارة الصحيحة و علامة (x) أمام العبارة الخاطئة فيما يلي ؟
1	اول رائد فضاء عربي مسلم هو صاحب السمو الملكي الامير سلطان بن سلمان <input checked="" type="checkbox"/>
2	قامت حضارة بلاد الرافدين على نهر النيل <input type="checkbox"/>
3	أول بيت وضع للناس على وجه الارض هو (الكعبة المشرفة) <input checked="" type="checkbox"/>
4	ارتبطت الفنون والعمارة في الحضارة الاسلامية بالأمور الدينية <input checked="" type="checkbox"/>
5	اقرب الكواكب للشمس هو المريخ <input type="checkbox"/>
6	اهتم المسلمون بعلم التاريخ لارتباطه بغزوات النبي صلى الله عليه وسلم <input checked="" type="checkbox"/>
7	ديوان الرسائل مهمته الفصل بين الخصومات بين الناس <input type="checkbox"/>
8	حسان بن ثابت رضي الله (شاعر النبي صلى الله عليه وسلم) <input checked="" type="checkbox"/>
9	أستثمر النبي صلى الله عليه وسلم موسم الحج في الدعوة <input checked="" type="checkbox"/>
10	كل أبناء النبي صلى الله عليه وسلم من السيدة خديجة ماعدا ابراهيم <input checked="" type="checkbox"/>
11	هاجر المسلمون الأوائل الى الحبشة . <input checked="" type="checkbox"/>
12	حدثت ثلاثة بيعات في العقبة <input type="checkbox"/>
13	اتسمت الحالة السياسية في شبة الجزيرة العربية قبل الاسلام بالصراعات و الحروب <input checked="" type="checkbox"/>
14	في شهر رمضان نزل جبريل عليه السلام على النبي محمد صلى الله عليه وسلم في غار حراء <input checked="" type="checkbox"/>
15	حجّ النبي محمد صلى الله عليه وسلم مرتين <input type="checkbox"/>
16	أمّ عمر بن الخطاب رضي الله عنه المسلمين في الصلاة لما مرض النبي محمد صلى الله عليه وسلم <input type="checkbox"/>

1	أ	الكون	ب	درب التبانة	ج	الارض	د	الشمس	هو كل ما يحيط بنا من نجوم ومجرات ومخلوقات حية :
2	أ	الحضارة اليونانية	ب	الحضارة الصينية	ج	الحضارة الفرعونية	د	الحضارة الاسلامية	تعد أقدم الحضارات واطولها زمنا في تاريخ العالم :
3	أ	%29	ب	%45	ج	%60	د	%71	يغطي الماء من سطح الارض مانسبته :
4	أ	مربعة	ب	دائرة	ج	كروي	د	مسطحة	شكل الارض :
5	أ	يدفنوا موتاهم	ب	يسكنوها	ج	للعبادة	د	لاشيء مما ذكر	بنى المصريون القدماء الاهرامات وذلك لـ :
6	أ	10 كواكب	ب	11 كوكب	ج	8 كواكب	د	6 كواكب	عدد كواكب مجموعتنا الشمسية :
7	أ	قارة أفريقيا	ب	قارة استراليا	ج	قارة أوروبا	د	قارة آسيا	أكبر القارات مساحة :
8	أ	دائرة السرطان	ب	دائرة (خط الاستواء)	ج	الدائرة القطبية	د	دائرة الجدي	الدائرة الرئيسية والكبرى من دوائر العرض ودرجتها صفر وتقسم الكرة الارضية الى قسمين شمالي وجنوبي هي :
9	أ	منطقة 22	ب	منطقة 23	ج	منطقة 24	د	منطقة 25	قسمت دول العالم الى منطقة زمنية :
10	أ	اللغة الفرنسية	ب	اللغة الانجليزية	ج	اللغة العربية	د	اللغة الصينية	تعد اللغة هي أثرى اللغات وأكملها في المعاني والألفاظ وهي لغة القرآن الكريم :
11	أ	الصيام	ب	الحج	ج	بر الوالدين	د	الصلاة	آخر وصايا النبي محمد صلى الله عليه وسلم قبل وفاته :
12	أ	ابراهيم	ب	فاطمة	ج	القاسم	د	عبدالله	كل أبناء النبي محمد صلى الله عليه وسلم الذكور و الاناث من السيدة خديجة رضي الله عنها عدا :
13	أ	حليمة السعدية	ب	جده عبدالمطلب	ج	عمه ابوطالب	د	ورقة بن نوفل	كفل النبي صلى الله عليه وسلم بعد وفاة أمه :
14	أ	الحنيفية	ب	اليهودية	ج	النصرانية	د	المجوسية	هي ملة أبينا ابراهيم عليه السلام ملة التوحيد :

السؤال الثالث مستعينةً بالشكل المجاور ضعي مصطلحاً مناسباً أمام العبارات التالية ؟

القطر القطبي
البدو
التخطيط
سلمان الفارسي
العسس
السرية
نعيم بن مسعود
ديوان الخراج
الحضارة
غار حراء

1	التخطيط	تنظيم و ترتيب الاعمال و المهام و وضع الزمن لتنفيذها
2	سلمان الفارسي	أشار على النبي بحفر الخندق في غزوة الخندق
3	العسس	الجند الذي يكلفهم الخليفة بمراقبة الامن ليلا
4	ديوان الخراج	هو الذي ينظم الواردات التي ترد بيت المال
5	الحضارة	تفاعل المجموعات البشرية مع البيئة
6	البدو	هم السكان الذين يسكنون الصحراء و البادية
7	القطر القطبي	هو خط وهمي يصل بين القطبين الشمالي و الجنوبي
8	غار حراء	اتخذة النبي في جبل النور ليتعبد فيه قبل البعثة
9	السرية	حملات وجهها النبي ﷺ ولم يقدها بنفسه
10	نعيم بن مسعود	أمره النبي ﷺ بزعة صفوف الاحزاب بالخدعة

موقع منهجي  mnhaji.com

← انتهت الاسئلة ←

تمنّياتي للجميع بالتوفيق و النجاح ,,,,

مديرة المدرسة:

معلمة المادة:

المادة : الدراسات الاجتماعية		
الصف: الأول متوسط		
الزمن : ساعة ونصف		اسم الطالب:/
اسئلة الاختبار النهائي ((انتساب)) لمادة الدراسات الاجتماعية للفصل الدراسي الاول ١٤٤٨ هـ		

السؤال الأول : ضع علامة (√) أمام العبارة الصحيحة و علامة (x) أمام العبارة الخاطئة فيما يلي ؟ ٢٦ درجة

١	اول رائد فضاء عربي مسلم هو صاحب السمو الملكي الامير سلطان بن سلمان
٢	حسان بن ثابت رضي الله (شاعر النبي صلى الله عليه وسلم)
٣	أول بيت وضع للناس على وجه الارض هو (الكعبة المشرفة)
٤	ارتبطت الفنون والعمارة في الحضارة الاسلامية بالأمور الدينية
٥	أستثمر النبي صلى الله عليه وسلم موسم الحج في الدعوة
٦	بدأت بوادر الوحي على النبي صلى الله عليه وسلم بالرؤيا الصادقة
٧	هاجر المسلمون الأوائل الى الحبشة .
٨	اتسمت الحالة السياسية في شبة الجزيرة العربية قبل الاسلام بالصراعات و الحروب
٩	في شهر رمضان نزل جبريل عليه السلام على النبي محمد صلى الله عليه وسلم في غار حراء
١٠	حج النبي محمد صلى الله عليه وسلم مره واحدة
١١	أم أبو بكر الصديق رضي الله عنه المسلمين في الصلاة لما مرض النبي محمد صلى الله عليه وسلم
١٢	الذي أشار على النبي صلى الله عليه وسلم بحفر الخندق هو سلمان الفارسي رضي الله عنه
١٣	كان النبي صلى الله عليه وسلم يوصف بين قومه بالصادق الأمين
١٤	الوزارة تعني المعاونة في تحمل أعباء الحكم
١٥	وزارة التنفيذ هي أن ينفذ الوزير أوامر الخليفة
١٦	من أسس التخطيط الجيد تنظيم الوقت
١٧	اهتم المسلمين بعلم التاريخ لارتباطه بغزوات النبي صلى الله عليه وسلم
١٨	تنظيم الوقت يعني العمل المستمر دون أي أوقات للراحة أو الترفيه
١٩	تفيد خطوط العرض في معرفة الزمن
٢٠	قامت حضارة بلاد الرافدين على نهر النيل
٢١	حدثت ثلاثة بيعات في العقبة
٢٢	اقرب الكواكب للشمس هو المريخ
٢٣	ديوان الرسائل مهمته الفصل بين الخصومات بين الناس
٢٤	أصغر المحيطات هو المحيط الهندي
٢٥	عدد خطوط العرض ٣٦٠ خطأ
٢٦	الانسان يشعر بحركة الأرض

السؤال الثاني : اختار الإجابة الصحيحة فيما يلي بوضع دائرة عليها: ١٤ درجة

١	أ	الكون	ب	درب التبانة	ج	الارض	د	الشمس
٢	أ	الحضارة الصينية	ب	الحضارة اليونانية	ج	الحضارة الفرعونية	د	الحضارة الاسلامية
٣	أ	٧١%	ب	٤٥%	ج	٦٠%	د	٢٩%
٤	أ	كروي	ب	دائرة	ج	مربعة	د	مسطحة
٥	أ	يدفنوا موتاهم	ب	يسكنوها	ج	للعباداة	د	لاشيء مما ذكر
٦	أ	١٠ كواكب	ب	١١ كوكب	ج	٨ كواكب	د	٦ كواكب
٧	أ	قارة أفريقيا	ب	قارة استراليا	ج	قارة آسيا	د	قارة أوروبا
٨	أ	دائرة السرطان	ب	الدائرة القطبية	ج	دائرة (خط الاستواء)	د	دائرة الجدي
٩	أ	منطقة ٢٢	ب	منطقة ٢٣	ج	منطقة ٢٤	د	منطقة ٢٥
١٠	أ	اللغة الفرنسية	ب	اللغة الانجليزية	ج	اللغة العربية	د	اللغة الصينية
١١	أ	الصيام	ب	الحج	ج	الصلاة	د	بر الوالدين
١٢	أ	فاطمة	ب	ابراهيم	ج	القاسم	د	عبدالله
١٣	أ	حليمة السعدية	ب	جده عبدالمطلب	ج	عمه ابوطالب	د	ورقة بن نوفل
١٤	أ	اليهودية	ب	الحنيفية	ج	النصرانية	د	المجوسية

انتهت الاسئلة

نموذج الإجابة

المادة : الدراسات الاجتماعية
الصف: الأول متوسط
الزمن : ساعة ونصف

اسم الطالب/:

اسئلة الاختبار النهائي ((انتساب)) لمادة الدراسات الاجتماعية للفصل الدراسي الاول ١٤٤٨ هـ

السؤال الأول : ضع علامة (√) أمام العبارة الصحيحة و علامة (x) أمام العبارة الخاطئة فيما يلي ؟

درجة	السؤال
√	١ اول رائد فضاء عربي مسلم هو صاحب السمو الملكي الامير سلطان بن سلمان
√	٢ حسان بن ثابت رضي الله (شاعر النبي صلى الله عليه وسلم)
√	٣ أول بيت وضع للناس على وجه الارض هو (الكعبة المشرفة)
√	٤ ارتبطت الفنون والعمارة في الحضارة الاسلامية بالأمور الدينية
√	٥ أستثمر النبي صلى الله عليه وسلم موسم الحج في الدعوة
√	٦ بدأت بوادر الوحي على النبي صلى الله عليه وسلم بالرؤيا الصادقة
√	٧ هاجر المسلمون الأوائل الى الحبشة .
√	٨ اتسمت الحالة السياسية في شبة الجزيرة العربية قبل الاسلام بالصراعات و الحروب
√	٩ في شهر رمضان نزل جبريل عليه السلام على النبي محمد صلى الله عليه وسلم في غار حراء
√	١٠ حج النبي محمد صلى الله عليه وسلم مره واحدة
√	١١ أم أبو بكر الصديق رضي الله عنه المسلمين في الصلاة لما مرض النبي محمد صلى الله عليه وسلم
√	١٢ الذي أشار على النبي صلى الله عليه وسلم بحفر الخندق هو سلمان الفارسي رضي الله عنه
√	١٣ كان النبي صلى الله عليه وسلم يوصف بين قومه بالصادق الأمين
√	١٤ الوزارة تعني المعاونة في تحمل أعباء الحكم
√	١٥ وزارة التنفيذ هي أن ينفذ الوزير أوامر الخليفة
√	١٦ من أسس التخطيط الجيد تنظيم الوقت
√	١٧ اهتم المسلمين بعلم التاريخ لارتباطه بغزوات النبي صلى الله عليه وسلم
x	١٨ تنظيم الوقت يعني العمل المستمر دون أي أوقات للراحة أو الترفيه
x	١٩ تفيد خطوط العرض في معرفة الزمن
x	٢٠ قامت حضارة بلاد الرافدين على نهر النيل
x	٢١ حدثت ثلاثة بيعات في العقبة
x	٢٢ اقرب الكواكب للشمس هو المريخ
x	٢٣ ديوان الرسائل مهمته الفصل بين الخصومات بين الناس
x	٢٤ أصغر المحيطات هو المحيط الهندي
x	٢٥ عدد خطوط العرض ٣٦٠ خطأ
x	٢٦ الانسان يشعر بحركة الأرض



السؤال الثاني : اختر الإجابة الصحيحة فيما يلي بوضع دائرة عليها:		١٤ درجة	
١	هو كل ما يحيط بنا من نجوم ومجرات ومخلوقات حية :	أ الكون	ب درب التبانة
		ج الارض	د الشمس
٢	تعد أقدم الحضارات واطولها زمنا في تاريخ العالم :	أ الحضارة الصينية	ب الحضارة اليونانية
		ج الحضارة الفرعونية	د الحضارة الاسلامية
٣	يغطي الماء من سطح الارض مانسبته :	أ ٧١%	ب ٤٥%
		ج ٦٠%	د ٢٩%
٤	شكل الارض :	أ كروي	ب دائرة
		ج مربعة	د مسطحة
٥	بنى المصريون القدياء الاهرامات وذلك لـ :	أ يدفنوا موتاهم	ب يسكنوها
		ج للعبادة	د لاشيء مما ذكر
٦	عدد كواكب مجموعتنا الشمسية :	أ ١٠ كواكب	ب ١١ كوكب
		ج ٨ كواكب	د ٦ كواكب
٧	أكبر القارات مساحة :	أ قارة أفريقيا	ب قارة استراليا
		ج قارة آسيا	د قارة أوروبا
٨	الدائرة الرئيسية والكبرى من دوائر العرض ودرجتها صفر وتقسّم الكرة الارضية الى قسمين شمالا وجنوبي هي :	أ دائرة السرطان	ب الدائرة القطبية
		ج دائرة (خط الاستواء)	د دائرة الجدي
٩	قسمت دول العالم الى منطقة زمنية :	أ ٢٢ منطقة	ب ٢٣ منطقة
		ج ٢٤ منطقة	د ٢٥ منطقة
١٠	تعد اللغة هي أثري اللغات وأكملها في المعاني والألفاظ وهي لغة القرآن الكريم :	أ اللغة الفرنسية	ب اللغة الانجليزية
		ج اللغة العربية	د اللغة الصينية
١١	آخر وصايا النبي محمد صلى الله عليه وسلم قبل وفاته :	أ الصيام	ب الحج
		ج الصلاة	د بر الوالدين
١٢	كل أبناء النبي محمد صلى الله عليه وسلم الذكور و الاناث من السيدة خديجة رضي الله عنها عدا :	أ فاطمة	ب ابراهيم
		ج القاسم	د عبدالله
١٣	كفل النبي صلى الله عليه وسلم بعد وفاة أمه :	أ حليلة السعدية	ب جده عبدالمطلب
		ج عمه ابوطالب	د ورقة بن نوفل
١٤	هي ملة أبينا ابراهيم عليه السلام ملة التوحيد :	أ اليهودية	ب الحنيفية
		ج النصرانية	د المجوسية

انتهت الاسئلة



بسم الله الرحمن الرحيم

رقم السؤال	الدرجة المستحقة		توقيع المصحح	توقيع المراجع
	رقمًا	كتابة		
الأول				
الثاني				
الثالث				
الرابع				
المجموع				

الاختبار النهائي

لمادة : الدراسات
الاجتماعية

الصف : الأول متوسط

اختبار نهاية الفصل الدراسي الأول

١٤٤٨ هـ الزمن : ساعة ونصف

ادعوهذا الدعاء قبل البدء في الإجابة اللهم لا سهل إلا ما جعلته سهلاً وأنت تجعل الحزن إذا شئت سهلاً

اسم الطالب : الفصل () رقم الجلوس ()

السؤال الأول: اختر الإجابة الصحيحة فيما يلي:

١. اكبر قارات العالم مساحة قارة :							
أ	اسيا	ب	أوروبا	ج	إفريقيا	د	استراليا
٢. الخط الرئيسي من خطوط الطول هو خط :							
أ	السرطان	ب	الجدى	ج	جرينتش	د	الاستواء
٣. يبلغ عدد دوائر العرض :							
أ	٣٦٠ دائرة	ب	١٨٠ دائرة	ج	٩٠ دائرة	د	٤٥ دائرة
٤. يحدث فصل الصيف في شمال الكرة الأرضية عندما تتعامد أشعة الشمس على :							
أ	خط جرينتش	ب	خط الاستواء	ج	مدار الجدى	د	مدار السرطان
٥. يبلغ عدد قارات العالم :							
أ	٩ قارات	ب	٨ قارات	ج	٧ قارات	د	٦ قارات
٦. ترتيب الأرض من حيث القرب من الشمس :							
أ	الرابع	ب	الثالث	ج	الثاني	د	الأول
٧. تتميز جميع كواكب المجموعة الشمسية بأنها :							
أ	شديدة الحرارة	ب	شديدة البرودة	ج	ذات شكل كروي	د	لا شيء مما سبق
٨. يبلغ عدد المناطق الزمنية على سطح الأرض :							
أ	٢٠ منطقة	ب	٣٢ منطقة	ج	٢٨ منطقة	د	٢٤ منطقة
٩. للأرض :							
أ	حركة واحدة	ب	حركتان	ج	ثلاث حركات	د	أربع حركات
١٠. عدد الفصول المناخية :							
أ	أربعة فصول	ب	خمسة فصول	ج	ستة فصول	د	فصلان

١١. تنتمي مجموعتنا الشمسية لمجرة :			
أ العين	ب المذنب	ج درب التبانة	د زهرة الشمس
١٢. تقوم الحضارات على العديد من العوامل :			
أ الصخور والرياح	ب التضاريس والرياح	ج المناخ والتربة	د الموقع والتضاريس
١٣. تفاعل المجموعات البشرية مع البيئة المحيطة بها :			
أ النهضة	ب التاريخ	ج القرون	د الحضارة
١٤. من أبرز علماء المسلمين في علم الرياضيات :			
أ البيروني	ب الخوارزمي	ج جابر بن حيان	د البخاري
١٥. قامت حضارة بلاد الرافدين في :			
أ العراق	ب الصين	ج مصر	د اليمن
١٦. تم بناء سور الصين العظيم على يد الصينيين لمنع من غزوهم :			
أ الفرس	ب الروم	ج المغول	د الاغريق
١٧. الأساس الأول للحضارة الإسلامية :			
أ الأساس الديني	ب الأساس الزراعي	ج الأساس الاقتصادي	د الأساس السياسي
١٨. العلم الذي يدرس الوقائع وأوقاتها :			
أ علم الرياضيات	ب علم الفلك	ج علم الجغرافيا	د علم التاريخ
١٩. يسهم التخطيط في بناء الشخصية الوطنية والتي تعد من أهداف رؤية :			
أ ٢٠٦٠م	ب ٢٠٥٠م	ج ٢٠٣٠م	د ٢٠٧٠م
٢٠. يساعدنا التخطيط على تحقيق عدد من الأهداف منها :			
أ هدر الوقت	ب النجاح والتفوق	ج ضياع الصحة	د ضعف الشخصية

السؤال الثاني: ضع علامة (V) إذا كانت الإجابة صحيحة، وعلامة (x) إذا كانت العبارة خاطئة فيما يلي:

م	السؤال	صح أم خطأ
١	شكل الأرض كامل الاستدارة	
٢	أول رائد فضاء عربي مسلم هو الأمير سلطان بن سلمان	
٣	اهتم المسلمون بعلم الفلك لارتباطه بالأمور الشرعية	
٤	تم انشاء الدواوين في عهد الخليفة عمر بن الخطاب	
٥	تستمر دورة الأرض اليومية مدة ٢٤ ساعة	
٦	من فوائد خطوط الطول معرفة الزمن	
٧	الانسان يشعر بحركة الأرض	
٨	قامت الحضارة الفرعونية على نهر النيل	
٩	الترجمة هي نقل العلوم من لغتها الاصلية إلى الفارسية	
١٠	من نتائج التخطيط التوتر والقلق	

السؤال الثالث: اختر من العمود (أ) ما يناسبه من العمود (ب) فيما يلي :-

(أ)	الحرف الصحيح
١. المشتري	
٢. الكواكب	
٣. عطارد	
٤. الشمس	
٥. نبتون	
٦. الكون	
٧. العسس	
٨. التفسير	

(ب)
(أ) نجم كروي غازي ملتهب يشع ضوء وحرارة
(ب) أقرب كواكب المجموعة الشمسية
(ج) العلم الذي يبين معاني القران الكريم ويوضحها
(د) أكبر كواكب المجموعة الشمسية
(هـ) حفظ الأمن ليلاً
(و) كل ما يحيط بنا من نجوم ومجرات ومخلوقات حية
(ز) أجسام كروية صلبة معتمة تستمد الضوء والحرارة من الشمس
(ح) أبعد كواكب المجموعة الشمسية

السؤال الرابع: صحح ما تحته خط :-

أ- تبلغ نسبة الماء على سطح الأرض ٢٩%

ب- تعد قارة إفريقيا أصغر قارات العالم

انتهت الأسئلة

وفقك الله وسدد على درب الخير خطاك

معلم المادة / خالد الحربي

التوقيع	اسم المصحح :	الدرجة	
التوقيع	اسم المراجع :	40	

رقم الجلوس	الصف الأول متوسط	العام الدراسي 1448 هـ	أسئلة اختبار الفصل الدراسي الأول
عدد الصفحات : 2	الزمن : ساعة ونصف	المادة : اجتماعيات	اسم الطالب :

استعن بالله ثم اجب على الاسئلة

السؤال الأول

10

ضع علامة (√) أمام العبارة الصحيحة وعلامة (X) أمام العبارة الخاطئة

()	من نتائج التخطيط التوتر والقلق .	1
()	شكل الأرض كامل الاستدارة .	2
()	أول رائد فضاء عربي مسلم هو الأمير سلطان بن سلمان .	3
()	اهتم المسلمون بعلم الفلك لارتباطه بالامور الشرعية .	4
()	تم إنشاء الدواوين في عهد الخليفة عمر بن الخطاب .	5
()	تستمر دورة الأرض اليومية مدة 24 ساعة .	6
()	من فوائد خطوط الطول معرفة الزمن .	7
()	يساعد التخطيط على تنظيم الوقت .	8
()	الانسان يشعر بحركة الأرض .	9
()	تبلغ نسبة الماء على سطح الأرض 29 % .	10

السؤال الثاني

8

أربط بين العمود [أ] بما يناسبه في العمود [ب] بوضع الرقم المناسب :

العمود [ب]	العمود [أ]
1- المشتري	() أقرب كواكب المجموعة الشمسية .
2- استراليا	() نجم كروي غازي ملتهب يشع ضوء وحرارة .
3- آسيا	() أبعد كواكب المجموعة الشمسية .
4- الكواكب	() كل ما يحيط بنا من نجوم ومجرات ومخلوقات حية .
5- عطارذ	() أكبر كواكب المجموعة الشمسية .
6- الشمس	() أصغر قارات العالم .
7- نبتون	() أكبر قارات العالم .
8- الكون	() أجسام كروية صلبة معتمة تستمد الضوء والحرارة من الشمس .

ضع دائرة على الحرف الذي يسبق الإجابة الصحيحة لكل مما يلي :

1- يبلغ عدد دوائر العرض :

أ 360 دائرة ب 180 دائرة ج 150 دائرة

2- العلم الذي يبين معاني القرآن الكريم ويوضحها هو علم :

أ الحديث ب التفسير ج الفقه

3- من أبرز علماء المسلمين في علم الرياضيات :

أ محمد الخوارزمي ب جابر بن حيان ج أبو الريحان البيروني

4- يحدث فصل الصيف في شمال الكرة الأرضية عندما تتعامد اشعة الشمس على :

أ مدار السرطان ب مدار الجدي ج خط الاستواء

5- يبلغ عدد قارات العالم :

أ 7 قارات ب 5 قارات ج 8 قارات

6- قامت حضارة بلاد الرافدين في :

أ الصين ب العراق ج مصر

7- من إنجازات الحضارة الإسلامية في النظام السياسي :

أ القضاء ب الدواوين ج الوزارة

8- العلم الذي يدرس الوقائع وأوقاتها هو علم :

أ الجغرافيا ب الفلك ج التاريخ

9- للأرض :

أ حركة واحدة ب ثلاث حركات ج حركتان

10- ترتيب الأرض من حيث القرب من الشمس :

أ الأول ب الثاني ج الثالث

11- تتميز جميع كواكب المجموعة الشمسية بأنها :

أ شديدة الحرارة ب شديدة البرودة ج ذات شكل كروي

12- الخط الرئيسي من خطوط الطول هو خط :

أ الأستواء ب السرطان ج جرينتش

أ / اذكر الأسس التي قامت عليها الحضارة الإسلامية :

1-
2-

3-
4-

ب / اكمل الفراغات التالية :

1- قامت الحضارة الفرعونية على نهر في الفترة ما بين سنة ق.م إلى سنة ق.م .

2- ينتج عن حركة الأرض اليومية ثلاث نتائج هي 1- 2-

3-

نموذج الإجابة

التوقيع	المصحح :			
التوقيع	اسم المراجع :	40		

رقم الجلوس	الصف الأول متوسط	العام الدراسي 1448 هـ	أسئلة اختبار الفصل الدراسي الأول
عدد الصفحات : 2	الزمن : ساعة ونصف	المادة : اجتماعيات	اسم الطالب :

استعن بالله ثم اجب على الاسئلة

السؤال الأول

10

ضع علامة (√) أمام العبارة الصحيحة وعلامة (X) أمام العبارة الخاطئة

(X)	من نتائج التخطيط التوتر والقلق .	1
(X)	شكل الأرض كامل الاستدارة .	2
(√)	أول رائد فضاء عربي مسلم هو الأمير سلطان بن سلمان .	3
(√)	اهتم المسلمون بعلم الفلك لارتباطه بالامور الشرعية .	4
(√)	تم إنشاء الدواوين في عهد الخليفة عمر بن الخطاب .	5
(√)	تستمر دورة الأرض اليومية مدة 24 ساعة .	6
(√)	من فوائد خطوط الطول معرفة الزمن .	7
(√)	يساعد التخطيط على تنظيم الوقت .	8
(X)	الانسان يشعر بحركة الأرض .	9
(X)	تبلغ نسبة الماء على سطح الأرض 29 % .	10

السؤال الثاني

8

أربط بين العمود [أ] بما يناسبه في العمود [ب] بوضع الرقم المناسب :

العمود [أ]	العمود [ب]
أقرب كواكب المجموعة الشمسية .	(٥)
نجم كروي غازي ملتهب يشع ضوء وحرارة .	(٦)
أبعد كواكب المجموعة الشمسية .	(٧)
كل ما يحيط بنا من نجوم ومجرات ومخلوقات حية .	(٨)
أكبر كواكب المجموعة الشمسية .	(١)
أصغر قارات العالم .	(٢)
أكبر قارات العالم .	(٣)
أجسام كروية صلبة معتمة تستمد الضوء والحرارة من الشمس .	(٤)
1- المشتري	
2- استراليا	
3- آسيا	
4- الكواكب	
5- عطارذ	
6- الشمس	
7- نبتون	
8- الكون	

ضع دائرة على الحرف الذي يسبق الإجابة الصحيحة لكل مما يلي :

1- يبلغ عدد دوائر العرض :

أ 360 دائرة ب 180 دائرة ج 150 دائرة

2- العلم الذي يبين معاني القرآن الكريم ويوضحها هو علم :

أ الحديث ب التفسير ج الفقه

3- من أبرز علماء المسلمين في علم الرياضيات :

أ محمد الخوارزمي ب جابر بن حيان ج أبو الريحان البيروني

4- يحدث فصل الصيف في شمال الكرة الأرضية عندما تتعامد اشعة الشمس على :

أ مدار السرطان ب مدار الجدي ج خط الاستواء

5- يبلغ عدد قارات العالم :

أ 7 قارات ب 5 قارات ج 8 قارات

6- قامت حضارة بلاد الرافدين في :

أ الصين ب العراق ج مصر

7- من إنجازات الحضارة الإسلامية في النظام السياسي :

أ القضاء ب الدواوين ج الوزارة

8- العلم الذي يدرس الوقائع وأوقاتها هو علم :

أ الجغرافيا ب الفلك ج التاريخ

9- للأرض :

أ حركة واحدة ب ثلاث حركات ج حركتان

10- ترتيب الأرض من حيث القرب من الشمس :

أ الأول ب الثاني ج الثالث

11- تتميز جميع كواكب المجموعة الشمسية بأنها :

أ شديدة الحرارة ب شديدة البرودة ج ذات شكل كروي

12- الخط الرئيسي من خطوط الطول هو خط :

أ الاستواء ب السرطان ج جرينتش

أ / اذكر الأسس التي قامت عليها الحضارة الإسلامية :

- 1-.....الاساس الديني.....
2-.....الاساس العلمي.....
3-.....الأساس اللغوي.....
4-.....الاساس الاخلاقي.....

ب / اكمل الفراغات التالية :

- 1- قامت الحضارة الفرعونية على نهر..... النيل..... في الفترة ما بين سنة ٣١٥٠ ق.م إلى سنة ٣٠ ق.م .
2- ينتج عن حركة الأرض اليومية ثلاث نتائج هي 1-..... الليل والنهار..... 2-..... تغير اتجاه الرياح.....
3-..... اختلاف التوقيت.....

أسئلة اختبار الفصل الدراسي الأول	١٤٤٨ هـ	العام الدراسي	الأول المتوسط	الصف
	اجتماعيات	المادة	ساعة ونصف	الزمن
				اسم الطالبة :

رقم السؤال	الدرجة رقماً	الدرجة كتابة	المصححة	المراجعة
الأول				
الثاني				
الثالث			التوقيع	التوقيع
الرابع				

السؤال الأول : ضعي علامة (✓) أمام العبارة الصحيحة و علامة (x) أمام العبارة الخاطئة:	
م	العبارة
١	تمتد محور الأرض القطبي من الشمال إلى الجنوب .
٢	عدد كواكب المجموعة الشمسية ثمانية .
٣	أقرب الكواكب للشمس عطارد .
٤	أول بيت وضع للناس على وجه الأرض الكعبة المشرفة في مكة المكرمة .
٥	العسس هم رجال يتولون حفظ الأمن ليلاً .
٦	الجدية في التزام التخطيط للدراسة .
٧	فوائد تحديد الوقت الحد من التوتر و القلق .
٨	دوائر العرض هي دوائر وهمية عرضية ترسم على نموذج الكرة الأرضية و الخرائط .
٩	شكل الأرض كامل الاستدارة .
١٠	أبعاد الأرض متساوي .
١١	تعد صناعة الأدوية من الصناعات الغذائية .
١٢	لم يعتني المسلمون بالزراعة .
١٣	بغداد عاصمة الشام .
١٤	من نتائج التخطيط التوتر و القلق .
١٥	أنشئت الدواوين في عهد الخليفة أبو بكر الصديق ؓ .

السؤال الثاني : صلي ما في المجموعة (أ) بما يناسبها من المجموعة (ب) باستعمال الأرقام فيما يلي :		
الرقم	أ	ب
١	خطوط وهمية طولية ترسم على شكل الأرض من القطب الشمالي إلى القطب الجنوبي .	علم الكيمياء و الفيزياء
٢	المحيطات التي تحيط بقارة آسيا .	علم الفلك
٣	تعنى المعاونة في تحمل أعباء الحكم .	الوزارة
٤	بناء المراصد .	المحيط الهادي
٥	العلوم الطبيعية .	خطوط الطول

السؤال الثالث : اختاري الإجابة الصحيحة :		
١. أكبر كواكب المجموعة الشمسية :		
أ - المشتري	ب - عطارد	ج - الأرض
٢. أصغر كوكب في المجموعة الشمسية :		
أ - عطارد	ب - الأرض	ج - المشتري
٣. دوائر العرض تفيد في تحديد :		
أ - المناطق الحرارية	ب - الزمن	ج - خط جرينتش
٤. عدد خطوط الطول :		
أ - ٣٦٠	ب - ١٨٠	ج - ٣٧٠
٥. عدد كواكب المجموعة الشمسية :		
أ - ثمانية	ب - سبعة	ج - تسعة
٦. تعد صناعة الأدوية من أهم الصناعات :		
أ - الغذائية	ب - الكيماوية	ج - الزجاجية
٧. يشمل النظام الإداري على :		
أ - الشورى	ب - الدواوين	ج - الزراعة
٨. أنشئت الدواوين في عهد الخليفة :		
أ - أبو بكر الصديق ؓ	ب - عمر بن الخطاب ؓ	ج - علي بن أبي طالب ؓ
٩. يوجد مسجد عقبة بن نافع في :		
أ - مصر	ب - تونس	ج - الجزائر
١٠. يوجد المسجد الأموي في :		
أ - فلسطين	ب - دمشق	ج - لبنان
١١. يساعد التخطيط على :		
أ - الغش	ب - ضياع الوقت	ج - النجاح
١٢. أكبر المحيطات مساحة هو :		
أ - المحيط الهندي	ب - المحيط الأطلسي	ج - المحيط الهادي
١٣. أصغر المحيطات مساحة هو :		
أ - المحيط الهادي	ب - المحيط الهندي	ج - المحيط المتجمد الشمالي
١٤. تغمر المياه من مساحة الأرض :		
أ - ٢٩	ب - ٥٠	ج - ٧١
١٥. من أهم العلوم الشرعية :		
أ - النحو	ب - الصرف	ج - التفسير

السؤال الرابع : أجبني عن الأسئلة التالية :		
١- حدوث الفصول المناخية الأربعة ؟		
٢- سبب تقسيم العالم إلى ٢٤ منطقة زمنية ؟		
٣- أذكر أهم العلوم الشرعية ؟		
٤- أين يوجد مسجد القبلتين ؟		
٥- ما هي أكبر القارات بالكرة الأرضية ؟		

انتهت الأسئلة ، مع تمنياتي لكم بالتوفيق والنجاح معلمة المادة : هيرود حنين الشراي

نموذج الإجابة

٤٠

الصف	الأول المتوسط	العام الدراسي	١٤٤٨ هـ	نموذج إجابة
الزمن	ساعة ونصف	المادة	اجتماعيات	أسئلة اختبار الفصل الدراسي الأول
اسم الطالبة :				

رقم السؤال	الدرجة رقماً	الدرجة كتابة	المصححة	المراجعة
الأول			قيد على الترتيب	
الثاني				
الثالث			التوقيع	التوقيع
الرابع				

م	العبارة	الإجابة
١	تمتد محور الأرض القطبي من الشمال إلى الجنوب .	(✓)
٢	عدد كواكب المجموعة الشمسية ثمانية .	(✓)
٣	أقرب الكواكب للشمس عطارد .	(✓)
٤	أول بيت وضع للناس على وجه الأرض الكعبة المشرفة في مكة المكرمة .	(✓)
٥	العسس هم رجال يتولون حفظ الأمن ليلاً .	(✓)
٦	الجدية في التزام التخطيط للدراسة .	(✓)
٧	فوائد تحديد الوقت الحد من التوتر و القلق .	(✓)
٨	دوائر العرض هي دوائر وهمية عرضية ترسم على نموذج الكرة الأرضية و الخرائط .	(✓)
٩	شكل الأرض كامل الاستدارة .	(✗)
١٠	أبعاد الأرض متساوي .	(✗)
١١	تعد صناعة الأدوية من الصناعات الغذائية .	(✗)
١٢	لم يعتني المسلمون بالزراعة .	(✗)
١٣	بغداد عاصمة الشام .	(✗)
١٤	من نتائج التخطيط التوتر و القلق .	(✗)
١٥	أنشئت الدواوين في عهد الخليفة أبو بكر الصديق ؓ .	(✗)

السؤال الثاني : صلي ما في المجموعة (أ) بما يناسبها من المجموعة (ب) باستعمال الأرقام فيما يلي :

الرقم	أ	الإجابة	ب
١	خطوط وهمية طولية ترسم على شكل الأرض من القطب الشمالي إلى القطب الجنوبي .	٥	علم الكيمياء و الفيزياء
٢	المحيطات التي تحيط بقارة آسيا .	٤	علم الفلك
٣	تعنى المعاونة في تحمل أعباء الحكم .	٣	الوزارة
٤	بناء المراصد .	٢	المحيط الهادي
٥	العلوم الطبيعية .	١	خطوط الطول

تابع

السؤال الثالث : اختاري الإجابة الصحيحة :		
١- أكبر كواكب المجموعة الشمسية :		
أ - المشتري	ب - عطارد	ج - الأرض
٢- أصغر كوكب في المجموعة الشمسية :		
أ - عطارد	ب - الأرض	ج - المشتري
٣- دوائر العرض تفيد في تحديد :		
أ - المناطق الحرارية	ب - الزمن	ج - خط جرينتش
٤- عدد خطوط الطول :		
أ - ٣٦٠	ب - ١٨٠	ج - ٣٧٠
٥- عدد كواكب المجموعة الشمسية :		
أ - ثمانية	ب - سبعة	ج - تسعة
٦- تعد صناعة الأدوية من أهم الصناعات :		
أ - الغذائية	ب - الكيميائية	ج - الزجاجية
٧- يشمل النظام الإداري على :		
أ - الشورى	ب - الدواوين	ج - الزراعة
٨- أنشئت الدواوين في عهد الخليفة :		
أ - أبو بكر الصديق ؓ	ب - عمر بن الخطاب ؓ	ج - علي بن أبي طالب ؓ
٩- يوجد مسجد عقبة بن نافع في :		
أ - مصر	ب - تونس	ج - الجزائر
١٠- يوجد المسجد الأموي في :		
أ - فلسطين	ب - دمشق	ج - لبنان
١١- يساعد التخطيط على :		
أ - الغش	ب - ضياع الوقت	ج - النجاح
١٢- أكبر المحيطات مساحة هو :		
أ - المحيط الهندي	ب - المحيط الأطلسي	ج - المحيط الهادي
١٣- أصغر المحيطات مساحة هو :		
أ - المحيط الهادي	ب - المحيط الهندي	ج - المحيط المتجمد الشمالي
١٤- تغمر المياه من مساحة الأرض :		
أ - ٢٩	ب - ٥٠	ج - ٧١
١٥- من أهم العلوم الشرعية :		
أ - النحو	ب - الصرف	ج - التفسير

السؤال الرابع : أجبني عن الأسئلة التالية :		
١- حدوث الفصول المناخية الأربعة ؟		
بسبب دوران الأرض حول الشمس .		
٢- سبب تقسيم العالم إلى ٢٤ منطقة زمنية ؟		
تجنباً لاختلاف التوقيت داخل الدولة الواحدة .		
٣- أذكر أهم العلوم الشرعية ؟		
التفسير و الحديث و الفقه .		
٤- أين يوجد مسجد القبلتين ؟		
المدينة المنورة .		
٥- ما هي أكبر القارات بالكرة الأرضية ؟		
آسيا .		

معلمة المادة : هبة محمد الشاربي

انتهت الأسئلة ، مع تمنياتي لكم بالتفوق والنجاح

العام الدراسي: ١٤٤٨ هـ
المادة: الدراسات الاجتماعية
الصف: الاول متوسط
الزمن: ساعة ونصف
الدور: الأول

الاختبار النهائي للفصل الدراسي الاول

الدرجة رقمًا	الدرجة كتابة	المصحح	التوقيع	المراجع	التوقيع
	40				
اسم الطالب:					
رقم الجلوس:					

السؤال الأول: ضع علامة (√) أمام العبارة الصحيحة وعلامة (X) أمام العبارة الخاطئة:

10

1	الشمس من مكونات المجموعة الشمسية.
2	الارض هي المكان الوحيد الذي توجد فيه الحياة بين سائر كواكب الكون.
3	شكل الارض مثلثة.
4	تدور الارض حول محورها في ثلاثون ساعة.
5	تعاقب الليل والنهار ينتج عن حركة الارض حول محورها.
6	اعتمد المسلمون على قيم الاسلام في دراساتهم وانشاء المعرفة.
7	الترجمة هي نقل العلوم من لغتها الاصلية الى اللغة الفارسية.
8	يساعدنا التخطيط في المحافظة على الصحة من حيث انتظام النوم ومواعيد الوجبات.
9	لا يوجد ارتباط بين الفن الاسلامي والدين.
10	كان للعرب معرفة بالتجارة قبل الاسلام.

السؤال الثاني : اختر الإجابة الصحيحة:

10

1- تدور الارض حول	أ - القمر	ب - الشمس	ج - الزهرة
2- هو الخط الوهمي المستقيم الواصل بين أبعد نقطتين على خط الاستواء	أ - القطر الاستوائي	ب - القطر القطبي	ج - القطر الشمالي
3- من المناطق الحرارية على سطح الارض	أ - المنطقة الحارة	ب - المنطقتان المعتدلتان	ج - جميع ما سبق
4- يغطي 71% من مساحة سطح الارضية	أ - الماء	ب - اليابسة	ج - الجبال
5- هو الاساس الاول للحضارة الاسلامية واعتمد على القرآن الكريم والسنة النبوية	أ - الاساس السياسي	ب - الاساس الديني	ج - الاساس العلمي
6- تعني المعاونة في تحمل أعباء الحكم	أ - بيت المال	ب - الامارة	ج - الوزارة
7- من أسس النجاح ادارة الوقت بطريقة	أ - منظمة	ب - عشوائية	ج - غير منظمة
8- هو الإعداد المنظم لتحديد المهام والاعمال المستقبلية ومواعيد القيام بها وكيفية انجازها	أ - الادارة	ب - التخطيط	ج - الاقتصاد

9- لماذا نحتاج التخطيط		
أ - بناء شخصيتنا الوطنية	ب - الاستمتاع بالوقت	ج - جميع ما سبق
10- اعتنى المسلمون ب..... لأنها المصدر الاول لغذاء الانسان		
أ - الزراعة	ب - الصناعة	ج - التعليم

السؤال الثالث : اختر من المجموعة (أ) ما يناسبها في المجموعة (ب) مستعينا " بالأرقام "

10

المجموعة (أ)	الأرقام	المجموعة (ب)
1		درب التبانة
2		خطوط الطول
3		الحضارة القديمة
4		العسس
5		العلوم الشرعية
6		النجاح والتفوق
7		خطوات تنظيم الوقت
8		العلوم الطبيعية
9		آسيا
10		المحيط الهادي
		حضارة بلاد الرافدين
		علم الحديد
		المجموعة الشمسية
		حصر الاعمال اليومية
		التخطيط
		خط جرينتش
		أكبر القارات
		حفظ الامن ليلا
		أكبر المحيطات
		علم الفيزياء

السؤال الرابع : اجب على الاسئلة الاتية:

10

1. عرف خطوط الطول؟

.....

2. كم عدد دوائر العرض؟

.....

3. من الفصول المناخية الاربعة..... و

4. من خطوات تنظيم الوقت للمهام الدراسية و

5. عرف سطح الارض؟

.....

6. ماهي الحضارة؟

7. بم تميزت عمارة المساجد؟

8. لماذا اهتم المسلمون ببناء الحصون والقلاع؟

نهوذج الإجابة

العام الدراسي: ١٤٤٨ هـ
المادة: الدراسات الاجتماعية
الصف: الأول متوسط
الزمن: ساعة ونصف
الدور: الأول

الاختبار النهائي للفصل الدراسي الأول

الدرجة رقمًا	الدرجة كتابة	المصحح	التوقيع	المراجع	التوقيع
	40				

اسم الطالب: رقم الجلوس:

السؤال الأول: ضع علامة (√) أمام العبارة الصحيحة وعلامة (X) أمام العبارة الخاطئة:

10

1	الشمس من مكونات المجموعة الشمسية.	√
2	الأرض هي المكان الوحيد الذي توجد فيه الحياة بين سائر كواكب الكون.	√
3	شكل الأرض مثلثة.	X
4	تدور الأرض حول محورها في ثلاثون ساعة.	X
5	تعاقب الليل والنهار ينتج عن حركة الأرض حول محورها.	√
6	اعتمد المسلمون على قيم الإسلام في دراساتهم وإنشاء المعرفة.	√
7	الترجمة هي نقل العلوم من لغتها الأصلية إلى اللغة الفارسية.	X
8	يساعدنا التخطيط في المحافظة على الصحة من حيث انتظام النوم ومواعيد الوجبات.	√
9	لا يوجد ارتباط بين الفن الإسلامي والدين.	X
10	كان للعرب معرفة بالتجارة قبل الإسلام.	√

السؤال الثاني : اختر الإجابة الصحيحة:

10

1- تدور الأرض حول	أ - القمر	ب - الشمس	ج - الزهرة
2- هو الخط الوهمي المستقيم الواصل بين أبعد نقطتين على خط الاستواء	أ - القطر الاستوائي	ب - القطر القطبي	ج - القطر الشمالي
3- من المناطق الحرارية على سطح الأرض	أ - المنطقة الحارة	ب - المنطقتان المعتدلتان	ج - جميع ما سبق
4- يغطي 71% من مساحة سطح الأرضية	أ - الماء	ب - اليابسة	ج - الجبال
5- هو الأساس الأول للحضارة الإسلامية واعتمد على القرآن الكريم والسنة النبوية	أ - الأساس السياسي	ب - الأساس الديني	ج - الأساس العلمي
6- تعني المعاونة في تحمل أعباء الحكم	أ - بيت المال	ب - الإمارة	ج - الوزارة
7- من أسس النجاح إدارة الوقت بطريقة	أ - منظمة	ب - عشوائية	ج - غير منظمة
8- هو الإعداد المنظم لتحديد المهام والأعمال المستقبلية ومواعيد القيام بها وكيفية إنجازها	أ - الإدارة	ب - التخطيط	ج - الاقتصاد

9- لماذا نحتاج التخطيط		
أ - بناء شخصيتنا الوطنية	ب - الاستمتاع بالوقت	ج - جميع ما سبق
10- اعتنى المسلمون ب..... لأنها المصدر الاول لغذاء الانسان		
أ - الزراعة	ب - الصناعة	ج - التعليم

السؤال الثالث : اختر من المجموعة (أ) ما يناسبها في المجموعة (ب) مستعينا " بالأرقام "

10

المجموعة (أ)	الأرقام	المجموعة (ب)
1	3	حضارة بلاد الرافدين
2	5	علم الحديد
3	1	المجموعة الشمسية
4	7	حصر الاعمال اليومية
5	6	التخطيط
6	2	خط جرينتش
7	9	أكبر القارات
8	4	حفظ الامن ليلا
9	10	أكبر المحيطات
10	8	علم الفيزياء

السؤال الرابع : اجب على الاسئلة الاتية:

10

1. عرف خطوط الطول؟
2. خطوط وهمية طولية ترسم على شكل الكرة الارضية من القطب الشمالي الى القطب الجنوبي. كم عدد دوائر العرض؟
3. من الفصول المناخية الاربعة **الشتاء والصيف**
4. من خطوات تنظيم الوقت للمهام الدراسية **اعداد قائمة الاعمال و كتابة جميع الاعمال في قائمة واحدة**
5. عرف سطح الارض؟
6. هو كل ما على وجه الكرة الارضية من مرتفعات ومنخفضات.
7. ماهي الحضارة؟
8. هي تفاعل المجموعات البشرية مع البيئات المحيطة بهم.
9. بم تميزت عمارة المساجد؟
10. تميزت في اول امرها ببساطة البناء ثم تطورت واصبحت مثلاً رائعاً في فن العمارة والزخرفة الاسلامية.
11. لماذا اعتنى المسلمون ببناء الحصون والقلاع؟
12. لحماية حدود الدولة

الصف: الأول المتوسط
المادة: الدراسات الاجتماعية
التاريخ: / / ١٤٤٨ هـ
الزمن: ساعتان

أسئلة اختبار الفصل الدراسي الأول (الدور الأول) لعام ١٤٤٨ هـ

رقم الجلوس:

الصف:

اسم الطالب:

٤٠

١٠

أولاً: أسئلة الصواب والخطأ من (١) إلى (١٠):
ظل (أ) للعبارة الصحيحة و (ب) للعبارة الخاطئة فيما يلي:

()	شبه الجزيرة العربية مهد الحضارات ومنها انطلقت الهجرات.	س ١
()	استفاد المسلمون من علوم الحضارات السابقة في مختلف الجوانب.	س ٢
()	ظهرت العناية ببناء القصور في عصر الخلفاء الراشدين.	س ٣
()	لم تكن للعرب معرفة بالتجارة قبل الإسلام.	س ٤
()	وزارة التفويض أن ينفذ الوزير أوامر الخليفة فقط.	س ٥
()	تنتمي المجموعة الشمسية لمجرة درب التبانة.	س ٦
()	كواكب المجموعة الشمسية جميعها ذات شكل كروي.	س ٧
()	أبعاد الأرض متساوية.	س ٨
()	خطوط الطول عبارة عن أنصاف دوائر متساوية في الطول.	س ٩
()	تتركز اليابسة في نصف الكرة الأرضية الجنوبي.	س ١٠

٢٢

ثانياً: أسئلة الاختيار من متعدد من (١١) إلى (٣٢):
اختر الإجابة الصحيحة من بين البدائل فيما يلي ثم ظللها في ورقة الإجابة:

س ١١	تفاعل المجموعات البشرية مع البيئة المحيطة بها:	س ١٤	أنشئت الدواوين في عهد الخليفة:
(أ)	الحضارة	(أ)	أبو بكر الصديق ؓ
(ب)	الوزارة	(ب)	عمر بن الخطاب ؓ
(ج)	القضاء	(ج)	عثمان بن عفان ؓ
(د)	التاريخ	(د)	علي بن أبي طالب ؓ
س ١٢	سقطت إمبراطورية (الكلدانيين) على يد:	س ١٥	أول من أدخل نظام الشرطة في الإسلام:
(أ)	الفرس	(أ)	عمرو بن العاص ؓ
(ب)	الرومان	(ب)	عمر بن الخطاب ؓ
(ج)	الصينيين	(ج)	معاوية بن أبي سفيان ؓ
(د)	الأكاديون	(د)	أبو بكر الصديق ؓ
س ١٣	عرفت الكتابة (الهيروغليفية) في الحضارة:	س ١٦	العلم الذي يهتم ببيان معاني آيات القرآن الكريم هو علم:
(أ)	الصينية	(أ)	الفقه
(ب)	الفرعونية	(ب)	التفسير
(ج)	الإسلامية	(ج)	الحديث
(د)	الرومانية	(د)	التاريخ

تابع الأسئلة

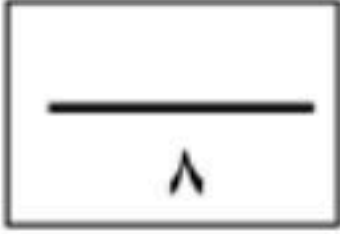
(١)

س ١٧	من أشهر علماء المسلمين في علم الفيزياء:	س ٢٣	أكبر كواكب المجموعة الشمسية:
(أ)	أبو الريحان البيروني	(أ)	زحل
(ب)	جابر بن حيان	(ب)	المريخ
(ج)	محمد الخوارزمي	(ج)	المشتري
(د)	سيبويه	(د)	الأرض
س ١٨	اعتنى المسلمون ببناء القلاع والحصون:	س ٢٤	يبلغ عدد دوائر العرض:
(أ)	لتكون عواصم للدول الإسلامية	(أ)	١٢٠ دائرة
(ب)	لأغراض اقتصادية	(ب)	١٥٠ دائرة
(ج)	لأغراض دينية	(ج)	١٨٠ دائرة
(د)	لحماية حدود الدولة	(د)	٣٦٠ دائرة
س ١٩	العناية بتوفير وسائل الري ببناء السدود وإقامة الجسور من مظاهر العناية بـ:	س ٢٥	خط الطول الرئيسي يسمى:
(أ)	الزراعة	(أ)	جرينتش
(ب)	الصناعة	(ب)	الاستواء
(ج)	التجارة	(ج)	الجدي
(د)	السياحة	(د)	السرطان
س ٢٠	تعد صناعة الأسلحة من الصناعات:	س ٢٦	يبلغ عدد المناطق الزمنية على سطح الأرض:
(أ)	المعدنية	(أ)	٢٨ منطقة
(ب)	الخزفية	(ب)	٢٠ منطقة
(ج)	الكيميائية	(ج)	٢٢ منطقة
(د)	الزجاجية	(د)	٢٤ منطقة
س ٢١	كل ما يحيط بنا من نجوم ومجرات ومخلوقات حية:	س ٢٧	درجة مدار السرطان:
(أ)	الكون	(أ)	٢٣,٥° جنوباً
(ب)	الشهب	(ب)	٢٣,٥° شمالاً
(ج)	النيازك	(ج)	٦٦,٥° شمالاً
(د)	الكواكب	(د)	٤٠° جنوباً
س ٢٢	يبلغ عدد كواكب المجموعة الشمسية:	س ٢٨	لا يشعر سكان الأرض بحركتها بسبب:
(أ)	خمسة	(أ)	كبر حجمها
(ب)	سبعة	(ب)	ثقلها
(ج)	ثمانية	(ج)	عدم انتظام حركتها
(د)	تسعة	(د)	استدارتها

تابع الأسئلة

س ٢٩	سبب تعاقب الليل والنهار:	س ٣١	أكبر قارات العالم مساحة:
(أ)	دوران الأرض حول الشمس	(أ)	آسيا
(ب)	ميل محور الأرض	(ب)	أستراليا
(ج)	دوران الأرض حول نفسها	(ج)	أوروبا
(د)	ثبات ميل محور الأرض	(د)	إفريقيا
س ٣٠	يحدث الصيف في شمال الكرة الأرضية عندما تتعامد أشعة الشمس على:	س ٣٢	يغطي الماء سطح الأرض بنسبة:
(أ)	مدار الجدي	(أ)	٧١ %
(ب)	خط الاستواء	(ب)	٧٣ %
(ج)	الدائرة القطبية الشمالية	(ج)	٢٩ %
(د)	مدار السرطان	(د)	٦٣ %

ثالثاً: الأسئلة المقالية:

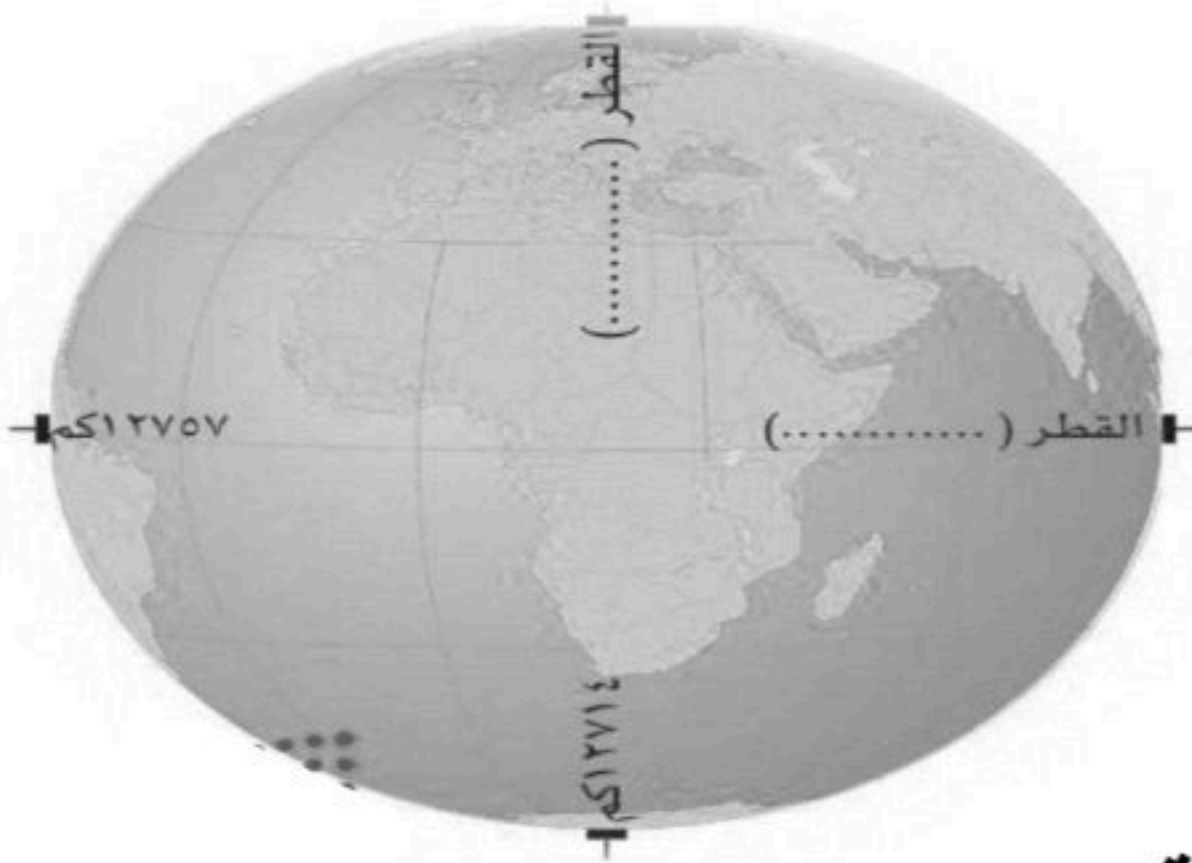


س ٣٣ / اذكر أبرز عاملين لقيام الحضارات.

- ١-
- ٢-

س ٣٤ / ما الأسس التي قامت عليها الحضارة الإسلامية؟

- ١-
- ٢-
- ٣-
- ٤-



س ٣٥ / دون على الشكل ما يأتي:

- أ- محور الأرض القطبي
- ب- محور الأرض الاستوائي.

انتهت الأسئلة

معلم المادة :

يوسف خضر الرحيلي

نموذج الإجابة

الصف: الأول المتوسط
المادة: الدراسات الاجتماعية
التاريخ: / / 1448 هـ
الزمن: ساعتان

أسئلة اختبار الفصل الدراسي الأول (الدور الأول) لعام 1448 هـ

اسم الطالب: نموذج الإجابة الصف: رقم الجلوس:

40

40

10

10

أولاً: أسئلة الصواب والخطأ من (1) إلى (10):

ظل (أ) للعبارة الصحيحة و (ب) للعبارة الخاطئة فيما يلي:

س1	شبه الجزيرة العربية مهد الحضارات ومنها انطلقت الهجرات.	(✓)
س2	استفاد المسلمون من علوم الحضارات السابقة في مختلف الجوانب.	(✓)
س3	ظهرت العناية ببناء القصور في عصر الخلفاء الراشدين.	(×)
س4	لم تكن للعرب معرفة بالتجارة قبل الإسلام.	(×)
س5	وزارة التفويض أن ينفذ الوزير أوامر الخليفة فقط.	(×)
س6	تنتمي المجموعة الشمسية لمجرة درب التبانة.	(✓)
س7	كواكب المجموعة الشمسية جميعها ذات شكل كروي.	(✓)
س8	أبعاد الأرض متساوية.	(×)
س9	خطوط الطول عبارة عن أنصاف دوائر متساوية في الطول.	(✓)
س10	تتركز اليابسة في نصف الكرة الأرضية الجنوبي.	(×)

22

22

ثانياً: أسئلة الاختيار من متعدد من (11) إلى (32):

اختر الإجابة الصحيحة من بين البدائل فيما يلي ثم ظلها في ورقة الإجابة:

س11	تفاعل المجموعات البشرية مع البيئة المحيطة بها:	س14	أنشئت الدواوين في عهد الخليفة:
(أ)	الحضارة 1	(أ)	أبو بكر الصديق τ
(ب)	الوزارة	(ب)	عمر بن الخطاب τ 1
(ج)	القضاء	(ج)	عثمان بن عفان τ
(د)	التاريخ	(د)	علي بن أبي طالب τ
س12	سقطت إمبراطورية (الكلدانيين) على يد:	س15	أول من أدخل نظام الشرطة في الإسلام:
(أ)	الفرس 1	(أ)	عمر بن العاص τ 1
(ب)	الرومان	(ب)	عمر بن الخطاب τ
(ج)	الصينيين	(ج)	معاوية بن أبي سفيان τ
(د)	الأكاديون	(د)	أبو بكر الصديق τ
س13	عرفت الكتابة (الهيروغليفية) في الحضارة:	س16	العلم الذي يهتم ببيان معاني آيات القرآن الكريم هو علم:
(أ)	الصينية	(أ)	الفقه
(ب)	الفرعونية 1	(ب)	التفسير 1
(ج)	الإسلامية	(ج)	الحديث
(د)	الرومانية	(د)	التاريخ

تابع الأسئلة

(1)



س17	من أشهر علماء المسلمين في علم الفيزياء:	س23	أكبر كواكب المجموعة الشمسية:
(أ)	أبو الريحان البيروني 1	(أ)	زحل
(ب)	جابر بن حيان	(ب)	المريخ
(ج)	محمد الخوارزمي	(ج)	المشتري 1
(د)	سيبويه	(د)	الأرض
س18	اعتنى المسلمون ببناء القلاع والحصون:	س24	يبلغ عدد دوائر العرض:
(أ)	لتكون عواصم للدول الإسلامية	(أ)	120 دائرة
(ب)	لأغراض اقتصادية	(ب)	150 دائرة
(ج)	لأغراض دينية	(ج)	180 دائرة 1
(د)	لحماية حدود الدولة 1	(د)	360 دائرة
س19	العناية بتوفير وسائل الري ببناء السدود وإقامة الجسور من مظاهر العناية بـ:	س25	خط الطول الرئيسي يسمى:
(أ)	الزراعة 1	(أ)	جرينتش 1
(ب)	الصناعة	(ب)	الاستواء
(ج)	التجارة	(ج)	الجدى
(د)	السياحة	(د)	السرطان
س20	تعد صناعة الأسلحة من الصناعات:	س26	يبلغ عدد المناطق الزمنية على سطح الأرض:
(أ)	المعدنية 1	(أ)	28 منطقة
(ب)	الخزفية	(ب)	20 منطقة
(ج)	الكيميائية	(ج)	22 منطقة
(د)	الزجاجية	(د)	24 منطقة 1
س21	كل ما يحيط بنا من نجوم ومجرات ومخلوقات حية:	س27	درجة مدار السرطان:
(أ)	الكون 1	(أ)	23,5° جنوباً
(ب)	الشهب	(ب)	23.5° شمالاً 1
(ج)	النيازك	(ج)	66.5° شمالاً
(د)	الكواكب	(د)	40° جنوباً
س22	يبلغ عدد كواكب المجموعة الشمسية:	س28	لا يشعر سكان الأرض بحركتها بسبب:
(أ)	خمسة	(أ)	كبر حجمها 1
(ب)	سبعة	(ب)	ثقلها
(ج)	ثمانية 1	(ج)	عدم انتظام حركتها
(د)	تسعة	(د)	استدارتها

تابع الأسئلة

(2)



س29	سبب تعاقب الليل والنهار:	س31	أكبر قارات العالم مساحة:
(أ)	دوران الأرض حول الشمس	(أ)	آسيا 1
(ب)	ميل محور الأرض	(ب)	أستراليا
(ج)	دوران الأرض حول نفسها 1	(ج)	أوروبا
(د)	ثبات ميل محور الأرض	(د)	إفريقيا
س30	يحدث الصيف في شمال الكرة الأرضية عندما تتعامد أشعة الشمس على:	س32	يغطي الماء سطح الأرض بنسبة:
(أ)	مدار الجدي	(أ)	71 % 1
(ب)	خط الاستواء	(ب)	73 %
(ج)	الدائرة القطبية الشمالية	(ج)	29 %
(د)	مدار السرطان 1	(د)	63 %

ثالثاً: الأسئلة المقالية:

8
8

2
2

س33/ اذكر أبرز عاملين لقيام الحضارات.

1- الموقع والتضاريس

2- المناخ

س34/ ما الأسس التي قامت عليها الحضارة الإسلامية؟

1- الأساس الديني

2- الأساس اللغوي

3- الأساس العلمي

4- الأساس الأخلاقي

4
4

س35/ دون على الشكل ما يأتي:

أ- محور الأرض القطبي

ب- محور الأرض الاستوائي.

2
2



انتهت الأسئلة

معلم المادة :

يوسف خضر الرحيلي

(3)



السؤال الأول / اختار الإجابة الصحيحة فيما يلي بوضع دائرة حولها:

1	الأساس الأول للحضارة الإسلامية وأصلها الذي اعتمدت عليه :	أ	الأساس الديني	ب	الأساس اللغوي	ج	الأساس العلمي
2	من فوائد خطوط الطول ودوائر العرض تحديد الموقع وتحديد :	أ	الارتفاع والانخفاض	ب	الزمن والمناخ	ج	المسافة والسرعة
3	الحوار الذي يجري بين أبناء الوطن لمناقشة القضايا التي تفيد الوطن هو الحوار :	أ	التربوي	ب	الرياضي	ج	الوطني
4	هم الجند الذين يعتمد عليهم الخليفة في حفظ الأمن ليلاً :	أ	العسس	ب	الشرطة	ج	الجنود
5	أول رائد فضاء مسلم عربي الأمير :	أ	خالد بن سعود	ب	سلطان بن سلمان	ج	سلمان بن فهد
6	يعد المسلمون أول من أدخل السكر في تحلية بعض :	أ	المأكولات	ب	المشروبات	ج	الأدوية
7	اعتنى المسلمون بعلم الفلك وذلك لارتباطه بالعلوم :	أ	الشرعية	ب	العربية	ج	الطبيعية
8	من فوائد الحوار :	أ	فهم الجانب المظلم	ب	فهم الآراء الأخرى	ج	فهم الأشياء القديمة
9	العوامل التي تسهم في قيام الحضارات المناخ و :	أ	الغابات والصحاري	ب	السهول والجبال	ج	الموقع والتضاريس
10	بني الصينيين سور الصين العظيم من أجل عدوهم الشرس :	أ	المغول	ب	الفرس	ج	الروم
11	ترتيب الأرض من حيث القرب من الشمس :	أ	الثاني	ب	الثالث	ج	الأول
12	يسهم التخطيط في بناء الشخصية الوطنية والتي تعد من أهداف رؤية :	أ	2032	ب	2031	ج	2030
13	عدد خطوط الطول :	أ	360 خطأ	ب	180 خطأ	ج	270 خطأ
14	من نتائج حركة الأرض حول الشمس :	أ	الفصول الأربعة	ب	اختلاف الزمن	ج	انحراف الأجسام
15	قسمت الأرض الى مناطق حرارية وفقاً لاختلاف زاوية :	أ	انحراف الرياح	ب	أشعة الشمس	ج	ميلان الأرض

تابع الأسئلة في الصفحة التالية



السؤال الثاني/ ضع علامة (√) أمام العبارة الصحيحة وعلامة (x) أمام العبارة غير الصحيحة:

15

()	1. استفاد المسلمون من علوم الحضارات القديمة
()	2. اهتم علم التفسير بمعاني آيات القرآن الكريم
()	3. اقتصرت الزراعة في البلاد الإسلامية على محصول واحد
()	4. بناء المسلمين المدن الإسلامية لأغراض عسكرية فقط
()	5. ارتبط الفن الإسلامي بالدين الإسلامي ارتباطا وثيقا
()	6. الكواكب القريبة للشمس شديدة الحرارة بعكس الكواكب البعيدة منها
()	7. شكل الأرض كامل الاستدارة لان أبعاده متساوية
()	8. خطوط الطول ودوائر العرض شبكة حقيقيه ترسم على سطح الأرض
()	9. لا نشعر بحركة الأرض لأنها تدور وفق نظام محكم دقيق
()	10. تغمر مياه المحيطات أغلب مساحة سطح الكرة الأرضية
()	11. الناجحون في حياتهم لا يخططون
()	12. رفع الصوت يساعد على قبول الرأي الآخر
()	13. من أسس نجاح الحوار تحديد الموضوع للحوار والهدف منه
()	14. في القرآن الكريم آيات تدل على ثقافة الحوار في الإسلام
()	15. إنجاز الأعمال في وقتها من فوائد تنظيم الوقت

تابع الأسئلة في الصفحة التالية



السؤال الثالث / ضع رقم المصطلح المناسب أمام الجملة المناسبة لها:

الجملة	الرقم	المصطلح	الرقم
وضعوا أسس علم الرياضيات فاستخدموا الترقيم واخترعوا الصفر		التبانة	1
مدن صغيرة محصنة تحتوى على أماكن لإقامة و المرافق العامة		الأجسام الكونية	2
تفاعل مجموعات البشرية مع البيئة المحيطة بهم		الوقت	3
تنتمي مجموعتنا الشمسية إلى مجرة درب		التوازن	4
تعد الكويكبات والشهب والنيازك والمذنبات من		القلاع و الحصون	5
يقوم التخطيط على أساس تنظيم		الحوار	6
تنظيم الوقت بين الدراسة والأسرة يحقق		الحضارة	7
تبادل الحديث بين طرفين أو أكثر في قضية محددة يطلق عليه بـ		المسلمون	8

السؤال الرابع / للأرض حركتان هما :

2

.1

.2

انتهت الأسئلة .. مع تمنياتي لكم بالتوفيق والسداد ..

معلم المادة : مهند

محمد الطويرقي

نموذج الإجابة

15

السؤال الأول / اختار الإجابة الصحيحة فيما يلي بوضع دائرة حولها:

1	الأساس الأول للحضارة الإسلامية وأصلها الذي اعتمدت عليه :	أ	الأساس الديني	ب	الأساس اللغوي	ج	الأساس العلمي
2	من فوائد خطوط الطول ودوائر العرض تحديد الموقع وتحديد :	أ	الارتفاع و الانخفاض	ب	الزمن و المناخ	ج	المسافة و السرعة
3	الحوار الذي يجري بين أبناء الوطن لمناقشة القضايا التي تفيد الوطن هو الحوار :	أ	التربوي	ب	الرياضي	ج	الوطني
4	هم الجند الذين يعتمد عليهم الخليفة في حفظ الأمن ليلاً :	أ	العسس	ب	الشرطة	ج	الجنود
5	أول رائد فضاء مسلم عربي الأمير :	أ	خالد بن سعود	ب	سلطان بن سلمان	ج	سلمان بن فهد
6	يعد المسلمون أول من أدخل السكر في تحلية بعض :	أ	المأكولات	ب	المشروبات	ج	الأدوية
7	اعتنى المسلمون بعلم الفلك وذلك لارتباطه بالعلوم :	أ	الشرعية	ب	العربية	ج	الطبيعية
8	من فوائد الحوار :	أ	فهم الجانب المظلم	ب	فهم الآراء الأخرى	ج	فهم الأشياء القديمة
9	العوامل التي تسهم في قيام الحضارات المناخ و :	أ	الغابات و الصحاري	ب	السهول و الجبال	ج	الموقع و التضاريس
10	بني الصينين سور الصين العظيم من أجل عدوهم الشرس :	أ	المغول	ب	الفرس	ج	الروم
11	ترتيب الأرض من حيث القرب من الشمس :	أ	الثاني	ب	الثالث	ج	الأول
12	يسهم التخطيط في بناء الشخصية الوطنية والتي تعد من أهداف رؤية :	أ	2032	ب	2031	ج	2030
13	عدد خطوط الطول :	أ	360 خطأ	ب	180 خطأ	ج	270 خطأ
14	من نتائج حركة الأرض حول الشمس :	أ	الفصول الأربعة	ب	اختلاف الزمن	ج	انحراف الاجسام
15	قسمت الأرض الى مناطق حرارية وفقاً لاختلاف زاوية :	أ	انحراف الرياح	ب	أشعة الشمس	ج	ميلان الأرض

تابع الأسئلة في الصفحة التالية



السؤال الثاني/ ضع علامة (√) أمام العبارة الصحيحة وعلامة (x) أمام العبارة غير الصحيحة:

15

.(✓)	1. استفاد المسلمون من علوم الحضارات القديمة
.(✓)	2. اهتم علم التفسير بمعاني آيات القرآن الكريم
.(✗)	3. اقتصرت الزراعة في البلاد الإسلامية على محصول واحد
.(✗)	4. بناء المسلمين المدن الإسلامية لأغراض عسكرية فقط
.(✓)	5. ارتبط الفن الإسلامي بالدين الإسلامي ارتباطاً وثيقاً
.(✓)	6. الكواكب القريبة للشمس شديدة الحرارة بعكس الكواكب البعيدة منها
.(✗)	7. شكل الأرض كامل الاستدارة لان أبعاده متساوية
.(✗)	8. خطوط الطول ودوائر العرض شبكة حقيقيه ترسم على سطح الأرض
.(✓)	9. لا نشعر بحركة الأرض لأنها تدور وفق نظام محكم دقيق
.(✓)	10. تغمر مياه المحيطات أغلب مساحة سطح الكرة الأرضية
.(✗)	11. الناجحون في حياتهم لا يخططون
.(✗)	12. رفع الصوت يساعد على قبول الرأي الآخر
.(✓)	13. من أسس نجاح الحوار تحديد الموضوع للحوار والهدف منه
.(✓)	14. في القرآن الكريم آيات تدل على ثقافة الحوار في الإسلام
.(✓)	15. إنجاز الأعمال في وقتها من فوائد تنظيم الوقت

تابع الأسئلة في الصفحة التالية



الرقم	المصطلح	الرقم	الجملة
1	التبانة	٨	وضعوا أسس علم الرياضيات فاستخدموا الترقيم واخترعوا الصفر
2	الأجسام الكونية	٥	مدن صغيرة محصنة تحتوى على أماكن لإقامة و المرافق العامة
3	الوقت	٧	تفاعل مجموعات البشرية مع البيئة المحيطة بهم
4	التوازن	١	تنتمي مجموعتنا الشمسية إلى مجرة درب
5	القلاع و الحصون	٢	تعد الكويكبات والشهب والنيازك والمذنبات من
6	الحوار	٣	يقوم التخطيط على أساس تنظيم
7	الحضارة	٤	تنظيم الوقت بين الدراسة والأسرة يحقق
8	المسلمون	٦	تبادل الحديث بين طرفين أو أكثر في قضية محددة يطلق عليه بـ

السؤال الرابع / للأرض حركتان هما :

2

.1

.2

انتهت الأسئلة .. مع تمنياتي لكم بالتوفيق والسداد ..

معلم المادة :
مهند محمد الطويرقي

الصف: الأول المتوسط
المادة: الدراسات الاجتماعية
التاريخ: ٤ / ٤ / ١٤٤٨ هـ
الزمن: ساعتان

أسئلة اختبار الفصل الدراسي الأول (الدور الأول) لعام ١٤٤٨ هـ

اسم الطالب: _____ الصف: _____ رقم الجلوس: _____

٤٠

١٦

أولاً: أسئلة الصواب والخطأ من (١) إلى (١٢):
ظل (أ) للعبارة الصحيحة و (ب) للعبارة الخاطئة فيما يلي:

()	شبه الجزيرة العربية مهد الحضارات ومنها انطلقت الهجرات.	س ١
()	عرفت الكتابة (الهيروغليفية) في الحضارة الصينية.	س ٢
()	يعد الأساس اللغوي هو الأساس الأول للحضارة الإسلامية.	س ٣
()	استفاد المسلمون من علوم الحضارات السابقة في مختلف الجوانب.	س ٤
()	اعتنى المسلمون بعلم التاريخ لارتباطه بالعلوم الشرعية.	س ٥
()	ارتبط الفن الإسلامي بالدين ارتباطاً وثيقاً.	س ٦
()	لم تكن للعرب معرفة بالتجارة قبل الإسلام.	س ٧
()	الكوكب جسم كروي صلب يشع ضوءاً.	س ٨
()	شكل الأرض كامل الاستدارة.	س ٩
()	حركة الأرض حول محورها تسمى بالحركة اليومية.	س ١٠
()	دوائر العرض عبارة عن دوائر كاملة متوازية وغير متساوية في الطول.	س ١١
()	تتركز اليابسة في نصف الكرة الأرضية الشمالي.	س ١٢

٢٨

ثانياً: أسئلة الاختيار من متعدد من (١٣) إلى (٤٠):
اختر الإجابة الصحيحة من بين البدائل فيما يلي ثم ظلها في ورقة الإجابة:

س ١٣	أول الشعوب التي سكنت جنوب العراق:	س ١٥	انتهى العصر الفرعوني على يد:
(أ)	الأكاديون	(أ)	السومريون
(ب)	الكلدانيون	(ب)	الفرس
(ج)	الأشوريون	(ج)	الرومان
(د)	السومريون	(د)	العرب
س ١٤	قامت حضارة بلاد الرافدين على ضفاف نهر:	س ١٦	من النظم السياسية في الإسلام:
(أ)	دجلة والفرات	(أ)	الوزارة
(ب)	النيل الأبيض والأزرق	(ب)	الإمارة
(ج)	الأصفر ومنطقة اليانغتسي	(ج)	الشرطة
(د)	سيحون وجيحون	(د)	القضاء

تابع الأسئلة

س ١٧	تعني المعاونة في تحمل أعباء الحكم:	س ٢٣	العناية بتوفير وسائل الري ببناء السدود وإقامة الجسور من مظاهر العناية بـ :
(أ)	الخلافة	(أ)	الزراعة
(ب)	الوزارة	(ب)	الصناعة
(ج)	البيعة	(ج)	التجارة
(د)	الدواوين	(د)	السياحة
س ١٨	تحول الجيش الإسلامي إلى جيش نظامي في عهد الخليفة:	س ٢٤	اعتنى المسلمون بـ لأنها المصدر الأول لغذاء الإنسان:
(أ)	عثمان بن عفان ؓ	(أ)	المعادن
(ب)	علي بن أبي طالب ؓ	(ب)	التجارة
(ج)	عمر بن الخطاب ؓ	(ج)	الصناعة
(د)	أبو بكر الصديق ؓ	(د)	الزراعة
س ١٩	من منجزات المسلمين في علم الرياضيات:	س ٢٥	تعد صناعة الأدوية من الصناعات:
(أ)	تنقية المعادن	(أ)	المعدنية
(ب)	دراسة الضوء والصوت	(ب)	الغذائية
(ج)	اختراع الصفر	(ج)	الكيميائية
(د)	اكتشاف الكثافة	(د)	الزجاجية
س ٢٠	نقل العلوم من لغتها الأصلية إلى اللغة العربية:	س ٢٦	تنتمي مجموعتنا الشمسية لمجرة:
(أ)	الحضارة	(أ)	زهرة الشمس
(ب)	الفنون	(ب)	درب التبانة
(ج)	الترجمة	(ج)	المذنب
(د)	العمارة	(د)	العين
س ٢١	من أشهر المساجد التي بناها المسلمون في دمشق:	س ٢٧	يبلغ عدد كواكب المجموعة الشمسية:
(أ)	مسجد عقبة بن نافع	(أ)	خمسة
(ب)	المسجد الأموي	(ب)	سبعة
(ج)	المسجد الأقصى	(ج)	ثمانية
(د)	مسجد القبلتين	(د)	تسعة
س ٢٢	اعتنى المسلمون ببناء القلاع والحصون:	س ٢٨	أصغر كواكب المجموعة الشمسية:
(أ)	لتكون عواصم للدول الإسلامية	(أ)	زحل
(ب)	لأغراض اقتصادية	(ب)	عطارد
(ج)	لأغراض دينية	(ج)	المشتري
(د)	لحماية حدود الدولة	(د)	الأرض

تابع الأسئلة

س ٢٩	ترتيب الأرض من حيث القرب من الشمس:	س ٣٥	لا يشعر سكان الأرض بحركتها بسبب:
(أ)	الأول	(أ)	كبر حجمها
(ب)	الثاني	(ب)	ثقلها
(ج)	الثالث	(ج)	عدم انتظام حركتها
(د)	الرابع	(د)	استدارتها
س ٣٠	أول رائد فضاء عربي مسلم صاحب السمو الملكي الأمير بن سلمان بن عبد العزيز:	س ٣٦	سبب تعاقب الليل والنهار:
(أ)	تركي	(أ)	دوران الأرض حول الشمس
(ب)	بندر	(ب)	ميل محور الأرض
(ج)	سلطان	(ج)	دوران الأرض حول نفسها
(د)	أحمد	(د)	ثبات ميل محور الأرض
س ٣١	الخط الوهمي المستقيم الواصل بين القطبين والمار بمركز الأرض يعرف بـ :	س ٣٧	يحدث الشتاء في شمال الكرة الأرضية عندما تتعامد أشعة الشمس على:
(أ)	القطر القطبي	(أ)	مدار الجدي
(ب)	خط الاستواء	(ب)	خط الاستواء
(ج)	خط جرينتش	(ج)	الدائرة القطبية الشمالية
(د)	القطر الاستوائي	(د)	مدار السرطان
س ٣٢	عدد خطوط الطول:	س ٣٨	أصغر قارات العالم مساحة:
(أ)	٩٠ خطاً	(أ)	آسيا
(ب)	١٨٠ خطاً	(ب)	أستراليا
(ج)	٢٧٠ خطاً	(ج)	أوروبا
(د)	٣٦٠ خطاً	(د)	إفريقيا
س ٣٣	تفيد خطوط الطول في تحديد:	س ٣٩	يغطي الماء سطح الأرض بنسبة:
(أ)	الأقاليم المناخية	(أ)	٧١ %
(ب)	خط الاستواء	(ب)	٧٣ %
(ج)	الزمن	(ج)	٢٩ %
(د)	الارتفاع والانخفاض	(د)	٦٣ %
س ٣٤	درجة مدار الجدي:	س ٤٠	أكبر المحيطات مساحة:
(أ)	٢٣,٥° جنوباً	(أ)	المحيط الهندي
(ب)	٢٣,٥° شمالاً	(ب)	المحيط الهادئ
(ج)	٦٦,٥° شمالاً	(ج)	المحيط الأطلسي
(د)	٤٠° جنوباً	(د)	المحيط الجنوبي

انتهت الأسئلة

معلم المادة :

يوسف خضر الرحيلي

أسئلة اختبار الفصل الدراسي الأول (الدور الأول) لعام 1448 هـ

رقم الجلوس:

نهوذج الإجابة

اسم

40

40

12

12

أولاً: أسئلة الصواب والخطأ من (1) إلى (12):
ظل (أ) للعبارة الصحيحة و (ب) للعبارة الخاطئة فيما يلي:

(✓)	س1	شبه الجزيرة العربية مهد الحضارات ومنها انطلقت الهجرات.
(×)	س2	عرفت الكتابة (الهيروغليفية) في الحضارة الصينية.
(×)	س3	يعد الأساس اللغوي هو الأساس الأول للحضارة الإسلامية.
(✓)	س4	استفاد المسلمون من علوم الحضارات السابقة في مختلف الجوانب.
(×)	س5	اعتنى المسلمون بعلم التاريخ لارتباطه بالعلوم الشرعية.
(✓)	س6	ارتبط الفن الإسلامي بالدين ارتباطاً وثيقاً.
(×)	س7	لم تكن للعرب معرفة بالتجارة قبل الإسلام.
(×)	س8	الكوكب جسم كروي صلب يشع ضوءاً
(×)	س9	شكل الأرض كامل الاستدارة.
(✓)	س10	حركة الأرض حول محورها تسمى بالحركة اليومية.
(✓)	س11	دوائر العرض عبارة عن دوائر كاملة متوازية وغير متساوية في الطول.
(✓)	س12	تتركز اليابسة في نصف الكرة الأرضية الشمالي.

28

28

ثانياً: أسئلة الاختيار من متعدد من (13) إلى (40):
اختر الإجابة الصحيحة من بين البدائل فيما يلي ثم ظلها في ورقة الإجابة:

س13	أول الشعوب التي سكنت جنوب العراق:	س15	انتهى العصر الفرعوني على يد:
(أ)	الأكاديون	(أ)	السومريون
(ب)	الكلدانيون	(ب)	الفرس
(ج)	الآشوريون	(ج)	الرومان 1
(د)	السومريون 1	(د)	العرب
س14	قامت حضارة بلاد الرافدين على ضفاف نهري:	س16	من النظم السياسية في الإسلام:
(أ)	دجلة والفرات 1	(أ)	الوزارة 1
(ب)	النيل الأبيض والأزرق	(ب)	الإمارة
(ج)	الأصفر ومنطقة اليانغتسي	(ج)	الشرطة
(د)	سيحون وجيحون	(د)	القضاء

تابع الأسئلة



س17	تعني المعاونة في تحمل أعباء الحكم:	س23	العناية بتوفير وسائل الري ببناء السدود وإقامة الجسور من مظاهر العناية بـ :
(أ)	الخلافة	(أ)	الزراعة 1
(ب)	الوزارة 1	(ب)	الصناعة
(ج)	البيعة	(ج)	التجارة
(د)	الدواوين	(د)	السياحة
س18	تحول الجيش الإسلامي إلى جيش نظامي في عهد الخليفة:	س24	اعتنى المسلمون بـ لأنها المصدر الأول لغذاء الإنسان:
(أ)	عثمان بن عفان ؓ	(أ)	المعادن
(ب)	علي بن أبي طالب ؓ	(ب)	التجارة
(ج)	عمر بن الخطاب ؓ 1	(ج)	الصناعة
(د)	أبو بكر الصديق ؓ	(د)	الزراعة 1
س19	من منجزات المسلمين في علم الرياضيات:	س25	تعد صناعة الأدوية من الصناعات:
(أ)	تنقية المعادن	(أ)	المعدنية
(ب)	دراسة الضوء والصوت	(ب)	الغذائية
(ج)	اختراع الصفر 1	(ج)	الكيميائية 1
(د)	اكتشاف الكثافة	(د)	الزجاجية
س20	نقل العلوم من لغتها الأصلية إلى اللغة العربية:	س26	تنتمي مجموعتنا الشمسية لمجرة:
(أ)	الحضارة	(أ)	زهرة الشمس
(ب)	الفنون	(ب)	درب التبانة 1
(ج)	الترجمة 1	(ج)	المذنب
(د)	العمارة	(د)	العين
س21	من أشهر المساجد التي بناها المسلمون في دمشق:	س27	يبلغ عدد كواكب المجموعة الشمسية:
(أ)	مسجد عقبة بن نافع	(أ)	خمسة
(ب)	المسجد الأموي 1	(ب)	سبعة
(ج)	المسجد الأقصى	(ج)	ثمانية 1
(د)	مسجد القبلتين	(د)	تسعة
س22	اعتنى المسلمون ببناء القلاع والحصون:	س28	أصغر كواكب المجموعة الشمسية:
(أ)	لتكون عواصم للدول الإسلامية	(أ)	زحل
(ب)	لأغراض اقتصادية	(ب)	عطارد 1
(ج)	لأغراض دينية	(ج)	المشتري
(د)	لحماية حدود الدولة 1	(د)	الأرض

تابع الأسئلة



(2)



29س	ترتيب الأرض من حيث القرب من الشمس:	35س	لا يشعر سكان الأرض بحركتها بسبب:
(أ)	الأول	(أ)	كبر حجمها 1
(ب)	الثاني	(ب)	ثقلها
(ج)	الثالث 1	(ج)	عدم انتظام حركتها
(د)	الرابع	(د)	استدارتها
30س	أول رائد فضاء عربي مسلم صاحب السمو الملكي الأمير بن سلمان بن عبد العزيز:	36س	سبب تعاقب الليل والنهار:
(أ)	تركي	(أ)	دوران الأرض حول الشمس
(ب)	بندر	(ب)	ميل محور الأرض
(ج)	سلطان 1	(ج)	دوران الأرض حول نفسها 1
(د)	أحمد	(د)	ثبات ميل محور الأرض
31س	الخط الوهمي المستقيم الواصل بين القطبين والمار بمركز الأرض يعرف بـ :	37س	يحدث الشتاء في شمال الكرة الأرضية عندما تتعامد أشعة الشمس على:
(أ)	القطر القطبي 1	(أ)	مدار الجدي 1
(ب)	خط الاستواء	(ب)	خط الاستواء
(ج)	خط جرينتش	(ج)	الدائرة القطبية الشمالية
(د)	القطر الاستوائي	(د)	مدار السرطان
32س	عدد خطوط الطول:	38س	أصغر قارات العالم مساحة:
(أ)	90 خطاً	(أ)	آسيا
(ب)	180 خطاً	(ب)	أستراليا 1
(ج)	270 خطاً	(ج)	أوروبا
(د)	360 خطاً 1	(د)	إفريقيا
33س	تفيد خطوط الطول في تحديد:	39س	يغطي الماء سطح الأرض بنسبة:
(أ)	الأقاليم المناخية	(أ)	71 % 1
(ب)	خط الاستواء	(ب)	73 %
(ج)	الزمن 1	(ج)	29 %
(د)	الارتفاع والانخفاض	(د)	63 %
34س	درجة مدار الجدي:	40س	أكبر المحيطات مساحة:
(أ)	23,5° جنوباً 1	(أ)	المحيط الهندي
(ب)	23.5° شمالاً	(ب)	المحيط الهادئ 1
(ج)	66.5° شمالاً	(ج)	المحيط الأطلسي
(د)	40° جنوباً	(د)	المحيط الجنوبي

انتهت الأسئلة

معلم المادة :

(3)



بسم الله الرحمن الرحيم

الإختبار النهائي

العام الدراسي	1448 هـ	المادة	الدراسات الاجتماعية
الفصل الدراسي	الأول	الزمن	ساعتان
الدور	الأول	الصف	الأول متوسط

اسم الطالب	رقم الجلوس
------------	------------

بيان تقدير الدرجات					
رقم السؤال	الدرجة المستحقة		المصحح		المراجع
	رقماً	كتابة	الاسم	التوقيع	الاسم
1					
2					
3					
4					
المجموع			جمعه:	راجعه:	

السؤال الأول :

(12 درجة)

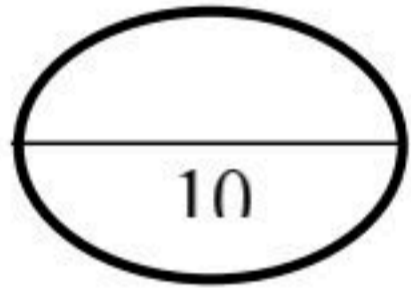
22

أ) اختر الرقم المناسب من المجموعة الأولى ثم ضعه أمام ما يناسب من المجموعة الثانية ؟

المجموعة الأولى	المجموعة الثانية
1 أكبر قارات العالم	نبيتون
2 أكبر محيطات العالم	الزراعة
3 أقرب كوكب للشمس	الهادي
4 أبعد كوكب عن الشمس	آسيا
5 المصدر الأول لغذاء الانسان	الوزارة
6 تعني المعاونة في تحمل أعباء الحكم	المشتري

ب- ضع علامة (صح) أمام الإجابة الصحيحة وعلامة (خطأ) أمام الإجابة الخاطئة : (10 درجات)

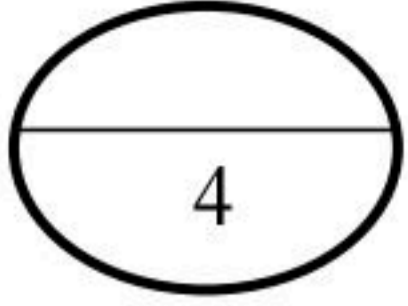
- 1- الحضارة هي تفاعل المجموعات البشرية مع البيئات المحيطة بهم { }
- 2- الموقع والتضاريس من العوامل التي تسهم في قيام الحضارات { }
- 3- نشأت حضارة بلاد الرافدين في سوريا { }
- 4- استمرت حضارة مصر القديمة 3000 سنة { }
- 5- غزا الرومان مصر عام 30 ق.م { }
- 6- أطول الحضارات زمنًا هي الحضارة الفرعونية { }
- 7- من أسس الحضارة الإسلامية الأساس السياسي و الأساس اللغوي { }
- 8- الامارة هي تعيين العمال والولاية على أجزاء من البلاد الإسلامية { }
- 9- من العلماء المسلمين في علم الفيزياء جابر بن حيان { }
- 10- من أشهر علماء النحو سيبويه { }



السؤال الثاني:

اختر الاجابة الصحيحة بوضع دائرة على الحرف المناسب في الخيارات ؟

1/ هم الجند الذين يعتمد عليهم أو الوالي في استتباب الامن وحفظ النظام والقبض على الجناة :						
أ	ب	ج	د	الشرطة	العسس	الجيش
أ	ب	ج	د	القضاة	الشرطة	العسس
2 / هم رجال يتولون حفظ الأمن ليلاً:						
أ	ب	ج	د	القضاة	الشرطة	العسس
أ	ب	ج	د	الفزياء	الكيمياء	الرياضيات
3 / من العلوم الطبيعية في الحضارة الاسلامية:						
أ	ب	ج	د	جميع ما سبق	الفزياء	الكيمياء
4 / أول من رسم الخرائط وأصبحت أساساً لخرائط العالم هو:						
أ	ب	ج	د	حسن بن النعمان	الادريسي	ابوالريحان البيروني
5 / من الاجسام الكونية :						
أ	ب	ج	د	الشهب	النيازك	المذنبات
أ	ب	ج	د	جميع ما سبق	الشهب	النيازك



السؤال الثالث :

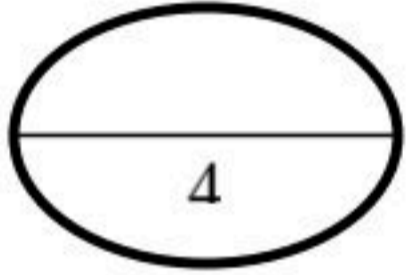
أكمل الفراغات التالية :

1. الكواكب القريبة من الشمس شديدة

2. الكواكب البعيدة عن الشمس شديدة

3. أول رائد فضاء عربي مسلم هو

4. الخط الرئيسي لخطوط الطول هو



السؤال الرابع :

أجب عما يلي :

عدد أربعة من أهم دوائر العرض ؟

-1

-2

-3

-4

اسم المادة : الدراسات الاجتماعية
 الصف: أول متوسط
 القسم: المرحلة المتوسطة
 اليوم :
 التاريخ: / / ١٤٤٨ هـ
 الزمن: ساعة ونصف

أسئلة اختبار مادة الدراسات الاجتماعية الفصل الدراسي (الأول) الدور (الأول) للعام الدراسي ١٤٤٨ هـ
أولاً: بيانات الطالب:

اسم الطالب		رقم الجلوس		اسم المصحح	
الشعبة				اسم المدقق	
				التوقيع	
				التوقيع	

ثانياً: درجات الاختبار:

السؤال	س ١	س ٢	س ٣	س ٤	المجموع
الدرجة رقماً	١٥	١٥	٨	٢	٤٠
الدرجة كتابة					

((أجب على جميع الأسئلة))

١٥ درجة

السؤال الأول: ضع علامة (✓) أمام العبارة الصحيحة، وعلامة (x) أمام العبارة الخاطئة فيما يلي:

م	العبارة	الإجابة
١	تنتمي المجموعة الشمسية لمجرة درب التبانة.	()
٢	أول راند فضاء عربي مسلم هو الأمير سلطان بن سلمان .	()
٣	اهتم المسلمون بعلم الفلك لارتباطه بالأمور الشرعية .	()
٤	تم إنشاء الدواوين في عهد الخليفة عمر بن الخطاب .	()
٥	تستمر دورة الأرض اليومية مدة ٢٤ ساعة .	()
٦	من فوائد خطوط الطول معرفة الزمن .	()
٧	يساعد التخطيط على تنظيم الوقت .	()
٨	تبلغ نسبة الماء على سطح الأرض ٧١ % .	()
٩	الانسان لا يشعر بحركة الأرض .	()
١٠	استفاد المسلمون من علوم الحضارات القديمة.	()
١١	اهتم علم التفسير بمعاني آيات القرآن الكريم.	()
١٢	المحيط الهادئ هو أكبر المحيطات مساحة.	()
١٣	الكواكب القريبة للشمس شديدة الحرارة بعكس الكواكب البعيدة منها.	()
١٤	ارتبط الفن الإسلامي بالدين ارتباطاً وثيقاً.	()
١٥	عدد الفصول المناخية أربعة .	()

أقلب الصفحة



السؤال الثاني: اختر الإجابة الصحيحة من بين البدائل ادناه بوضع دائرة على رمز البديل الصحيح

الفقرة الأولى: ترتيب الأرض من حيث القرب من الشمس هو:						
(أ)	الثالث	(ب)	الثاني	(ج)	الأول	(د)
الفقرة الثانية: تتميز جميع كواكب المجموعة الشمسية بأنها:						
(أ)	ذات شكل كروي	(ب)	شديدة البرودة	(ج)	شديدة الحرارة	(د)
الفقرة الثالثة: سبب تعاقب الليل والنهار:						
(أ)	دوران الأرض حول نفسها	(ب)	ميل محور الأرض	(ج)	ثبات ميل محور الأرض	(د)
الفقرة الرابعة: كل ما يحيط بنا من نجوم ومجرات ومخلوقات حية:						
(أ)	الكون	(ب)	الشهب	(ج)	النيازك	(د)
الفقرة الخامسة: تعد صناعة الأسلحة من الصناعات:						
(أ)	المعدنية	(ب)	الخزفية	(ج)	الكيميائية	(د)
الفقرة السادسة: يبلغ عدد كواكب المجموعة الشمسية:						
(أ)	ثمانية	(ب)	خمسة	(ج)	تسعة	(د)
الفقرة السابعة: خط الطول الرئيسي هو:						
(أ)	خط جرينتش	(ب)	مدار الجدي	(ج)	محور الأرض	(د)
الفقرة الثامنة: أكبر قارات العالم وأصغرها:						
(أ)	آسيا وأستراليا	(ب)	أفريقيا وأوروبا	(ج)	أوروبا وآسيا	(د)
الفقرة التاسعة: أكبر كواكب المجموعة الشمسية:						
(أ)	المشتري	(ب)	المريخ	(ج)	الأرض	(د)
الفقرة العاشرة: لا يشعر سكان الأرض بحركتها بسبب:						
(أ)	كبر حجمها	(ب)	ثقلها	(ج)	عدم انتظام حركتها	(د)
الفقرة الحادية عشر: قامت حضارة بلاد الرافدين في:						
(أ)	العراق	(ب)	الصين	(ج)	مصر	(د)
الفقرة الثانية عشر: تعد صناعة الأدوية من الصناعات:						
(أ)	الكيميائية	(ب)	الغذائية	(ج)	الزجاجية	(د)
الفقرة الثالثة عشر: يسهم التخطيط في بناء الشخصية الوطنية والتي تعد من أهداف رؤية:						
(أ)	٢٠٣٠	(ب)	٢٠٣١	(ج)	٢٠٢٠	(د)
الفقرة الرابعة عشر: بني الصينين سور الصين العظيم من أجل عدوهم الشرس:						
(أ)	المغول	(ب)	الروم	(ج)	الفرس	(د)
الفقرة الخامسة عشر: الأساس للحضارة وأصلها الذي اعتمدت عليه:						
(أ)	الأساس الديني	(ب)	الأساس اللغوي	(ج)	الأساس العلمي	(د)

أقلب الصفحة



السؤال الثالث: أنقل رقم العبارة في المجموعة (أ) إلى جوار العبارة المناسبة في المجموعة (ب)

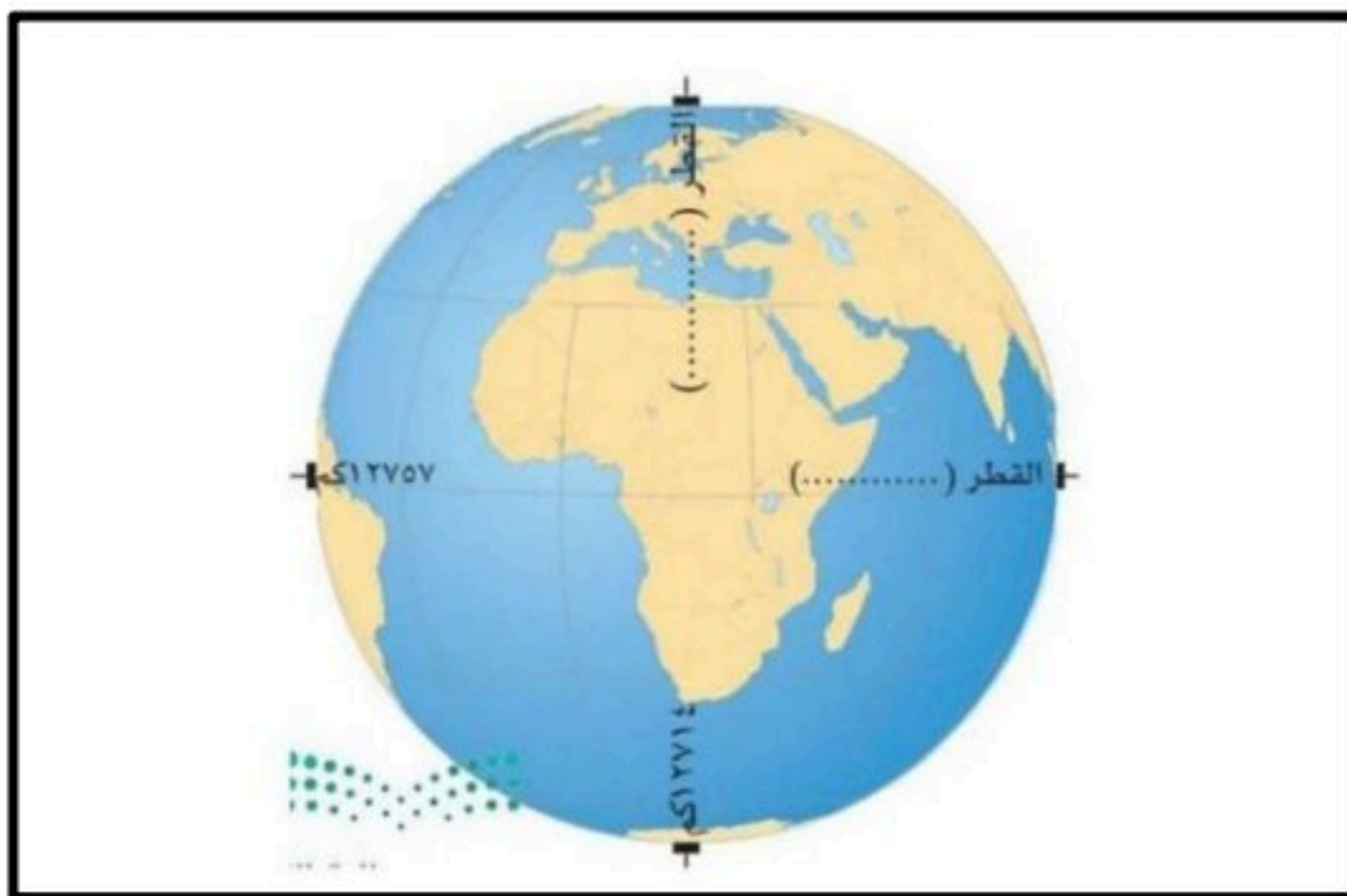
الرقم	المجموعة (ب)
	١٨٠
	٣٦٠
	الرياضيات
	الوقت
	الأجسام الكونية
	الكواكب
	نبتون
	الشمس

الرقم	المجموعة (أ)
١	نجم كروي غازي ملتهب يشع ضوء وحرارة
٢	أبعد كواكب المجموعة الشمسية
٣	أجسام كروية صلبة معتمة تستمد الضوء والحرارة من الشمس
٤	تعد الكويكبات والشهب والنيازك والمذنبات من
٥	يقوم التخطيط على أساس تنظيم
٦	اختراع الصفر من علم
٧	عدد خطوط الطول
٨	عدد دوائر العرض

السؤال الرابع: دون على الشكل ما يأتي :

أ- محور الأرض القطبي

ب- محور الأرض الاستوائي



انتهت الأسئلة مع تمنياتي للجميع بالتوفيق

التوقيع:

معلم المادة: حمود مدخلي

متعلمون موهوبون وقادة شغوفون يقومون على خدمة مجتمعنا

رؤيتنا

