

تم تحميل وعرض المادة من

# منهجي

mnhaji.com



موقع منهجي منصة تعليمية توفر كل ما يحتاجه المعلم  
والطالب من حلول الكتب الدراسية وشرح للدروس  
بأسلوب مبسط لكافة المراحل التعليمية وتوزيع  
المناهج وتحضير وملخصات ونماذج اختبارات وأوراق  
عمل جاهزة للطباعة والتحميل بشكل مجاني

حمل تطبيق منهجي ليصلك كل جديد



نموذج اسئلة الاختبار الأول  
المادة: الدراسات الاجتماعية  
الصف: الثالث المتوسط  
الفترة الدراسية الثانية  
1447هـ

اسم الطالب/ة	محمد القرني	الدرجة	30
--------------	-------------	--------	----

16 درجة

السؤال الأول:

ضع/ي علامة ( √ ) امام العبارة الصائبة وعلامة ( x ) امام العبارة الخاطئة ؟

أ

1	رؤية المملكة 2030 تعدّ نموذجاً فريداً للتخطيط التنموي والمستقبلي للوطن
2	علم بلادي المملكة العربية السعودية لا يُنكس أبداً
3	من مصادر قوة وطني انها دولة اسلامية تحكم بالشريعة الاسلامية وفق القرآن و السنة
4	تحدد أجهزة ( GPS ) الأماكن على سطح الأرض بدقة عالية
5	اختلاف المعلومات التي تقدمها الخرائط أدى الى تنوعها .
6	تمنح الأوسمة السعودية للملوك و رؤساء الدول وشخصيات مدنية و عسكرية.
7	تشابه جميع الرموز و الرسوم في كل مفاتيح الخرائط
8	شعار المملكة العربية السعودية الرسمي هو سيفان متقاطعان وسطهما نخلة

ضع/ي الأرقام الموجودة أمام المجموعة الأولى أمام ما يناسبها من المجموعة الثانية ؟

ب

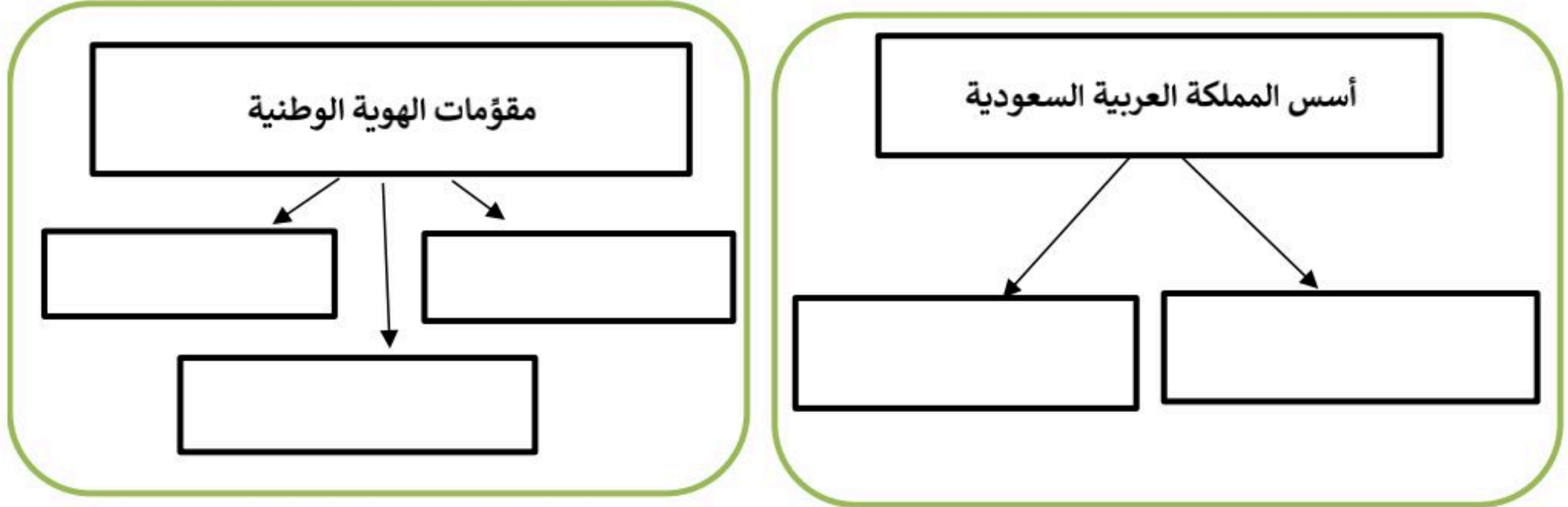
الرقم	المجموعة الاولى	الرقم	المجموعة الثانية
1	إطار الخريطة		خطوط الطول و دوائر العرض
2	شبكة الاحداثيات		اسم يحدد موضوع الخريطة
3	عنوان الخريطة		قراءة معلومات الخريطة
4	اتجاه الخريطة		ما يحيط بالخريطة من الخارج
			المؤشر الذي يبين اتجاه الشمال

اليوم الوطني و يوم التأسيس مناسبتين غالية وعزيزة علينا قارن بينهما وفق الجدول أدناه ؟

ج

اليوم الوطني	وجه المقارنة	يوم التأسيس
	موعدھا ( تاريخھا )	
	سبب الاحتفاء	

أقلب/ي الورقة



اختر الاجابة الصائبة والصحيحة لما يأتي؟

ب

1	تحتفل المملكة العربية السعودية بيوم العلم في	..... من كل عام .	أ	11 مارس	ب	10 يناير	ج	15 فبراير	د	23 اكتوبر
2	كل مايلي من مكونات نظام تحديد المواقع العالمي ( GPS ) ماعدا :			قسم الاقمار الصناعية	ب	قسم التحكم	ج	قسم المستخدم	د	قسم الصور
3	نظام الحكم في وطني المملكة العربية السعودية .....			جمهوري	ب	حزبي	ج	ملكي	د	نيابي
4	علم بلادتي المملكة العربية السعودية لونه ..... زاه و زمردني :			ابيض	ب	اخضر	ج	ازرق	د	احمر
5	هي صورة تلتقط لجزء من سطح الارض بالطائرات المزودة بآلات تصوير :			الصور الجوية	ب	علم المساحة	ج	الخريطة	د	GPS
6	العلم الذي يبحث في طرائق مختلفة لتمثيل سطح الارض :				ب		ج		د	
7	قلادة الملك عبدالعزيز أحد الأوسمة السعودية من الدرجة :			الأولى	ب	الثانية	ج	الثالثة	د	الرابعة
8	النسبة بين البعد على الخريطة و مايقابله على الطبيعة :			البوصلة	ب	مفتاح الخريطة	ج	مقياس الرسم	د	المساحة
9	الخرائط ..... هي التي تمثل مناطق نزول الامطار والرياح والرطوبة و درجة الحرارة :			المناخية	ب	التضاريسية	ج	التاريخية	د	السياسية

← انتهت الاسئلة ←

مدير المدرسة: .....

معلم المادة: محمد القرني

# نموذج الإجابة

اسم الطالب/ة	محمد القرني	الدرجة	اجابة	30
--------------	-------------	--------	-------	----

16 درجة

## السؤال الأول:

ضعي علامة ( √ ) امام العبارة الصائبة وعلامة ( x ) امام العبارة الخاطئة ؟

أ

1	رؤية المملكة 2030 تعدّ نموذجاً فريداً للتخطيط التنموي والمستقبلي للوطن	√
2	علم بلادي المملكة العربية السعودية لا يُنكس أبداً	√
3	من مصادر قوة وطني انها دولة اسلامية تحكم بالشريعة الاسلامية وفق القرآن و السنة	√
4	تحدد أجهزة ( GPS ) الأماكن على سطح الأرض بدقة عالية	√
5	اختلاف المعلومات التي تقدمها الخرائط أدى الى تنوعها .	√
6	تمنح الأوسمة السعودية للملوك و رؤساء الدول وشخصيات مدنية و عسكرية.	√
7	تشابه جميع الرموز و الرسوم في كل مفاتيح الخرائط	x
8	شعار المملكة العربية السعودية الرسمي هو سيفان متقاطعان وسطهما نخلة	√

ضعي الأرقام الموجودة أمام المجموعة الأولى أمام ما يناسبها من المجموعة الثانية ؟

ب

الرقم	المجموعة الاولى	الرقم	المجموعة الثانية
1	إطار الخريطة	2	خطوط الطول و دوائر العرض
2	شبكة الاحداثيات	3	اسم يحدد موضوع الخريطة
3	عنوان الخريطة	1	قراءة معلومات الخريطة
4	اتجاه الخريطة	4	ما يحيط بالخريطة من الخارج
			المؤشر الذي يبين اتجاه الشمال

اليوم الوطني و يوم التأسيس مناسبتين غالية و عزيزة علينا قارن بينهما وفق الجدول أدناه ؟

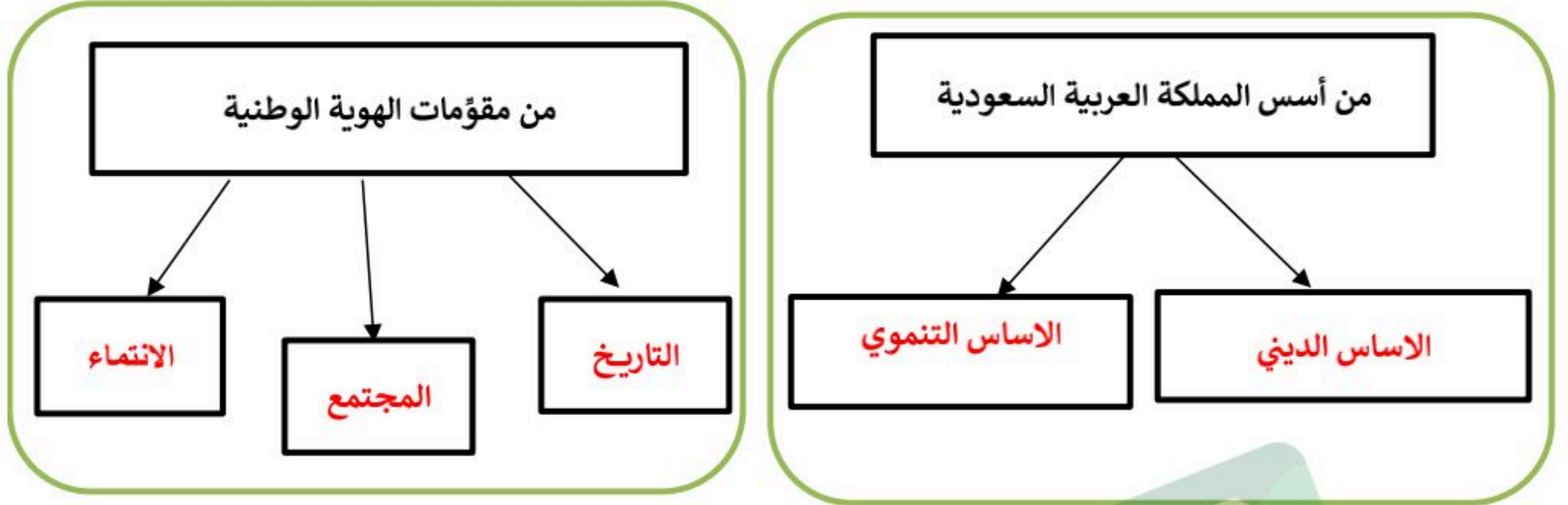
ج

اليوم الوطني	وجه المقارنة	يوم التأسيس
23 سبتمبر من كل عام	موعدھا ( تاريخھا )	22 فبراير من كل عام
ذكرى توحيد البلاد باسم المملكة العربية السعودية عام 1351هـ على يد الملك عبدالعزيز	سبب الاحتفاء	ذكرى تأسيس الدولة السعودية الاولى عام 1139هـ على يد الامام محمد بن سعود

أقلب/ي الورقة

أكمل خرائط المفاهيم التالية ؟

أ



اختر الاجابة الصائبة والصحيحة لما يأتي؟

ب

1	تحتفل المملكة العربية السعودية بيوم العلم في .....	أ	11 مارس	ب	10 يناير	ج	15 فبراير	د	23 أكتوبر
2	كل مايلي من مكونات نظام تحديد المواقع العالمي ( GPS ) ماعدا :	أ	قسم الاقمار الصناعية	ب	قسم التحكم	ج	قسم المستخدم	د	قسم الصور
3	نظام الحكم في وطني المملكة العربية السعودية .....	أ	جمهوري	ب	حزبي	ج	ملكي	د	نيابي
4	علم بلادتي المملكة العربية السعودية لونه ..... زاه و زمردني :	أ	ابيض	ب	اخضر	ج	ازرق	د	احمر
5	هي صورة تلتقط لجزء من سطح الارض بالطائرات المزودة بآلات تصوير :	أ	الصور الجوية	ب	علم المساحة	ج	الخريطة	د	GPS
6	العلم الذي يبحث في طرائق مختلفة لتمثيل سطح الارض :	أ	الخريطة	ب	الصور الرأسية	ج	الصور المائلة	د	علم المساحة
7	قلادة الملك عبدالعزيز أحد الأوسمة السعودية من الدرجة :	أ	الأولى	ب	الثانية	ج	الثالثة	د	الرابعة
8	النسبة بين البعد على الخريطة و مايقابله على الطبيعة :	أ	البوصلة	ب	مفتاح الخريطة	ج	مقياس الرسم	د	المساحة
9	الخرائط ..... هي التي تمثل مناطق نزول الامطار والرياح والرطوبة و درجة الحرارة :	أ	المناخية	ب	التضاريسية	ج	التاريخية	د	السياسية

← انتهت الاسئلة ←

مدير المدرسة: .....

معلم المادة: محمد القرني

المادة:	الدراسات الاجتماعية	بسم الله الرحمن الرحيم
الاختبار:	اختبار الفترة الفصل الدراسي الثاني	
الصف:	الثالث متوسط	
الزمن:	٤٥ دقيقة	
الفترة:	الاولى	

اسم الطالب	
٣٠	

السؤال 1: اختر الإجابة الصحيحة:	20
---------------------------------	----

1	أي من الخيارات التالية يُعد مثلاً على المسؤولية الوطنية؟	(أ) المحافظة على الصلوات المفروضة	(ب) الالتزام تجاه الأسرة	(ج) تحقيق الانتماء والولاء والالتزام بالأنظمة	(د) تطوير المهارات الذاتية والشخصية
2	أي مما يلي يُعد من أبرز مظاهر الاعتزاز بالوطن والافتخار به؟	(أ) السفر للخارج	(ب) الاعتزاز باللغة العربية	(ج) الاعتماد على اللغات الأجنبية	(د) إهمال التراث
3	في أي عام تم إعلان توحيد المملكة العربية السعودية على يد الملك عبدالعزيز؟	(أ) 1319 هـ	(ب) 1351 هـ	(ج) 1332 هـ	(د) 1343 هـ
4	يعود تاريخ بدء منح الأوسمة في المملكة العربية السعودية إلى عهد الملك:	(أ) سعود بن عبدالعزيز	(ب) فيصل بن عبدالعزيز	(ج) عبدالعزيز بن عبدالرحمن	(د) خالد بن عبدالعزيز
5	يُصنف (وشاح الملك عبدالعزيز) ضمن أوسمة الدرجة:	(أ) الأولى	(ب) الثانية	(ج) الثالثة	(د) الرابعة
6	إحدى فوائد الانتماء للوطن هي:	(أ) زيادة الشائعات	(ب) تحقيق الاستقرار النفسي	(ج) الانقسام الاجتماعي	(د) إضعاف الوحدة الوطنية
7	أي مما يلي يُعد مثلاً على التخطيط المستقبلي الشامل ضمن الأساس التنموي؟	(أ) تصدير النفط الخام فقط	(ب) رؤية 2030	(ج) زيادة الاستيراد	(د) تجميد المشاريع
8	ما هو التعريف الصحيح لمفهوم المسؤولية وفقاً لما ورد في الدرس؟	(أ) هي القدرة على التهرب من الواجبات وإلقاء اللوم على الآخرين	(ب) هي قدرة الشخص على أداء واجباته وتحمل نتائج أقواله وأفعاله	(ج) هي السلطة المطلقة للتحكم في الآخرين دون ضوابط	(د) هي الاعتماد الكلي على الوالدين في جميع شؤون الحياة
9	متى بدأ تأسيس الدولة السعودية الأولى؟	(أ) في عام 850 هـ	(ب) في عام 1139 هـ	(ج) في عام 1240 هـ	(د) في عام 1351 هـ

10	يُصنّف (التطوع في المجتمع) ضمن أي نوع من أنواع المسؤولية؟		
	(أ) المسؤولية الذاتية	(ب) المسؤولية الوطنية	(ج) المسؤولية الاجتماعية
11	إلى كم سنة تمتد جذور الإرث التاريخي للمملكة العربية السعودية تقريباً؟		
	(أ) أكثر من 100 سنة	(ب) أكثر من 300 سنة	(ج) أكثر من 590 سنة
12	تُمنح الأوسمة السعودية بأوامر ملكية تكريماً وتقديراً لمن قام بـ:		
	(أ) أعمال تجارية خاصة	(ب) أعمال جليلية أو لتخليد وقائع مهمة	(ج) زيارات سياحية عادية
13	أي مما يلي يُعد خطوة أساسية لكي تتحمل المسؤولية كما ورد في الدرس؟		
	(أ) الاعتماد على الآخرين في إنجاز الأعمال	(ب) الاستبداد بالرأي ورفض النقد	(ج) تجنب العمل بجهد واجتهاد
14	من هو المواطن المسؤول الذي يدرك انتماءه للوطن ويؤدي واجباته تجاهه؟		
	(أ) المواطن الصالح	(ب) المقيم	(ج) السائح
15	كم كان عمر الملك عبدالعزيز -رحمه الله- عندما خرج مع والده وأسرته من الرياض؟		
	(أ) عشر سنوات	(ب) ستة عشر عاماً	(ج) خمسة وعشرون عاماً
16	كيف يتحقق الولاء لولي الأمر (الملك) وفقاً لما ورد في الدرس؟		
	(أ) بالعمل الفردي فقط	(ب) بالسمع والطاعة والتقدير والوفاء بالعهد	(ج) بالانعزال عن المجتمع
17	أي من الأوسمة التالية يُمنح للمتميزين في مجال خدمة الإسلام والمجال الدبلوماسي والمجالات العسكرية والأمنية؟		
	(أ) وسام الملك سعود	(ب) وسام الملك فيصل	(ج) وسام الملك خالد
18	يُمنح وسام الملك خالد للمتميزين في عدة مجالات منها:		
	(أ) خدمة اللغة العربية والتراث الوطني	(ب) القضاء والمهن الحرة	(ج) المجال العسكري والأمني
19	من حقوق المواطن السعودي التي كفلتها الدولة في مجال الصحة:		
	(أ) توفير الرعاية الصحية	(ب) توفير السكن المجاني للجميع	(ج) توزيع الأدوية دون وصفة
20	ما هو دستور المملكة العربية السعودية وفقاً للأساس الديني؟		
	(أ) القوانين الدولية	(ب) كتاب الله وسنة نبيه	(ج) الدساتير الوضعية

السؤال 2: ضع علامة (✓) أو (X) أمام العبارات التالية:

10

#	العبارة	الإجابة
1	الأساس التنموي يعني استغلال الموارد الطبيعية دون الاهتمام بالموارد البشرية.	( )
2	استخدام الإنترنت لفترات زمنية طويلة جداً دون ضوابط يُعد استخداماً مسؤولاً.	( )
3	الانتماء للوطن يتعارض مع الأمر الشرعي الوارد في القرآن والسنة.	( )

( )	حاول الملك عبدالعزيز استرداد الرياض أول مرة عندما كان عمره خمسة وعشرين عاماً ولم يتمكن من ذلك في المحاولة الأولى.	4
( )	تقتصر الأوسمة السعودية على الشخصيات العسكرية فقط ولا تُمنح للمدنيين.	5
( )	يُمنح وسام الملك سلمان للمتميزين في مجالات التاريخ الوطني والعربي والإسلامي.	6
( )	من فوائد المسؤولية أنها تؤدي إلى مزيد من الثقة بالنفس وثقة الآخرين بك.	7
( )	يُمنح وسام الملك فهد للمتميزين في مجالات منها الطب والعلوم والفنون والآداب.	8
( )	تُعد قلادة بدر الكبرى وقلادة الملك عبدالعزيز من أوسمة الدرجة الأولى.	9
( )	قبول النقد الموضوعي الصادق والحذر من التأثر بالتعثر من صفات الشخص المسؤول.	10

انتهت الأسئلة ... بالتوفيق

الاستاذ/محمود القيسي

تجميعات ابورايد

المادة:	الدراسات الاجتماعية	بسم الله الرحمن الرحيم	<b>نهوذج الإجابة</b>
الاختبار:	اختبار الفترة الفصل الدراسي الثاني		
الصف:	الثالث متوسط		
الزمن:	٤٥ دقيقة		
الفترة:	الاولى		

اسم الطالب	
٣٠	

السؤال 1: اختر الإجابة الصحيحة:	20
---------------------------------	----

1	أي من الخيارات التالية يُعد مثلاً على المسؤولية الوطنية؟	(أ) المحافظة على الصلوات المفروضة	(ب) الالتزام تجاه الأسرة	(ج) تحقيق الانتماء والولاء والالتزام بالأنظمة	(د) تطوير المهارات الذاتية والشخصية
2	أي مما يلي يُعد من أبرز مظاهر الاعتزاز بالوطن والافتخار به؟	(أ) السفر للخارج	(ب) الاعتزاز باللغة العربية	(ج) الاعتماد على اللغات الأجنبية	(د) إهمال التراث
3	في أي عام تم إعلان توحيد المملكة العربية السعودية على يد الملك عبدالعزيز؟	(أ) 1319 هـ	(ب) 1351 هـ	(ج) 1332 هـ	(د) 1343 هـ
4	يعود تاريخ بدء منح الأوسمة في المملكة العربية السعودية إلى عهد الملك:	(أ) سعود بن عبدالعزيز	(ب) فيصل بن عبدالعزيز	(ج) عبدالعزيز بن عبدالرحمن	(د) خالد بن عبدالعزيز
5	يُصنف (وشاح الملك عبدالعزيز) ضمن أوسمة الدرجة:	(أ) الأولى	(ب) الثانية	(ج) الثالثة	(د) الرابعة
6	إحدى فوائد الانتماء للوطن هي:	(أ) زيادة الشائعات	(ب) تحقيق الاستقرار النفسي	(ج) الانقسام الاجتماعي	(د) إضعاف الوحدة الوطنية
7	أي مما يلي يُعد مثلاً على التخطيط المستقبلي الشامل ضمن الأساس التنموي؟	(أ) تصدير النفط الخام فقط	(ب) رؤية 2030	(ج) زيادة الاستيراد	(د) تجميد المشاريع
8	ما هو التعريف الصحيح لمفهوم المسؤولية وفقاً لما ورد في الدرس؟	(أ) هي القدرة على التهرب من الواجبات وإلقاء اللوم على الآخرين	(ب) هي قدرة الشخص على أداء واجباته وتحمل نتائج أقواله وأفعاله	(ج) هي السلطة المطلقة للتحكم في الآخرين دون ضوابط	(د) هي الاعتماد الكلي على الوالدين في جميع شؤون الحياة
9	متى بدأ تأسيس الدولة السعودية الأولى؟	(أ) في عام 850 هـ	(ب) في عام 1139 هـ	(ج) في عام 1240 هـ	(د) في عام 1351 هـ

10	يُصنف (التطوع في المجتمع) ضمن أي نوع من أنواع المسؤولية؟		
	(أ) المسؤولية الذاتية	(ب) المسؤولية الوطنية	(ج) المسؤولية الاجتماعية
11	إلى كم سنة تمتد جذور الإرث التاريخي للمملكة العربية السعودية تقريباً؟		
	(أ) أكثر من 100 سنة	(ب) أكثر من 300 سنة	(ج) أكثر من 590 سنة
12	تُمنح الأوسمة السعودية بأوامر ملكية تكريماً وتقديراً لمن قام بـ:		
	(أ) أعمال تجارية خاصة	(ب) أعمال جليلية أو لتخليد وقائع مهمة	(ج) زيارات سياحية عادية
13	أي مما يلي يُعد خطوة أساسية لكي تتحمل المسؤولية كما ورد في الدرس؟		
	(أ) الاعتماد على الآخرين في إنجاز الأعمال	(ب) الاستبداد بالرأي ورفض النقد	(ج) تجنب العمل بجهد واجتهاد
14	من هو المواطن المسؤول الذي يدرك انتماءه للوطن ويؤدي واجباته تجاهه؟		
	(أ) المواطن الصالح	(ب) المقيم	(ج) السائح
15	كم كان عمر الملك عبدالعزيز -رحمه الله- عندما خرج مع والده وأسرته من الرياض؟		
	(أ) عشر سنوات	(ب) ستة عشر عاماً	(ج) خمسة وعشرون عاماً
16	كيف يتحقق الولاء لولي الأمر (الملك) وفقاً لما ورد في الدرس؟		
	(أ) بالعمل الفردي فقط	(ب) بالسمع والطاعة والتقدير والوفاء بالعهد	(ج) بالانعزال عن المجتمع
17	أي من الأوسمة التالية يُمنح للمتميزين في مجال خدمة الإسلام والمجال الدبلوماسي والمجالات العسكرية والأمنية؟		
	(أ) وسام الملك سعود	(ب) وسام الملك فيصل	(ج) وسام الملك خالد
18	يُمنح وسام الملك خالد للمتميزين في عدة مجالات منها:		
	(أ) خدمة اللغة العربية والتراث الوطني	(ب) القضاء والمهن الحرة	(ج) المجال العسكري والأمني
19	من حقوق المواطن السعودي التي كفلتها الدولة في مجال الصحة:		
	(أ) توفير الرعاية الصحية	(ب) توفير السكن المجاني للجميع	(ج) توزيع الأدوية دون وصفة
20	ما هو دستور المملكة العربية السعودية وفقاً للأساس الديني؟		
	(أ) القوانين الدولية	(ب) كتاب الله وسنة نبيه	(ج) الدساتير الوضعية

السؤال 2: ضع علامة (✓) أو (X) أمام العبارات التالية:	10
--	----

#	العبارة	الإجابة
1	الأساس التنموي يعني استغلال الموارد الطبيعية دون الاهتمام بالموارد البشرية.	X
2	استخدام الإنترنت لفترات زمنية طويلة جداً دون ضوابط يُعد استخداماً مسؤولاً.	X
3	الانتماء للوطن يتعارض مع الأمر الشرعي الوارد في القرآن والسنة.	X

✓	حاول الملك عبدالعزيز استرداد الرياض أول مرة عندما كان عمره خمسة وعشرين عاماً ولم يتمكن من ذلك في المحاولة الأولى.	4
X	تقتصر الأوسمة السعودية على الشخصيات العسكرية فقط ولا تُمنح للمدنيين.	5
✓	يُمنح وسام الملك سلمان للمتميزين في مجالات التاريخ الوطني والعربي والإسلامي.	6
✓	من فوائد المسؤولية أنها تؤدي إلى مزيد من الثقة بالنفس وثقة الآخرين بك.	7
✓	يُمنح وسام الملك فهد للمتميزين في مجالات منها الطب والعلوم والفنون والآداب.	8
✓	تُعد قلادة بدر الكبرى وقلادة الملك عبدالعزيز من أوسمة الدرجة الأولى.	9
✓	قبول النقد الموضوعي الصادق والحذر من التأثر بالتعثر من صفات الشخص المسؤول.	10

انتهت الأسئلة ... بالتوفيق

**موقع منهجي**   
mnhaji.com

المادة : الدراسات الاجتماعية						
الصف: الثالث متوسط						
اختبار الوحدة ٥ الفصل ٢						اسم الطالب/ة:

السؤال الأول: اختر الإجابة الصحيحة فيما يلي :

١	يتم الاحتفال باليوم الوطني للمملكة العربية السعودية في يوم						
أ	٢٣ ديسمبر	ب	٢٢ فبراير	ج	٢٣ سبتمبر	د	١ سبتمبر
٢	يتم الاحتفال بيوم العلم السعودي في يوم						
١	٢٣ سبتمبر	ب	١١ مارس	ج	١ يناير	د	٢٢ فبراير
٣	صدر الأمر الملكي بيوم التأسيس في عهد الملك						
أ	الملك سعود بن عبدالعزيز	ب	الملك فيصل بن عبدالعزيز	ج	الملك عبدالعزيز بن عبدالرحمن	د	الملك سلمان بن عبدالعزيز
٤	أعلى درجة من درجات الأوسمة السعودية؟						
أ	الدرجة الأولى	ب	الدرجة الثانية	ج	الدرجة الثالثة	د	الدرجة الرابعة
٥	تُمنح الأوسمة السعودية بموجب:						
أ	ترشيح وزاري	ب	تصويت شعبي	ج	قرار من مجلس الشورى	د	أمر ملكي
٦	الملك الذي أصدر المرسوم الملكي بتوحيد البلاد هو:						
أ	الملك سعود بن عبدالعزيز	ب	الملك فيصل بن عبدالعزيز	ج	الملك عبدالعزيز بن عبدالرحمن	د	الملك خالد بن عبدالعزيز
٧	يتكون عناصر التأسيس من						
أ	٣ عناصر	ب	٤ عناصر	ج	٥ عناصر	د	٦ عناصر
٨	عاصمة للدولة السعودية الأولى هي						
أ	الرياض	ب	الأحساء	ج	الدرعية	د	حريملاء
٩	أقر الشكل الأخير للعلم في عهد الملك :						
أ	الملك سعود بن عبدالعزيز	ب	الملك فيصل بن عبدالعزيز	ج	الملك عبدالعزيز بن عبدالرحمن	د	الملك خالد بن عبدالعزيز
١٠	قلادة بدر الكبرى من درجات أوسمة المملكة العربية السعودية :						
أ	الدرجة الأولى	ب	الدرجة الثانية	ج	الدرجة الثالثة	د	الدرجة الرابعة
١١	في أي عام ميلادي تأسست الدولة السعودية الأولى التي يحتفى بها في يوم التأسيس؟						
أ	١١٣٩هـ	ب	١٢٣٩هـ	ج	١٣٣٩هـ	د	١٠٣٩هـ
١٢	يرمز السيفان في شعار المملكة إلى						
أ	الحق	ب	القوة	ج	الشجاعة	د	الوحدة

السؤال الثاني: ضع إشارة ( √ ) أمام الإجابة الصحيحة وإشارة ( × ) أمام الإجابة الخاطئة:

١	تم إعلان توحيد البلاد باسم المملكة العربية السعودية عام ١٣٤١ هـ
٢	نحتفل باليوم الوطني تعميقاً للانتماء للوطن وولاءً للملك.
٣	من عناصر شعار يوم التأسيس " الخيل العربية "
٤	تتميز المملكة العربية السعودية بإرث تاريخي عريق امتدت جذوره إلى أكثر من ٩٥٠ سنة.
٥	من مهددات الهوية الوطنية " الجرائم الإلكترونية "
٦	يتميز العلم السعودي عن غيره من اعلام الدول الأخرى بأنه لا يُنكس ابداً
٧	يقوم حكم المملكة العربية السعودية على الشريعة الإسلامية.
٨	تعتبر المحافظة على اللغة العربية واستخدامها جزءاً أساسياً من تعزيز الهوية الوطنية
٩	تأسس الدولة السعودية الأولى على يد الإمام سعود بن محمد
١٠	يُسمح برفع العلم السعودي حتى لو كان لونه باهتاً أو في حالة سيئة
١١	اليوم الوطني هو مناسبة لتذكر نعمة الوحدة والأمن التي تحققت بفضل الله ثم بجهود المؤسسين
١٢	بدأ تاريخ منح الأوسمة في المملكة العربية السعودية في عهد الملك فهد بن عبدالعزيز
١٣	تعد الوحدة الوطنية التي تحققت في عهد الملك عبد العزيز من أبرز مميزات الهوية السعودي
١٤	تقوم المملكة العربية السعودية بخدمة الحرمين الشريفين والمسلمين في أنحاء العالم كجزء من أساسها الديني
١٥	يركز الأساس التنموي للمملكة على استغلال الموارد الطبيعية فقط دون الاهتمام بتنمية الإنسان
١٦	تقتصر الأوسمة السعودية على تكريم المواطنين السعوديين فقط
١٧	أحد أبرز أسباب الاحتفاء بيوم التأسيس هو تقدير ما أرسته الدولة من وحدة وأمن
١٨	من أسباب احتفالنا باليوم الوطني هو استذكار تاريخنا والفخر بإنجازات وطننا

لاسم

[ ]									
٩	٨	٧	٦	٥	٤	٣	٢	١	٠
٩	٨	٧	٦	٥	٤	٣	٢	١	٠
٩	٨	٧	٦	٥	٤	٣	٢	١	٠

---

١	٢	٣	٤	٥	٦	٧	٨	٩	١٠	١١	١٢	١٣	١٤
١	٢	٣	٤	٥	٦	٧	٨	٩	١٠	١١	١٢	١٣	١٤
١	٢	٣	٤	٥	٦	٧	٨	٩	١٠	١١	١٢	١٣	١٤
١	٢	٣	٤	٥	٦	٧	٨	٩	١٠	١١	١٢	١٣	١٤

# نموذج الإجابة

المادة : الدراسات الاجتماعية  
الصف: الثالث متوسط  
اختبار الوحدة ٥ الفصل ٢


اسم الطالب/ة:

السؤال الأول: اختر الإجابة الصحيحة فيما يلي :

١	يتم الاحتفال باليوم الوطني للمملكة العربية السعودية في يوم	أ	٢٣ ديسمبر	ب	٢٢ فبراير	ج	٢٣ سبتمبر	د	١ سبتمبر
٢	يتم الاحتفال بيوم العلم السعودي في يوم	١	٢٣ سبتمبر	ب	١١ مارس	ج	١ يناير	د	٢٢ فبراير
٣	صدر الأمر الملكي بيوم التأسيس في عهد الملك	أ	الملك سعود بن عبدالعزيز	ب	الملك فيصل بن عبدالعزيز	ج	الملك عبدالعزيز بن عبدالرحمن	د	الملك سلمان بن عبدالعزيز
٤	أعلى درجة من درجات الأوسمة السعودية؟	أ	الدرجة الأولى	ب	الدرجة الثانية	ج	الدرجة الثالثة	د	الدرجة الرابعة
٥	تُمنح الأوسمة السعودية بموجب:	أ	ترشيح وزاري	ب	تصويت شعبي	ج	قرار من مجلس الشورى	د	أمر ملكي
٦	الملك الذي أصدر المرسوم الملكي بتوحيد البلاد هو:	أ	الملك سعود بن عبدالعزيز	ب	الملك فيصل بن عبدالعزيز	ج	الملك عبدالعزيز بن عبدالرحمن	د	الملك خالد بن عبدالعزيز
٧	يتكون عناصر التأسيس من	أ	٣ عناصر	ب	٤ عناصر	ج	٥ عناصر	د	٦ عناصر
٨	عاصمة للدولة السعودية الأولى هي	أ	الرياض	ب	الأحساء	ج	الدرعية	د	حريملاء
٩	أقر الشكل الأخير للعلم في عهد الملك :	أ	الملك سعود بن عبدالعزيز	ب	الملك فيصل بن عبدالعزيز	ج	الملك عبدالعزيز بن عبدالرحمن	د	الملك خالد بن عبدالعزيز
١٠	قلادة بدر الكبرى من درجات أوسمة المملكة العربية السعودية :	أ	الدرجة الأولى	ب	الدرجة الثانية	ج	الدرجة الثالثة	د	الدرجة الرابعة
١١	في أي عام ميلادي تأسست الدولة السعودية الأولى التي يحتفى بها في يوم التأسيس؟	أ	١١٣٩هـ	ب	١٢٣٩هـ	ج	١٣٣٩هـ	د	١٠٣٩هـ
١٢	يرمز السيفان في شعار المملكة إلى	أ	الحق	ب	القوة	ج	الشجاعة	د	الوحدة

السؤال الثاني: ضع إشارة ( √ ) أمام الإجابة الصحيحة وإشارة ( × ) أمام الإجابة الخاطئة:

×	١	تم إعلان توحيد البلاد باسم المملكة العربية السعودية عام ١٣٤١ هـ
✓	٢	نحتفل باليوم الوطني تعميقاً للانتماء للوطن وولاءً للملك.
✓	٣	من عناصر شعار يوم التأسيس " الخيل العربية "
✓	٤	تتميز المملكة العربية السعودية بإرث تاريخي عريق امتدت جذوره إلى أكثر من ٩٥٠ سنة.
✓	٥	من مهددات الهوية الوطنية " الجرائم الإلكترونية "
✓	٦	يتميز العلم السعودي عن غيره من اعلام الدول الأخرى بأنه لا يُنكس ابداً
✓	٧	يقوم حكم المملكة العربية السعودية على الشريعة الإسلامية.
✓	٨	تعتبر المحافظة على اللغة العربية واستخدامها جزءاً أساسياً من تعزيز الهوية الوطنية
×	٩	تأسس الدولة السعودية الأولى على يد الإمام سعود بن محمد
×	١٠	يُسمح برفع العلم السعودي حتى لو كان لونه باهتاً أو في حالة سيئة
✓	١١	اليوم الوطني هو مناسبة لتذكر نعمة الوحدة والأمن التي تحققت بفضل الله ثم بجهود المؤسسين
×	١٢	بدأ تاريخ منح الأوسمة في المملكة العربية السعودية في عهد الملك فهد بن عبدالعزيز
✓	١٣	تُعد الوحدة الوطنية التي تحققت في عهد الملك عبد العزيز من أبرز مميزات الهوية السعودي
✓	١٤	تقوم المملكة العربية السعودية بخدمة الحرمين الشريفين والمسلمين في أنحاء العالم كجزء من أساسها الديني
×	١٥	يركز الأساس التنموي للمملكة على استغلال الموارد الطبيعية فقط دون الاهتمام بتنمية الإنسان
×	١٦	تقتصر الأوسمة السعودية على تكريم المواطنين السعوديين فقط
✓	١٧	أحد أبرز أسباب الاحتفاء بيوم التأسيس هو تقدير ما أرسته الدولة من وحدة وأمن
✓	١٨	من أسباب احتفالنا باليوم الوطني هو استذكار تاريخنا والفخر بإنجازات وطننا



# موقع منهجي

mnhaji.com

١	أ	ب	ج	د	٧	أ	ب	ج	د
٢	أ	ب	ج	د	٨	أ	ب	ج	د
٣	أ	ب	ج	د	٩	أ	ب	ج	د
٤	أ	ب	ج	د	١٠	أ	ب	ج	د
٥	أ	ب	ج	د	١١	أ	ب	ج	د
٦	أ	ب	ج	د	١٢	أ	ب	ج	د
١	ص	خ	٧	ص	خ	١٣	ص	خ	
٢	ص	خ	٨	ص	خ	١٤	ص	خ	
٣	ص	خ	٩	ص	خ	١٥	ص	خ	
٤	ص	خ	١٠	ص	خ	١٦	ص	خ	
٥	ص	خ	١١	ص	خ	١٧	ص	خ	
٦	ص	خ	١٢	ص	خ	١٨	ص	خ	

نموذج اسئلة اختبار الوحدة  
المادة: الدراسات الاجتماعية  
الصف: الثالث المتوسط  
الهوية الوطنية  
1447هـ

اسم الطالب/ة	محمد القرني	الدرجة	15
--------------	-------------	--------	----

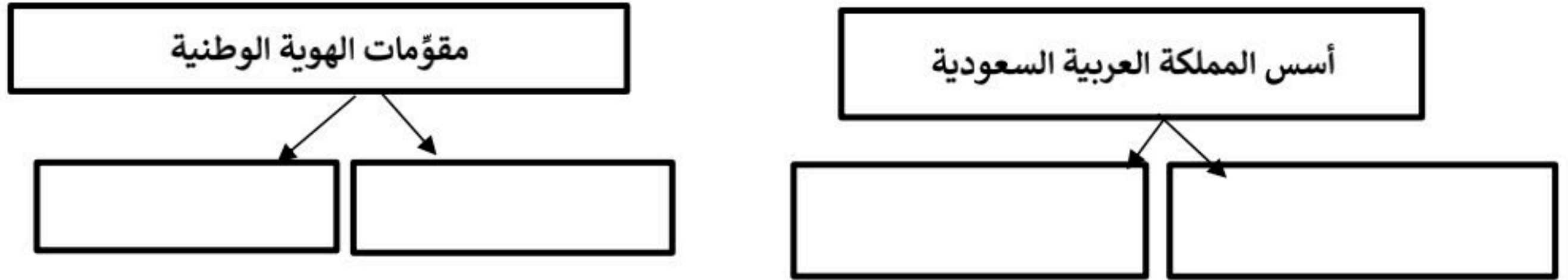
السؤال الاول ضع/ي علامة ( √ ) امام العبارة الصائبة وعلامة ( x ) امام العبارة الخاطئة ؟

1	رؤية المملكة 2030 تعدّ نموذجاً فريداً للتخطيط التنموي والمستقبلي للوطن
2	علم بلادي المملكة العربية السعودية لا يُنكس أبداً
3	من مصادر قوة وطني انها دولة اسلامية تحكم بالشريعة الاسلامية وفق القرآن والسنة
4	تمنح الأوسمة السعودية للملوك ورؤساء الدول وشخصيات مدنية وعسكرية.

السؤال الثاني اليوم الوطني و يوم التأسيس مناسبتين غالية وعزيزة علينا قارن بينهما وفق الجدول أدناه ؟

اليوم الوطني	وجه المقارنة	يوم التأسيس
	موعدھا ( تاريخھا )	
	سبب الاحتفاء	

السؤال الثالث أكمل خرائط المفاهيم التالية ؟



السؤال الرابع اختر الاجابة الصائبة والصحيحة لما يأتي؟

1	تحتفل المملكة العربية السعودية بيوم العلم في	أ	11 مارس	ب	10 يناير	ج	15 فبراير	د	23 أكتوبر
2	نظام الحكم في وطني المملكة العربية السعودية .....	أ	جمهوري	ب	حزبي	ج	ملكي	د	نيابي
3	قلادة الملك عبدالعزيز أحد الأوسمة السعودية من الدرجة :	أ	الأولى	ب	الثانية	ج	الثالثة	د	الرابعة

← انتهت الاسئلة ←

معلم المادة: محمد القرني

مدير المدرسة: .....

نموذج اجابة اختبار الوحدة  
المادة: الدراسات الاجتماعية  
الصف: الثالث المتوسط  
الهوية الوطنية  
1447هـ

# نموذج الإجابة

اسم الطالب/ة	محمد القرني	الدرجة	15	15
--------------	-------------	--------	----	----

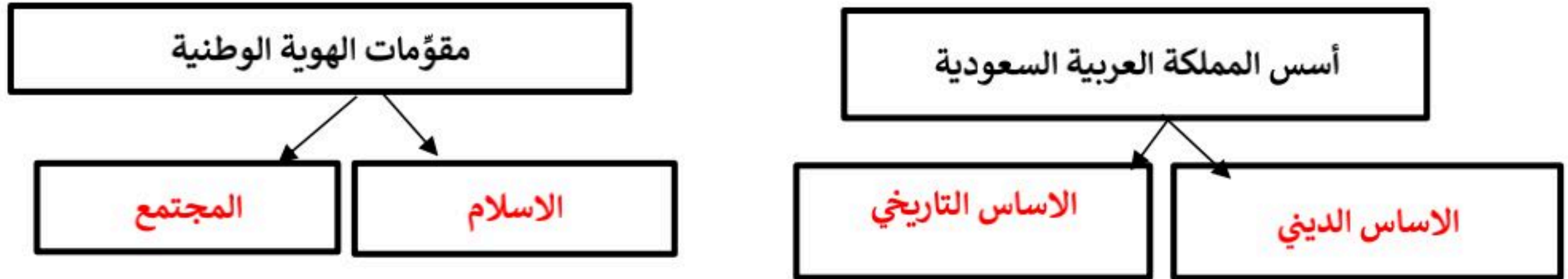
السؤال الاول ضع/ي علامة ( √ ) امام العبارة الصائبة وعلامة ( x ) امام العبارة الخاطئة ؟

1	رؤية المملكة 2030 تعدّ نموذجاً فريداً للتخطيط التنموي والمستقبلي للوطن	√
2	علم بلادي المملكة العربية السعودية لا يُنكس أبداً	√
3	من مصادر قوة وطني انها دولة اسلامية تحكم بالشريعة الاسلامية وفق القرآن و السنة	√
4	تمنح الأوسمة السعودية للملوك و رؤساء الدول وشخصيات مدنية و عسكرية.	√

السؤال الثاني اليوم الوطني و يوم التأسيس مناسبتين غالية و عزيزة علينا قارن بينهما وفق الجدول أدناه ؟

اليوم الوطني	وجه المقارنة	يوم التأسيس
23 سبتمبر	موعدھا ( تاريخھا )	22 فبراير
ذكرى توحيد البلاد على يد الملك عبدالعزيز عام 1351هـ	سبب الاحتفاء	ذكرى تأسيس الدولة السعودية الاولى على يد الامام محمد بن سعود عام 1139هـ

السؤال الثالث أكمل خرائط المفاهيم التالية ؟



السؤال الرابع اختر الاجابة الصائبة والصحيحة لما يأتي؟

1	تحتفل المملكة العربية السعودية بيوم العلم في	أ	11 مارس	ب	10 يناير	ج	15 فبراير	د	23 اكتوبر
2	نظام الحكم في وطني المملكة العربية السعودية .....	أ	جمهوري	ب	حزبي	ج	ملي	د	نيابي
3	قلادة الملك عبدالعزيز أحد الأوسمة السعودية من الدرجة :	أ	الأولى	ب	الثانية	ج	الثالثة	د	الرابعة

← انتهت الاسئلة ←

مدير المدرسة: .....

معلم المادة: محمد القرني



المادة:	الدراسات الاجتماعية	بسم الله الرحمن الرحيم
الاختبار:	اختبار الوحدة الأولى	
الصف:	ثالث متوسط	
الفترة:	الأولى للفصل الثاني ١٤٤٧هـ	

اسم الطالب	
٣٠	

السؤال 1: اختر الإجابة الصحيحة:	10
---------------------------------	----

1	من الممارسات السلبية التي يجب تجنبها في الاحتفال باليوم الوطني:	(أ) إبراز منجزات الوطن	(ب) تجديد الولاء للقيادة	(ج) استعمال منبهات السيارات بإزعاج	(د) الدعاء لشهداء الواجب
2	من هو الملك الذي أعاد توحيد البلاد باسم المملكة العربية السعودية في عام 1351هـ؟	(أ) الملك سعود بن عبدالعزيز	(ب) الملك فيصل بن عبدالعزيز	(ج) الملك عبدالعزيز بن عبد الرحمن	(د) الملك فهد بن عبدالعزيز
3	كم يبلغ طول السيف المسلول في العلم السعودي بالنسبة لرسم الشهادة؟	(أ) نصف رسم الشهادة	(ب) يساوي رسم الشهادة	(ج) ثلاثة أرباع رسم الشهادة	(د) ربع رسم الشهادة
4	إلى كم سنة تمتد جذور الإرث التاريخي للمملكة العربية السعودية تقريباً؟	(أ) أكثر من 100 سنة	(ب) أكثر من 300 سنة	(ج) أكثر من 590 سنة	(د) أكثر من 1000 سنة
5	استمرت ملحمة البطولة التي قادها الملك عبدالعزيز لتوحيد المملكة:	(أ) عشرين عاماً	(ب) ثلاثين عاماً	(ج) أربعين عاماً	(د) خمسين عاماً
6	أي مما يلي يُعد مثلاً على التخطيط المستقبلي الشامل ضمن الأساس التنموي؟	(أ) تصدير النفط الخام فقط	(ب) رؤية 2030	(ج) زيادة الاستيراد	(د) تجميد المشاريع
7	ما هو نوع الخط العربي المستخدم في كتابة الشهادات على العلم السعودي؟	(أ) خط النسخ	(ب) خط الثلث	(ج) خط الكوفي	(د) خط الرقعة
8	أي مما يلي يُعد مثلاً على التخطيط المستقبلي الشامل ضمن الأساس التنموي؟	(أ) تأسيس الدرعية	(ب) رؤية 2030	(ج) توحيد المناطق	(د) بناء الأسوار القديمة
9	متى بدأ تأسيس الدولة السعودية الأولى؟	(أ) في عام 850 هـ	(ب) في عام 1139 هـ	(ج) في عام 1240 هـ	(د) في عام 1351 هـ
10	تُمنح الأوسمة السعودية بأوامر ملكية تكريماً وتقديراً لمن قام بـ:	(أ) أعمال جليلية أو لتخليد وقائع مهمة	(ب) أعمال تجارية خاصة	(ج) زيارات سياحية عادية	(د) دراسات غير معتمدة

السؤال 2: ضع علامة (✓) أو (X) أمام العبارات التالية:

10

1	الأساس التنموي يعني استغلال الموارد الطبيعية دون الاهتمام بالموارد البشرية.
2	نظام الحكم في المملكة العربية السعودية نظام ملكي يقوم على البيعة الشرعية.
3	كانت الدرعية هي عاصمة الدولة السعودية الثانية.
4	لا يتم تنكيس العلم السعودي وإنزاله إلى الثلث الأخير من السارية في حالات الحداد الرسمي.
5	بدأ تطور العلم السعودي منذ عهد الدولة السعودية الأولى في القرن الثاني عشر الهجري.
6	تُعد قلادة بدر الكبرى وقلادة الملك عبدالعزيز من أوسمة الدرجة الأولى.
7	تقتصر الأوسمة السعودية على الشخصيات العسكرية فقط ولا تُمنح للمدنيين.
8	استمرت الفترة بين انتهاء الدولة السعودية الثانية وتأسيس الدولة السعودية الثالثة عشر سنوات.
9	تأسست الدولة السعودية الثانية في عام 1139 هـ.
10	صدر الأمر الملكي الكريم بتحديد يوم العلم في عام 1444 هـ (2023 م).

السؤال 3: صل بين العمودين: صل بين العمود (أ) والعمود (ب)

5

#	العمود (أ)	العمود (ب)
1	الأساس الديني	دولة إسلامية تحكم بالشرعة
2	الأساس التاريخي	تاريخ أصيل ومتجذريمتد لقرون
3	الأساس التنموي	من ملامح تاريخ الدولة السعودية العريق
4	الوحدة الوطنية	عمق اجتماعي وحرص وطني
5	الإرث الحضاري	استغلال الموارد بحكمة وتحقيق الرفاهية

السؤال 4: أكمل الفراغات التالية:

5

1	من أسباب الاحتفال باليوم الوطني الوفاء لـ ..... الواجب ولجنودنا البواسل.
2	يحتوي شعار يوم التأسيس على رسم لـ ..... كأحد الرموز المرتبطة بالبيئة السعودية.
3	من أسس الدولة السعودية الأساس الديني والأساس التاريخي والأساس .....
4	من أسماء العلم السعودي: الراية، و ..... واللواء.
5	يعد الاحتفال باليوم الوطني فرصة لتعميق الانتماء للوطن والولاء لـ .....

انتهت الأسئلة



# نهوذج الإجابة

الدراسات الاجتماعية	المادة:	
اجتماعيات	الاختبار:	
ثالث متوسط	الصف:	
ساعتان	الزمن:	
الثاني ١٤٤٧	الفترة:	
٤٠	درجة الطالب	

## السؤال الأول: اختر الإجابة الصحيحة:

٢٠ درجات	١- كم يبلغ امتداد الجذور التاريخية للمملكة العربية السعودية؟		
	(أ) أكثر من 100 سنة	(ب) أكثر من 300 سنة	(ج) أكثر من 590 سنة
	٢- يُصنف (وشاح الملك عبدالعزيز) ضمن أوسمة الدرجة:		
	(أ) الأولى	(ب) الثانية	(ج) الثالثة
	٣- يُمنح وسام الملك خالد للمتميزين في عدة مجالات منها:		
	(أ) خدمة اللغة العربية والتراث الوطني	(ب) القضاء والمهن الحرة	(ج) المجال العسكري والأمني
	٤- يصادف يوم التأسيس في المملكة العربية السعودية كل عام تاريخ:		
	(أ) 23 سبتمبر	(ب) 22 فبراير	(ج) 15 يناير
	٥- ما هي الأداة الأنسب لقياس المسافات المتعرجة على الخريطة؟		
	(أ) المسطرة العادية	(ب) الخيط	(ج) البوصلة
	٦- أي من الرموز التالية يُصنف ضمن الرموز النقطية في مفتاح الخريطة؟		
	(أ) الطرق البرية	(ب) الأنهار	(ج) السهول
	٧- مؤسس الدولة السعودية الأولى في عام 1139هـ هو الإمام:		
	(أ) تركي بن عبدالله	(ب) سعود بن عبدالعزيز	(ج) محمد بن سعود
	٨- أي من العناصر التالية يُعد من عناصر شعار يوم التأسيس الخمسة؟		
	(أ) السيف	(ب) الجمل	(ج) السوق
	٩- تم إعلان توحيد البلاد باسم المملكة العربية السعودية عام:		
	(أ) 1351هـ	(ب) 1350هـ	(ج) 1319هـ
	١٠- إلى كم سنة تمتد جذور الإرث التاريخي للمملكة العربية السعودية تقريباً؟		
	(أ) أكثر من 100 سنة	(ب) أكثر من 300 سنة	(ج) أكثر من 590 سنة
	١١- أي أنواع مقاييس الرسم يُعد الأفضل لأنه يظل صحيحاً عند تصغير الخريطة أو تكبيرها؟		
	(أ) المقياس الكتابي	(ب) المقياس النسبي	(ج) المقياس الخطي
	١٢- ما هي الفائدة الأساسية من شبكة الإحداثيات (خطوط الطول ودوائر العرض)؟		
	(أ) تحديد نوع الرموز	(ب) تحديد الوقت والمناخ	(ج) تحديد مقياس الرسم
	١٣- إلى ماذا ترمز النخلة في شعار المملكة العربية السعودية الرسمي؟		
	(أ) القوة	(ب) العدل	(ج) النماء
	١٤- من هو الملك الذي أقر في عهده الشكل الأخير للعلم السعودي بمواصفاته الحالية؟		
	(أ) الملك سعود بن عبدالعزيز	(ب) الملك عبدالعزيز بن عبدالرحمن	(ج) الملك فيصل بن عبدالعزيز

١٥- يرجع تاريخ اليوم الوطني إلى المرسوم الملكي الذي أصدره الملك:			
(أ) سعود بن عبدالعزيز	(ب) فيصل بن عبدالعزيز	(ج) عبدالعزيز بن عبدالرحمن	(د) خالد بن عبدالعزيز
١٦- عدد السنوات التي فصلت بين انتهاء الدولة السعودية الأولى وتأسيس الدولة السعودية الثانية هو:			
(أ) سبع سنوات	(ب) عشر سنوات	(ج) عشرون سنة	(د) ثلاثون سنة
١٧- صدر الأمر الملكي الكريم بإعلان يوم التأسيس في عهد الملك:			
(أ) عبدالعزيز بن عبدالرحمن	(ب) فهد بن عبدالعزيز	(ج) عبدالله بن عبدالعزيز	(د) سلمان بن عبدالعزيز
١٨- يعود تاريخ بدء منح الأوسمة في المملكة العربية السعودية إلى عهد الملك:			
(أ) سعود بن عبدالعزيز	(ب) فيصل بن عبدالعزيز	(ج) عبدالعزيز بن عبدالرحمن	(د) خالد بن عبدالعزيز
١٩- من الممارسات السلبية التي يجب تجنبها في الاحتفال باليوم الوطني:			
(أ) إبراز منجزات الوطن	(ب) تجديد الولاء للقيادة	(ج) استعمال منبهات السيارات بإزعاج	(د) الدعاء لشهداء الواجب
٢٠- أي من الأوسمة التالية يُمنح للمتميزين في مجال خدمة الإسلام والمجال الدبلوماسي والمجالات العسكرية والأمنية؟			
(أ) وسام الملك سعود	(ب) وسام الملك فيصل	(ج) وسام الملك خالد	(د) وسام الملك فهد

السؤال الثاني: ضع علامة (صح) أو (خطأ):		الدرجة
#	العبارة	الإجابة
١	عنوان الخريطة هو الاسم الذي يحدد موضوع الخريطة والمكان الذي تمثله.	(✓)
٢	استمرت الفترة بين انتهاء الدولة السعودية الثانية وتأسيس الدولة السعودية الثالثة خمسين عاماً.	(✗)
٣	تقتصر الأوسمة السعودية على الشخصيات العسكرية فقط ولا تُمنح للمدنيين.	(✗)
٤	يُمنح وسام الملك سلمان للمتميزين في مجالات التاريخ الوطني والعربي والإسلامي.	(✓)
٥	من جوانب الأساس الديني للمملكة وجود المسجد النبوي ومثوى النبي محمد صلى الله عليه وسلم فيها.	(✓)
٦	يُرسم مؤشر الاتجاه في الخريطة عادة ليشير إلى جهة الجنوب.	(✗)
٧	تقوم المملكة العربية السعودية على أساس ديني قوي لكونها مهبط الوحي وفيها الحرمين الشريفان.	(✓)
٨	تُعد قلادة بدر الكبرى وقلادة الملك عبدالعزيز من أوسمة الدرجة الأولى.	(✓)
٩	نظام الحكم في المملكة العربية السعودية نظام ملكي يقوم على البيعة الشرعية.	(✓)
١٠	تُستخدم الرموز المساحية لتمثيل الظواهر الخطية مثل الطرق والأنهار.	(✗)
١١	شعار يوم التأسيس يتكون من خمسة عناصر جوهرية تعكس التراث الثقافي.	(✓)

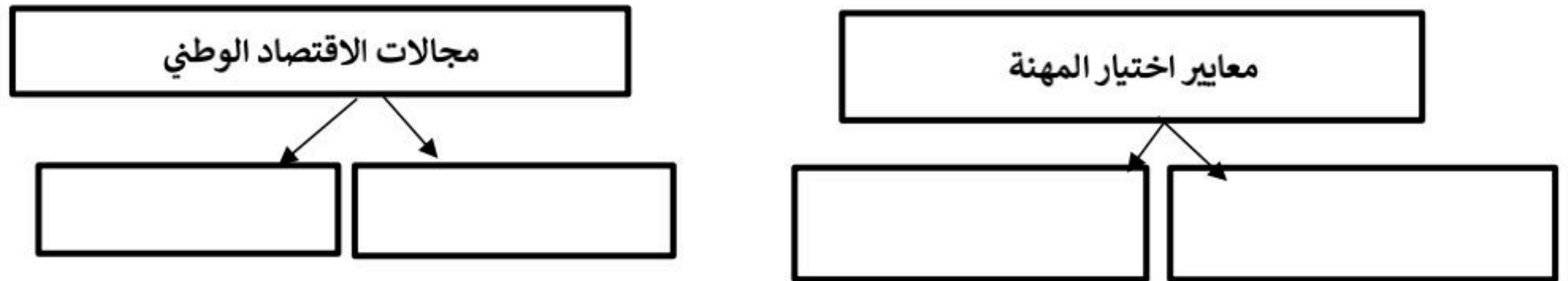
#	العبارة	الإجابة
١٢	يتم تنكيس العلم السعودي وإنزاله إلى الثلث الأخير من السارية في حالات الحداد الرسمي.	(X)
١٣	تم توحيد المملكة العربية السعودية في عام 1932م.	(✓)
١٤	تأسست الدولة السعودية الثانية في عام 1139 هـ.	(X)
١٥	يُمنح وسام الملك فهد للمتميزين في مجالات منها الطب والعلوم والفنون والآداب.	(✓)
١٦	كانت الدرعية هي عاصمة الدولة السعودية الأولى.	(✓)
١٧	الأساس التنموي يعني استغلال الموارد الطبيعية دون الاهتمام بالموارد البشرية.	(X)
١٨	تأسست الدولة السعودية الأولى في منتصف القرن العاشر الهجري.	(X)
١٩	بدأ تطور العلم السعودي منذ عهد الدولة السعودية الأولى في القرن الثاني عشر الهجري.	(✓)
٢٠	صدر الأمر الملكي الكريم بتحديد يوم العلم في عام 1444هـ (2023م).	(✓)

اسم الطالب/ة	محمد القرني	الدرجة	15
--------------	-------------	--------	----

السؤال الاول ضع/ي علامة ( √ ) امام العبارة الصائبة وعلامة ( x ) امام العبارة الخاطئة ؟

1	عندما يكون الفرد منجزاً فإنه يشعر بالرضا
2	يحث ديننا الاسلامي على العمل و الانتاج
3	الامن و الاستقرار و التخطيط السليم أثر ايجاباً في نمو الاقتصاد الوطني
4	من صفات الفرد المنجز يقوم بأعماله حسب الفراغ
5	من أسباب البطالة ضعف التدريب و التأهيل
6	التطور التقني قلل من الاعتماد على الايدي العاملة
7	يسهم برنامج جودة الحياة في خفض نسبة البطالة
8	تعد المملكة العربية السعودية ثاني اكبر دولة تملك احتياطات نفطية في العالم

السؤال الثاني أكمل خرائط المفاهيم التالية ؟



السؤال الثالث اختر الاجابة الصائبة والصحيحة لما يأتي؟

1	من يقدر على العمل ولا يرغب فيه مع توفر الفرص :
أ	بطالة اختيارية
ب	بطالة مقنعة
ج	بطالة هيكلية
د	بطالة وظيفية
2	حالة داخلية مرتبطة بمشاعر الفرد توجهه نحو التخطيط و تحقيق النجاح
أ	الانتاج
ب	العمل
ج	الانجاز الذاتي
د	التضخم
3	الانشطة البشرية لافراد المجتمع من ( عمل و انتاج و وخدمات و استهلاك ) :
أ	البطالة
ب	التضخم
ج	الانتاج
د	الاقتصاد الوطني

← انتهت الاسئلة ←

معلم المادة: محمد القرني

مدير المدرسة: .....

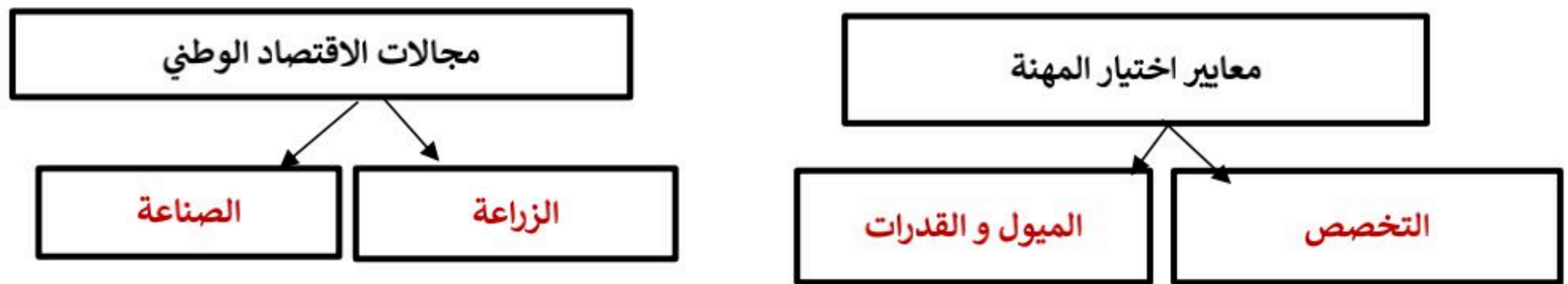
# نموذج الإجابة

اسم الطالب/ة	محمد القرني ( اجابة )	الدرجة	15
--------------	-----------------------	--------	----

السؤال الاول ضع/ي علامة ( √ ) امام العبارة الصائبة وعلامة ( x ) امام العبارة الخاطئة ؟

1	عندما يكون الفرد منجزاً فإنه يشعر بالرضا	√
2	يحث ديننا الاسلامي على العمل و الانتاج	√
3	الامن و الاستقرار و التخطيط السليم أثر ايجاباً في نمو الاقتصاد الوطني	√
4	من صفات الفرد المنجز يقوم بأعماله حسب الفراغ	x
5	من أسباب البطالة ضعف التدريب و التأهيل	√
6	التطور التقني قلل من الاعتماد على الايدي العاملة	√
7	يسهم برنامج جودة الحياة في خفض نسبة البطالة	√
8	تعد المملكة العربية السعودية ثاني اكبر دولة تملك احتياطات نفطية في العالم	√

السؤال الثاني أكمل خرائط المفاهيم التالية ؟



السؤال الثالث اختر الاجابة الصائبة والصحيحة لما يأتي؟

1	من يقدر على العمل ولا يرغب فيه مع توفر الفرص :	أ	بطالة اختيارية	ب	بطالة مقنعة	ج	بطالة هيكلية	د	بطالة وظيفية
2	حالة داخلية مرتبطة بمشاعر الفرد توجهه نحو التخطيط و تحقيق النجاح	أ	الانتاج	ب	العمل	ج	الانجاز الذاتي	د	التضخم
3	الانشطة البشرية لافراد المجتمع من ( عمل و انتاج و خدمات و استهلاك ) :	أ	البطالة	ب	التضخم	ج	الانتاج	د	الاقتصاد الوطني

← انتهت الاسئلة ←

مدير المدرسة: .....

معلم المادة: محمد القرني

المادة : الدراسات الاجتماعية			
الصف : ٣م			
اختبار الوحدة ٦ الفصل ٢			اسم الطالب/ة:

السؤال الأول: اختر الإجابة الصحيحة فيما يلي :

١	كل ما يلي من مكونات نظام تحديد المواقع العالمي ( GPS ) ماعدا:
أ	قسم الأقمار الصناعية
ب	قسم التحكم
ج	قسم المستخدم
د	قسم الصور
٢	يتابع قسم ..... عمل الأقمار ويراقبها مراقبة مستمرة.
أ	الأقمار الصناعية
ب	التحكم
ج	المستخدم
د	الغلاف الجوي
٣	النسبة بين البعد على الخريطة وما يقابله على الطبيعة:
أ	البوصلة
ب	مفتاح الخريطة
ج	مقياس الرسم
د	المساحة
٤	الخرائط ..... هي التي تمثل مناطق نزول الامطار والرياح والرطوبة ودرجة الحرارة:
أ	المناخية
ب	التضاريسية
ج	التاريخية
د	السياسية
٥	يتألف قسم ..... من مجموعة من الأقمار الصناعية التي تدور حول الأرض.
أ	الأقمار الصناعية
ب	التحكم
ج	المستخدم
د	الغلاف الجوي
٦	هي وسيلة لتمثيل سطح الكرة الأرضية أو جزء منه بظواهره الطبيعية والبشرية على لوحة مستوية:
أ	مقياس الرسم
ب	الخريطة
ج	علم المساحة
د	الخرائط السياسية
٧	هي الخرائط التي تمثل عليها الظواهر الطبيعية التي خلقها الله والتي لا أثر للإنسان في نشأتها:
أ	الخرائط البشرية
ب	الخرائط الطبيعية
ج	الخرائط التضاريسية
د	الخرائط السكانية
٨	توضح طريقة هجرة نبينا محمد صلى الله عليه وسلم من مكة المكرمة إلى المدينة المنورة خريطة:
أ	اقتصادية
ب	مناخية
ج	تاريخية
د	سياسية
٩	هي صورة لجزء من سطح الأرض تلتقط بالطائرات أو المناطيد المزودة بالالت التصوير: يقصد بها خطوط الطول ودوائر العرض:
أ	عنوان الخريطة
ب	إطار الخريطة
ج	الصور الجوية
د	مقياس الرسم
١٠	أفضل أنواع المقاييس هو المقياس:
أ	الخطي
ب	الكتابي
ج	النسبي
د	الكسري
١١	من فوائد نظام تحديد المواقع:
أ	تحديد المواقع تحديداً دقيقاً
ب	تحديد اتجاه القبلة
ج	إرشاد السفن والطائرات
د	جميع ما ذكر
١٢	يقصد بها خطوط الطول ودوائر العرض:
أ	الظواهر الطبيعية
ب	الاحداثيات
ج	الخريطة
د	شبكة الإحداثيات

تابع خلف الورقة

**السؤال الثاني: ضع إشارة ( √ ) أمام الإجابة الصحيحة وإشارة ( × ) أمام الإجابة الخاطئة:**

١	اختلاف المعلومات التي تقدمها الخرائط أدى الى تنوعها.
٢	يحدد إطار الخريطة بعد الانتهاء من رسمها
٣	يحتوي مفتاح الخريطة على مجموعة من الرموز والمصطلحات
٤	يستعمل الخيط في قياس المسافات المتعرجة
٥	يرمز لاتجاه الخريطة غالبًا بمؤشر يشير إلى الجنوب في أعلى الخريطة أو أسفلها
٦	تحتاج الصورة الجوية إلى مفتاح ورموز
٧	أنواع الصور الجوية: الصور الجوية الرأسية والصور الجوية المائلة
٨	ينقسم نظام تحديد المواقع العالمي إلى أربع أقسام
٩	الرفع هو نقل المعلومات من الخريطة إلى الطبيعة
١٠	علم المساحة أساس مهم في معظم المشروعات الهندسية
١١	يساعد علم المساحة في معرفة ارتفاعات النقط المختلفة على سطح الأرض وانخفاضاتها مقارنة ببعض أو بأي مستوى أفقي معلوم.
١٢	تنقسم المساحة المستوية إلى: المساحة الطبوغرافية والمساحة التفصيلية
١٣	عملية "الرفع" المساحي تسبق عملية "التوقيع" عند إنشاء خريطة جديدة لمنطقة ما.
١٤	المساحة المستوية "تحديد نقط على سطح الأرض للمساحات الشاسعة"
١٥	الصور الجوية الراسية تغطي مساحات كبيرة
١٦	من استعمالات الصور الجوية تحديد المواقع الأثرية
١٧	نستفيد من علم المساحة في دراسة الشكل العام لسطح الأرض
١٨	تستخدم المساحة الملاحية لضمان سلامة حركة السفن في البحار والمحيطات.

الاسم

١	أ	ب	ج	د	٧	أ	ب	ج	د
٢	أ	ب	ج	د	٨	أ	ب	ج	د
٣	أ	ب	ج	د	٩	أ	ب	ج	د
٤	أ	ب	ج	د	١٠	أ	ب	ج	د
٥	أ	ب	ج	د	١١	أ	ب	ج	د
٦	أ	ب	ج	د	١٢	أ	ب	ج	د
١	أ	ب	ج	د	٧	أ	ب	ج	د
٢	أ	ب	ج	د	٨	أ	ب	ج	د
٣	أ	ب	ج	د	٩	أ	ب	ج	د
٤	أ	ب	ج	د	١٠	أ	ب	ج	د
٥	أ	ب	ج	د	١١	أ	ب	ج	د
٦	أ	ب	ج	د	١٢	أ	ب	ج	د
١٣	أ	ب	ج	د	١٣	أ	ب	ج	د
١٤	أ	ب	ج	د	١٤	أ	ب	ج	د
١٥	أ	ب	ج	د	١٥	أ	ب	ج	د
١٦	أ	ب	ج	د	١٦	أ	ب	ج	د
١٧	أ	ب	ج	د	١٧	أ	ب	ج	د
١٨	أ	ب	ج	د	١٨	أ	ب	ج	د

انتهت الأسئلة