

تم تحميل وعرض المادة من

# منهجي

mnhaji.com



موقع منهجي منصة تعليمية توفر كل ما يحتاجه المعلم  
والطالب من حلول الكتب الدراسية وشرح للدروس  
بأسلوب مبسط لكافة المراحل التعليمية وتوزيع  
المناهج وتحضير وملخصات ونماذج اختبارات وأوراق  
عمل جاهزة للطباعة والتحميل بشكل مجاني

حمل تطبيق منهجي ليصلك كل جديد



اسم الطالب/ة.....

الصف/ الثاني الابتدائي

المادة/ العلوم

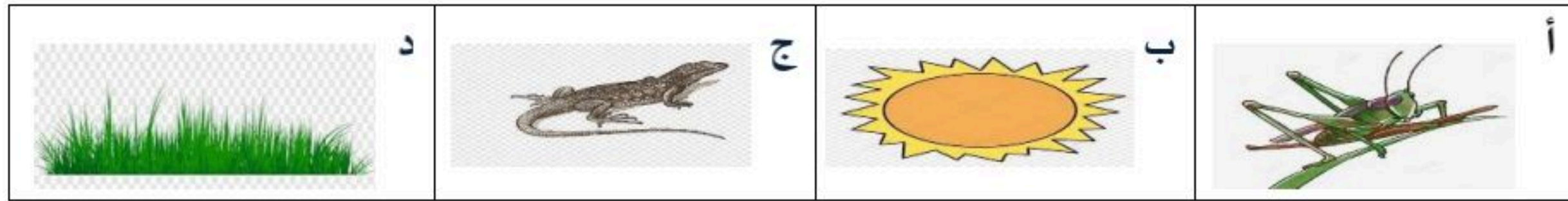


موقع منهجي  
mnhaji.com

تقويم ختامي لمهارات علوم الصف الثاني \_ الفصل الدراسي الاول لعام ١٤٤٨ هـ

\* / نضع علامة (  $\frac{1}{4}$  ) تحت الأجوبة الصحيحة :

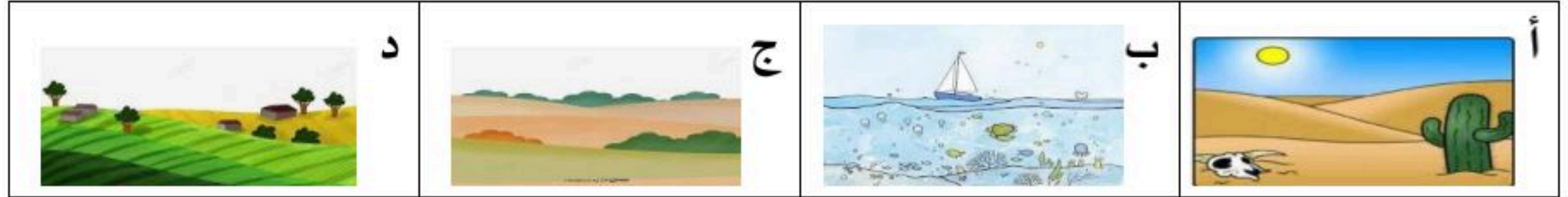
١ / أي المراحل التالية تمثل بداية السلسلة الغذائية :



٢ / كيف تختلف النباتات عن باقي المخلوقات ؟

د	ج	ب	أ
تنتج غذاءها من الشمس	تحتاج للماء لتعيش	تحتاج للهواء لتنمو	تحتل مكان صغير


٣ / أي من هذه المواطن تعيش فيها السحلية :



٤ / مالخاصية التي ساعدت الدب القطبي على العيش في المنطقة القطبية :

د	ج	ب	أ
الاسنان الحادة	الحراشيف	العيون الحادة	الفرو السميك


٥ / المرحلة الأخيرة من دورة حياة الفراشة هي :



يتبع



• نرتب دورة حياة الفاصولياء



\*نُرتب حيوانات السلسلة الغذائية من ١ - ٤



\*كيف نعرف أن الشيء مخلوق حي؟

١- ..... ٢- ..... ٣- ..... ٤- .....

نضع كل كلمة تحت مكانها الصحيح:

تعيش الحيوانات التالية في المواطن (صحراء - غابة - صحراء باردة - غابة مطيرة)

