

تم تحميل وعرض المادة من

منهجي

mnhaji.com



موقع منهجي منصة تعليمية توفر كل ما يحتاجه المعلم
والطالب من حلول الكتب الدراسية وشرح للدروس
بأسلوب مبسط لكافة المراحل التعليمية وتوزيع
المناهج وتحضير وملخصات ونماذج اختبارات وأوراق
عمل جاهزة للطباعة والتحميل بشكل مجاني

حمل تطبيق منهجي ليصلك كل جديد



20

اسم الطالب:..... الصف:

السؤال الأول: ضع علامة صح أمام العبارة الصحيحة وعبارة خطأ أمام العبارة الخاطئة:

10

- 1- أجهزة الالتقاط مخصصة لالتقاط الصوت فقط. ()
- 2- ملفات النصوص أكبر حجماً من ملفات الفيديو. ()
- 3- كل ما يعرض في الإنترنت من صور وفيديو يعتبر مجاني بلا حقوق ملكية. ()
- 4- عند البحث عن الصور لا أستطيع تحديد الحجم أو اللون أو النوع من أدوات البحث. ()
- 5- الخوارزمية هي مجموعة من التعليمات المتسلسلة والخاصة بحل مشكلة أو إكمال مهمة معينة. ()
- 6- يسمى منشئ البرنامج: مبرمجاً ومهندس برمجيات ومطور برمجيات. ()
- 7- الكائن في سكراتش يمكن أن يكون نصاً أو صورة أو رسمة. ()
- 8- معظم الكائنات لها مظاهر تجعلها تبدو وكأنها تقوم بحركات مختلفة ()
- 9- توجد لبنة (إذا () ثم (if () then) ضمن فئة لبنات (الأحداث) صفراء اللون. ()
- 10- تنتمي لبنة (ارتد إذا كنت عند الحافة) للبنات الحركة زرقاء اللون. ()

السؤال الثاني: اختر الإجابة الصحيحة:

10

1- لحفظ الصور أضغط عليها بزر الفأرة الأيمن وأختار:	أ- فتح.	ب- حذف.	ج- حفظ الصورة.
2- يستخدم برنامج صور مايكروسوفت لإنشاء وتحرير.....	أ- جداول الإكسل.	ب- مقاطع الفيديو.	ج- عروض البوربوينت.
3- أكبر وحدات الحجم هي:	أ- جيجا بايت.	ب- كيلو بايت.	ج- ميغا بايت.
4- عند البحث عن الصور أستطيع تحديد:	أ- الحجم واللون.	ب- النوع.	ج- جميع ما سبق.
5- لتكرار الكائن في سكراتش نضغط عليه باليمين ونختار:	أ- تصدير.	ب- مضاعفة.	ج- حذف.
6- نستخدم دائماً مع لبنة (اسأل () وانتظر) لبنة:	أ- (الإجابة answer)	ب- اتجه نحو الاتجاه.	ج- تحرك () خطوة.
7- لجعل الكائن يرتد عند لمس الحافة نستعمل لبنة:	أ- كرر باستمرار.	ب- تحرك () خطوة.	ج- ارتد إذا كنت عند الحافة.
8- لبنات التكرار توجد ضمن فئة:	أ- الصوت.	ب- التحكم.	ج- الصوت.
9- أكثر اللبئات استخدام في سكراتش هي لبنة:	أ- لبنة كرر باستمرار.	ب- لبنة المظهر التالي.	ج- انتظر () ثانية.
10- الزر الافتراضي لللبنة مفتاح () مضغوط هو زر:	أ- مفتاح الإدخال Enter.	ب- مفتاح شفت Shift.	ج- مفتاح المسافة.

نموذج الإجابة

اسم الطالب: الصف:

20

السؤال الأول: ضع علامة صح أمام العبارة الصحيحة وعبارة خطأ أمام العبارة الخاطئة:

- 1- أجهزة الالتقاط مخصصة لالتقاط الصوت فقط. (خطأ)
- 2- ملفات النصوص أكبر حجماً من ملفات الفيديو. (خطأ)
- 3- كل ما يعرض في الإنترنت من صور وفيديو يعتبر مجاني بلا حقوق ملكية. (خطأ)
- 4- عند البحث عن الصور لا أستطيع تحديد الحجم أو اللون أو النوع من أدوات البحث. (خطأ)
- 5- الخوارزمية هي مجموعة من التعليمات المتسلسلة والخاصة بحل مشكلة أو إكمال مهمة معينة. (صح)
- 6- يسمى منشئ البرنامج: مبرمجاً ومهندس برمجيات ومطور برمجيات. (صح)
- 7- الكائن في سكراتش يمكن أن يكون نصاً أو صورة أو رسمة. (صح)
- 8- معظم الكائنات لها مظاهر تجعلها تبدو وكأنها تقوم بحركات مختلفة. (صح)
- 9- توجد لبنة (إذا () ثم (if () then) ضمن فئة لبنات (الأحداث) صفراء اللون. (خطأ)
- 10- تنتمي لبنة (ارتد إذا كنت عند الحافة) للبنات الحركة زرقاء اللون. (صح)

10

السؤال الثاني: اختر الإجابة الصحيحة:

10

1- لحفظ الصور أضغط عليها بزر الفأرة الأيمن وأختار:	أ- فتح.	ب- حذف.	ج- حفظ الصورة.
2- يستخدم برنامج صور مايكروسوفت لإنشاء وتحرير.....	أ- جداول الإكسل.	ب- مقاطع الفيديو.	ج- عروض البوربوينت.
3- أكبر وحدات الحجم هي:	أ- جيجا بايت.	ب- كيلو بايت.	ج- ميغا بايت.
4- عند البحث عن الصور أستطيع تحديد:	أ- الحجم واللون.	ب- النوع.	ج- جميع ما سبق.
5- لتكرار الكائن في سكراتش نضغط عليه باليمين ونختار:	أ- تصدير.	ب- مضاعفة.	ج- حذف.
6- نستخدم دائماً مع لبنة (اسأل () وانتظر) لبنة:	أ- (الإجابة answer)	ب- اتجه نحو الاتجاه.	ج- تحرك () خطوة.
7- لجعل الكائن يرتد عند لمس الحافة نستعمل لبنة:	أ- كرر باستمرار.	ب- تحرك () خطوة.	ج- ارتد إذا كنت عند الحافة.
8- لبنات التكرار توجد ضمن فئة:	أ- الصوت.	ب- التحكم.	ج- الصوت.
9- أكثر اللبنة استخدام في سكراتش هي لبنة:	أ- لبنة كرر باستمرار.	ب- لبنة المظهر التالي.	ج- انتظر () ثانية.
10- الزر الافتراضي لللبنة مفتاح () مضغوط هو زر:	أ- مفتاح الإدخال Enter.	ب- مفتاح شفت Shift.	ج- مفتاح المسافة.

اختبار الفترة الثانية لمادة **المهارات الرقمية** للصف الخامس ابتدائي الفصل الدراسي الأول ١٤٤٨ هـ

اسم الطالبة: الصف:

١١

اختاري الإجابة الصحيحة:



١- نستطيع في برنامج الورد ادراج:			
أ	الصور	ب	الأشكال
ج	جميع ما سبق		
٢- من أجهزة الالتقاط التي تستخدم للصوت			
أ	الكاميرا الرقمية	ب	الميكروفون
ج	الماسح الضوئي		
٣- يمكن إضافة كائن في سكراتش من خلال			
أ	جهاز الحاسب	ب	مكتبة سكراتش
ج	جميع ما سبق		
٤- هو مجموعة من التعليمات المكتوبة بإحدى لغات البرمجة ينفذها الحاسب			
أ	برنامج الحاسب	ب	الطابعة
ج	الشاشة		
٥- لحذف الكلمات والجمل في الورد نستخدم زر			
أ	Enter	ب	Tab
ج	Delete - BackSpace		

ضعي علامة أو أمام العبارات التالية:

	١- يفيد ادراج الصور والاشكال في جعل المستند اكثر جاذبية
	٢- لانستطيع الكتابة داخل مجموعة الاشكال وتنسيقها
	٣- يزداد وضوح الصورة كلما كان حجمها اكبر
	٤- المسافة البادئة تعني المسافة بين الاسطر والكلمات
	٥- الرسومات التوضيحية تجعل المستند اكثر تعقيدا ويصعب فهمه
	٦- أجهزة الالتقاط مخصصة لالتقاط الصوت فقط

رتبي وحدات القياس التالية من الأصغر إلى الأكبر:




بايت

كيلو بايت

ميغا بايت

جيجا بايت

تيرا بايت



وصلي بالأرقام ما يناسب:



١- يعرض خطوات غير متسلسلة.

٢- يستعمل لإنشاء مخطط منظم / هيكل تنظيمي.

٣- يعرض علاقة متناسقة مع الترتيب من الأعلى أو الأسفل.

٤- للمقارنة أو لعرض العلاقة بين فكرتين.

انتهت الاسئلة

أرجو لكن التوفيق

نموذج الإجابة

اختبار الفترة الثانية لمادة المهارات الرقمية للصف الخامس ابتدائي الفصل الدراسي الأول ١٤٤٨ هـ

اسم الطالبة: الصف:

١١

اختاري الإجابة الصحيحة:



١- نستطيع في برنامج الورد ادراج:			
أ	الصور	ب	الأشكال
ج	جميع ما سبق		
٢- من أجهزة الالتقاط التي تستخدم للصوت			
أ	الكاميرا الرقمية	ب	الميكروفون
ج	الماسح الضوئي		
٣- يمكن إضافة كائن في سكراتش من خلال			
أ	جهاز الحاسب	ب	مكتبة سكراتش
ج	جميع ما سبق		
٤- هو مجموعة من التعليمات المكتوبة بإحدى لغات البرمجة ينفذها الحاسب			
أ	برنامج الحاسب	ب	الطابعة
ج	الشاشة		
٥- لحذف الكلمات والجمل في الورد نستخدم زر			
أ	Enter	ب	Tab
ج	Delete - BackSpace		

ضعي علامة أو أمام العبارات التالية:



<input checked="" type="checkbox"/>	١- يفيد ادراج الصور والاشكال في جعل المستند اكثر جاذبية
<input type="checkbox"/>	٢- لانستطيع الكتابة داخل مجموعة الاشكال وتنسيقها
<input checked="" type="checkbox"/>	٣- يزداد وضوح الصورة كلما كان حجمها اكبر
<input type="checkbox"/>	٤- المسافة البادئة تعني المسافة بين الاسطر والكلمات
<input type="checkbox"/>	٥- الرسومات التوضيحية تجعل المستند اكثر تعقيدا ويصعب فهمه
<input type="checkbox"/>	٦- أجهزة الالتقاط مخصصة لالتقاط الصوت فقط

رتبي وحدات القياس التالية من الأصغر إلى الأكبر:



بايت

كيلو بايت

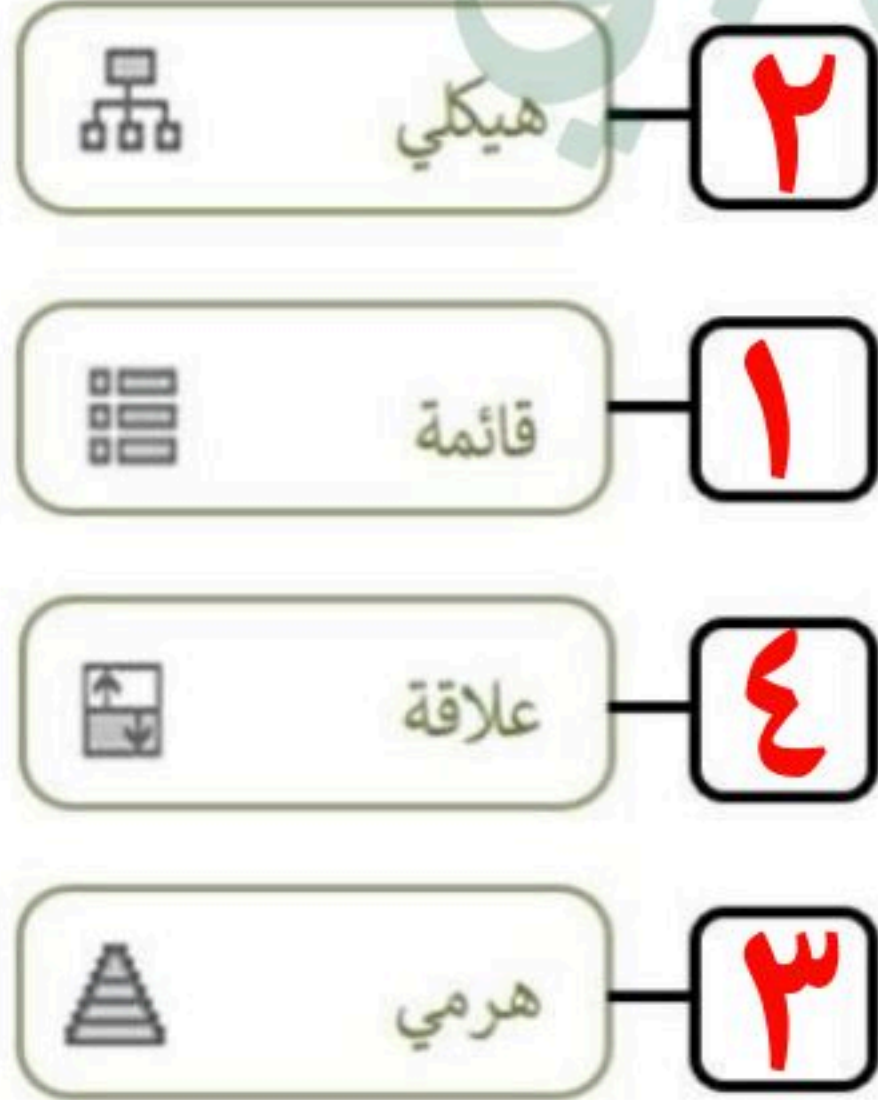
ميغا بايت

جيجا بايت

تيرا بايت



وصلي بالأرقام ما يناسب:



١- يعرض خطوات غير متسلسلة.

٢- يستعمل لإنشاء مخطط منظم / هيكل تنظيمي.

٣- يعرض علاقة متناسقة مع الترتيب من الأعلى أو الأسفل.

٤- للمقارنة أو لعرض العلاقة بين فكرتين.

انتهت الاسئلة

أرجو لكن التوفيق

الاسم : _____

الصف : _____

اختبار الفترة الثانية الفصل الدراسي الأول - مادة المهارات الرقمية - الصف الخامس الابتدائي

٢٠

اختباري الإجابة الصحيحة :

١	أي من التالي يُعد مثالاً على الوسائط المتعددة ؟
أ-	نص فقط
ب-	صوت وصورة وفيديو
ج-	رقم هاتف
٢	ما البرنامج الذي يستخدم لإنشاء القصص المصورة والعروض التفاعلية ؟
أ-	وورد
ب-	سكراتش
ج-	الآلة الحاسبة
٣	الصوت يُعتبر من أنواع:
أ-	الوسائط المتعددة
ب-	الملفات النصية
ج-	البرامج التعليمية
٤	الصيغة المستخدمة غالباً لحفظ الصور هي:
أ-	MP3
ب-	JPG
ج-	DOCX
٥	تستخدم خاصية السحب والإفلات في سكراتش لـ:
أ-	كتابة رسالة
ب-	تحريك المقاطع البرمجية
ج-	تغيير اللغة
٦	أيقونة العلم الأخضر في سكراتش تُستخدم لـ:
أ-	بدء تشغيل المشروع
ب-	حذف الكائن
ج-	تغيير الخلفية
٧	من أمثلة ملفات الفيديو:
أ-	PNG
ب-	MP4
ج-	PDF
٨	الكائن في سكراتش هو:
أ-	الخلفية فقط
ب-	العنصر الذي يتحرك ويتفاعل
ج-	العنوان الرئيسي
٩	أوامر الحركة في سكراتش تُستخدم لـ:
أ-	تغيير الصوت
ب-	تغيير الألوان
ج-	تحريك الكائن
١٠	الوسائط المتعددة تُستخدم في:
أ-	الألعاب والعروض التعليمية
ب-	الحسابات الرياضية فقط
ج-	كتابة النصوص فقط

ضعي علامة صح أمام العبارة الصحيحة وعبارة خطأ أمام العبارة الخاطئة:

١. تعد الصور جزءاً من الوسائط المتعددة ()
٢. لا يمكن إضافة صوت إلى العروض التقديمية ()
٣. في سكراتش يمكن للكائن تنفيذ عدة أوامر برمجية ()
٤. تعد الفيديوهات من عناصر الوسائط المتعددة ()
٥. الواجهة في سكراتش تحتوي على المقاطع البرمجية والكائنات والخلفيات ()
٦. زر العلم الأخضر يستخدم لإيقاف المشروع ()
٧. يمكن تغيير خلفية المسرح في سكراتش بسهولة ()
٨. ملف MP3 هو ملف صوت ()
٩. يمكن للكائن في سكراتش أن يتحدث باستخدام فقاعات الكلام ()
١٠. لا يمكن استخدام الوسائط المتعددة في التعليم ()

انتهت الأسئلة

أرجو لكم دوام التوفيق والنجاح

موقع منهجي 
mnhaji.com

نهوذج الإجابة

الاسم : _____

اختبار الفترة الثانية الفصل الدراسي الأول - مادة المهارات الرقمية - الصف الخامس الابتدائي

٢٠

اختاري الإجابة الصحيحة :

١	أي من التالي يُعد مثالاً على الوسائط المتعددة ؟
أ-	نص فقط
ب-	صوت وصورة وفيديو
ج-	رقم هاتف
٢	ما البرنامج الذي يستخدم لإنشاء القصص المصورة والعروض التفاعلية ؟
أ-	وورد
ب-	سكراتش
ج-	الألة الحاسبة
٣	الصوت يُعتبر من أنواع:
أ-	الوسائط المتعددة
ب-	الملفات النصية
ج-	البرامج التعليمية
٤	الصيغة المستخدمة غالباً لحفظ الصور هي:
أ-	MP3
ب-	JPG
ج-	DOCX
٥	تستخدم خاصية السحب والإفلات في سكراتش لـ:
أ-	كتابة رسالة
ب-	تحريك المقاطع البرمجية
ج-	تغيير اللغة
٦	أيقونة العلم الأخضر في سكراتش تُستخدم لـ:
أ-	بدء تشغيل المشروع
ب-	حذف الكائن
ج-	تغيير الخلفية
٧	من أمثلة ملفات الفيديو:
أ-	PNG
ب-	MP4
ج-	PDF
٨	الكائن في سكراتش هو:
أ-	الخلفية فقط
ب-	العنصر الذي يتحرك ويتفاعل
ج-	العنوان الرئيسي
٩	أوامر الحركة في سكراتش تُستخدم لـ:
أ-	تغيير الصوت
ب-	تغيير الألوان
ج-	تحريك الكائن
١٠	الوسائط المتعددة تُستخدم في:
أ-	الألعاب والعروض التعليمية
ب-	الحسابات الرياضية فقط
ج-	كتابة النصوص فقط



ضعي علامة صح أمام العبارة الصحيحة وعبارة خطأ أمام العبارة الخاطئة:

١. تعد الصور جزءاً من الوسائط المتعددة (✓)
٢. لا يمكن إضافة صوت إلى العروض التقديمية (✗)
٣. في سكراتش يمكن للكائن تنفيذ عدة أوامر برمجية (✓)
٤. تعد الفيديوهات من عناصر الوسائط المتعددة (✓)
٥. الواجهة في سكراتش تحتوي على المقاطع البرمجية والكائنات والخلفيات (✓)
٦. زر العلم الأخضر يستخدم لإيقاف المشروع (✗)
٧. يمكن تغيير خلفية المسرح في سكراتش بسهولة (✓)
٨. ملف MP3 هو ملف صوت (✓)
٩. يمكن للكائن في سكراتش أن يتحدث باستخدام فقاعات الكلام (✓)
١٠. لا يمكن استخدام الوسائط المتعددة في التعليم (✗)

انتهت الأسئلة

أرجو لكم دوام التوفيق والنجاح

اختبار المهارات الرقمية الفترة الثانية للفصل الدراسي الأول لعام 1448 هـ للصف
الخامس الابتدائي

10

اسم الطالبة: الصف:
 طالبتي مبرمجة المستقبل تذكري ان التفوق في مجال التكنولوجيا يعزز شعور الفخر

السؤال الأول / اختاري الإجابة الصحيحة لكل من العبارات التالية :

1	أي من التالي يُعد مثلاً على الوسائط المتعددة؟
نص فقط	صوت وصورة وفيديو
ج- رقم هاتف	
2	ما البرنامج الذي يستخدم لإنشاء القصص المصورة والعروض التفاعلية؟
وورد	سكراتش
ج- الآلة الحاسبة	
3	الصوت يُعتبر من أنواع:
الملفات النصية	الوسائط المتعددة
ج- البرامج التعليمية	
4	الصيغة المستخدمة غالباً لحفظ الصور هي:
MP3	JPG
DOCX	
5	الوسائط المتعددة تُستخدم في:
أ_ الألعاب والعروض التعليمية	ب_ الحسابات الرياضية فقط
ج- كتابة النصوص فقط	

السؤال الثاني- أ / ضع علامة (√) أو (X) أمام العبارات التالية:

5

1	لا يمكن إضافة صوت إلى العروض التقديمية
2	تعد الفيديوهات من عناصر الوسائط المتعددة
3	ملف MP3 هو ملف صوت
4	لا يمكن استخدام الوسائط المتعددة في التعليم
5	لا يمكن ادراج صور من الانترنت

أنتم الأمل بمستقبل أفضل، مُباركة جهودكم، وبالنجاح للجميع.
 انتهت الأسئلة

معلمة المادة : أنير التويجري

نموذج الإجابة

اختبار المهارات الرقمية الفترة الثانية للفصل الدراسي الأول لعام 1448 هـ للصف
الخامس الابتدائي

10

اسم الطالبة: الصف:
طالبتي مبرمجة المستقبل تذكري ان التفوق في مجال التكنولوجيا يعزز شعور الفخر

السؤال الأول / اختاري الإجابة الصحيحة لكل من العبارات التالية :

5

1	أي من التالي يُعد مثلاً على الوسائط المتعددة؟	
	نص فقط	صوت وصورة وفيديو
2	ما البرنامج الذي يستخدم لإنشاء القصص المصورة والعروض التفاعلية؟	
	وورد	سكراتش
3	الصوت يُعتبر من أنواع:	
	الملفات النصية	الوسائط المتعددة
4	الصيغة المستخدمة غالباً لحفظ الصور هي:	
	MP3	JPG
5	الوسائط المتعددة تُستخدم في:	
	أ_ الألعاب والعروض التعليمية	ب_ الحسابات الرياضية فقط
		ج- كتابة النصوص فقط

السؤال الثاني- أ / ضع علامة (√) أو (X) أمام العبارات التالية:

5

1	لا يمكن إضافة صوت إلى العروض التقديمية	X
2	تعد الفيديوهات من عناصر الوسائط المتعددة	✓
3	ملف MP3 هو ملف صوت	✓
4	لا يمكن استخدام الوسائط المتعددة في التعليم	X
5	لا يمكن ادراج صور من الانترنت	X

أنتم الأمل بمستقبل أفضل، مُباركة جهودكم، وبالنجاح للجميع.
انتهت الأسئلة

معلمة المادة : أثير التويجري



السؤال الأول: اختر الإجابة الصحيحة:

1	أي من التالي يُعد مثالاً على الوسائط المتعددة؟
أ-	نص فقط
ب-	صوت وصورة وفيديو
ج-	رقم هاتف
2	ما البرنامج الذي يستخدم لإنشاء القصص المصورة والعروض التفاعلية؟
أ-	وورد
ب-	سكراتش
ج-	الآلة الحاسبة
3	الصوت يُعتبر من أنواع:
أ-	الوسائط المتعددة
ب-	الملفات النصية
ج-	البرامج التعليمية
4	الصيغة المستخدمة غالبًا لحفظ الصور هي:
أ-	MP3
ب-	JPG
ج-	DOCX
5	تستخدم خاصية السحب والإفلات في سكراتش لـ:
أ-	كتابة رسالة
ب-	تحريك المقاطع البرمجية
ج-	تغيير اللغة
6	أيقونة العلم الأخضر في سكراتش تُستخدم لـ:
أ-	بدء تشغيل المشروع
ب-	حذف الكائن
ج-	تغيير الخلفية
7	من أمثلة ملفات الفيديو:
أ-	PNG
ب-	MP4
ج-	PDF
8	الكائن في سكراتش هو:
أ-	الخلفية فقط
ب-	العنصر الذي يتحرك ويتفاعل
ج-	العنوان الرئيسي
9	أوامر الحركة في سكراتش تُستخدم لـ:
أ-	تغيير الصوت
ب-	تغيير الألوان
ج-	تحريك الكائن
10	الوسائط المتعددة تُستخدم في:
أ-	الألعاب والعروض التعليمية
ب-	الحسابات الرياضية فقط
ج-	كتابة النصوص فقط

السؤال الأول: ضع علامة صح أمام العبارة الصحيحة وعبارة خطأ أمام العبارة الخاطئة:

()	تعد الصور جزءًا من الوسائط المتعددة.	1
()	في سكراتش يمكن للكائن تنفيذ عدة أوامر برمجية	2
()	تعد الفيديوهات من عناصر الوسائط المتعددة.	3
()	لا يمكن إضافة صوت إلى العروض التقديمية.	4
()	زر العلم الأخضر يستخدم لإيقاف المشروع .	5
()	الواجهة في سكراتش تحتوي على المقاطع البرمجية والكائنات والخلفيات.	6
()	ملف MP3 هو ملف صوتي.	7
()	لا يمكن استخدام الوسائط المتعددة في التعليم	8
()	يمكننا تغيير خلفية المسرح في سكراتش بسهولة	9
()	يمكن للكائن في سكراتش أن يتحدث باستخدام فقاعات الكلام	10

نموذج الإجابة

السؤال الأول: اختر الإجابة الصحيحة:

1	أي من التالي يُعد مثالاً على الوسائط المتعددة ؟
أ-	نص فقط
ب-	صوت وصورة وفيديو
ج-	رقم هاتف
2	ما البرنامج الذي يستخدم لإنشاء القصص المصورة والعروض التفاعلية ؟
أ-	وورد
ب-	سكراتش
ج-	الآلة الحاسبة
3	الصوت يُعتبر من أنواع:
أ-	الوسائط المتعددة
ب-	الملفات النصية
ج-	البرامج التعليمية
4	الصيغة المستخدمة غالباً لحفظ الصور هي:
أ-	MP3
ب-	JPG
ج-	DOCX
5	تستخدم خاصية السحب والإفلات في سكراتش لـ:
أ-	كتابة رسالة
ب-	تحريك المقاطع البرمجية
ج-	تغيير اللغة
6	أيقونة العلم الأخضر في سكراتش تُستخدم لـ:
أ-	بدء تشغيل المشروع
ب-	حذف الكائن
ج-	تغيير الخلفية
7	من أمثلة ملفات الفيديو:
أ-	PNG
ب-	MP4
ج-	PDF
8	الكائن في سكراتش هو:
أ-	الخلفية فقط
ب-	العنصر الذي يتحرك ويتفاعل
ج-	العنوان الرئيسي
9	أوامر الحركة في سكراتش تُستخدم لـ:
أ-	تغيير الصوت
ب-	تغيير الألوان
ج-	تحريك الكائن
10	الوسائط المتعددة تُستخدم في:
أ-	الألعاب والعروض التعليمية
ب-	الحسابات الرياضية فقط
ج-	كتابة النصوص فقط

(✓)	تعد الصور جزءًا من الوسائط المتعددة.	1
(✓)	في سكراتش يمكن للكائن تنفيذ عدة أوامر برمجية	2
(✓)	تعد الفيديوها من عناصر الوسائط المتعددة.	3
(×)	لا يمكن إضافة صوت إلى العروض التقديمية.	4
(×)	زر العلم الأخضر يستخدم لإيقاف المشروع .	5
(✓)	الواجهة في سكراتش تحتوي على المقاطع البرمجية والكائنات والخلفيات.	6
(✓)	ملف MP3 هو ملف صوتي.	7
(×)	لا يمكن استخدام الوسائط المتعددة في التعليم	8
(✓)	يمكننا تغيير خلفية المسرح في سكراتش بسهولة	9
(✓)	يمكن للكائن في سكراتش أن يتحدث باستخدام فقاعات الكلام	10

اسم الطالب :	الصف : خامس الابتدائي
السؤال الأول : اختر الاجابة الصحيحة :	
1- من أجهزة الالتقاط ويستخدم لتسجيل المقاطع الصوتية (الماسح الضوئي - الكاميرا - المايكرفون)	
2- اصغر وحدات قياس حجم الملفات (بايت - كيلو بايت - ميغا بايت)	
3- اكبر وحدات قياس حجم الملفات (ميغا بايت - جيجا بايت - تيرا بايت)	
4- من الوحدات التي تستخدم لقياس حجم الملفات في ذاكرة الحاسب تسمى (كيلو بايت - كيلو متر - جرام)	
5- يمكن البحث عن ملف فيديو داخل شبكة الانترنت باستخدام (قوقل - البريد الالكتروني - الرسام)	

السؤال الثاني : أجب بعلامة (✓) على الإجابة الصحيحة و علامة (⊗) على الإجابة الخاطئة
1- يمكن نقل الصور من الكاميرا الى جهاز الكمبيوتر بدون استخدام أي برامج
2- تعد حقوق النشر والطبع احد اشكال الحماية
3- تعد المراسلة الفورية طريقة شائعة للتواصل في الانترنت
4- لا يمكن حفظ مقطع الفيديو كملف على جهاز الحاسب
5- في لبنة كرر باستمرار ستنفذ الأمور الموجوده داخلها في تكرار لا نهائي

المادة : مهارات رقمية	 موقع منهجي mnhaji.com	
الصف: الخامس الابتدائي		
الفصل الدراسي الأول 1448 هـ		
إختبار الفترة الثانية		

١٠




اسم الطالبه :

السؤال الأول: ضعي علامة (√) أمام العبارة الصحيحة وعلامة (X) أمام العبارة الخاطئة:	
1	يمكن استخدام الماسح الضوئي لطباعة المستندات ()
2	يمكن معرفة نوع الملف من خلال امتداده ()
3	يختلف حجم الصور المستخدمه على المواقع الالكترونية ()
4	يزداد وضوح الصورة كلما كان حجمها اكبر ()

السؤال الثاني: اختاري الإجابة الصحيحة فيما يلي :

1	أوداسيتي هو برنامج	تحرير الصوت
2	إذا اردت ان تستمع لملف صوتي في مشغل mp3 يجب ان تحفظه بتنسيق	تحرير النصوص
3	الأداة المستخدمه لتسجيل صوتك على جهاز الحاسب	تحرير مقاطع الفيديو
	mp3	wav
	pod	
	الآداة المستخدمه لتسجيل صوتك على جهاز الحاسب	سماعات الأذن
	الفأرة	الميكروفون

السؤال الثالث : صلي الصورة في المجموعة الأولى بما يناسبها من مدلول في المجموعة الثانية

المجموعة الثانية	المجموعة الأولى
mp4	
mp3	
jpg	



اختبار الوحدة الثالثة والرابعة خامس ابتدائي

هو مجموعة من التعليمات المكتوبة بلغة البرمجة ينفذها الحاسب لتحقيق هدف معين	
هي مجموعة من التعليمات المتسلسلة والخاصة بحل مشكله او إكمال مهمه معينه	
هو مخطط بياني يستخدم لتمثيل الخوارزمية ويعرض الخطوات بتركيبتها الصحيح	


ضعي علامة ✓ او ✗ امام العبارات التالية:

	يفيد ادراج الصور والاشكال في جعل المستند اكثر جاذبية
	لاستطيع الكتابة داخل مجموعة الاشكال وتنسيقها
	يزداد وضوح الصورة كلما كان حجمها اكبر
	المسافة البادئة تعني المسافة بين الاسطر والكلمات
	الرسومات التوضيحية تجعل المستند اكثر تعقيدا ويصعب فهمه
	أجهزة الالتقاط مخصصة لالتقاط الصوت فقط

اختراري الإجابة الصحيحة:

1- يستطيع برنامج صور مايكروسوفت لانشاء وتحرير			
أ	الفيديو	ب	النصوص
ج	الصوت		
2- من أجهزة الالتقاط التي تستخدم للصوت			
أ	الكاميرا الرقمية	ب	الماسك
ج	الماسح الضوئي		
3- لاصلاح الصور وقصها نستخدم برنامج			
أ	الوورد	ب	مايكروسوفت الصور
ج	البوربوينت		
4- امتداد الملفات النصية			
أ	MP3	ب	MP4
ج	JPG		
5- لحذف الكلمات والجمل في الوورد نستخدم زر			
أ	Enter	ب	Tab
ج	Delete -BackSpace		

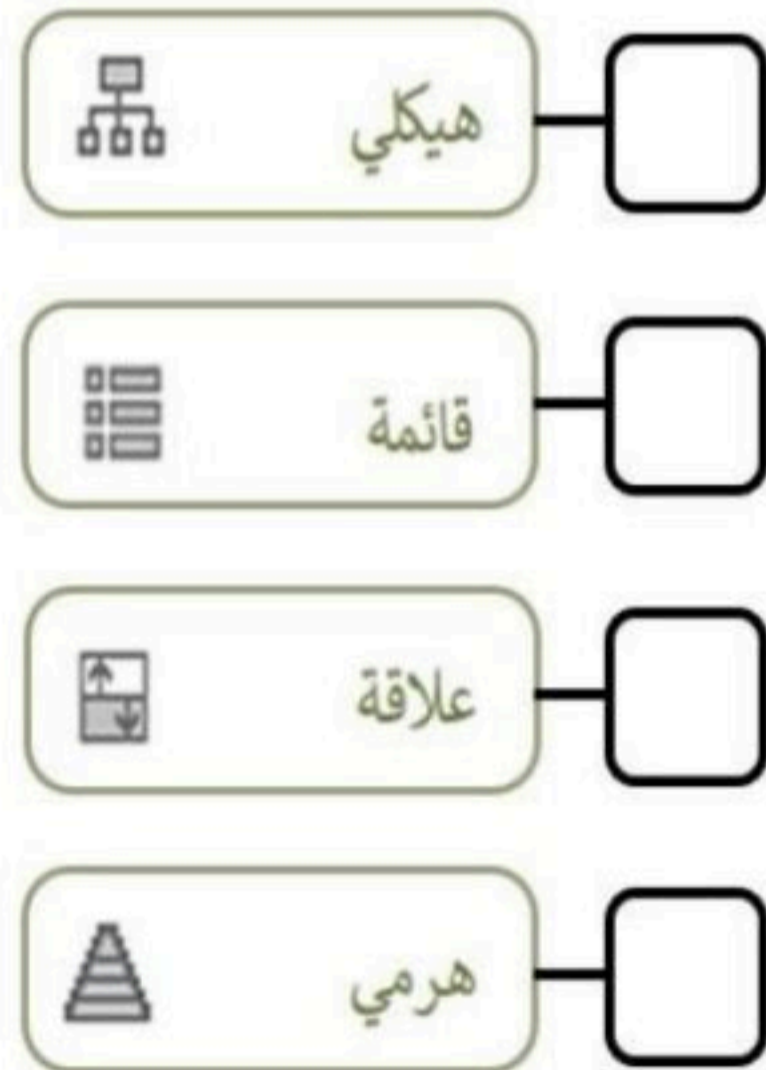
رتبي وحدات قياس حجم الملفات من الأصغر للاكبر



صلي العمود الأول بما يناسبه في العمود الثاني

		تميز نهاية العمليات
		اتخاذ قرار
		إدخال بيانات
		تنفيذ الحسابات

وصلي بالأرقام كل مخطط بما يناسبة:



- 1- يعرض خطوات غير متسلسلة.
- 2- يستعمل لإنشاء مخطط منظم / هيكل تنظيمي.
- 3- يعرض علاقة متناسقة مع الترتيب من الأعلى أو الأسفل.
- 4- للمقارنة أو لعرض العلاقة بين فكرتين.

عددي خطوات انشاء برنامج :

- (1)
- (2)
- (3)
- (4)