

تم تحميل وعرض المادة من

# منهجي

mnhaji.com



موقع منهجي منصة تعليمية توفر كل ما يحتاجه المعلم  
والطالب من حلول الكتب الدراسية وشرح للدروس  
بأسلوب مبسط لكافة المراحل التعليمية وتوزيع  
المناهج وتحضير وملخصات ونماذج اختبارات وأوراق  
عمل جاهزة للطباعة والتحميل بشكل مجاني

حمل تطبيق منهجي ليصلك كل جديد



اختبار الفترة الثانية للفصل الدراسي الأول للعام 1448هـ للصف الثاني لمادة العلوم

الاسم: ..... الصف /2

السؤال الأول : اختار الإجابة الصحيحة :

1- موطن حار وجاف يسمى :

الصحراء المحيط الغابة

2- من حيوانات الصحراء الحارة :

الدب القطبي الجمل السمكة

3- " المكان الذي تعيش فيه المخلوقات الحية وتجد غذائها "

الفريسة المفترس الموطن

4- حيوان يصطاد حيوانات أخرى ليتغذى عليها يسمى :

المفترس البيئة الموطن

5- موطن الدب القطبي هو :

حار وجاف بارد وثلوج عشبي رطب

6- السنجاب والغزال ونقار الخشب من حيوانات :

المحيط الصحراء الغابة

7- " من أشكال اليابسة "

الجبال الانهار المحيطات

8- موطن تتساقط فيه الأمطار بشكل يومي تقريباً:

القطب المتجمد الغابات المطيرة الصحراء

9- الأمطار من أمثلة الماء :

المالح السطحي العذب

10- هو أرض منخفضة واقعة بين ارتفاعين :

الوادي الجبل التل

11- هو تجمع كبير وعميق من المياه المالحة:

النهر المحيط الوادي

12- ترتيب يوضح تتابع الذي يحصل عليه المخلوق الحي على غذائه :

مفترس الفريسة السلسلة الغذائية

13- في السلسلة الغذائية التالية يتغذا الأرنب على :



الجزر الذئب الاسد

السؤال الثاني : اسمي المواطن التالية (الغابة ، الصحراء ، القطب المتجمد) :



.....-1



.....-2



.....-3

السؤال الثالث: ارتب السلسلة الغذائية التالية :



تمنياتي للجميع بدوام التفوق والنجاح

معلمات المادة: سارة مباركي & رانيا الحربي

# نموذج الإجابة

اختبار الفترة الثانية للفصل الدراسي الأول للعام 1448هـ للصف الثاني لمادة العلوم

الاسم: ..... الصف /2

السؤال الأول : اختار الإجابة الصحيحة :

1- موطن حار وجاف يسمى :

الصحراء المحيط الغابة

2- من حيوانات الصحراء الحارة :

الدب القطبي الجمل السمكة

3- " المكان الذي تعيش فيه المخلوقات الحية وتجد غذائها "

الفريسة المفترس الموطن

4- حيوان يصطاد حيوانات أخرى ليتغذى عليها يسمى :

المفترس البيئة الموطن

5- موطن الدب القطبي هو :

حار وجاف بارد وثلوج عشبي رطب

6- السنجاب والغزال ونقار الخشب من حيوانات :

المحيط الصحراء الغابة

7- " من أشكال اليابسة "

الجبال الانهار المحيطات

8- موطن تتساقط فيه الأمطار بشكل يومي تقريباً :

القطب المتجمد الغابات المطيرة الصحراء

9- الأمطار من أمثلة الماء :

المالح السطحي العذب

10- هو أرض منخفضة واقعة بين ارتفاعين :

الوادي الجبل التل

11- هو تجمع كبير وعميق من المياه المالحة :

النهر المحيط الوادي

12- ترتيب يوضح تتابع الذي يحصل عليه المخلوق الحي على غذائه :

مفترس الفريسة السلسلة الغذائية

13- في السلسلة الغذائية التالية يتغذا الأرنب على :



الجزر الذئب الاسد

السؤال الثاني : اسمي المواطن التالية (الغابة ، الصحراء ، القطب المتجمد) :



القطب المتجمد

-1



الصحراء

-2



الغابة

-3

السؤال الثالث: ارتب السلسلة الغذائية التالية :



3

1

2

تمنياتي للجميع بدوام التفوق والنجاح

موقع منهجي

mnhaji.com



اسم الطالب / ة ..... الصف:

**( أ ) نضع علامة ( √ ) أمام العبارات الصحيحة وعلامة ( X ) أمام العبارات الخاطئة :**

- ( 1 ) الموطن هو مكان تعيش فيه المخلوقات الحية . ( )
- ( 2 ) تبدأ معظم سلاسل الغذاء بالشمس . ( )
- ( 3 ) المخلوقات التي تعيش في الصحراء تحتاج الى كثير من الماء . ( )
- ( 4 ) نباتات المنطقة القطبية صغيرة وقصيرة لتحتمي من الرياح . ( )
- ( 5 ) للنباتات الصحراوية سيقان وأوراق تخزن الماء . ( )
- ( 6 ) المفترس حيوان يصطاد حيوانات أخرى ليتغذى عليها . ( )

**( ب ) نرتب السلسلة الغذائية من ( ١ - ٤ ) :**



.....



.....



.....



.....

**( ج ) صل المفردة العلمية بالعبارة المناسبة لها:**

موطن جاف حار قليل الامطار

الغابة المطيرة

موطن تتساقط فيه الامطار كل يوم

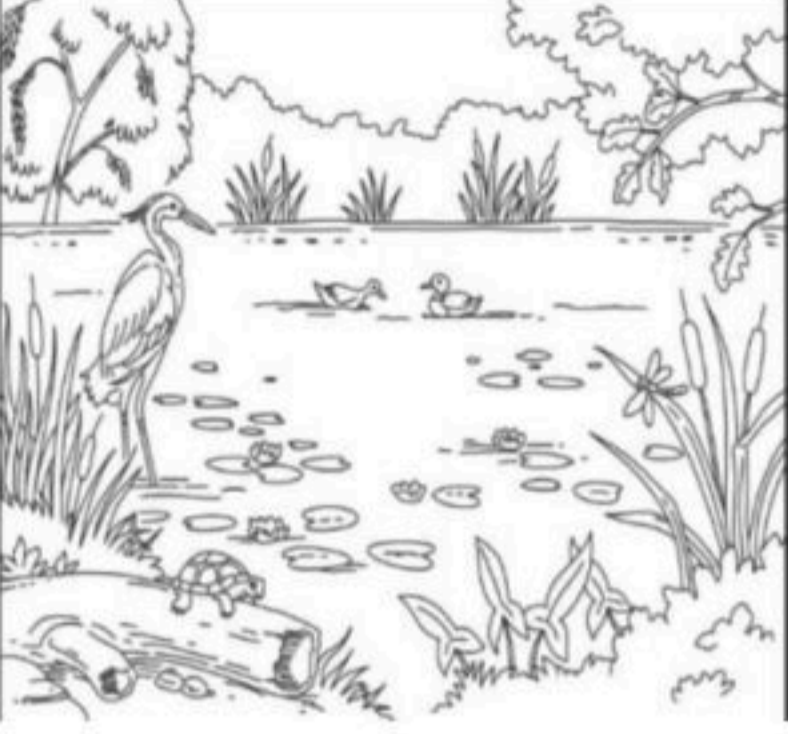
الصحراء

الذي يصطاده الحيوان المفترس

الفريسة

( د ) أى العبارات التالية تصف الموطن الذى توضحه الصورة ؟

أ- عشبي رطب      ب بارد ثلج



تمنياتي لكم بالتوفيق والنجاح

مديرة المدرسة / رانية الفاضل

معلمة المادة / أسرار الدوسري

**موقع منهجي**   
mnhaji.com

# نهوذج الإجابة

٢٠

اختبار الفترة الثانية لمادة العلوم للصف الثاني الابتدائي الفصل الدراسي الأول ١٤٤٨ هـ

الصف:

اسم الطالب / ة .....

( أ ) نضع علامة ( ✓ ) أمام العبارات الصحيحة وعلامة ( ✗ ) أمام العبارات الخاطئة :

- ( 1 ) الموطن هو مكان تعيش فيه المخلوقات الحية . ( ✓ )
- ( 2 ) تبدأ معظم سلاسل الغذاء بالشمس . ( ✓ )
- ( 3 ) المخلوقات التي تعيش في الصحراء تحتاج الى كثير من الماء . ( ✗ )
- ( 4 ) نباتات المنطقة القطبية صغيرة وقصيرة لتحتمي من الرياح ( ✓ )
- ( 5 ) للنباتات الصحراوية سيقان وأوراق تخزن الماء . ( ✓ )
- ( 6 ) المفترس حيوان يصطاد حيوانات أخرى ليتغذى عليها . ( ✓ )

( ب ) نرتب السلسلة الغذائية من ( ١ - ٤ ) :



٤



١



٣



٢

( ج ) صل المفردة العلمية بالعبارة المناسبة لها:

موطن جاف حار قليل الامطار

الغابة المطيرة

موطن تتساقط فيه الامطار كل يوم

الصحراء

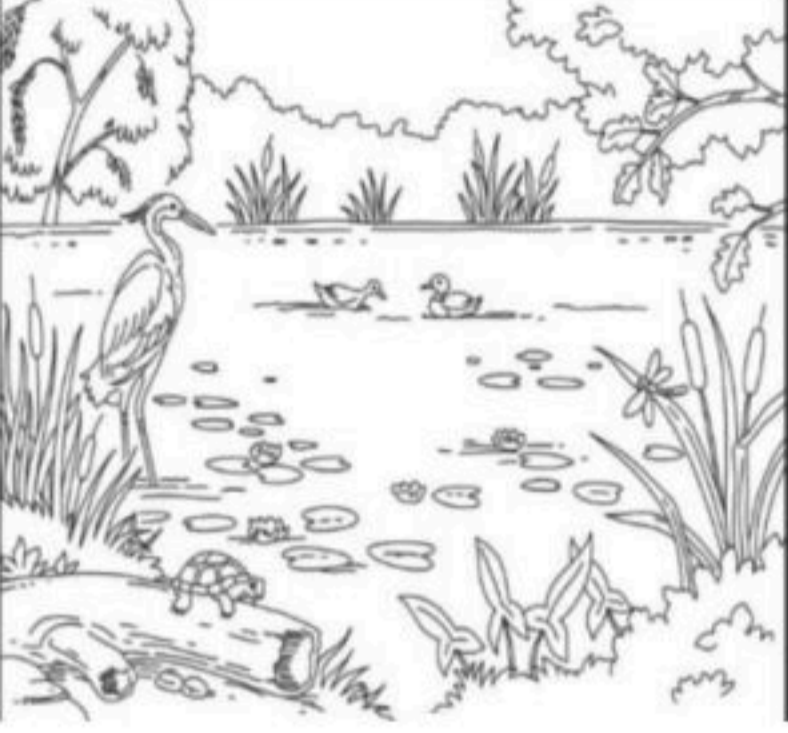
الذي يصطاده الحيوان المفترس

الفريسة

1

( د ) أى العبارات التالية تصف الموطن الذى توضحه الصورة ؟

أ- عشبي رطب      ب بارد ثلج



**موقع منهجي**   
mnhaji.com

تمنياتي لكم بالتوفيق والنجاح

مديرة المدرسة / رانية الفاضل


معلمة المادة / أسرار الدوسري

اختبار العلوم الفترة الثانية للصف الثاني لعام ١٤٤٨ هـ

اسم الطالب/ة : ..... الصف : .....

السؤال الأول / من خلال الصور التالية نحدد أشكال اليابسة :

( سهل - جبل - وادي - تلال )



.....

.....

.....

.....

السؤال الثاني /

صل مصادر المياه بطبيعتها :

السدود

مالحة

البحار

المحيطات

عذبة

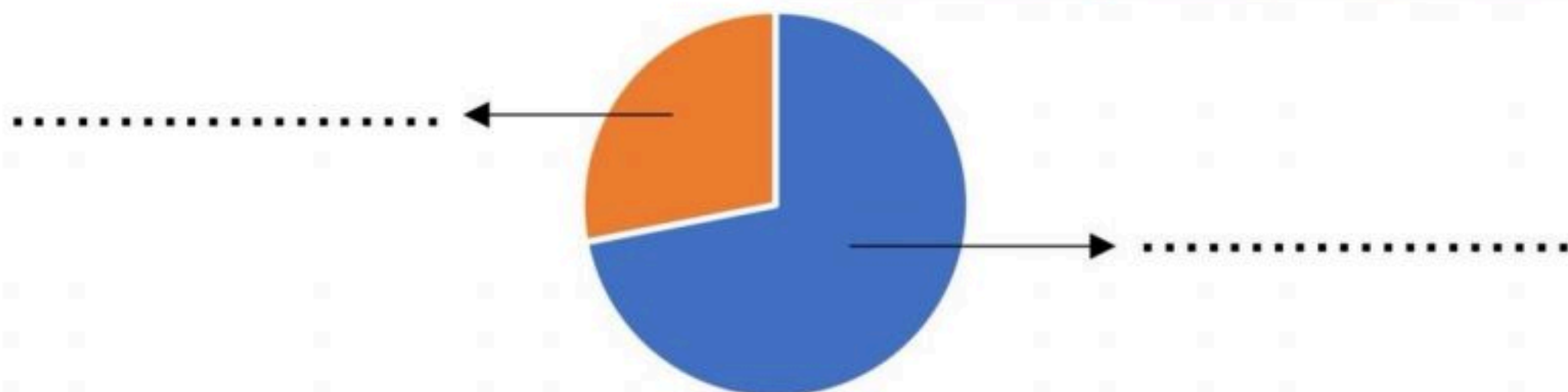
الوديان

العيون

السؤال الثالث /

( الماء - اليابسة )

اضع الكلمات التالية في مكانها المناسب:





١. ما الدور الذي يمثله كلٌّ من الطائر والدودة في الصورة المقابلة في السلسلة الغذائية؟

- الدودة في الصورة المقابلة هي.....
- الطائر في الصورة المقابلة هو.....

أرتب السلسلة الغذائية التالية بوضع الأرقام (١-٢-٣-٤) في المكان المناسب :










٢- من الحيوانات التي تعيش في الصحراء:




٣- موطن بارد جداً وجاف:

الغابة

الصحراء الحارة

المنطقة القطبية

السؤال الخامس / نصل بين كل صورة والعبارة المناسبة :



تربة زراعية ( سطحية ) فيها كثير من الدبال



تربة طينية



تربة رملية

اسم الطالب : .....

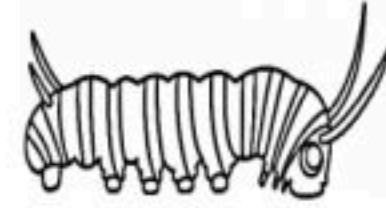
الصف : ٢ /

اختبار الفترة ٢ مادة علوم الصف الثاني الفصل الدراسي الأول لعام ١٤٤٨ هـ

السؤال الأول : ضع علامة (✓) أمام العبارة الصحيحة و علامة (✗) أمام العبارات الخاطئة ؟

( )	١- تحتاج الحيوانات للماء و الغذاء و الهواء و المأوى .
( )	٢- تقوم الجذور في النبات بصنع الغذاء .
( )	٣- الزهرة جزء النباتات الذي ينمو لينتج نباتا جديدا .
( )	٤- الموطن مكان يعيش فيه المخلوق الحي و يجد فيه حاجاته .
( )	٥- نباتات الصحاري الحارة صغيرة و قصيرة تنمو بالقرب من سطح الأرض
( )	٦- الغابة المطيرة موطن تسقط فيه الأمطار كل يوم تقريبا

السؤال الثاني : رتب دورات حياة المخلوقات الحية التالية ؟



( )

( )

( )

( )



( )

( )

( )

( )

( )

السؤال الثالث : أكمل الفراغات التالية بالكلمة المناسبة ؟

( الطريقة العلمية - دورة الحياة - البرمائيات - الفريسة - الصحراء الحارة )

١- حيوان يصطاده حيوان مفترس .

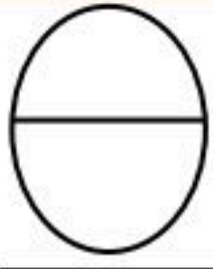
٢- تعيش فيها حيوانات الذئب و القط البري و العقرب .

٣- تبين كيف ينمو المخلوق الحي و يعيش و يتكاثر ثم يموت .

٤- ألاحظ - أسأل - أكون فرضية - اختبر الفرضية - النتائج .

٥- تبدأ دورة حياتها في الماء و جلدها رطب .

السؤال الرابع : أختار الإجابة الصحيحة فيما يلي ؟

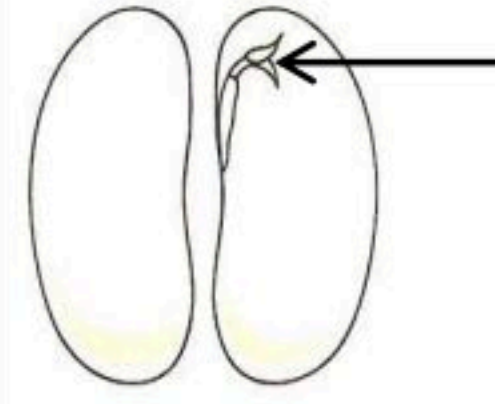


١ - يشير السهم إلى .

٠ غلاف البذرة

٠ جنين البذرة

٠ غذاء الجنين



٢ - وظيفة الورقة .

٠ نقل الماء و الغذاء

٠ امتصاص الماء و الأملاح

٠ صنع الغذاء



٣ - يستخدم الثعبان موطنه .

٠ للاختباء

٠ للنوم

٠ للمأوى



٤ - يصنف الجراد من الحشرات لأن عدد أرجله .

٠ ٥ أرجل

٠ ٦ أرجل

٠ ٧ أرجل




٥ - تعيش النمور في موطن .

٠ الصحاري الحارة

٠ الغابة

٠ الغابة المطيرة



٦ - يمثل الموطن المجاور .

٠ عشبي دافئ

٠ عشبي رطب

٠ بارد فيه ثلوج



السؤال الخامس : أجب عن الأسئلة التالية ؟


١ - نوع الموطن : .....

٢ - شيء غير حي : .....

٣ - مخلوق حي : .....

٤ - حيوان مفترس : .....

٥ - حشرة : .....



الفريسة : .....

٦ - كون سلسلة غذائية : .....

انتهت الأسئلة

موقع منهجي  
mnhaji.com



النموذج: ( أ )

اسم الطالب: .....

السؤال الأول: ضع دائرة حول الإجابة الصحيحة :

- (١) الجمل من :  
 (٢) يغطي أجسام الطيور :  
 (٣) جزء النبات الموجود تحت التربة :  
 (٤) تعيش في البر والماء تسمى:
- ( الثدييات - الزواحف )  
 ( الريش - الصوف )  
 ( جذور - أوراق )  
 ( البرمائيات - الطيور )

السؤال الثاني: أكمل الفراغات بما يناسبها: ( حية - النباتات - المعادن - الأكسجين )

- (١) النَّبَاتَاتُ مَخْلُوقَاتٌ .....، وَلَكِنْ، لَيْسَ مِنَ السَّهْلِ عَلَيْنَا مُمَاطَةُ ذَلِكَ.  
 (٢) نَحْتَاجُ إِلَى مُرَاقَبَةٍ ..... فَتَرَةً مُعَيَّنَةً؛ لِكَيْ نُمَاطُ أَنَّهَا تَنُمُو وَتَتَغَيَّرُ.  
 (٣) ..... أَجْزَاءٌ صُلْبَةٌ غَيْرُ حَيَّةٍ مِنَ التَّرْبَةِ.  
 (٤) ..... هُوَ الْغَازُ الَّذِي يَنْفَسُهُ الْإِنْسَانُ وَالْحَيَوَانَاتُ لِيَعِيشُوا.

السؤال الثالث: صل الكلمة بما يناسبها

الثدييات	البرمائيات	الطيور	الأسماك
----------	------------	--------	---------



السؤال الثالث (ضع علامة ( ✓ ) أمام العبارة الصحيحة وعلامة ( ✗ ) أمام العبارة الخاطئة :

١	الزهرة هي الجزء الذي ينمو ويصبح نباتا جديدا	( )
٢	الزواحف تغطي أجسامها الريش	( )
٣	دورة الحياة تبين كيف ينمو المخلوق الحي ويعيش ويتكاثر ويموت	( )
٤	بعض الحيوانات سميت بالفقاريات لوجود العمود الفقري	( )
٥	الثدييات تلد وترضع صغارها الحليب ويغطي جسمها الشعر	( )

السؤال الرابع: رتب الصور التالية التي تظهر دورة حياة نمو نبات الفاصولياء مستخدما الأرقام من ١ - ٤ ::



رتبي خطوات الطريقة العلمية التي يستخدمها العلماء بالتسلسل :

الاحظ	أضع خطة	أسأل	أستنتج
.....	.....	.....	.....
أعيد التجربة	أتوقع	أتبع الخطة	أسجل النتائج
.....	.....	.....	.....

لوني الدوائر التي تفسر أن النباتات مخلوقات حية:

تتكاثر	تتحدث	تنمو
تتنفس	تتحرك من مكانها	

أضع علامة (✓) أمام العبارة الصحيحة وعلامة (X) أمام العبارة الخاطئة :

- ١- تحتاج النباتات لضوء الشمس في النمو ( )
- ٢- يسمح الساق بانتقال الماء والغذاء من خلاله إلى باقي أجزاء النبتة ( )
- ٣- تساعد الأوراق على صنع الغذاء ( )
- ٤- تقوم الجذور بتثبيت النبتة في التربة ( )
- ٥- البذرة هي جزء النبات الذي ينمو ويصير نباتاً جديداً ( )
- ٦- الأوراق هي المسؤولة عن صنع الغذاء بنفسه ( )
- ٧- الحشرات تعتبر من فصيلة اللافقاريات ( )
- ٨- النباتات مخلوقات حية ( )

### أكمل الفراغ بالعبارات المناسبة :

- ١- يحتاج النبات لكي ينمو ويتغير  
إلى.....،.....،.....
- ٢- يطلق النبات عند صنع الغذاء غاز.....
- ٣- تقوم..... بتثبيت النبات في التربة
- ٤- تنمو..... وتصير نباتا جديدا

### أكمل العبارات التالية بالكلمات المناسبة :

الزهرة - حبوب اللقاح - البذرة

- ١- تنتج الزهرة مسحوق يسمى.....يساعد على إنتاج البذور.
- ٢- ..... هي التي تكون البذور والثمار في النبات .
- ٣- ..... هي جزء النبات الذي ينمو ويصير نباتا جديدا .

اكتب الرقم المناسب من العمود ( أ ) أمام الإجابة الصحيحة من العمود ( ب ):

ب	
تحمي البذرة التي بداخلها	
لها أغلفة تحميها من الجفاف	
تساعد على نقل حبوب اللقاح	

أ	
الرياح	١
الثمرة	٢
البذرة	٣


أصل كل صورة بما يناسبها :



برمئيات



أسماك



طيور



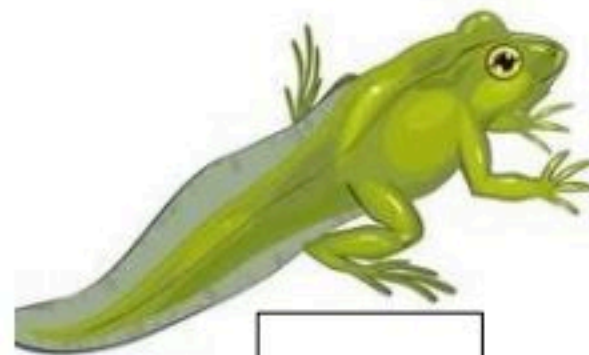
زواحف

حشرات

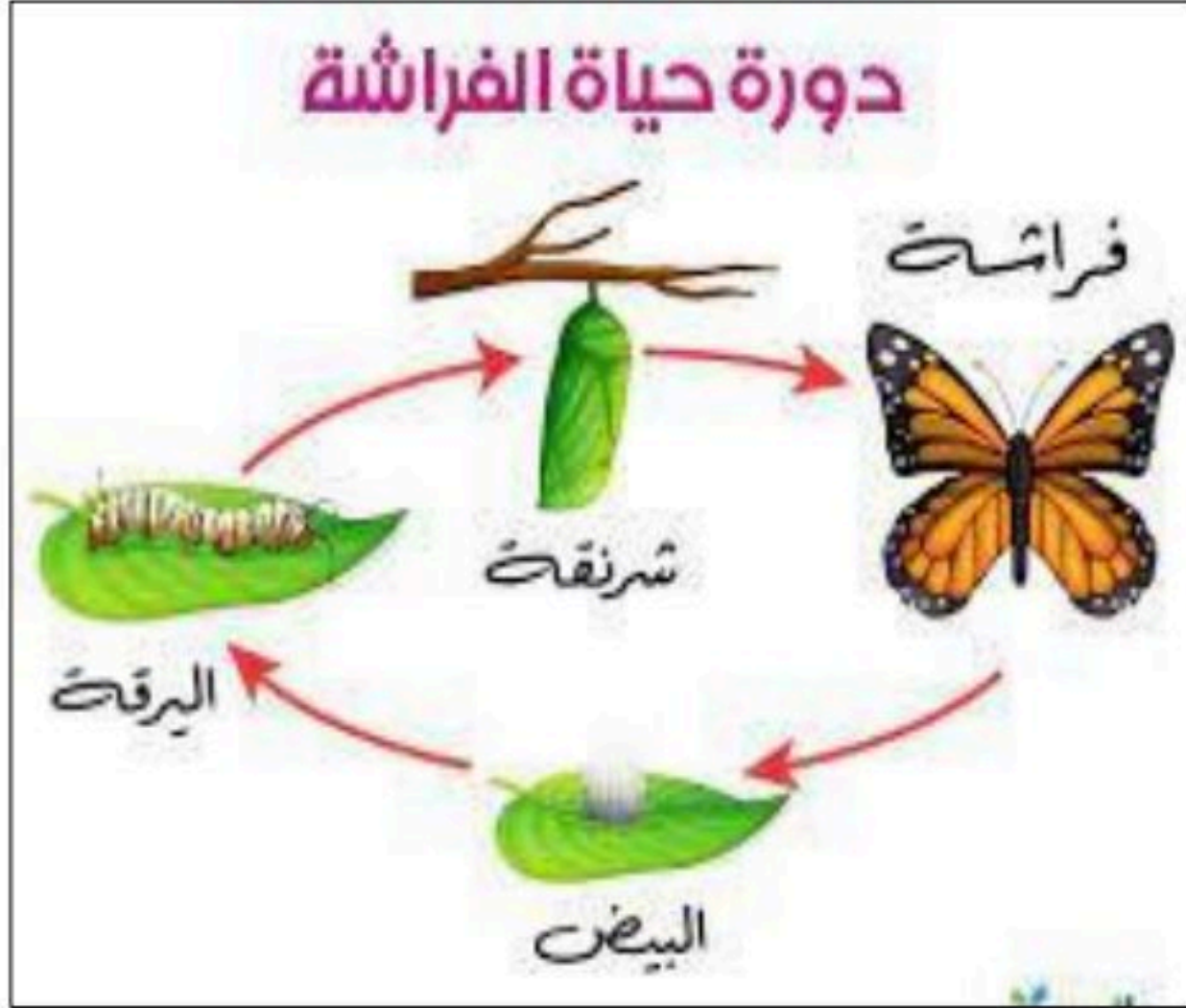
أرتب دورة حياة نبات الفاصوليا من خلال الصور



أرتب مراحل دورة حياة الضفدع بالتسلسل خلال الصور :



أضع علامة صح في المربع المناسب :



\*الصغير يشبه أبائه ( )

\*يخرج الصغير من البيضة ( )

\*يتحول شكل الصغير خلال دورة حياته ( )

\*يعتبر الحيوان من الفقاريات ( )

\*الصغير يشبه أبائه ( )

\*يخرج الصغير من البيضة ( )

\*يتحول شكل الصغير خلال دورة حياته ( )

\*يعتبر الحيوان من الفقاريات ( )

أكمل العبارات بكلمات مناسبة من القائمة :

غذاء - ضوء الشمس - للاختباء - حيوانات

١- في الموطن تجد الحيوانات ماتحتاج إليه من ماء و .....

٢- تحتاج النباتات في موطنها إلى ..... والماء

٣- تتغذى بعض الحيوانات على.....أخرى

٤- تستخدم الحيوانات موطنها.....والنوم




ضعي إشارة ( X ) حسب الصفة المناسبة للحيوانات التالية

الحيوان	تلد	تبيض	لها عمود فقري	ليس لها عمود فقري
				
				
				
				
				

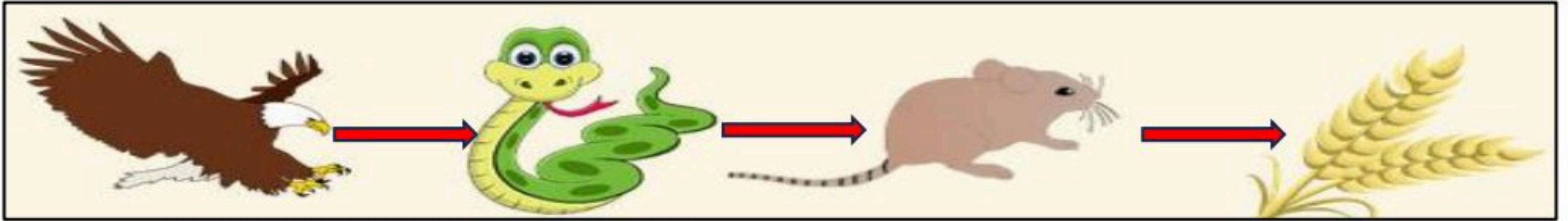
ضعي علامة صح أمام المدلول المناسب:

أشجارها عالية	تتوفر فيها الأمطار	تعيش فيها الدببة السوداء والطيور	أمطارها يومية	
				الغابة
				الغابة المطيرة

أرتب السلسلة الغذائية من خلال الصور :



حددي الفريسة والمفترس في السلسلة الغذائية التالية :



<input type="radio"/> فريسة	<input type="radio"/> المفترس
<input type="radio"/> مفترس	<input type="radio"/> الفأر
<input type="radio"/> فريسة	<input type="radio"/> المفترس
<input type="radio"/> مفترس	<input type="radio"/> الفأر

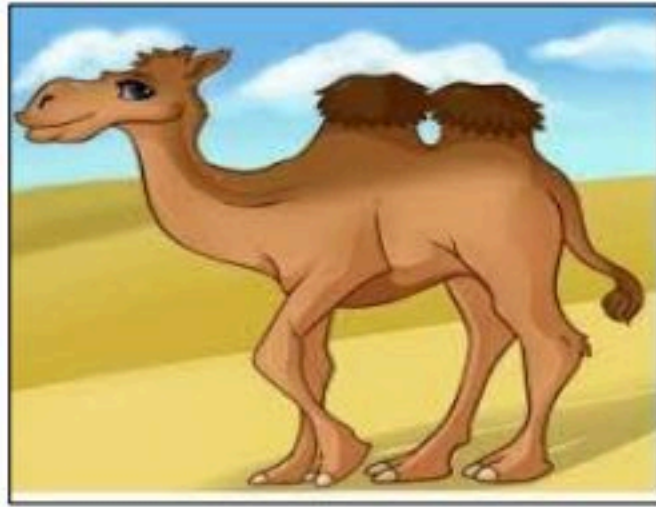
## اختاري الإجابة الصحيحة:

١- موطن حار جاف ..... ( الغابة – الصحراء الحارة )

٢- نباتات ..... صغيرة وقصيرة قريبة من سطح الأرض

( الصحراء- المنطقة القطبية )

## أصل بين أسم البيئة والصورة المناسبة لها :



الغابة الممطرة



الصحراء الحارة



الغابة



الصحراء الباردة

**أكتب المصطلح بجوار التعريف المناسب :**

**الجبل – الوادي – التلال – السهل**

(١) منطقة منبسطة وواسعة .....

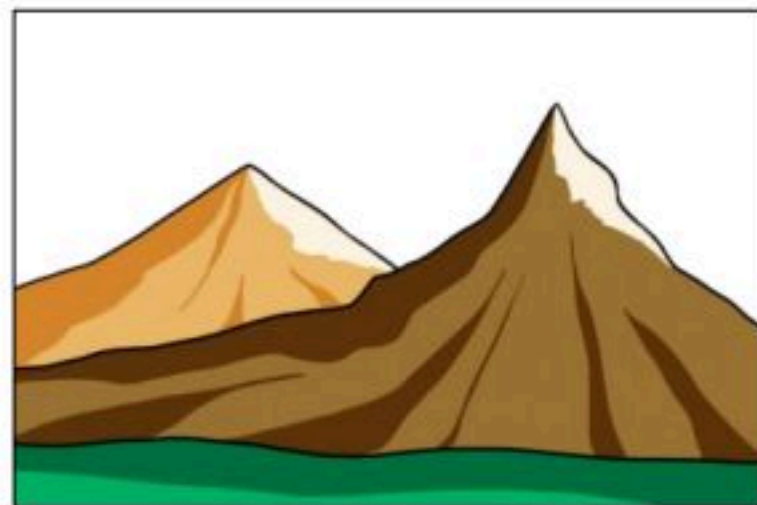
(٢) منطقة مرتفعة جدا من اليابسة .....

(٣) مناطق مرتفعة ولكن أقل ارتفاع من الجبال .....

(٤) أرض منخفضة من الجبال والتلال .....

**صلي بين الكلمة من ( أ ) والصورة المناسبة من ( ب ) فيما يلي :**

( ب )



( أ )

الجبل

الوادي

السهول

**أكملي العبارات الآتية بالكلمات المناسبة :**

**العذب – الأمطار – المحيط – الماء – الأنهار**

١/ لا تستطيع المخلوقات الحية العيش بدون .....

٢/ الماء ..... هو الماء غير المالح ويوجد في البحيرات و .....

٣/ ..... تجمع كبير وعميق من الماء المالح

٤/ من مصادر الماء العذب ماء.....

**ضعي علامة صح أو خطأ أمام العبارات التالية :**

١/ تغطي المحيطات ثلاث أربع الكرة الأرضية ( )

٢/ تستطيع الحيوانات الشرب من ماء مالح. ( )

٣/ يمكن للأسماك أن تعيش بدون ماء. ( )

٤/ من مصادر الماء العذب مياه الآبار ( )

ضعي علامة صح أو خطأ أمام الصور التالية :



أصل كل نوع من أنواع التربة بصورته :

التربة زراعية

التربة الرملية

التربة طينية

