

تم تحميل وعرض المادة من

# منهجي

mnhaji.com



موقع منهجي منصة تعليمية توفر كل ما يحتاجه المعلم  
والطالب من حلول الكتب الدراسية وشرح للدروس  
بأسلوب مبسط لكافة المراحل التعليمية وتوزيع  
المناهج وتحضير وملخصات ونماذج اختبارات وأوراق  
عمل جاهزة للطباعة والتحميل بشكل مجاني

حمل تطبيق منهجي ليصلك كل جديد



نموذج اسئلة اختبار الفترة الثانية  
المادة: الدراسات الاجتماعية  
الصف: الثاني المتوسط  
الفصل الدراسي الاول  
1448هـ

اسم الطالب	الدرجة / 30
------------	-------------

12 درجة

السؤال الأول

أ عزيزي الطالب مستعينا بالشكل المجاور ضع المصطلح المناسب أمام العبارات التالية ؟

الزلازل  
البيئة  
التجوية  
التعرية  
التصحّر  
التلوث

1	تدهور الأراضي الزراعية والرعوية لأسباب بشرية و طبيعية
2	الوسط الذي يعيش يحيط بالمخلوق الحي فيؤثر فيه ويتأثر به
3	عملية خارجية تحرك الصخور من مكان الى آخر بعد تكسرها
4	اهتزازات متتالية لجزء من سطح الارض

ب أكتب التفسير العلمي و الجغرافي للتالي ؟

1	أهمية طبقة الأوزون :
.....	
2	تتميز الغابات الاستوائية بطول نباتاتها و كبر حجم أوراقها واخضرارها طوال العام :
.....	

ج اختر الإجابة الصائبة فيما يأتي بوضع دائرة على الخيار الصائب ؟

1	نسبة غاز النيتروجين في الغلاف الجوي:	أ	90%	ب	78%	ج	70%	د	21%
2	المركز .... مسؤولة عن احوال الطقس:	أ	الاتصالات	ب	المساحة	ج	البيئة	د	الأرصاد
3	الغلاف .... هو الحيز الذي نعيش فيه:	أ	الجوي	ب	الحيوي	ج	الصخري	د	الحراري
4	هي في الاصل صخور نارية و رسوبية :	أ	الانكسارات	ب	التعرية	ج	التجوية	د	المتحولة

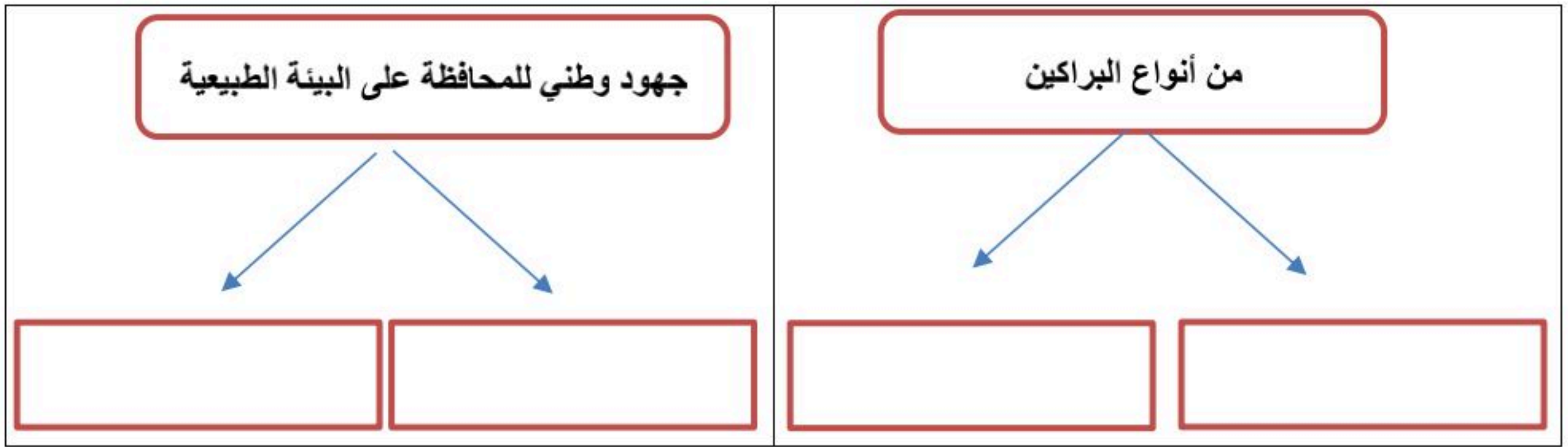
أقلب الورقة

أ ضع الرقم المناسب أمام المجموعة الأولى أمام ما يناسبها من المجموعة الثانية؟

الرقم	المجموعة الأولى	الرقم	المجموعة الثانية
1	جهاز قياس مقدار الضغط الجوي		دوارة الرياح
2	من أشهر أجهزة رصد الزلازل		الترمومتر الالكتروني
3	جهاز قياس الرطوبة		الباروجراف
4	جهاز قياس سرعة الرياح		الهيجرومتر
5	جهاز قياس الحرارة		الأنيمومتر
6	جهاز يحدد اتجاه الرياح		البالون
			السيسموجراف

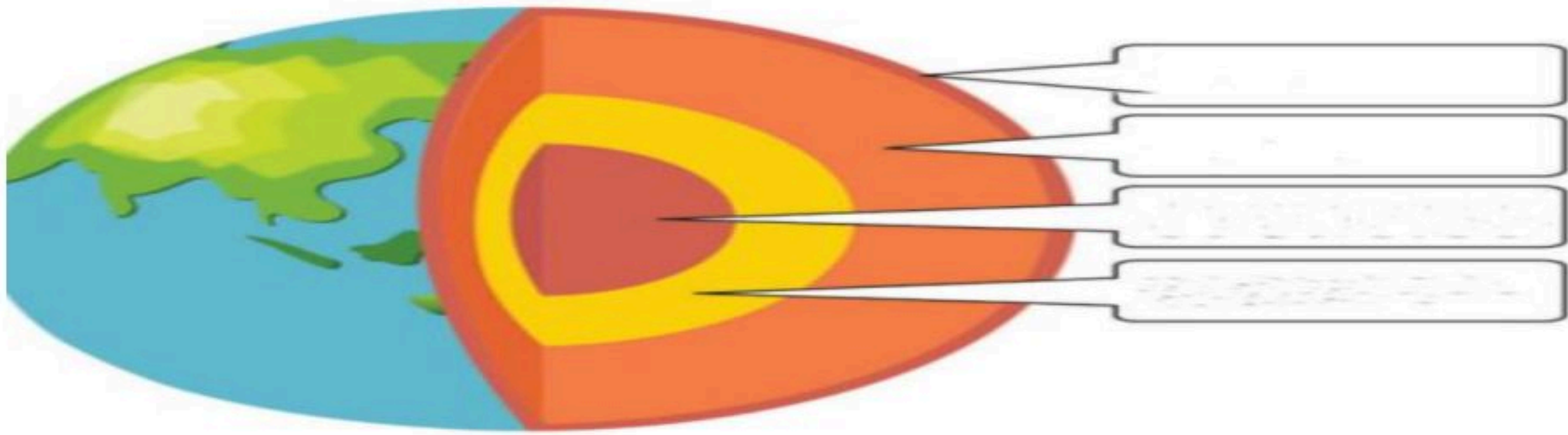
ب اكمل خرائط المفاهيم التالية ؟

ب



ج الرسم الموجود أدناه يمثل ( طبقات الأرض ) من خلال دراستك لهذا الموضوع أكمل بيانات الرسم ؟

ج



د قارن بين الطقس والمناخ وفق الجدول أدناه ؟

د

الطقس	وجه المقارنة	المناخ
	وجه التشابه	
	وجه الاختلاف	

← انتهت الاسئلة ←

مدير المدرسة: .....

نموذج اسئلة اختبار الفترة الثانية  
المادة: الدراسات الاجتماعية  
الصف: الثاني المتوسط  
الفصل الدراسي الاول  
1448هـ

# نموذج الإجابة

اسم الطالب	الدرجة / 30
------------	-------------

12 درجة

السؤال الأول

أ عزيزي الطالب مستعينا بالشكل المجاور ضع المصطلح المناسب أمام العبارات التالية ؟

الزلازل  
البيئة  
التجوية  
التعرية  
التصحّر  
التلوث

1	تدهور الأراضي الزراعية والرعوية لأسباب بشرية و طبيعية	التصحّر
2	الوسط الذي يعيش يحيط بالمخلوق الحي فيؤثر فيه ويتأثر به	البيئة
3	عملية خارجية تحرك الصخور من مكان الى آخر بعد تكسرها	التعرية
4	اهتزازات متتالية لجزء من سطح الارض	الزلازل

ب أكتب التفسير العلمي و الجغرافي للتالي ؟

1	أهمية طبقة الأوزون :
	تحمي كوكب الأرض وسكانه من الأشعة فوق البنفسجية الضارة القادمة من الشمس.
2	تتميز الغابات الاستوائية بطول نباتاتها و كبر حجم أوراقها واخضرارها طوال العام :
	بسبب وقوعها في المناخ الاستوائي الذي يتميز بغزارة الأمطار وارتفاع درجات الحرارة طوال العام، مما يوفر بيئة مناسبة للنمو المستمر للنباتات.

ج اختر الإجابة الصائبة فيما يأتي بوضع دائرة على الخيار الصائب ؟

1	نسبة غاز النيتروجين في الغلاف الجوي:	أ	90%	ب	78%	ج	70%	د	21%
2	المركز .... مسؤولة عن احوال الطقس:	أ	الاتصالات	ب	المساحة	ج	البيئة	د	الأرصاد
3	الغلاف..... هو الحيز الذي نعيش فيه:	أ	الجوي	ب	الحيوي	ج	الصخري	د	الحراري
4	هي في الاصل صخور نارية و رسوبية :	أ	الانكسارات	ب	التعرية	ج	التجوية	د	المتحولة

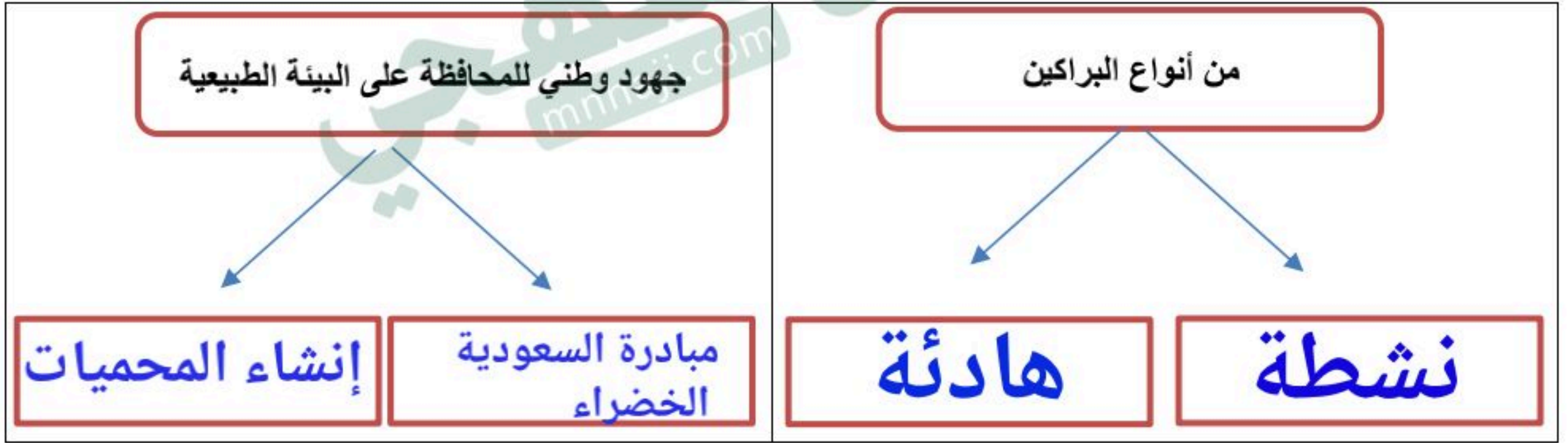
أقلب الورقة

أ ضع الرقم المناسب أمام المجموعة الأولى أمام ما يناسبها من المجموعة الثانية؟

الرقم	المجموعة الأولى	الرقم	المجموعة الثانية
1	جهاز قياس مقدار الضغط الجوي	6	دوارة الرياح
2	من أشهر أجهزة رصد الزلازل	5	الترمومتر الالكتروني
3	جهاز قياس الرطوبة	1	الباروجراف
4	جهاز قياس سرعة الرياح	3	الهيجرومتر
5	جهاز قياس الحرارة	4	الأنيمومتر
6	جهاز يحدد اتجاه الرياح		البالون
		2	السيسموجراف

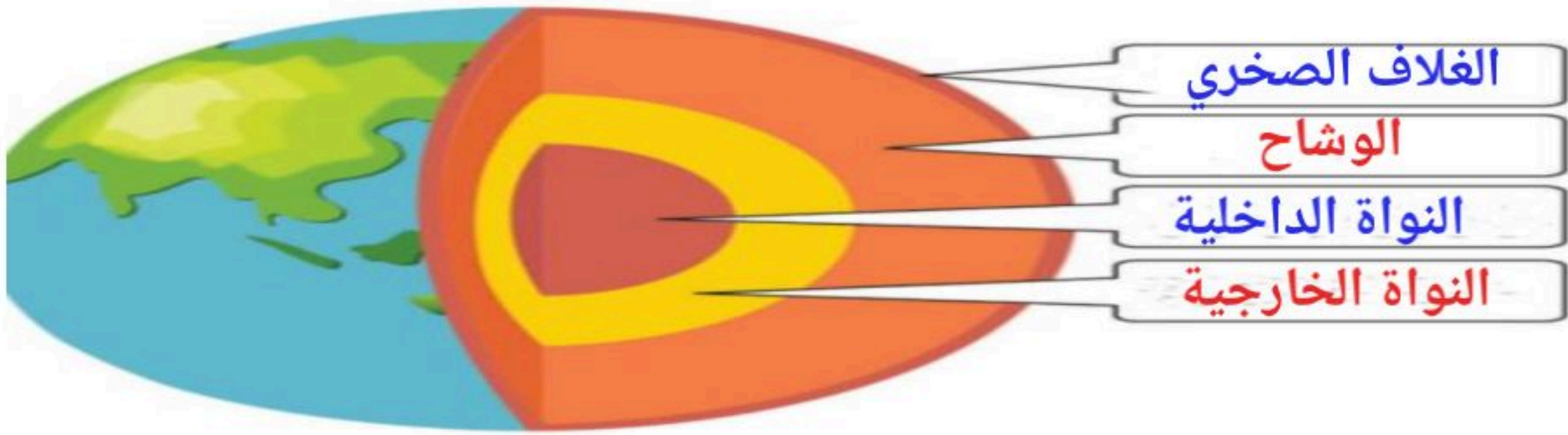
ب اكمل خرائط المفاهيم التالية ؟

ب



ج الرسم الموجود أدناه يمثل ( طبقات الأرض ) من خلال دراستك لهذا الموضوع أكمل بيانات الرسم ؟

ج



د قارن بين الطقس والمناخ وفق الجدول أدناه ؟

د

الطقس	وجه المقارنة	المناخ
يصف حالة الجو	وجه التشابه	يصف حالة الجو
مدة زمنية قصيرة	وجه الاختلاف	مدة زمنية طويلة

← انتهت الاسئلة ←

مدير المدرسة: .....

المادة : اجتماعيات  
الصف: الثاني متوسط  
الفصل الدراسي : الاول

اختبار مادة اجتماعيات الفترة الثانية لعام ١٤٤٨ هـ

٣٠

الصف :

اسم الطالبة:

السؤال الأول : أ- إختاري الإجابة الصحيحة في كلا مما يأتي		١١ درجات	
1	من الغازات التي يتكون منها الغلاف الجوي		
أ	النيتروجين	ب	الأكسجين
ج	الارجون	د	جميع ما ذكر
2	المناخ ..... ويشمل المناطق الواقعة بين الاقليم الاستوائي ومدار السرطان والجدي		
أ	الموسمي	ب	المداري
ج	الصخري	د	المتوسط
3	المناطق الباردة وتشمل المناخ		
أ	القطبي والجبلي	ب	القاري
ج	المداري	د	الجنوبي
4	المحتويات الخارجية للخريطة الطبوغرافية		
أ	رقم الخريطة	ب	اسم الخريطة
ج	مقياس الخريطة	د	جميع ما ذكر
5	هو وصف حالة الجو بعناصره المختلفة في منطقة محددة في مدة زمنية قصيرة		
أ	التضاريس	ب	المناخ
ج	الطقس	د	الحرارة
6	يمكن قياس مقدار الضغط الجوي ب		
أ	الباروجراف	ب	البارومتر المعدني
ج	البارومتر العادي	د	جميع ما ذكر
7	من الصخور رسوبية		
أ	الملح الصخري	ب	الباثوليت
ج	الجرانيت	د	البازلت
8	هي فتحات في مناطق الضعف في سطح القشرة الارضية،		
أ	البراكين	ب	الزلازل
ج	التصدعات	د	المنحدرات
9	تتكون القشرة الارضية من صخور		
أ	صخور نارية	ب	صخور رسوبية.
ج	صخور متحولة.	د	جميع ما ذكر
10	يستعمل لقياس سرعة الرياح		
أ	البارومتر	ب	الانيمومتر
ج	الباروجراف	د	لاشي مما ذكر
11	هو الحيز أو المكان الذي يمكن أن تعيش فيه المخلوقات الحية		
أ	البحري	ب	الغلاف الجوي
ج	الغلاف الحيوي	د	التضاريس



ب- ضعي علامة ( √ ) امام العبارة الصحيحة وعلامة ح ( × ) أمام العبارة الخاطئة	10 درجات
1 ادوات رصد الطقس بالون الطقس والقمر الصناعي	
2 المناخ المحيطي: ويسود في المناطق الواقعة في غرب القارات	
3 المناخ القاري: وهو المناخ السائد في داخل القارات	
4 إقليم نباتات الصحاري الجليدية وتشمل: نباتات التندرا.	
5 من عوامل جذب السكان في الأقاليم المناخ المناسب الحار	
6 الغلاف الحيوي من عناصره الانسان والحيوان والنبات	
7 المناخ هو متوسط حالات الجو في مكان محدد، لمدة طويلة	
8 من الرياح الموسمية الشتاء فقط	
9 من العوامل الطبيعية الداخلية السريعة في باطن الأرض الزلازل والبراكين	
10 الإقليم الحيوي هو حي مكاني من سطح الارض فيه أنواع محددة من المخلوقات	

صلي ما يلي من المجموعة ( أ ) ما يناسبها من المجموعة ( ب ) مستعينا بالأرقام	5 درجات
أ	ب
1 الغلاف الصخري	هي رسم توضيحي وتفصيلي أو ثلاثي الأبعاد لمنطقة محددة من سطح الأرض
2 الحرارة	هو جزء من الأرض تجتمع فيه صفات طبيعي أو اجتماعي تجعله وحدة خاصة
3 الغلاف الجوي	غلاف غازي يحيط بالكرة الأرضية ليس له لون ولا طعم ولا رائحة
4 الأقليم	هي درجة إحساس الانسان بدفء الجو أو برودته
5 الخريطة الطبوغرافية	لقشرة الأرضية الصلبة التي تكون القارات

ب - أذكر ما يلي	4 درجات
❖ عناصر المناخ	<input type="text"/>
	2
❖ الأقاليم الحيوية تتكون من	<input type="text"/>
	2

المادة : اجتماعيات  
الصف : الثاني متوسط  
الفصل الدراسي : الاول

# نموذج الإجابة

اختبار مادة اجتماعيات الفترة الثانية لعام ١٤٤٨ هـ

٣٠

الصف :

اسم الطالبة:

السؤال الأول : أ- إختاري الإجابة الصحيحة في كلا مما يأتي	١١ درجات		
١ من الغازات التي يتكون منها الغلاف الجوي			
أ النيتروجين	ب الأكسجين	ج الأرجون	د جميع ما ذكر
٢ المناخ ..... ويشمل المناطق الواقعة بين الاقليم الاستوائي ومدار السرطان والجدي			
أ الموسمي	ب المداري	ج الصخري	د المتوسط
٣ المناطق الباردة وتشمل المناخ			
أ القطبي والجبلي	ب القاري	ج المداري	د الجنوبي
٤ المحتويات الخارجية للخريطة الطبوغرافية			
أ رقم الخريطة	ب اسم الخريطة	ج مقياس الخريطة	د جميع ما ذكر
٥ هو وصف حالة الجو بعناصره المختلفة في منطقة محددة في مدة زمنية قصيرة			
أ التضاريس	ب المناخ	ج الطقس	د الحرارة
٦ يمكن قياس مقدار الضغط الجوي ب			
أ الباروجراف	ب البارومتر المعدني	ج البارومتر العادي	د جميع ما ذكر
٧ من الصخور رسوبية			
أ الملح الصخري	ب الباثوليت	ج الجرانيت	د البازلت
٨ هي فتحات في مناطق الضعف في سطح القشرة الارضية،			
أ البراكين	ب الزلازل	ج التصدعات	د المنحدرات
٩ تتكون القشرة الارضية من صخور			
أ صخور نارية	ب صخور رسوبية.	ج صخور متحولة.	د جميع ما ذكر
١٠ يستعمل لقياس سرعة الرياح			
أ البارومتر	ب الانيمومتر	ج الباروجراف	د لاشي مما ذكر
١١ هو الحيز أو المكان الذي يمكن أن تعيش فيه المخلوقات الحية			
أ البحري	ب الغلاف الجوي	ج الغلاف الحيوي	د التضاريس



ب- ضعي علامة ( √ ) امام العبارة الصحيحة وعلامة ح ( × ) أمام العبارة الخاطئة	١٠ درجات
١ ادوات رصد الطقس بالون الطقس والقمر الصناعي	√
٢ المناخ المحيطي: ويسود في المناطق الواقعة في غرب القارات	√
٣ المناخ القاري: وهو المناخ السائد في داخل القارات	√
٤ إقليم نباتات الصحاري الجليدية وتشمل: نباتات التندرا.	√
٥ من عوامل جذب السكان في الأقاليم المناخ المناسب الحار	×
٦ الغلاف الحيوي من عناصره الانسان والحيوان والنبات	√
٧ المناخ هو متوسط حالات الجو في مكان محدد، لمدة طويلة	√
٨ من الرياح الموسمية الشتاء فقط	×
٩ من العوامل الطبيعية الداخلية السريعة في باطن الأرض الزلازل والبراكين	√
١٠ الإقليم الحيوي هو حي مكاني من سطح الأرض فيه أنواع محددة من المخلوقات	√

صلي ما يلي من المجموعة ( أ ) ما يناسبها من المجموعة ( ب ) مستعينا بالأرقام	٥ درجات
أ	ب
١ الغلاف الصخري	٥ هي رسم توضيحي وتفصيلي أو ثلاثي الأبعاد لمنطقة محدودة من سطح الأرض
٢ الحرارة	٤ هو جزء من الأرض تجتمع فيه صفات طبيعي أو اجتماعي تجعله وحدة خاصة
٣ الغلاف الجوي	٣ غلاف غازي يحيط بالكرة الأرضية ليس له لون ولا طعم ولا رائحة
٤ الاقليم	٢ هي درجة إحساس الانسان بدفء الجو أو برودته
٥ الخريطة الطبوغرافية	١ لقشرة الأرضية الصلبة التي تكون القارات

ب - أذكر ما يلي	٤ درجات
❖ عناصر المناخ ١- الحرارة    ٢- الضغط الجوي    ٣- الرياح والرطوبة	٢
❖ الأقاليم الحيوية تتكون من ١ - حارة    ٢- معتدلة    ٣ - صحراوية	٢

اليوم:.....  
التاريخ:...../...../.....هـ ١٤٤٠  
زمن الإجابة : ٤٥ دقيقة

اختبار الوحدة الثالثة الفصل الدراسي الأول لمادة الدراسات الاجتماعية الصف الثاني المتوسط ( الدور الأول ) لعام ١٤٤٨

اسم الطالب ..... الفصل.....

السؤال الأول: ( اختار الإجابة الصحيحة فيما يلي بوضع دائرة عليها:

١	هو جزء من الأرض تجتمع فيه صفات طبيعية أو اجتماعية تجعله وحدة خاصة.	أ	الإقليم	ب	التضاريس	ج	المناخ	د	الطقس
٢	"تُصنّف الأقاليم.....بحسب تنوع خصائص العناصر الأساسية لمناخ تلك الأقاليم."	أ	التضاريسية	ب	النباتية	ج	المناخية	د	البيئية
٣	يسود شبه لجزيرة العربية المناخ:	أ	المداري الحار	ب	الصحراوي الجاف	ج	المتوسطي	د	المحيطي
٤	حشائش العروض المدارية الحارة وهي حشائش خشنة:	أ	الاستبس	ب	السافانا	ج	البحر المتوسط	د	العشب
٥	يسود في المناخ المتوسطي.....فصول	أ	ثلاثة	ب	أربعة	ج	خمسة	د	سنة
٦	يقصد بها الغطاءات النباتية الكثيفة:	أ	إقليم الغابات	ب	الحشائش	ج	الاستبس	د	السافانا
٧	حشائش العروض المعتدلة وهي حشائش لينة:	أ	الاستبس	ب	السافانا	ج	البحر المتوسط	د	العشب
٨	حيوانات تعيش في المناطق الجافة ولها قدرة على تحمل الجفاف:	أ	فرس النهر	ب	الجمال	ج	الحصان البري	د	الحيوانات المتسلقة
٩	- الخرائط الطبوغرافية مهمة؛ لأنها تمثل	أ	المناخ	ب	الاقتصاد	ج	المناطق السياحية	د	ظواهر سطح الأرض
١٠	ليس من المحتويات الخارجية للخريطة الطبوغرافية:	أ	اسم الخريطة	ب	مقياس الخريطة	ج	اتجاهات الشمال	د	التضاريس
١١	في المناطق المرتفعة تكون خطوط الكنتور	أ	متقاربة	ب	متباعدة	ج	متساوية	د	أفقية
١٢	يكتب اسم الخريطة الطبوغرافية باللون:	أ	الأحمر	ب	الأخضر	ج	الأسود	د	البنّي
١٣	من مقومات جذب السكان المناخ:	أ	الحار	ب	المتجمد	ج	المعتدل	د	الرطب
١٤	خطوط الكنتور هي خطوط:	أ	حقيقية	ب	وهمية	ج	تفاعلية	د	تماثلية
١٥	ترسم خطوط الكنتور باللون	أ	البنّي	ب	الأسود	ج	الأخضر	د	الأحمر

السؤال الثاني: ( ضع إشارة ( √ ) امام الإجابة الصحيحة وإشارة ( x ) أمام الإجابة الخاطئة:

١	مساحة الإقليم تتفاوت قد يشمل أكثر من قارة .	
٢	تسقط الأمطار في المناخ الموسمي في فصل الشتاء	
٣	أمطار المناخ المحيطي طوال العام.	
٤	الإقليم القاري من الأقاليم المعتدلة	
٥	نباتات التندرا تقع ضمن إقليم نباتات الصحاري الجليدية	

٦	تساعد الخريطة الطبوغرافية على تحديد السمات الطبيعية لسطح الأرض.
٧	تساعد الخطوط الكنتورية على رؤية شكل الأرض من خلال الارتفاع.
٨	الغابات الصنوبرية والنفطية من غابات العروض الباردة
٩	هدف الخريطة الطبوغرافية تمثيل باطن الأرض.
١٠	غابات العروض المعتدلة ذات أشجار دائمة الخضرة.

السؤال الثالث: صل من المجموعة [ب] ما يناسبها في المجموعة [أ] بالأرقام

الإجابة	المصطلح
(الرموز الاصطلاحية)	١- هي مجموعة من النقط التي تحدد الارتفاع لمنطقة معينة.
(المعالم الحضرية).	٢- هي دلالات رمزية لإظهار ما هو موجود على سطح الأرض من ظواهر على الخريطة.
التضاريس	٣- تساعد في فهم التفاصيل المرسومة على الخريطة
الألوان	٤- هي ما صنعه الإنسان مثل مراكز العمران والمدن
نقط الارتفاع	٥- تشمل الارتفاعات والانخفاضات والجبال والوديان.

انتهت الأسئلة

**موقع منهجي**   
 mnhaji.com

# نموذج الإجابة

اليوم:.....  
التاريخ:...../...../.....هـ ١٤٤٠  
زمن الإجابة : ٤٥ دقيقة

اختبار الوحدة الثالثة الفصل الدراسي الأول لمادة الدراسات الاجتماعية الصف الثاني المتوسط ( الدور الأول ) لعام ١٤٤٨

اسم الطالب ..... الفصل.....

السؤال الأول: ( اختر الإجابة الصحيحة فيما يلي بوضع دائرة عليها:

١	هو جزء من الأرض تجتمع فيه صفات طبيعية أو اجتماعية تجعله وحدة خاصة."	أ	الإقليم	ب	التضاريس	ج	المناخ	د	الطقس
٢	"تُصنّف الأقاليم.....بحسب تنوع خصائص العناصر الأساسية لمناخ تلك الأقاليم."	أ	التضاريسية	ب	النباتية	ج	المناخية	د	البيئية
٣	يسود شبه لجزيرة العربية المناخ:	أ	المداري الحار	ب	الصحراوي الجاف	ج	المتوسطي	د	المحيطي
٤	حشائش العروض المدارية الحارة وهي حشائش خشنة:	أ	الاستبس	ب	السافانا	ج	البحر المتوسط	د	العشب
٥	يسود في المناخ المتوسطي.....فصول	أ	ثلاثة	ب	أربعة	ج	خمسة	د	سنة
٦	يقصد بها الغطاءات النباتية الكثيفة:	أ	إقليم الغابات	ب	الحشائش	ج	الاستبس	د	السافانا
٧	حشائش العروض المعتدلة وهي حشائش لينة:	أ	الاستبس	ب	السافانا	ج	البحر المتوسط	د	العشب
٨	حيوانات تعيش في المناطق الجافة ولها قدرة على تحمل الجفاف:	أ	فرس النهر	ب	الجمال	ج	الحصان البري	د	الحيوانات المتسلقة
٩	- الخرائط الطبوغرافية مهمة؛ لأنها تمثل	أ	المناخ	ب	الاقتصاد	ج	المناطق السياحية	د	ظواهر سطح الأرض
١٠	ليس من المحتويات الخارجية للخريطة الطبوغرافية:	أ	اسم الخريطة	ب	مقياس الخريطة	ج	اتجاهات الشمال	د	التضاريس
١١	في المناطق المرتفعة تكون خطوط الكنتور	أ	متقاربة	ب	متباعدة	ج	متساوية	د	أفقية
١٢	يكتب اسم الخريطة الطبوغرافية باللون:	أ	الأحمر	ب	الأخضر	ج	الأسود	د	البنّي
١٣	من مقومات جذب السكان المناخ:	أ	الحار	ب	المتجمد	ج	المعتدل	د	الرطب
١٤	خطوط الكنتور هي خطوط:	أ	حقيقية	ب	وهمية	ج	تفاعلية	د	تماثلية
١٥	ترسم خطوط الكنتور باللون	أ	البنّي	ب	الأسود	ج	الأخضر	د	الأحمر

السؤال الثاني: ( ضع إشارة ( ✓ ) امام الإجابة الصحيحة وإشارة ( x ) أمام الإجابة الخاطئة:

✓	١	مساحة الإقليم تتفاوت قد يشمل أكثر من قارة .
✗	٢	تسقط الأمطار في المناخ الموسمي في فصل الشتاء
✓	٣	أمطار المناخ المحيطي طوال العام.
✓	٤	الإقليم القاري من الأقاليم المعتدلة
✓	٥	نباتات التندرا تقع ضمن إقليم نباتات الصحاري الجليدية

✓	٦	تساعد الخريطة الطبوغرافية على تحديد السمات الطبيعية لسطح الأرض.
✓	٧	تساعد الخطوط الكنتورية على رؤية شكل الأرض من خلال الارتفاع.
✓	٨	الغابات الصنوبرية والنفطية من غابات العروض الباردة
✗	٩	هدف الخريطة الطبوغرافية تمثيل باطن الأرض.
✓	١٠	غابات العروض المعتدلة ذات أشجار دائمة الخضرة.

السؤال الثالث: صل من المجموعة [ب] ما يناسبها في المجموعة [أ] بالأرقام

الإجابة	المصطلح
٢	١- هي مجموعة من النقاط التي تحدد الارتفاع لمنطقة معينة.
٤	٢- هي دلالات رمزية لإظهار ما هو موجود على سطح الأرض من ظواهر على الخريطة.
٥	٣- تساعد في فهم التفاصيل المرسومة على الخريطة
٣	٤- هي ما صنعه الإنسان مثل مراكز العمران والمدن
١	٥- تشمل الارتفاعات والانخفاضات والجبال والوديان.

انتهت الأسئلة

**موقع منهجي**   
 mnhaji.com

اليوم:.....  
التاريخ:...../...../.....هـ ١٤٠٠  
زمن الإجابة : ٤٥ دقيقة

اختبار الوحدة الثالثة الفصل الدراسي الأول لمادة الدراسات الاجتماعية الصف الثاني المتوسط ( الدور الأول ) لعام ١٤٤٨

اسم الطالب ..... الفصل.....

السؤال الأول: ( اختار الإجابة الصحيحة فيما يلي بوضع دائرة عليها:

١	تُصنّف الأقاليم .....بحسب تنوع عناصر أشكال سطح الأرض ومظهرها العام."	أ	المناخية	ب	التضاريسية	ج	النباتية	د	الجغرافية
٢	تسقط الأمطار في الإقليم المداري الممطر:	أ	طوال العام	ب	في فصل الصيف	ج	في فصل الشتاء	د	في الربيع
٣	يسود في الدول الواقعة حول البحر المتوسط:	أ	الإقليم المحيطي	ب	الإقليم الموسمي	ج	الإقليم المتوسطي	د	الإقليم الصحراوي
٤	يسود الإقليم المحيطي في المناطق الواقعة.....:	أ	جنوب القارات	ب	شمال القارات	ج	شرق القارات	د	غرب القارات
٥	إقليم مناخي يتميز بصيف قصير وشتاء طويل شديد البرودة:	أ	الموسمي	ب	المتوسطي	ج	المحيطي	د	القطبي
٦	أشجار الزيتون والأعشاب من غابات:	أ	الاستوائية	ب	العروض الباردة	ج	العروض المعتدلة	د	شبه المدارية
٧	يعيش الحصان البري في حشائش:	أ	الاستبس	ب	السافانا	ج	البحر المتوسط	د	العشب
٨	المناطق الحارة تضم.....أقاليم	أ	ثلاثة	ب	أربعة	ج	خمسة	د	سنة
٩	رسم توضيحي وتفصيلي أو ثلاثي الأبعاد لمنطقة محدودة من سطح الأرض	أ	الخريطة الأطلسية	ب	الخريطة الطبوغرافية	ج	الخريطة السكانية	د	الخريطة التضاريسية
١٠	يحدد اتجاه الشمال الذي تشير إليه البوصلة:	أ	الشمال المغناطيسي	ب	الشمال الغربي	ج	الشمال الطبوغرافي	د	الشمال الشرقي
١١	خطوط الكنتور هي خطوط:	أ	حقيقية	ب	وهمية	ج	تفاعلية	د	تماثلية
١٢	هو ما صنعه الإنسان وتعرف الطبوغرافية البشرية:	أ	المعالم الحضرية	ب	الحدود	ج	نقط الارتفاع	د	المسطحات
١٣	خطوط الارتفاع الكنتورية في المناطق ذات الارتفاع المنخفضة	أ	متقاربة جداً	ب	متباعدة	ج	غير متباعدة	د	متلاصقة
١٤	الخطوط الكنتورية تمثل:	أ	الإطار	ب	المصطلحات	ج	المسافة	د	الارتفاع
١٥	وسيلة مستعملة لتوضيح التضاريس وتسهيل قراءتها:	أ	نقط الارتفاع	ب	التظليل	ج	الحدود	د	المعالم الحضارية

السؤال الثاني: ( ضع إشارة ( √ ) امام الإجابة الصحيحة وإشارة ( x ) أمام الإجابة الخاطئة:

١	يسمى المناخ المداري الممطر أحيانا بالمناخ الاستوائي.	
٢	المدى الحراري في المناخ الصحراوي الحار كبير.	
٣	يسمى المناخ الذي يسود داخل القارات المناخ الصحراوي.	
٤	الغابات الصنوبرية والنفطية من غابات العروض الباردة.	
٥	هدف الخريطة الطبوغرافية تمثيل باطن الأرض.	

٦	الخطوط الكنتورية هي تمثيل ثلاثي الأبعاد لسطح الأرض.
٧	الإقليم القاري من الأقاليم المعتدلة.
٨	نباتات التندرا تقع ضمن إقليم نباتات الصحاري الجليدية.
٩	المناخ الجبلي من أقاليم المناطق الباردة.
١٠	المحتويات الداخلية للخريطة الطبوغرافية ست عناصر.

السؤال الثالث : ضع إشارة ( √ ) امام الإجابة الصحيحة وإشارة ( x ) أمام الإجابة الخاطئة:

١- ما أبرز عوامل جذب السكان في الأقاليم المختلفة؟ (يكتفي باثنتين)

.....

٢- تنقسم الرموز الاصطلاحية إلى نوعين حددهما.

.....

٣- اذكر اثنين من أشكال مقياس الرسم؟

.....

انتهت الأسئلة

**موقع منهجي**   
 mnhaji.com

# نموذج الإجابة

اليوم:.....  
التاريخ:...../...../.....هـ ١٤٤٠  
زمن الإجابة : ٤٥ دقيقة

اختبار الوحدة الثالثة الفصل الدراسي الأول لمادة الدراسات الاجتماعية الصف الثاني المتوسط ( الدور الأول ) لعام ١٤٤٨

اسم الطالب ..... الفصل.....

السؤال الأول: ( اختر الإجابة الصحيحة فيما يلي بوضع دائرة عليها:

١	تصنف الأقاليم .....بحسب تنوع عناصر أشكال سطح الأرض ومظهرها العام.	أ	المناخية	ب	التضاريسية	ج	النباتية	د	الجغرافية
٢	تسقط الأمطار في الإقليم المداري الممطر:	أ	طوال العام	ب	في فصل الصيف	ج	في فصل الشتاء	د	في الربيع
٣	يسود في الدول الواقعة حول البحر المتوسط:	أ	الإقليم المحيطي	ب	الإقليم الموسمي	ج	الإقليم المتوسطي	د	الإقليم الصحراوي
٤	يسود الإقليم المحيطي في المناطق الواقعة.....:	أ	جنوب القارات	ب	شمال القارات	ج	شرق القارات	د	غرب القارات
٥	إقليم مناخي يتميز بصيف قصير وشتاء طويل شديد البرودة:	أ	الموسمي	ب	المتوسطي	ج	المحيطي	د	القطبي
٦	أشجار الزيتون والأعشاب من غابات:	أ	الاستوائية	ب	العروض الباردة	ج	العروض المعتدلة	د	شبه المدارية
٧	يعيش الحصان البري في حشائش:	أ	الاستبس	ب	الساافانا	ج	البحر المتوسط	د	العشب
٨	المناطق الحارة تضم.....أقاليم	أ	ثلاثة	ب	أربعة	ج	خمسة	د	سنة
٩	رسم توضيحي وتفصيلي أو ثلاثي الأبعاد لمنطقة محدودة من سطح الأرض	أ	الخريطة الأطلسية	ب	الخريطة الطبوغرافية	ج	الخريطة السكانية	د	الخريطة التضاريسية
١٠	يحدد اتجاه الشمال الذي تشير إليه البوصلة:	أ	الشمال المغناطيسي	ب	الشمال الغربي	ج	الشمال الطبوغرافي	د	الشمال الشرقي
١١	خطوط الكنتور هي خطوط:	أ	حقيقية	ب	وهمية	ج	تفاعلية	د	تماثلية
١٢	هو ما صنعه الإنسان وتعرف الطبوغرافية البشرية:	أ	المعالم الحضرية	ب	الحدود	ج	نقط الارتفاع	د	المسطحات
١٣	خطوط الارتفاع الكنتورية في المناطق ذات الارتفاع المنخفضة	أ	متقاربة جداً	ب	متباعدة	ج	غير متباعدة	د	متلاصقة
١٤	الخطوط الكنتورية تمثل:	أ	الإطار	ب	المصطلحات	ج	المسافة	د	الارتفاع
١٥	وسيلة مستعملة لتوضيح التضاريس وتسهيل قراءتها:	أ	نقط الارتفاع	ب	التظليل	ج	الحدود	د	المعالم الحضرية

السؤال الثاني: ( ضع إشارة ( ✓ ) أمام الإجابة الصحيحة وإشارة ( x ) أمام الإجابة الخاطئة:

✓	١	يسمى المناخ المداري الممطر أحيانا بالمناخ الاستوائي.
✓	٢	المدى الحراري في المناخ الصحراوي الحار كبير.
✗	٣	يسمى المناخ الذي يسود داخل القارات المناخ الصحراوي.
✓	٤	الغابات الصنوبرية والنفطية من غابات العروض الباردة.
✗	٥	هدف الخريطة الطبوغرافية تمثيل باطن الأرض.

×	الخطوط الكنتورية هي تمثيل ثلاثي الأبعاد لسطح الأرض.	٦
✓	الإقليم القاري من الأقاليم المعتدلة.	٧
✓	نباتات التندرا تقع ضمن إقليم نباتات الصحاري الجليدية.	٨
✓	المناخ الجبلي من أقاليم المناطق الباردة.	٩
✓	المحتويات الداخلية للخريطة الطبوغرافية ست عناصر.	١٠

السؤال الثالث : ضع إشارة ( ✓ ) امام الإجابة الصحيحة وإشارة ( × ) أمام الإجابة الخاطئة:

١- ما أبرز عوامل جذب السكان في الأقاليم المختلفة؟ (يكتفي باثنتين)

**١- المناخ المناسب المعتدل ٢- الأرض السهلية المستوية.**

٢- تنقسم الرموز الاصطلاحية إلى نوعين حددهما.

**١- الرموز الاصطلاحية المساحية ٢- الرموز الاصطلاحية التصويرية.**

٣- اذكر اثنين من أشكال مقياس الرسم؟

**المقياس النسبي والمقياس الخطي.**

انتهت الأسئلة

**موقع منهجي**    
 mnhaji.com

المادة : الدراسات الاجتماعية			
الصف: الثاني متوسط			
اختبار الفترة الثانية			اسم الطالب:

**السؤال الأول: اختر الإجابة الصحيحة فيما يلي بوضع دائرة عليها:**

١	منطقه وجود السحب والأمطار والعواصف وتعيش فيها الكائنات الحية				
أ	التروبوسفير	ب	الستراتوسفير	ج	الميزوسفير
د	الإكسوسفير				
٢	الغاز الذي يشكل النسبة العالية في الغلاف الجوي للأرض				
أ	النيتروجين	ب	الأكسجين	ج	ثاني أكسيد الكربون
د	الهيدروجين				
٣	المناخ هو تغيير				
أ	نمط الطقس في مده طويلة	ب	تقرير الطقس لهذا اليوم	ج	الطقس على مدار اليوم
د	لا شيء مما سبق				
٤	من العوامل المؤثرة في نمو النبات				
أ	المناخ	ب	التضاريس	ج	نوع التربة
د	جميع ما ذكر				
٥	تقاس الرطوبة بواسطة جهاز				
أ	الهيجرومتر	ب	الترمومتر	ج	الأنيمومتر
د	السيسمومتر				
٦	صخور منصهرة اندفعت من باطن الأرض ثم تصلبت :				
أ	الصخور النارية	ب	الصخور المتحولة	ج	الصخور المتصلبة
د	الصخور المتحولة				
٧	جهاز قياس سرعة الرياح				
أ	الأنيمومتر	ب	الباروجراف	ج	دوارة الرياح
د	الترمومتر				
٨	من العمليات الداخلية البطيئة لتشكيل سطح الأرض				
أ	الانكسارات	ب	النحت	ج	الزلازل
د	البراكين				
٩	وجود انزلاقات في طبقات القشرة الأرضية يؤدي إلى حدوث				
أ	البراكين	ب	الزلازل	ج	التعرية
د	التجوية				
١٠	عندما تتحرك الصخور والتربة من أماكنها ومواقعها تسمى				
أ	التجوية	ب	الصدوع	ج	التعرية
د	الرياح				

**السؤال الثاني : ضع إشارة ( √ ) أمام الإجابة الصحيحة وإشارة ( × ) أمام الإجابة الخاطئة:**

١	في أغلب الأحيان تؤدي التجوية إلى تعرية	
٢	سمك القشرة الأرضية ما بين ١٠ كم و ٦٠ كم	
٣	كلما ارتفعنا ١٥٠ متر تنخفض درجة مئوية واحدة من الحرارة	
٤	أنشأت الهيئة السعودية للحياة الفطرية عام ١٤٠٢ هـ	
٥	تقاس الزلازل بواسطة مقياس السيسموجراف	
٦	يعد النبات الطبيعي من أهم العوامل المؤثرة في توزيع الحيوانات على سطح الأرض	
٧	تنجذب غازات الغلاف الجوي نحو الكره الأرضية بفعل الجاذبية	
٨	تنوع الرياح على سطح الأرض حسب أماكن تحركها وزمان حدوثها	
٩	من أدوات رصد الطقس بالون الطقس والقمر الصناعي	
١٠	يكتسب الماء الحرارة بسرعة ويفقدها ببطء مما يعمل على تلطيف جو المناطق	

# نموذج الإجابة

المادة : الدراسات الاجتماعية

الصف: الثاني متوسط

اختبار الفترة الثانية

اسم الطالب:

**السؤال الأول:** اختار الإجابة الصحيحة فيما يلي بوضع دائرة عليها:

١	منطقه وجود السحب والأمطار والعواصف وتعيش فيها الكائنات الحية	أ	التروبوسفير	ب	الستراتوسفير	ج	الميزوسفير	د	الإكسوسفير
٢	الغاز الذي يشكل النسبة العالية في الغلاف الجوي للأرض	أ	النيتروجين	ب	الأكسجين	ج	ثاني أكسيد الكربون	د	الهيدروجين
٣	المناخ هو تغيير	أ	نمط الطقس في مدة طويلة	ب	تقرير الطقس لهذا اليوم	ج	الطقس على مدار اليوم	د	لا شيء مما سبق
٤	من العوامل المؤثرة في نمو النبات	أ	المناخ	ب	التضاريس	ج	نوع التربة	د	جميع ما ذكر
٥	تقاس الرطوبة بواسطة جهاز	أ	الهيجرومتر	ب	الترمومتر	ج	الأنيمومتر	د	السيسمومتر
٦	صخور منصهرة اندفعت من باطن الأرض ثم تصلبت :	أ	الصخور النارية	ب	الصخور المتحولة	ج	الصخور المتصلبة	د	الصخور المتحولة
٧	جهاز قياس سرعة الرياح	أ	الأنيمومتر	ب	الباروجراف	ج	دوارة الرياح	د	الترمومتر
٨	من العمليات الداخلية البطيئة لتشكيل سطح الأرض	أ	الانكسارات	ب	النحت	ج	الزلازل	د	البراكين
٩	وجود انزلاقات في طبقات القشرة الأرضية يؤدي إلى حدوث	أ	البراكين	ب	الزلازل	ج	التعرية	د	التجوية
١٠	عندما تتحرك الصخور والتربة من أماكنها ومواقعها تسمى	أ	التجوية	ب	الصدوع	ج	التعرية	د	الرياح

**السؤال الثاني :** ضع إشارة ( ✓ ) أمام الإجابة الصحيحة وإشارة ( × ) أمام الإجابة الخاطئة:

✓	١	في أغلب الأحيان تؤدي التجوية إلى تعرية
✓	٢	سمك القشرة الأرضية ما بين ١٠ كم و ٦٠ كم
✓	٣	كلما ارتفعنا ١٥٠ متر تنخفض درجة مئوية واحدة من الحرارة
×	٤	أنشأت الهيئة السعودية للحياة الفطرية عام ١٤٠٢ هـ
✓	٥	تقاس الزلازل بواسطة مقياس السيسموجراف
✓	٦	يعد النبات الطبيعي من أهم العوامل المؤثرة في توزيع الحيوانات على سطح الأرض
✓	٧	تجذب غازات الغلاف الجوي نحو الكره الأرضية بفعل الجاذبية
✓	٨	تنوع الرياح على سطح الأرض حسب أماكن تحركها وزمان حدوثها
✓	٩	من أدوات رصد الطقس بالون الطقس والقمر الصناعي
×	١٠	يكتسب الماء الحرارة بسرعة ويفقدها ببطء مما يعمل على تلطيف جو المناطق

انتهت الأسئلة

المادة : الدراسات الاجتماعية			
الصف: الثاني متوسط			
اختبار الفترة الثانية			اسم الطالب:

**السؤال الأول:** اختار الإجابة الصحيحة فيما يلي بوضع دائرة عليها:

١	عندما تتحرك الصخور والتربة من أماكنها ومواقعها تسمى				
أ	التجوية	ب	الصدوع	ج	التعرية
د	الرياح				
٢	منطقه وجود السحب والأمطار والعواصف وتعيش فيها الكائنات الحية				
أ	التروبوسفير	ب	الستراتوسفير	ج	الميزوسفير
د	الإكسوسفير				
٣	الغاز الذي يشكل النسبة العالية في الغلاف الجوي للأرض				
أ	النيتروجين	ب	الأكسجين	ج	ثاني أكسيد الكربون
د	الهيدروجين				
٤	المناخ هو تغيير				
أ	نمط الطقس في مده طويلة	ب	تقرير الطقس لهذا اليوم	ج	الطقس على مدار اليوم
د	لا شيء مما سبق				
٥	صخور منصهرة اندفعت من باطن الارض ثم تصلبت :				
أ	الصخور النارية	ب	الصخور المتحولة	ج	الصخور المتصلبة
د	الصخور المتحولة				
٦	جهاز قياس سرعة الرياح				
أ	الأنيمومتر	ب	الباروجراف	ج	دوارة الرياح
د	الترمومتر				
٧	من العمليات الداخلية البطيئة لتشكيل سطح الأرض				
أ	الانكسارات	ب	النحت	ج	الزلازل
د	البراكين				

**السؤال الثاني :** ضع إشارة ( ✓ ) أمام الإجابة الصحيحة وإشارة ( × ) أمام الإجابة الخاطئة:

١	ينقسم الغلاف الجوي إلى خمس طبقات يزداد سمكها ويقل وفقا لقربها وبعدها عن سطح الأرض
٢	في أغلب الاحيان تؤدي التعرية إلى تجوية
٣	سمك القشرة الارضية ما بين ٢٠ كم و ٩٠ كم
٤	كلما ارتفعنا ١٥٠ متر تزيد درجة مئوية واحدة من الحرارة
٥	تنوع الرياح على سطح الارض حسب أماكن تحركها وزمان حدوثها
٦	يعد المناخ من أهم العوامل المؤثرة في توزيع الحيوانات على سطح الأرض
٧	تنجذب غازات الغلاف الجوي نحو الكره الأرضية بفعل الجاذبية
٨	تنوع الرياح على سطح الارض حسب أماكن تحركها وزمان حدوثها

**السؤال الثالث :** ضع الرقم الموجود أمام المجموعة الأولى أمام ما يناسبه من المجموعة الثانية :

الرقم	المجموعة الأولى	المجموعة الثانية
١	الترمومتر	جهاز قياس الرطوبة
٢	السيسموجراف	جهاز قياس درجات الحرارة في الجو
٣	الانيمومتر	جهاز رصد الزلازل
٤	الهيجرومتر	جهاز قياس سرعة الرياح

**السؤال الرابع :** عدد اثنين مما يلي :

أ. من العوامل المؤثرة في المناخ :

١-..... ٢.....

ب- من أنواع الصخور : ١..... ٢.....

# نموذج الإجابة

المادة : الدراسات الاجتماعية  
الصف: الثاني متوسط  
اختبار الفترة الثانية

اسم الطالب:

السؤال الأول: اختر الإجابة الصحيحة فيما يلي بوضع دائرة عليها:

١	عندما تتحرك الصخور والتربة من أماكنها ومواقعها تسمى	أ	التجوية	ب	الصدوع	ج	التعرية	د	الرياح
٢	منطقه وجود السحب والأمطار والعواصف وتعيش فيها الكائنات الحية	أ	التروبوسفير	ب	الستراتوسفير	ج	الميزوسفير	د	الإكسوسفير
٣	الغاز الذي يشكل النسبة العالية في الغلاف الجوي للأرض	أ	النيتروجين	ب	الأكسجين	ج	ثاني أكسيد الكربون	د	الهيدروجين
٤	المناخ هو تغيير	أ	نمط الطقس في مدة طويلة	ب	تقرير الطقس لهذا اليوم	ج	الطقس على مدار اليوم	د	لا شيء مما سبق
٥	صخور منصهرة اندفعت من باطن الأرض ثم تصلبت :	أ	الصخور النارية	ب	الصخور المتحولة	ج	الصخور المتصلبة	د	الصخور المتحولة
٦	جهاز قياس سرعة الرياح	أ	الأنيمومتر	ب	الباروجراف	ج	دوارة الرياح	د	الترمومتر
٧	من العمليات الداخلية البطيئة لتشكيل سطح الأرض	أ	الانكسارات	ب	النحت	ج	الزلازل	د	البراكين

السؤال الثاني : ضع إشارة ( ✓ ) أمام الإجابة الصحيحة وإشارة ( × ) أمام الإجابة الخاطئة:

✓	١	ينقسم الغلاف الجوي إلى خمس طبقات يزداد سمكها ويقل وفقا لقربتها وبعدها عن سطح الأرض
×	٢	في أغلب الأحيان تؤدي التعرية إلى تجوية
×	٣	سمك القشرة الأرضية ما بين ٢٠ كم و ٩٠ كم
×	٤	كلما ارتفعنا ١٥٠ متر تزيد درجة مئوية واحدة من الحرارة
✓	٥	تنوع الرياح على سطح الأرض حسب أماكن تحركها وزمان حدوثها
✓	٦	يعد المناخ من أهم العوامل المؤثرة في توزيع الحيوانات على سطح الأرض
✓	٧	تنجذب غازات الغلاف الجوي نحو الكره الأرضية بفعل الجاذبية
✓	٨	تنوع الرياح على سطح الأرض حسب أماكن تحركها وزمان حدوثها

السؤال الثالث : ضع الرقم الموجود أمام المجموعة الأولى أمام ما يناسبه من المجموعة الثانية :

الرقم	المجموعة الأولى	المجموعة الثانية
١	الترمومتر	جهاز قياس الرطوبة
٢	السيسموجراف	جهاز قياس درجات الحرارة في الجو
٣	الانيمومتر	جهاز رصد الزلازل
٤	الهيجرومتر	جهاز قياس سرعة الرياح

موقع منهجي  
mnhaji.com

السؤال الرابع : عدد اثنين مما يلي :

أ. من العوامل المؤثرة في المناخ :

١-..الارتفاع عن مستوى البحر. ٢...الموقع بالنسبة لدوائر العرض.

ب- من أنواع الصخور : صخور نارية. ٢..... صخور رسوبية. ....

اختبار مادة الدراسات الاجتماعية - الفترة الثانية (الأول)

الصف الثاني/ الفصل :

الاسم : .....

السؤال الأول / أ - صححي ما تحته خط في العبارات التالية .

1 - قاد المغول و اجتاح البلاد الإسلامية هولاكو.

2 - أمطار المناخ الموسمي شتوية.

3 - تنمو أشجار الزيتون في الإقليم القاري .

4 - سقطت الدولة العباسية على يد المغول سنة 524.

5- تقع نيوزيلندا ضمن الإقليم الجبلي .

6- تمثل خطوط الكنتور المتقاربة منطقة منخفضة .

7- تستخدم في الشمال الجغرافي البوصلة .

ب - علي ، أهمية الخريطة الطبوغرافية.

ج - عددي أسباب سقوط الدولة العباسية .

د- تتبعي أحداث معركة عين جالوت .

السؤال الثاني / أ - اختاري الإجابة الصحيحة من بين الأقواس .

- 1 - جزء من الأرض تجتمع فيه صفات متشابهة ( الإقليم - التلال - النبات )
- 2 - الإقليم الاستوائي تسقط فيه الأمطار ( صيفية - طوال العام - شتوية )
- 3 - يكتب اسم الخريطة الطبوغرافية باللون ( الأحمر - الأخضر - الأسود )
- 4 - ظواهر بشرية تمثل على الخرائط ( الهضاب - الغابات - المباني )
- 5 - أقاليم تضاريسية ( النبات - الجبال - الغابات )

ب - عرفي الخريطة الطبوغرافية .

ج - ضعني الكلمات في مكانها المناسب من الخريطة .

( الماعز - قارس البرد - الأستبس - شبه الجزيرة العربية - إندونيسيا  
أعالي الجبال - الرنة - شوكي )

الدول	الحيوان	النبات	المناخ	الموقع	الإقليم
					الاستوائي
					القطبي
					المتوسطي
					الجبلي
					الصحراوي

المادة : الدراسات الاجتماعية			
الصف: الثاني متوسط			
اختبار الوحدة الثالثة			اسم الطالب/ة:

السؤال الأول: اختار الإجابة الصحيحة فيما يلي بوضع دائرة عليها:

الجزء الأكبر من سطح الأرض	أ	ب	ج	د
السهول المستوية	السهول غير المستوية	الهضاب	التلال	
عدد الأقاليم التضاريسية على سطح الأرض	أ	ب	ج	د
٨ أقاليم	٩ أقاليم	١٠ أقاليم	١١ أقاليم	
عدد أقاليم المناطق الحارة تشمل	أ	ب	ج	د
٣ أقاليم	٤ أقاليم	٥ أقاليم	٦ أقاليم	
من الأقاليم المناخية المعتدلة	أ	ب	ج	د
القطبي	الصحراوي الجاف	الجبلي	القاري	
تقع شبه الجزيرة العربية ضمن المناخ	أ	ب	ج	د
المداري الممطر	المداري الموسمي	الصحراوي الجاف	المحيطي	
من مقومات جذب السكان	أ	ب	ج	د
المناخ الحار	المناخ المتجمد	المناخ المعتدل	المناخ الرطب	
من نباتات الصحاري الجليدية	أ	ب	ج	د
الصبار	التندرا	السافانا	الإستبس	
في المناطق المرتفعة تكون خطوط الكنتور	أ	ب	ج	د
متقاربة	متباعدة	متساوية	متوسطة	
يكتب اسم الخريطة الطبوغرافية باللون	أ	ب	ج	د
الأزرق	الأحمر	الأسود	الأخضر	
من معالم الرموز التصويرية	أ	ب	ج	د
حقول النفط	مساحة قرية	مساحة بلدة	مساحة غابة	
الخرائط الطبوغرافية مهمة لأنها تمثل	أ	ب	ج	د
المناخ	الاقتصاد	المناطق السياحية	ظواهر سطح الأرض	
يوازي اتجاه خطوط الطول وهو مطابق لنقطة القطب الشمالي يطلق عليها بالشمال	أ	ب	ج	د
الجغرافي	المغناطيسي	الطبوغرافي	النهري	
وسيلة مستعملة لتوضيح التضاريس وتسهيل قراءتها في الخريطة تسمى	أ	ب	ج	د
التضاريس	المزارع	الحدود	التظليل	
تساعد في فهم التفاصيل المرسومة على الخريطة الطبوغرافية تسمى	أ	ب	ج	د
الرموز	الألوان	الخطوط	الكنتور	
المناخ السائد داخل القارات ويتركز بين دائرتي العرض ٤٠ و ٦٠ درجة شمالاً يسمى بالمناخ	أ	ب	ج	د
الجبلي	القاري	القطبي	المحيطي	
النسبة بين المسافة على الخريطة والمسافة على الحقيقة التي تمثلها يطلق عليها بـ	أ	ب	ج	د
مقياس الرسم	خطوط الكنتور	الشمال المغناطيس	اسم الخريطة	



السؤال الثاني : ضع إشارة ( √ ) أمام الإجابة الصحيحة وإشارة ( × ) أمام الإجابة الخاطئة:

١	حشائش السافانا لينة وأكثر كثافة من حشائش الإستبس
٢	الإقليم هو مساحة من سطح الارض تتسم بخصائص محددة تميزه عن غيره من الأقاليم الأخرى
٣	المناخ المحيطي يقع في المناطق الحارة
٤	تقع المملكة العربية السعودية ضمن الإقليم المناخي الصحراوي
٥	المناخ المتوسطي يسود في الدول الواقعة حول البحر الاحمر
٦	المناخ الاستوائي يمتد حول خط السرطان
٧	الخرائط الطبوغرافية لها أهمية كبيرة لأنها تمثل الظواهر الطبيعية والغير طبيعية
٨	رسم توضيحي وتفصيلي لمنطقة محدودة من سطح الأرض موضحاً عليها خطوط الكنتور يطلق عليها ب الخريطة الطبوغرافية
٩	يرتبط وجود الغابات بالمناطق الرطبة الغزيرة الأمطار
١٠	تستخدم الألوان والخطوط لتوضيح التضاريس على الخرائط
١١	اللون الأخضر في الخريطة الطبوغرافية يدل على الأراضي الزراعية
١٢	تساعد الخطوط الكنتورية على رؤية شكل الأرض من خلال الإرتفاع

السؤال الثالث : عدد اثنين مما يلي :

أ - من المحتويات الخارجية للخريطة الطبوغرافية :

١ -

٢ -

ب- من الأقاليم التضاريسية :

١ -

٢ -

انتهت الأسئلة

موقع منهجي  
mnhaji.com



اختبار الوحدة الثالثة: الجغرافيا

الاسم :

السؤال الأول:

اختر الإجابة الصحيحة لكل فقرة من الفقرات التالية:

1	أي من الأقاليم المناخية التالية يتميز بصيف حار وجاف وشتاء دافئ وممطر؟	الإقليم الاستوائي	الإقليم الصحراوي	إقليم المناخ المتوسطي	الإقليم القطبي
2	ما هو العامل الجغرافي الذي يعد الأهم في قيام الحضارات تاريخياً؟	وجود الجبال الشاهقة	وفرة المياه العذبة والتربة الخصبة	المناخ شديد البرودة	كثرة الغابات الكثيفة
3	تُعرف حشائش المناطق المدارية الحارة باسم	الاستبس	التندرا	السافانا	البلوط
4	مساحة من الأرض تجتمع فيها صفات طبيعية متشابهة تُعرف بـ	القارة	الدولة	الإقليم	المدينة
5	أي الأقاليم التالية تنخفض فيه درجة الحرارة بشكل ملحوظ كلما زاد الارتفاع عن سطح البحر؟	الإقليم المحيطي	الإقليم الجبلي	الإقليم الموسمي	الإقليم القاري
6	ماذا يعني تقارب خطوط الكنتور بشدة في منطقة ما على الخريطة الطبوغرافية؟	منطقة سهلية منبسطة	منطقة شديدة الانحدار	وجود نهر أو وادي	منطقة زراعية واسعة
7	أي الألوان التالية يستخدم عادةً لتمثيل المسطحات المائية مثل الأنهار والبحيرات؟	الأخضر	البي	الأزرق	الأحمر
8	ما هو المكون الذي يوضح معنى الرموز والأشكال المستخدمة في الخريطة؟	مقياس الرسم	اتجاه الشمال	اسم الخريطة	دليل الرموز (المفتاح)
9	الظواهر التي صنعها الإنسان مثل المباني والجسور والطرق تسمى	معالم طبيعية	معالم مناخية	معالم حضرية (بشرية)	معالم كنتورية
10	الهدف الرئيسي من الخريطة الطبوغرافية هو تمثيل	المناخ وتوزيع درجات الحرارة	التوزيع السكاني فقط	الظواهر الطبيعية والبشرية بدقة	الحدود السياسية بين الدول فقط

## السؤال الثاني :

حدد كلمة صح أو خطأ لكل فقرة من الفقرات الآتية:

1	يؤثر تنوع الأقاليم الجغرافية بشكل مباشر على تنوع أشكال الحياة النباتية والحيوانية.	<input type="radio"/> صح	<input type="radio"/> خطأ
2	تشابه جميع الأقاليم المناخية في العالم من حيث درجات الحرارة وكميات الأمطار.	<input type="radio"/> صح	<input type="radio"/> خطأ
3	يعتبر توفر الموارد الطبيعية مثل النفط والمعادن عاملاً طارداً للسكان.	<input type="radio"/> صح	<input type="radio"/> خطأ
4	التنوع الكبير في الأقاليم على سطح الأرض يعد مظهراً من مظاهر عظمة الخالق وقدرته.	<input type="radio"/> صح	<input type="radio"/> خطأ
5	الأراضي السهلية المستوية أقل جاذبية للسكان من المناطق الجبلية الوعرة لصعوبة الزراعة فيها.	<input type="radio"/> صح	<input type="radio"/> خطأ
6	الخرائط الطبوغرافية تمثل الظواهر الطبيعية فقط وتهمل الظواهر البشرية.	<input type="radio"/> صح	<input type="radio"/> خطأ
7	اللون الأخضر في الخريطة الطبوغرافية يدل على المناطق الصحراوية.	<input type="radio"/> صح	<input type="radio"/> خطأ
8	يمكن لخطوط الكنتور أن تتقاطع مع بعضها في المناطق شديدة الانحدار.	<input type="radio"/> صح	<input type="radio"/> خطأ
9	تساعد الخرائط الطبوغرافية في فهم شكل تضاريس الأرض ورؤيتها بشكل ثلاثي الأبعاد.	<input type="radio"/> صح	<input type="radio"/> خطأ
10	كلما تباعدت خطوط الكنتور، دل ذلك على أن المنطقة ذات انحدار خفيف أو منبسطة.	<input type="radio"/> صح	<input type="radio"/> خطأ

انتهت الأسئلة ,,,

إعداد موقع منهجي

<https://www.mnhaji.com>

اجابة اختبار الوحدة الثالثة: الجغرافيا

الاسم :

# نهودج الإجابة

السؤال الأول:

اختر الإجابة الصحيحة لكل فقرة من الفقرات التالية:

1	أي من الأقاليم المناخية التالية يتميز بصيف حار وجاف وشتاء دافئ وممطر؟	الإقليم الاستوائي	الإقليم الصحراوي	إقليم المناخ المتوسطي	الإقليم القطبي
2	ما هو العامل الجغرافي الذي يعد الأهم في قيام الحضارات تاريخياً؟	وجود الجبال الشاهقة	وفرة المياه العذبة والتربة الخصبة	المناخ شديد البرودة	كثرة الغابات الكثيفة
3	تُعرف حشائش المناطق المدارية الحارة باسم	الاستبس	التندرا	السافانا	البلوط
4	مساحة من الأرض تجتمع فيها صفات طبيعية متشابهة تُعرف بـ	القارة	الدولة	الإقليم	المدينة
5	أي الأقاليم التالية تنخفض فيه درجة الحرارة بشكل ملحوظ كلما زاد الارتفاع عن سطح البحر؟	الإقليم المحيطي	الإقليم الجبلي	الإقليم الموسمي	الإقليم القاري
6	ماذا يعني تقارب خطوط الكنتور بشدة في منطقة ما على الخريطة الطبوغرافية؟	منطقة سهلية منبسطة	منطقة شديدة الانحدار	وجود نهر أو وادي	منطقة زراعية واسعة
7	أي الألوان التالية يستخدم عادةً لتمثيل المسطحات المائية مثل الأنهار والبحيرات؟	الأخضر	البي	الأزرق	الأحمر
8	ما هو المكون الذي يوضح معنى الرموز والأشكال المستخدمة في الخريطة؟	مقياس الرسم	اتجاه الشمال	اسم الخريطة	دليل الرموز (المفتاح)
9	الظواهر التي صنعها الإنسان مثل المباني والجسور والطرق تسمى	معالم طبيعية	معالم مناخية	معالم حضرية (بشرية)	معالم كنتورية
10	الهدف الرئيسي من الخريطة الطبوغرافية هو تمثيل	المناخ وتوزيع درجات الحرارة	التوزيع السكاني فقط	الظواهر الطبيعية والبشرية بدقة	الحدود السياسية بين الدول فقط

## السؤال الثاني :

حدد كلمة صح أو خطأ لكل فقرة من الفقرات الآتية:

1	يؤثر تنوع الأقاليم الجغرافية بشكل مباشر على تنوع أشكال الحياة النباتية والحيوانية.	<input type="radio"/> صح	<input type="radio"/> خطأ
2	تشابه جميع الأقاليم المناخية في العالم من حيث درجات الحرارة وكميات الأمطار.	<input type="radio"/> صح	<input type="radio"/> خطأ
3	يعتبر توفر الموارد الطبيعية مثل النفط والمعادن عاملاً طارداً للسكان.	<input type="radio"/> صح	<input type="radio"/> خطأ
4	التنوع الكبير في الأقاليم على سطح الأرض يعد مظهراً من مظاهر عظمة الخالق وقدرته.	<input type="radio"/> صح	<input type="radio"/> خطأ
5	الأراضي السهلية المستوية أقل جاذبية للسكان من المناطق الجبلية الوعرة لصعوبة الزراعة فيها.	<input type="radio"/> صح	<input type="radio"/> خطأ
6	الخرائط الطبوغرافية تمثل الظواهر الطبيعية فقط وتهمل الظواهر البشرية.	<input type="radio"/> صح	<input type="radio"/> خطأ
7	اللون الأخضر في الخريطة الطبوغرافية يدل على المناطق الصحراوية.	<input type="radio"/> صح	<input type="radio"/> خطأ
8	يمكن لخطوط الكنتور أن تتقاطع مع بعضها في المناطق شديدة الانحدار.	<input type="radio"/> صح	<input type="radio"/> خطأ
9	تساعد الخرائط الطبوغرافية في فهم شكل تضاريس الأرض ورؤيتها بشكل ثلاثي الأبعاد.	<input type="radio"/> صح	<input type="radio"/> خطأ
10	كلما تباعدت خطوط الكنتور، دل ذلك على أن المنطقة ذات انحدار خفيف أو منبسطة.	<input type="radio"/> صح	<input type="radio"/> خطأ

انتهت الأسئلة ,,,

إعداد موقع منهجي

<https://www.mnhaji.com>

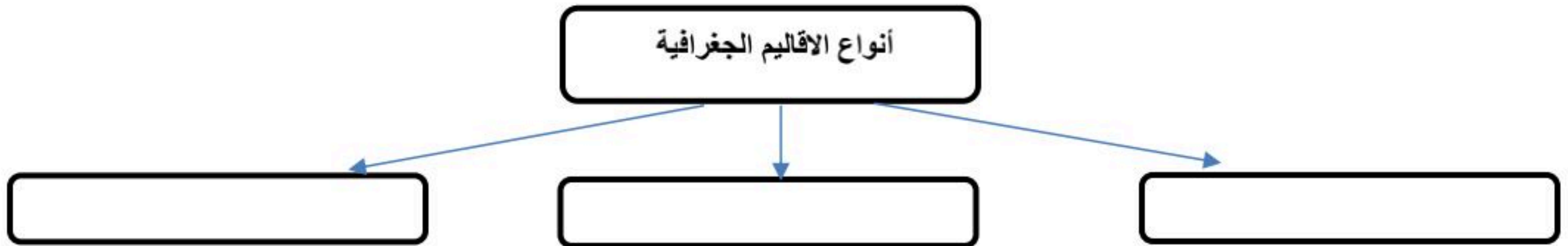
اسم الطالب	الدرجة	10
------------	--------	----

السؤال الأول: اختر الإجابة الصحيحة فيما يأتي بوضع دائرة (كل فقرة صحيحة بدرجة )

1	يقع وطني المملكة العربية السعودية في الاقليم :	أ- الصحراوي الجاف	ب- المناخ المعتدل	ج- المناخ القطبي	د- المناخ الموسمي
2	مساحة او بقعة معينة من سطح الارض تتسم بخصائص محددة عن غيره :	أ- الخريطة الطبوغرافية	ب- الاقليم	ج- المناخ	د- التضاريس
3	من الثروة الحيوانية التي تعيش في المملكة العربية السعودية :	أ- الفيل	ب- الاسود	ج- الغنم	د- الدب القطبي
4	يمثل الغطاء النباتي على الخريطة الطبوغرافية باللون :	أ- الازرق	ب- الاصفر	ج- الاحمر	د- الاخضر
5	من مقومات استقرار السكان في منطقة معينة المناخ :	أ- الحار	ب- المعتدل	ج- الرطب	د- المتجمد
6	الشمال المغناطيسي على الخريطة الطبوغرافية يمثل اتجاه :	أ- الشرق	أ- الغرب	أ- الجنوب	أ- الشمال
7	من اهم النباتات التي تعيش في المملكة العربية السعودية :	أ- النخيل	ب- البلوط	ج- الزان	د- الصنوبر

( كل فقرة صحيحة بدرجة )

السؤال الثاني: أكمل خريطة المفاهيم التالية ؟



مع تمنياتي للجميع بالتوفيق / معلم المادة : محمد علي القرني

# نموذج الإجابة

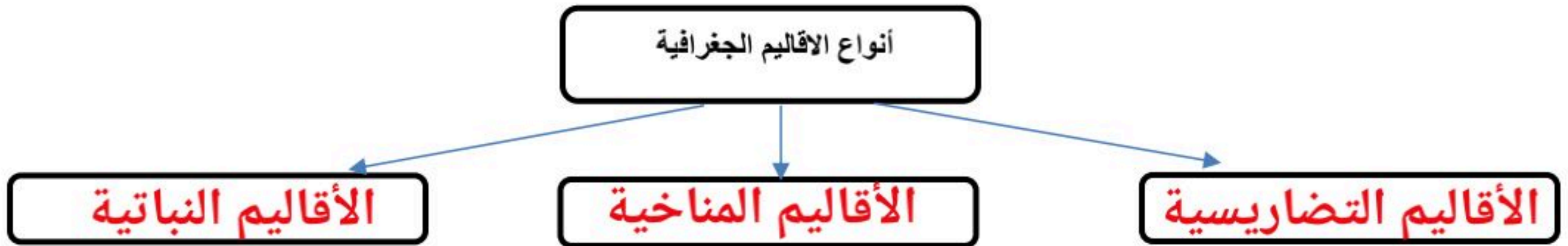
اسم الطالب	الدرجة	10
------------	--------	----

السؤال الأول: اختر الإجابة الصحيحة فيما يأتي بوضع دائرة (كل فقرة صحيحة بدرجة )

1	يقع وطني المملكة العربية السعودية في الاقليم :	أ- الصحراوي الجاف	ب- المناخ المعتدل	ج- المناخ القطبي	د- المناخ الموسمي
2	مساحة او بقعة معينة من سطح الارض تتسم بخصائص محددة عن غيره :	أ- الخريطة الطبوغرافية	ب- الاقليم	ج- المناخ	د- التضاريس
3	من الثروة الحيوانية التي تعيش في المملكة العربية السعودية :	أ- الفيل	ب- الاسود	ج- الغنم	د- الدب القطبي
4	يمثل الغطاء النباتي على الخريطة الطبوغرافية باللون :	أ- الازرق	ب- الاصفر	ج- الاحمر	د- الاخضر
5	من مقومات استقرار السكان في منطقة معينة المناخ :	أ- الحار	ب- المعتدل	ج- الرطب	د- المتجمد
6	الشمال المغناطيسي على الخريطة الطبوغرافية يمثل اتجاه :	أ- الشرق	أ- الغرب	أ- الجنوب	أ- الشمال
7	من اهم النباتات التي تعيش في المملكة العربية السعودية :	أ- النخيل	ب- البلوط	ج- الزان	د- الصنوبر

( كل فقرة صحيحة بدرجة )

السؤال الثاني: أكمل خريطة المفاهيم التالية ؟



مع تمنياتي للجميع بالتوفيق / معلم المادة : محمد علي القرني

الاسم	الفصل	الدرجة
-------	-------	--------

الصف: الثاني المتوسط  
الدرجة الكلية: 10 درجات

المادة: الدراسات الاجتماعية  
الوحدة الثالثة: الجغرافيا  
الزمن: 15 دقيقة

**أولاً: اختر الإجابة الصحيحة (ضع دائرة حول الإجابة الصحيحة) - (5 درجات)**

- الإقليم هو:
- أ) جزء من الأرض له صفات تميزه (ب) خريطة للعالم (ج) نوع من المناخ فقط (د) منطقة سياسية محددة
- من الأقاليم المناخية المعتدلة: أ) الاستوائي (ب) الصحراوي (ج) البحر المتوسط (د) القطبي
- الخريطة الطبوغرافية تُظهر:
- أ) العواصم فقط (ب) مظاهر سطح الأرض الطبيعية والبشرية (ج) توزيع السكان فقط (د) المناخ فقط
- خطوط الكنتور في الخريطة الطبوغرافية تدل على:
- أ) اتجاه الرياح (ب) درجات الحرارة (ج) الارتفاع والانحدار (د) توزيع السكان
- تقع المملكة العربية السعودية في الإقليم المناخي: أ) الاستوائي (ب) المعتدل (ج) الصحراوي الحار (د) القطبي

**ثانياً: ضع علامة (✓) أمام العبارة الصحيحة وعلامة (X) أمام العبارة غير الصحيحة:**

- الإقليم يتكون من صفات طبيعية أو بشرية تميزه عن غيره. ( )
- المناخ الصحراوي يتميز بغزارة الأمطار طوال العام. ( )
- من عوامل جذب السكان: التربة الجيدة والمياه المتوافرة. ( )
- خطوط الكنتور في الخريطة الطبوغرافية متباعدة في المناطق ذات الانحدار الشديد. ( )
- الرموز في الخريطة الطبوغرافية تستعمل لتمثيل الظواهر الطبيعية والبشرية. ( )

المادة : الدراسات الاجتماعية  
الصف : الثاني المتوسط  
اختبار قصير  
الفصل الدراسي الاول 1448هـ

# نموذج الإجابة

الاسم	الفصل	الدرجة
-------	-------	--------

الصف: الثاني المتوسط  
الدرجة الكلية: 10 درجات

المادة: الدراسات الاجتماعية  
الوحدة الثالثة: الجغرافيا  
الزمن: 15 دقيقة

أولاً: اختر الإجابة الصحيحة (ضع دائرة حول الإجابة الصحيحة) - (5 درجات)

الإقليم هو:

(أ) جزء من الأرض له صفات تميزه (ب) خريطة للعالم (ج) نوع من المناخ فقط (د) منطقة سياسية محددة

من الأقاليم المناخية المعتدلة: (أ) الاستوائي (ب) الصحراوي (ج) البحر المتوسط (د) القطبي

الخريطة الطبوغرافية تُظهر:

(أ) العواصم فقط (ب) مظاهر سطح الأرض الطبيعية والبشرية (ج) توزيع السكان فقط (د) المناخ فقط

خطوط الكنتور في الخريطة الطبوغرافية تدل على:

(أ) اتجاه الرياح (ب) درجات الحرارة (ج) الارتفاع والانحدار (د) توزيع السكان

تقع المملكة العربية السعودية في الإقليم المناخي: (أ) الاستوائي (ب) المعتدل (ج) الصحراوي الحار (د) القطبي

ثانياً: ضع علامة (✓) أمام العبارة الصحيحة وعلامة (X) أمام العبارة غير الصحيحة:

(✓)

الإقليم يتكون من صفات طبيعية أو بشرية تميزه عن غيره.

(X)

المناخ الصحراوي يتميز بغزارة الأمطار طوال العام.

(✓)

من عوامل جذب السكان: التربة الجيدة والمياه المتوافرة.

(X)

خطوط الكنتور في الخريطة الطبوغرافية متباعدة في المناطق ذات الانحدار الشديد.

(✓)

الرموز في الخريطة الطبوغرافية تستعمل لتمثيل الظواهر الطبيعية والبشرية.



الدرجة من 20	الفصل	اسم الطالب/ة

السؤال الأول ضع/ي الرقم المناسب أمام المجموعة الأولى أمام ما يناسبها من المجموعة الثانية؟ 5 درجات

الرقم	المجموعة الأولى	الرقم	المجموعة الثانية
1	جهاز قياس مقدار الضغط الجوي		دوارة الرياح
2	من أشهر أجهزة رصد الزلازل		الترمومتر الالكتروني
3	جهاز قياس الرطوبة		الباروجراف
4	جهاز قياس سرعة الرياح		الهيجرومتر
5	جهاز قياس الحرارة		الأنيمومتر
			السيسموجراف

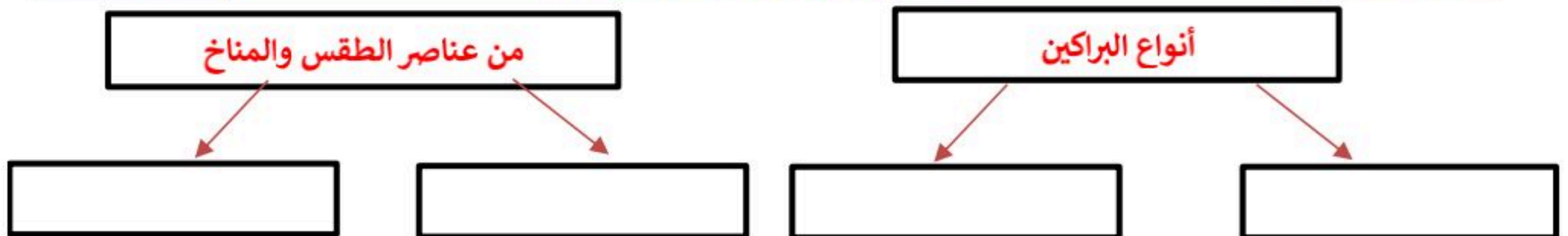
السؤال الثاني قارن/ي بين الطقس و المناخ وفق الجدول أدناه؟ 4 درجات

الطقس	وجه المقارنة	المناخ
	أوجه الشبه	
	أوجه الاختلاف	

السؤال الثالث ضع/ي علامة ( ✓ ) أمام العبارة الصائبة وعلامة ( x ) ؟ 7 درجات

1	في المملكة العربية السعودية براكين قديمة
2	التعرية من العمليات الخارجية لتشكيل سطح الارض
3	غاز النيتروجين يشكل النسبة الكبرى في الغلاف الجوي للأرض بنسبة 78%
4	نقوم بأخذ المعلومات الصحيحة عن احوال الطقس من الجهات الرسمية (هيئة الارصاد)
5	الالتواءات والانكسارات من العمليات الداخلية السريعة
6	من فوائد طبقة الأوزن انها تمنع الأشعة الضارة الصادرة من الشمس بقدره الله عز وجل
7	الصخور النارية هي في الاصل صخور رسوبية و متحولة

السؤال الرابع أكمل/ي خرائط المفاهيم التالية ؟ 4 درجات



# نهوذج الإجابة

إجابة اختبار الوحدة الرابعة  
المادة: الدراسات الاجتماعية  
الصف: الثاني المتوسط  
الفصل الدراسي الأول  
1448هـ



اسم الطالب/ة	الفصل	الدرجة من 20

السؤال الأول ضع/ي الرقم المناسب أمام المجموعة الأولى أمام ما يناسبها من المجموعة الثانية؟ 5 درجات

الرقم	المجموعة الأولى	الرقم	المجموعة الثانية
1	جهاز قياس مقدار الضغط الجوي		دورة الرياح
2	من أشهر أجهزة رصد الزلازل	5	الترمومتر الالكتروني
3	جهاز قياس الرطوبة	1	الباروجراف
4	جهاز قياس سرعة الرياح	3	الهيغرومتر
5	جهاز قياس الحرارة	4	الأنيمومتر
		2	السيسموجراف

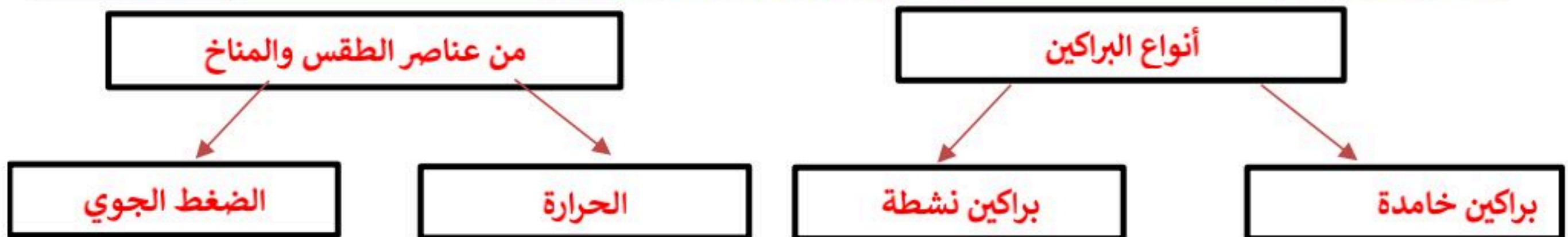
السؤال الثاني قارن/ي بين الطقس و المناخ وفق الجدول أدناه؟ 4 درجات

الطقس	وجه المقارنة	المناخ
يصف حالة الجو	أوجه الشبه	يصف حالة الجو
مدة زمنية قصيرة	أوجه الاختلاف	مدة زمنية طويلة

السؤال الثالث ضع/ي علامة ( √ ) أمام العبارة الصائبة وعلامة ( x ) ؟ 7 درجات

1	في المملكة العربية السعودية براكين قديمة	√
2	التعرية من العمليات الخارجية لتشكيل سطح الارض	√
3	غاز النيتروجين يشكل النسبة الكبرى في الغلاف الجوي للأرض بنسبة 78%	√
4	نقوم بأخذ المعلومات الصحيحة عن احوال الطقس من الجهات الرسمية (هيئة الارصاد)	√
5	الالتواءات والانكسارات من العمليات الداخلية السريعة	x
6	من فوائد طبقة الأوزن انها تمنع الأشعة الضارة الصادرة من الشمس بقدره الله عز وجل	√
7	الصخور النارية هي في الاصل صخور رسوبية و متحولة	x

السؤال الرابع أكمل/ي خرائط المفاهيم التالية ؟ 4 درجات



اسم الطالب/ة	الفصل	20 درجة
--------------	-------	---------

السؤال الاول : ضع علامة ( √ ) امام العبارة الصحيحة وعلامة ( × ) امام العبارة الخاطئة فيما يلي؟  
( 5 درجات )

1	في المملكة العربية السعودية براكين قديمة
2	التعرية من العمليات الخارجية لتشكل سطح الارض
3	تقاس الزلازل بالترموتر
4	نقوم بأخذ المعلومات الصحيحة عن احوال الطقس من الجهات الرسمية (هيئة الارصاد )
5	الالتواءات والانكسارات من العمليات الداخلية السريعة

السؤال الثاني : أختار الاجابة الصحيحة فيما يلي ؟ ( 5 درجات )

1	وصف حالة الجو في مدة زمنية قصيرة :
	الرطوبة      المناخ      الطقس
2	صخور منصهرة اندفعت من باطن الارض ثم تصلبت :
	الصخور النارية      الصخور المتحولة      الصخور المتصلبة
3	من اسباب حدوث الزلازل :
	سرعة الرياح      انصهار الصخور      دوران الارض
4	جهاز قياس سرعة الرياح :
	الأنيمومتر      الباروجراف      دوارة الرياح
5	الغاز الذي يشكل النسبة الاعلى في الغلاف الجوي ونسبته 78% :
	الاكسجين      النيتروجين      الكربون

6 درجات

السؤال الثالث : أكمل الفراغات التالية بما يناسبها ؟

( أ ) من العناصر الحية في الغلاف الحيوي :

..... و .....

( ب ) العمليات الخارجية تشكل سطح الارض تتكون من عمليتين هما :

..... و .....

( ج ) من اهم المحميات الطبيعية في المملكة العربية السعودية :

محمية ..... و محمية .....

4درجات

السؤال الرابع : أكمل خرائط المفاهيم التالية ؟



تمت الاسئلة

إعداد: موقع منهجي

<https://www.mnhaji.com>

مديرة المدرسة:

معلمة المادة:

اجابة اختبار الوحدة الرابعة  
المادة: الدراسات الاجتماعية  
الصف : الثاني المتوسط  
الفصل الدراسي الاول 1448هـ

# نموذج الإجابة

اسم الطالب/ة	نموذج اجابة	الفصل	20درجة
--------------	-------------	-------	--------

السؤال الاول : ضع علامة ( √ ) امام العبارة الصحيحة وعلامة ( × ) امام العبارة الخاطئة فيما يلي؟ ( 5 درجات )		
1	في المملكة العربية السعودية براكين قديمة	√
2	التعرية من العمليات الخارجية لتشكل سطح الارض	√
3	تقاس الزلازل بالترموتر	×
4	نقوم بأخذ المعلومات الصحيحة عن احوال الطقس من الجهات الرسمية (هيئة الارصاد )	√
5	الالتواءات والانكسارات من العمليات الداخلية السريعة	×

السؤال الثاني : أختار الاجابة الصحيحة فيما يلي ؟ ( 5 درجات )		
1	وصف حالة الجو في مدة زمنية قصيرة :	
	الرطوبة	المناخ
	الطقس	
2	صخور منصهرة اندفعت من باطن الارض ثم تصلبت :	
	الصخور النارية	الصخور المتحولة
	الصخور المتصلبة	
3	من اسباب حدوث الزلازل :	
	سرعة الرياح	انصهار الصخور
	دوران الارض	
4	جهاز قياس سرعة الرياح :	
	الأنيمومتر	الباروجراف
	دوارة الرياح	
5	الغاز الذي يشكل النسبة الاعلى في الغلاف الجوي ونسبته 78% :	
	الاكسجين	النيتروجين
	الكربون	



6 درجات

السؤال الثالث : أكمل الفراغات التالية بما يناسبها ؟

( أ ) من العناصر الحية في الغلاف الحيوي :

الانسان و الحيوان .

( ب ) العمليات الخارجية تشكل سطح الارض تتكون من عمليتين هما :

التجوية و التعرية ..

( ج ) من اهم المحميات الطبيعية في المملكة العربية السعودية :

محمية حرة الحرة و محمية الوعول

4 درجات

السؤال الرابع : أكمل خرائط المفاهيم التالية ؟



تمت الاسئلة

إعداد: موقع منهجي

<https://www.mnhaji.com>

مديرة المدرسة:

معلمة المادة:

الاسم	الفصل	الدرجة
-------	-------	--------

الصف: الثاني المتوسط  
الدرجة الكلية: 10 درجات

المادة: الدراسات الاجتماعية  
الوحدة الرابعة: اغلفة كوكب الارض  
الزمن: 15 دقيقة

**أولاً: اختر الإجابة الصحيحة (ضع دائرة حول الإجابة الصحيحة) - (5 درجات)**

الغلاف الجوي يتكون أساساً من:  
أ) الأكسجين والنيتروجين ب) ثاني أكسيد الكربون فقط ج) الأوزون فقط د) بخار الماء فقط

الطبقة التي تحتوي على معظم الطقس والسحب هي:  
أ) الستراتوسفير ب) الميزوسفير ج) التروبوسفير د) الإكسوسفير

أي من العناصر يُعد من عناصر المناخ الأساسية:  
أ) الرياح ب) التضاريس ج) النباتات د) البحار

الغلاف الصخري يشمل:  
أ) القشرة الأرضية والوشاح والنواة ب) الغلاف الجوي فقط ج) الغلاف المائي فقط د) الغلاف الحيوي

الزلازل تحدث نتيجة:  
أ) حركة الصفائح الصخرية ب) سقوط الأمطار ج) دوران الأرض حول محورها د) حركة الرياح

**ثانياً: ضع علامة (✓) أمام العبارة الصحيحة وعلامة (X) أمام العبارة غير الصحيحة:**

النيتروجين يمثل النسبة الأكبر من مكونات الغلاف الجوي. ( )

خطوط الكنتور تستعمل لتوضيح عناصر الطقس والمناخ. ( )

من أسباب حدوث البراكين ارتفاع درجة الحرارة في باطن الأرض. ( )

الزلازل من العمليات الخارجية لتشكيل سطح الأرض. ( )

الغلاف الحيوي يشمل المخلوقات الحية فقط. ( )

# نهوذج الإجابة

المادة : الدراسات الاجتماعية  
الصف : الثاني المتوسط  
اختبار قصير  
الفصل الدراسي الاول 1448هـ

الاسم	الفصل	الدرجة
-------	-------	--------

الصف: الثاني المتوسط  
الدرجة الكلية: 10 درجات

المادة: الدراسات الاجتماعية  
الوحدة الرابعة: اغلفة كوكب الارض  
الزمن: 15 دقيقة

أولاً: اختر الإجابة الصحيحة (ضع دائرة حول الإجابة الصحيحة) - (5 درجات)

الغلاف الجوي يتكون أساساً من:  
(أ) الأكسجين والنتروجين (ب) ثاني أكسيد الكربون فقط (ج) الأوزون فقط (د) بخار الماء فقط

الطبقة التي تحتوي على معظم الطقس والسحب هي:  
(أ) الستراتوسفير (ب) الميزوسفير (ج) التروبوسفير (د) الإكسوسفير

أي من العناصر يُعد من عناصر المناخ الأساسية:  
(أ) الرياح (ب) التضاريس (ج) النباتات (د) البحار

الغلاف الصخري يشمل:  
(أ) القشرة الأرضية والوشاح والنواة (ب) الغلاف الجوي فقط (ج) الغلاف المائي فقط (د) الغلاف الحيوي

الزلازل تحدث نتيجة:  
(أ) حركة الصفائح الصخرية (ب) سقوط الأمطار (ج) دوران الأرض حول محورها (د) حركة الرياح

ثانياً: ضع علامة (✓) أمام العبارة الصحيحة وعلامة (X) أمام العبارة غير الصحيحة:

(✓) النتروجين يمثل النسبة الأكبر من مكونات الغلاف الجوي.

(X) خطوط الكنتور تستعمل لتوضيح عناصر الطقس والمناخ.

(✓) من أسباب حدوث البراكين ارتفاع درجة الحرارة في باطن الأرض.

(X) الزلازل من العمليات الخارجية لتشكيل سطح الأرض.

(✓) الغلاف الحيوي يشمل المخلوقات الحية فقط.

المادة : الدراسات الاجتماعية			
الصف: الثاني متوسط			
اختبار الوحدة الرابعة			اسم الطالب/ة:

### السؤال الأول: اختر الإجابة الصحيحة فيما يلي بوضع دائرة عليها:

١	منطقه وجود السحب والأمطار والعواصف وتعيش فيها الكائنات الحية			
أ	التروبوسفير	ب	الستراتوسفير	ج
د	الميزوسفير	الإكسوسفير		
٢	الغاز الذي يشكل النسبة العالية في الغلاف الجوي للأرض			
أ	النيتروجين	ب	الأكسجين	ج
د	ثاني أكسيد الكربون	الهيدروجين		
٣	المناخ هو تغيير			
أ	نمط الطقس في مده طويلة	ب	تقرير الطقس لهذا اليوم	ج
د	لا شيء مما سبق	الطقس على مدار اليوم		
٤	من العوامل المؤثرة في نمو النبات			
أ	المناخ	ب	التضاريس	ج
د	جميع ما ذكر	نوع التربة		
٥	من أسباب حدوث الزلازل			
أ	انصهار الصخور	ب	سرعة الرياح	ج
د	انخفاض درجة الحرارة	دوران الأرض		
٦	صخور منصهرة اندفعت من باطن الأرض ثم تصلبت :			
أ	الصخور النارية	ب	الصخور المتحولة	ج
د	الصخور المتصلبة	الصخور المتحولة		
٧	يتصف بالحرارة المرتفعة والأمطار الغزيرة طوال العام			
أ	الإقليم الموسمي	ب	الإقليم الاستوائي	ج
د	الإقليم المعتدل	الإقليم الصحراوي		
٨	من العمليات الداخلية البطيئة لتشكيل سطح الأرض			
أ	الانكسارات	ب	النحت	ج
د	البراكين	الزلازل		
٩	وجود انزلاقات في طبقات القشرة الأرضية يؤدي إلى حدوث			
أ	البراكين	ب	الزلازل	ج
د	التجوية	التعرية		
١٠	عندما تتحرك الصخور والتربة من أماكنها ومواقعها تسمى			
أ	التجوية	ب	الصدوع	ج
د	الرياح	التعرية		
١١	ثقل الهواء على الأرض الممتد من سطحها إلى نهاية الغلاف الغازي			
أ	الحرارة	ب	الضغط الجوي	ج
د	الرطوبة	الرياح		
١٢	نسيم البحر ونسيم البر من أنواع الرياح			
أ	الدائمة	ب	الموسمية	ج
د	اليومية	المحلية		
١٣	من طبقات الأرض تكون مصدراً للحمم البركانية			
أ	النواة الداخلية	ب	النواة الخارجية	ج
د	لا شيء مما سبق	الغلاف الصخري		
١٤	صخور توجد في المملكة العربية السعودية في الدرع العربي			
أ	الصخور الرسوبية	ب	الصخور المتحولة	ج
د	كل من أ و ب صحيح	الصخور النارية		

### السؤال الثاني : ضع الرقم الموجود أمام المجموعة الأولى أمام ما يناسبه من المجموعة الثانية :

الرقم	المجموعة الأولى	المجموعة الثانية
١	الترمومتر	جهاز قياس الرطوبة
٢	السيسموجراف	جهاز قياس درجات الحرارة في الجو
٣	الانيمومتر	جهاز رصد الزلازل
٤	الهيجرومتر	جهاز قياس سرعة الرياح



السؤال الثالث : ضع إشارة ( √ ) أمام الإجابة الصحيحة وإشارة ( × ) أمام الإجابة الخاطئة:

١	في أغلب الاحيان تؤدي التجوية إلى تعرية
٢	سُمك القشرة الارضية ما بين ١٠ كم و ٦٠ كم
٣	كلما ارتفعنا ١٥٠ متر تنخفض درجة مئوية واحدة من الحرارة
٤	يعد النبات الطبيعي من أهم العوامل المؤثرة في توزيع الحيوانات على سطح الأرض
٥	تجذب غازات الغلاف الجوي نحو الكره الأرضية بفعل الجاذبية
٦	تنوع الرياح على سطح الارض حسب أماكن تحركها وزمان حدوثها
٧	من أدوات رصد الطقس بالون الطقس والقمر الصناعي
٨	يكتسب الماء الحرارة بسرعة ويفقدها ببطء مما يعمل على تلطيف جو المناطق
٩	صخر البازلت وصخر الرخام من الأمثلة على الصخور (( النارية ))
١٠	أهم عناصر المناخ (( الحرارة ))

السؤال الثالث :

أ- من طبقات الغلاف الجوي :

١-  
٢-

ب- من العوامل المؤثرة في المناخ :

١-  
٢-

انتهت الأسئلة

موقع منهجي  
mnhaji.com



**السؤال الأول:** اختر الإجابة الصحيحة فيما يلي بوضع دائرة عليها:

١	منطقه وجود السحب والأمطار والعواصف وتعيش فيها الكائنات الحية	أ	التروبوسفير	ب	الستراتوسفير	ج	الميزوسفير	د	الإكسوسفير
٢	الغاز الذي يشكل النسبة العالية في الغلاف الجوي للأرض	أ	النيتروجين	ب	الأكسجين	ج	ثاني أكسيد الكربون	د	الهيدروجين
٣	المناخ هو تغيير	أ	نمط الطقس في مده طويلة	ب	تقرير الطقس لهذا اليوم	ج	الطقس على مدار اليوم	د	لا شيء مما سبق
٤	من العوامل المؤثرة في نمو النبات	أ	المناخ	ب	التضاريس	ج	نوع التربة	د	جميع ما ذكر
٥	من أسباب حدوث الزلازل	أ	انصهار الصخور	ب	سرعة الرياح	ج	دوران الأرض	د	انخفاض درجة الحرارة
٦	صخور منصهرة اندفعت من باطن الأرض ثم تصلبت :	أ	الصخور النارية	ب	الصخور المتحولة	ج	الصخور المتصلبة	د	الصخور المتحولة
٧	يتصف بالحرارة المرتفعة والأمطار الغزيرة طوال العام	أ	الإقليم الموسمي	ب	الإقليم الاستوائي	ج	الإقليم الصحراوي	د	الإقليم المعتدل
٨	من العمليات الداخلية البطيئة لتشكيل سطح الأرض	أ	الانكسارات	ب	النحت	ج	الزلازل	د	البراكين
٩	وجود انزلاقات في طبقات القشرة الأرضية يؤدي إلى حدوث	أ	البراكين	ب	الزلازل	ج	التعرية	د	التجوية
١٠	عندما تتحرك الصخور والتربة من أماكنها ومواقعها تسمى	أ	التجوية	ب	الصدوع	ج	التعرية	د	الرياح
١١	ثقل الهواء على الأرض الممتد من سطحها إلى نهاية الغلاف الغازي	أ	الحرارة	ب	الضغط الجوي	ج	الرياح	د	الرطوبة
١٢	نسيم البحر ونسيم البر من أنواع الرياح	أ	الدائمة	ب	الموسمية	ج	المحلية	د	اليومية
١٣	من طبقات الأرض تكون مصدراً للحمم البركانية	أ	النواة الداخلية	ب	النواة الخارجية	ج	الغلاف الصخري	د	لا شيء مما سبق
١٤	صخور توجد في المملكة العربية السعودية في الدرع العربي	أ	الصخور الرسوبية	ب	الصخور المتحولة	ج	الصخور النارية	د	كل من أ و ب صحيح

**السؤال الثاني :** ضع الرقم الموجود أمام المجموعة الأولى أمام ما يناسبه من المجموعة الثانية :

الرقم	المجموعة الأولى	المجموعة الثانية
١	الترمومتر	جهاز قياس الرطوبة
٢	السيسموجراف	جهاز قياس درجات الحرارة في الجو
٣	الانيمومتر	جهاز رصد الزلازل
٤	الهيجرومتر	جهاز قياس سرعة الرياح

السؤال الثالث : ضع إشارة ( ✓ ) أمام الإجابة الصحيحة وإشارة ( × ) أمام الإجابة الخاطئة:

✓	١	في أغلب الاحيان تؤدي التجوية إلى تعرية
✓	٢	سُمك القشرة الارضية ما بين ١٠ كم و ٦٠ كم
✓	٣	كلما ارتفعنا ١٥٠ متر تنخفض درجة مئوية واحدة من الحرارة
✓	٤	يعد النبات الطبيعي من أهم العوامل المؤثرة في توزيع الحيوانات على سطح الأرض
✓	٥	تجذب غازات الغلاف الجوي نحو الكره الأرضية بفعل الجاذبية
✓	٦	تنوع الرياح على سطح الارض حسب أماكن تحركها وزمان حدوثها
✓	٧	من أدوات رصد الطقس بالون الطقس والقمر الصناعي
×	٨	يكتسب الماء الحرارة بسرعة ويفقدها ببطء مما يعمل على تلطيف جو المناطق
×	٩	صخر البازلت وصخر الرخام من الأمثلة على الصخور (( النارية ))
✓	١٠	أهم عناصر المناخ (( الحرارة ))

السؤال الثالث :

أ- من طبقات الغلاف الجوي :

١- التروبوسفير.

٢- الستراتوسفير.

ب- من العوامل المؤثرة في المناخ :

١- الموقع بالنسبة لدوائر العرض. ٢- الارتفاع عن مستوى سطح البحر.

انتهت الأسئلة

**موقع منهجي**   
mnhaji.com

## اختبار الوحدة الرابعة الفصل الدراسي الاول

اسم الطالبة: .....

السؤال الأول : ضعي إشارة (√) أو (×) امام العبارات التالية:

- ( ) 1) كلما اقتربت من خط الاستواء كان الجو اكثر دفئا.
- ( ) 2) ترتفع درجة الحرارة كلما ارتفعنا عن مستوى سطح البحر.
- ( ) 3) التقنية الحديثة والأقمار الصناعية لا تسهم في معرفة الطقس.
- ( ) 4) يختلف الضغط الجوي من مكان إلى آخر على سطح الأرض.
- ( ) 5) من مظاهر التكثف الضباب والسحاب.
- ( ) 6) التجوية نوعان كيميائية وميكانيكية.
- ( ) 7) في المملكة العربية السعودية براكين قديمة.
- ( ) 8) الانكسارات والالتواءات من العمليات الداخلية السريعة.
- ( ) 9) مقياس ريختر يزيد على 100 درجة.
- ( ) 10) تقاس الزلازل بالترموتر.

السؤال الثاني : اختاري الإجابة الصحيحة بوضع دائرة عليها:

1) أي مما يأتي من نتائج مؤثرات الغلاف الجوي:		
(أ) دعم الحياة	(ب) حدوث الزلازل على الأرض	(ج) لا شيء مما سبق
2) ما أفضل وصف للأرض:		
(أ) معدن منصهر	(ب) مكان يحوي ماء ويابسة	(ج) جميع ما سبق
3) هو وصف لحاله الجو في مكان محدد لمدة طويلة		
(أ) الطقس	(ب) المناخ	(ج) الرياح
4) الرطوبة تقاس بـ		
(أ) المرطاب	(ب) الترمومتر التقليدي	(ج) الباروجراف

السؤال الثالث : اكمل الفراغات التالية بما يناسبها من الكلمات التالية :  
[ الالتواءات - البراكين - الجاذبية - التعرية ]

- 1- العمليات الباطنية لتشكل سطح الأرض تتكون من عمليات بطيئة مثل .....  
وعمليات سريعة مثل .....
- 2- أبرز عوامل التعرية عامل .....
- 3- العمليات الخارجية التي تشكل سطح الأرض تتكون من عمليتين هما التجوية و  
.....

السؤال الرابع : ما أنواع البراكين :

.....  
.....  
.....

انتهت الأسئلة

إعداد: موقع منهجي التعليمي

<https://www.mnhaji.com>