

تم تحميل وعرض المادة من

منهجي

mnhaji.com



موقع منهجي منصة تعليمية توفر كل ما يحتاجه المعلم
والطالب من حلول الكتب الدراسية وشرح للدروس
بأسلوب مبسط لكافة المراحل التعليمية وتوزيع
المناهج وتحضير وملخصات ونماذج اختبارات وأوراق
عمل جاهزة للطباعة والتحميل بشكل مجاني

حمل تطبيق منهجي ليصلك كل جديد



نموذج اسئلة اختبار الفترة الثانية
المادة: الدراسات الاجتماعية
الصف: الأول المتوسط
الفصل الدراسي الاول
1448هـ

اسم الطالب/ة	الدرجة	30
--------------	--------	----

14 درجة

السؤال الأول:

أ ضع/ي علامة (√) امام العبارة الصائبة وعلامة (×) امام العبارة الخاطئة ؟

1	أستثمر النبي صلى الله عليه وسلم موسم الحج في الدعوة
2	كل أبناء النبي صلى الله عليه وسلم من السيدة خديجة ماعدا ابراهيم
3	هاجر المسلمون الأوائل الى الحبشة .
4	حدثت ثلاثة بيعات في العقبة
5	اتسمت الحالة السياسية في شبة الجزيرة العربية قبل الاسلام بالصراعات و الحروب
6	في شهر رمضان نزل جبريل عليه السلام على النبي محمد صلى الله عليه وسلم في غار حراء
7	حجَّ النبي محمد صلى الله عليه وسلم مرتين
8	أمَّ عمر بن الخطاب رضى الله عنه المسلمين في الصلاة لما مرض النبي محمد صلى الله عليه وسلم

ب عدّد و أذكر (إثنين فقط لما يأتي) ؟

1	أعمال النبي محمد صلى الله عليه وسلم قبل البعثة :

2	من شمائل النبي صلى الله عليه وسلم :

3	من اسواق العرب قبل الاسلام :



أ ضع/ي الأرقام الموجودة أمام المجموعة الأولى أمام ما يناسبها من المجموعة الثانية ؟

الرقم	المجموعة الأولى	الرقم	المجموعة الثانية
1	غزوة الخندق	2 هـ	
2	حجة الوداع	3 هـ	
3	غزوة أحد	5 هـ	
4	وفاة النبي صلى الله عليه وسلم	8 هـ	
5	غزوة بدر	10 هـ	
6	فتح مكة	11 هـ	
		12 هـ	

ب مستعين/ة بالشكل المجاور ضع/ي مصطلحا مناسباً أمام العبارات التالية ؟

حلف الفضول
غار حراء
سلمان الفارسي
الغزوة
نعيم بن مسعود

1	هي التي قادها النبي صلى الله عليه وسلم بنفسه
2	أشار على النبي بحفر الخندق في غزوة الخندق
3	عقدته قريش وتعاهدوا فيه على نصرة المظلوم
4	اتخذه النبي في جبل النور ليتعبد فيه قبل البعثة

ج اختر الاجابة الصائبة والصحيحة لما يأتي؟

1	بلغ عدد من بايع النبي محمد صلى الله عليه وسلم من اهل يثرب في بيعة العقبة الأولى :						
أ	12 رجلاً	ب	15 رجلاً	ج	17 رجلاً	د	20 رجلاً
2	آخر وصايا النبي محمد صلى الله عليه وسلم قبل وفاته :						
أ	بر الوالدين	ب	الصيام	ج	الحج	د	الصلاة
3	كان النبي صلى الله عليه وسلم يجالس الفقراء و يحب المساكين و يأكل معهم وهذا يُمَثَلُ قيمة :						
أ	الصدق	ب	الأمانة	ج	التواضع	د	الرفق
4	كل أبناء النبي محمد صلى الله عليه وسلم الذكور و الاناث من السيدة خديجة رضى الله عنها عدا :						
أ	القاسم	ب	عبدالله	ج	ابراهيم	د	رقية
5	كفل النبي صلى الله عليه وسلم بعد وفاة أمه :						
أ	جده عبدالمطلب	ب	عمه أبوطالب	ج	عمه أبو لهب	د	ورقة بن نوفل
6	هي ملة أبينا ابراهيم عليه السلام ملة التوحيد :						
أ	النصرانية	ب	الحنيفية	ج	اليهودية	د	المجوسية

← انتهت الاسئلة ←

مديرة المدرسة:

معلمة/ة المادة:

نموذج اسئلة اختبار الفترة الثانية
المادة: الدراسات الاجتماعية
الصف: الأول المتوسط
الفصل الدراسي الاول
1448هـ

نموذج الإجابة

30	الدرجة	اسم الطالب/ة
----	--------	--------------

14 درجة

السؤال الأول:

ضعي علامة (√) امام العبارة الصائبة وعلامة (×) امام العبارة الخاطئة ؟

أ

✓	1	أستثمر النبي صلى الله عليه وسلم موسم الحج في الدعوة
✓	2	كل أبناء النبي صلى الله عليه وسلم من السيدة خديجة ماعدا ابراهيم
✓	3	هاجر المسلمون الأوائل الى الحبشة .
×	4	حدثت ثلاثة بيعات في العقبة
✓	5	اتسمت الحالة السياسية في شبة الجزيرة العربية قبل الاسلام بالصراعات و الحروب
✓	6	في شهر رمضان نزل جبريل عليه السلام على النبي محمد صلى الله عليه وسلم في غار حراء
×	7	حج النبي محمد صلى الله عليه وسلم مرتين
×	8	أم عمر بن الخطاب رضى الله عنه المسلمين في الصلاة لما مرض النبي محمد صلى الله عليه وسلم

عدّد و أذكر (إثنين فقط لما يأتي) ؟

ب

1	أعمال النبي محمد صلى الله عليه وسلم قبل البعثة :
	التجارة رعي الغنم
2	من شمائل النبي صلى الله عليه وسلم :
	الصدق والتواضع حسن معاملة الجار
3	من اسواق العرب قبل الاسلام :
	سوق عكاظ وسوق ذي المجاز سوق المجنة وسوق حجر اليمامة

أقلب الورقة

موقع منهجي
mnhaji.com



أ ضعبي الأرقام الموجودة أمام المجموعة الأولى أمام ما يناسبها من المجموعة الثانية ؟

الرقم	المجموعة الأولى	الرقم	المجموعة الثانية
1	غزوة الخندق	3	2 هـ
2	حجة الوداع	5	3 هـ
3	غزوة أحد	2	5 هـ
4	وفاة النبي صلى الله عليه وسلم	6	8 هـ
5	غزوة بدر	1	10 هـ
6	فتح مكة	4	11 هـ
			12 هـ

ب مستعينة بالشكل المجاور ضعبي مصطلحا مناسباً أمام العبارات التالية ؟

حلف الفضول
غار حراء
سلمان الفارسي
الغزوة
نعيم بن مسعود

1	الغزوة	هي التي قادها النبي صلى الله عليه وسلم بنفسه
2	سلمان الفارسي	أشار على النبي بحفر الخندق في غزوة الخندق
3	حلف الفضول	عقدته قريش وتعاهدوا فيه على نصرة المظلوم
4	غار حراء	اتخذها النبي في جبل النور ليتعبد فيه قبل البعثة

ج اختر الاجابة الصائبة والصحيحة لما يأتي؟

1	بلغ عدد من بايع النبي محمد صلى الله عليه وسلم من اهل يثرب في بيعة العقبة الأولى :	أ	12 رجلاً	ب	15 رجلاً	ج	17 رجلاً	د	20 رجلاً
2	آخر وصايا النبي محمد صلى الله عليه وسلم قبل وفاته :	أ	بر الوالدين	ب	الصيام	ج	الحج	د	الصلاة
3	كان النبي صلى الله عليه وسلم يجالس الفقراء و يحب المساكين و يأكل معهم وهذا يُمَثَلُ قيمة :	أ	الصدق	ب	الأمانة	ج	التواضع	د	الرفق
4	كل أبناء النبي محمد صلى الله عليه وسلم الذكور و الاناث من السيدة خديجة رضي الله عنها عدا :	أ	القاسم	ب	عبدالله	ج	ابراهيم	د	رقية
5	كفل النبي صلى الله عليه وسلم بعد وفاة أمه :	أ	جده عبدالمطلب	ب	عمه أبوطالب	ج	عمه أبو لهب	د	ورقة بن نوفل
6	هي ملة أبينا ابراهيم عليه السلام ملة التوحيد :	أ	النصرانية	ب	الحنيفية	ج	اليهودية	د	المجوسية

← انتهت الاسئلة ←

مديرة المدرسة:

معلمة المادة:

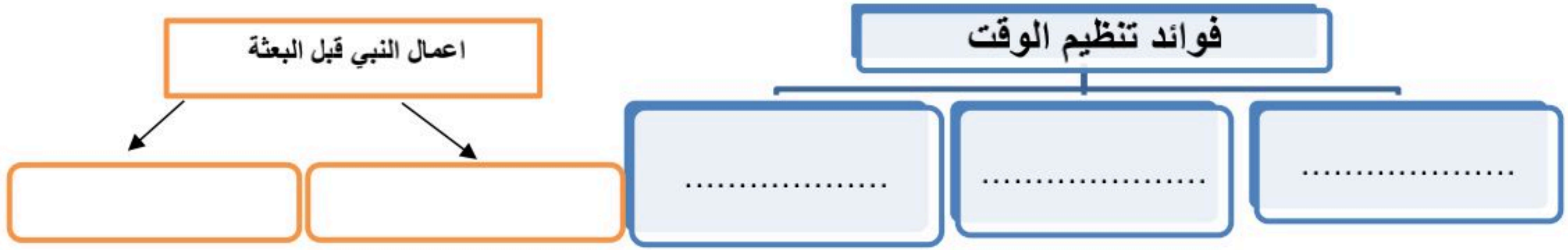
اسم الطالب رباعياً / الفصل:.....

٣٠ درجة

السؤال الأول: اختر الإجابة الصحيحة فيما يلي بوضع دائرة حول الخيار المناسب: (١٠ درجات)

١	كل مما يلي من العناصر الصحيحة في التخطيط ما عدا:
أ-	تصميم جدول للأعمال
ب-	تحديد وقت للراحة المنتظمة
ج-	تحديد الأعمال دون زمن
د-	الجدية في التزام التخطيط
٢	الإعداد المنظم، لتحديد المهام والأعمال المستقبلية، ومواعيد القيام بها، وكيفية إنجازها.
أ-	تنظيم الوقت
ب-	التخطيط
ج-	ترتيب الأولويات
د-	الإنجاز
٣	كل مما يلي من أهداف التخطيط ما عدا:
أ-	الاستمتاع بالوقت
ب-	المحافظة على الصحة
ج-	النجاح والتفوق
د-	كثرة المهام
٤	مرضعة النبي محمد صلى الله عليه وسلم هي
أ-	حليمة السعدية
ب-	خديجة بن خويلد
ج-	أمينة بنت وهب
د-	أم أيمن
٥	ولد نبينا محمد صلى الله عليه وسلم في في شهر بيبع الاول من عام ٥٧١ م :
أ-	المدينة المنورة
ب-	الطائف
ج-	مكة المكرمة
د-	نجد
٦	ملة النبي إبراهيم عليه السلام :
أ-	الحنيفية
ب-	اليهودية
ج-	النصرانية
د-	الوثنية
٧	عبادة النار المجوسية نشأت في دولة :
أ	اليمن
ب	إيران
ج	الشام
د	المغرب
٨	من أسواق الطائف قديماً سوق () :-
أ	هجر
ب	نوَ مجاز
ج	عكاظ
د	دومة الجندول
٩	توفي والد النبي محمد صلى الله عليه وسلم في:
أ	مكة المكرمة
ب	يثرب
ج	الطائف
د	الشام
١٠	خرج النبي صلى الله عليه وسلم مع عمه أبو طالب في رحلة تجارية لبلاد :
أ	اليمن
ب	الشام
ج	العراق
د	الحبشة

السؤال الثاني: أكمل خريطة المفاهيم التالية : (٥ درجات)



السؤال الثالث: ضع علامة (٧) أمام العبارة الصحيحة و علامة (x) أمام العبارة الخاطئة فيما يلي : (١٠ درجات)

١	يعد تصميم عدد من الجداول للأعمال نفسها أكثر فاعلية من الجدول الواحد.
٢	تعتني رؤية ٢٠٣٠ بتحقيق شخصية وطنية تحرص على التخطيط.
٣	من أسس التخطيط تنظيم الوقت.
٤	كانت السمة العامة للحالة السياسية في شبه الجزيرة العربية قبل الاسلام الاضطراب والنزاعات والحروب وتعدد الزعامات السياسية
٥	يساعدنا التخطيط على تحقيق العديد من الأهداف وإنجاز المهام
٦	جميع اولاد النبي صلى الله عليه وسلم من زوجته خديجة ماعدا إبراهيم من مارية القبطية
٧	انتشرت النصرانية في شمال شبه الجزيرة العربية وجنوبها
٨	عدد بنات النبي صلى الله عليه وسلم أربع
٩	من الضروري عند التخطيط تخصيص وقت لما يطرأ من أعمال
١٠	أول زوجات النبي صلى الله عليه وسلم السيدة عائشة

السؤال الرابع : أ - أكمل العبارات الآتية

- ١- السكان المستقرون في المدن والقرى يسمون.....(.....)
 - ٢ - حلف عقده قريش وتعاهدوا فيه على نصره المظلوم.....
 - ٣- بعد وفاة جد النبي صلى الله عليه وسلم كفله.....
- ب - ما سبب رضاعة النبي في بادية بني سعد ؟

.....

نموذج الإجابة

المادة : الدراسات الاجتماعية
الصف : الأول المتوسط
اليوم : . التاريخ : / / ١٤٤٨ هـ
اختبار الفترة الثانية الاختبار الأول لعام ١٤٤٨ هـ

٣٠ درجة

اسم الطالب رابعياً / الفصل:.....

(١٠ درجات)

السؤال الأول: اختر الإجابة الصحيحة فيما يلي بوضع دائرة حول الخيار المناسب:

١	كل مما يلي من العناصر الصحيحة في التخطيط ما عدا:	أ- تصميم جدول للأعمال	ب- تحديد وقت للراحة المنتظمة	ج- تحديد الأعمال دون زمن	د- الجدية في التزام التخطيط
٢	الإعداد المنظم، لتحديد المهام والأعمال المستقبلية، ومواعيد القيام بها، وكيفية إنجازها.	أ- تنظيم الوقت	ب- التخطيط	ج- ترتيب الأولويات	د- الإنجاز
٣	كل مما يلي من أهداف التخطيط ما عدا:	أ- الاستمتاع بالوقت	ب- المحافظة على الصحة	ج- النجاح والتفوق	د- كثرة المهام
٤	مرضعة النبي محمد صلى الله عليه وسلم هي	أ- حليلة السعدية	ب- خديجة بن خويلد	ج- أمينة بنت وهب	د- أم أيمن
٥	ولد نبينا محمد صلى الله عليه وسلم في في شهر بيب الاول من عام ٥٧١ م :	أ- المدينة المنورة	ب- الطائف	ج- مكة المكرمة	د- نجد
٦	ملة النبي إبراهيم عليه السلام :	أ- الحنيفية	ب- اليهودية	ج- النصرانية	د- الوثنية
٧	عبادة النار المجوسية نشأت في دولة :	أ اليمن	ب إيران	ج الشام	د المغرب
٨	من أسواق الطائف قديماً سوق (-) :	أ هجر	ب نو مجاز	ج عكاظ	د دومة الجندول
٩	توفي والد النبي محمد صلى الله عليه وسلم في:	أ مكة المكرمة	ب يثرب	ج الطائف	د الشام
١٠	خرج النبي صلى الله عليه وسلم مع عمه أبو طالب في رحلة تجارية لبلاد :	أ اليمن	ب الشام	ج العراق	د الحبشة

السؤال الثاني: أكمل خريطة المفاهيم التالية : (٥ درجات)



السؤال الثالث: ضع علامة (✓) أمام العبارة الصحيحة و علامة (x) أمام العبارة الخاطئة فيما يلي : (١٠ درجات)

1	يعد تصميم عدد من الجداول للأعمال نفسها أكثر فاعلية من الجدول الواحد.	×
2	تعتني رؤية ٢٠٣٠ بتحقيق شخصية وطنية تحرص على التخطيط.	✓
3	من أسس التخطيط تنظيم الوقت.	✓
4	كانت السمة العامة للحالة السياسية في شبه الجزيرة العربية قبل الاسلام الاضطراب والنزاعات والحروب وتعدد الزعامات السياسية	✓
5	يساعدنا التخطيط على تحقيق العديد من الأهداف وإنجاز المهام	✓
6	جميع اولاد النبي صلى الله عليه وسلم من زوجته خديجة ماعدا إبراهيم من مارية القبطية	✓
7	انتشرت النصرانية في شمال شبه الجزيرة العربية وجنوبها	✓
8	عدد بنات النبي صلى الله عليه وسلم أربع	✓
9	من الضروري عند التخطيط تخصيص وقت لما يطرأ من أعمال	✓
10	أول زوجات النبي صلى الله عليه وسلم السيدة عائشة	×

السؤال الرابع : أ - أكمل العبارات الآتية

- السكان المستقرون في المدن والقرى يسمون.....**الحضر**
- حلف عقده قريش وتعاهدوا فيه على نصره المظلوم.....**حلف الفضول**
- بعد وفاة جد النبي صلى الله عليه وسلم كفله.....**عمه أبو طالب**

ب - ما سبب رضاعة النبي في بادية بني سعد ؟

.....**حفاظا على سلامة لغتهم وفصاحة سنتهم وصحة أجسامهم.**

موقع منهجي 
mnhaji.com

مع تمنياتي للجميع بالتوفيق / معلم المادة :

اسم الطالب رباعياً / الفصل:.....

٣٠ درجة

السؤال الأول: اختر الإجابة الصحيحة فيما يلي بوضع دائرة حول الخيار المناسب: (١٠ درجات)

١	يعتمد نجاح التخطيط للدراسة على:			
	أ- تصميم جدول للأعمال	ب- تحديد وقت للراحة	ج- معرفة قيمة الوقت	د- ترتيب الأولويات
٢	الإعداد المنظم، لتحديد المهام والأعمال المستقبلية، ومواعيد القيام بها، وكيفية إنجازها.			
	أ- تنظيم الوقت	ب- التخطيط	ج- ترتيب الأولويات	د- الإنجاز
٣	من خطوات تنظيم الوقت:			
	أ- أداء الأعمال في الوقت	ب- الاستفادة الكاملة من الوقت	ج- تحقيق التوازن بين الأعمال	د- حصر الأعمال اليومية
٤	تقع شبه الجزيرة العربية في قارة:			
	أ- أوروبا	ب- آسيا	ج- إفريقيا	د- أستراليا
٥	من الأخلاق الحسنة عند العرب كل ما يلي ما عدا:			
	أ- الأخذ بالثأر	ب- الوفاء بالعهد	ج- حماية الجار	د- الكرم
٦	كانت رحلة الشتاء إلى :			
	أ- الشام	ب- مصر	ج- العراق	د- اليمن
٧	من أهم موروثات الشعر عند العرب:			
	أ- المعلقة السبع	ب- الحوليات	ج- المعلقة الخمس	د- القصائد
٨	كان سوق ذو المجاز في:			
	أ- الطائف	ب- مكة	ج- الرياض	د- المدينة المنورة
٩	بقي النبي صلى الله عليه وسلم في بني سعد عند مرضعته حليلة السعدية:			
	أ- ثلاث سنوات	ب- أربع سنوات	ج- خمس سنوات	د- ست سنوات
١٠	أول زوجات النبي صلى الله عليه وسلم السيدة:			
	أ- عائشة	ب- خديجة	ج- مارية	د- حفصة

السؤال الثاني : ضع علامة (٧) أمام العبارة الصحيحة و علامة (x) أمام العبارة الخاطئة فيما يلي : (١٠ درجات)

١	يساعد التخطيط على تنظيم الوقت واختيار الأسلوب المناسب للدراسة.
٢	يعد تصميم عدد من الجداول للأعمال نفسها أكثر فاعلية من الجدول الواحد.
٣	التخطيط الالكتروني أفضل من استخدام الورقة والقلم.
٤	من نتائج التخطيط التوتر والقلق.
٥	يساعدنا التخطيط على تحقيق العديد من الأهداف وإنجاز المهام
٦	البادية هم الذين يسكنون الصحراء وينتقلون من مكان لآخر بحثاً عن الماء والعشب
٧	ولد النبي ﷺ في شهر ربيع الثاني من عام الفيل
٨	كانت السمة العامة في شبه الجزيرة العربية قبل الإسلام الاضطراب وتعدد الزعامات السياسية
٩	من الضروري عند التخطيط تخصيص وقت لما يطرأ من أعمال
١٠	شهد النبي صلى الله عليه وسلم حلف الفضول.

السؤال الثالث : أ - رتب خطوات تنظيم الوقت للمهام الدراسية

- تحديد الوقت اللازم لإنجاز كل عمل.

- ترتيب الأعمال وفق الأولوية.

- تحديد وقت للاستراحة.

- إعداد قائمة الأعمال اليومية بعد حصرها.

- كتابة جميع الأعمال في قائمة واحدة.

ب - أكتب المفهوم الدال العبارة الآتية :

١- حلف عقده قريش وتعاهدوا فيه على نصره المظلوم..... (.....)

٢- فرح بميلاد النبي صلى الله عليه وسلم واسماه محمداً (.....)

٢- تشرفت بإرضاع النبي صلى الله عليه وسلم وبقي عندها أربع سنوات (.....)

٤- كان الصنم الأعظم لقريش على ظهر الكعبة. (.....)

٥- ملة أبينا إبراهيم وهي ملة التوحيد. (.....)

موقع منهجي 
mnhaji.com

مع تمنياتي للجميع بالتوفيق / معلم المادة :

المادة : الدراسات الاجتماعية
الصف : الأول المتوسط
اليوم : . التاريخ : / / ١٤٤٨ هـ
اختبار الفترة الثانية الاختبار الأول لعام ١٤٤٨ هـ

نموذج الإجابة

٣٠ درجة

اسم الطالب رباعياً / الفصل:

(١٠ درجات)

السؤال الأول: اختر الإجابة الصحيحة فيما يلي بوضع دائرة حول الخيار المناسب:

١	يعتمد نجاح التخطيط للدراسة على:	أ- تصميم جدول للأعمال	ب- تحديد وقت للراحة	ج- معرفة قيمة الوقت	د- ترتيب الأولويات
٢	الإعداد المنظم، لتحديد المهام والأعمال المستقبلية، ومواعيد القيام بها، وكيفية إنجازها.	أ- تنظيم الوقت	ب- التخطيط	ج- ترتيب الأولويات	د- الإنجاز
٣	من خطوات تنظيم الوقت:	أ- أداء الأعمال في الوقت	ب- الاستفادة الكاملة من الوقت	ج- تحقيق التوازن بين الأعمال	د- حصر الأعمال اليومية
٤	تقع شبه الجزيرة العربية في قارة:	أ- أوروبا	ب- آسيا	ج- إفريقيا	د- أستراليا
٥	من الأخلاق الحسنة عند العرب كل ما يلي ما عدا:	أ- الأخذ بالثأر	ب- الوفاء بالعهد	ج- حماية الجار	د- الكرم
٦	كانت رحلة الشتاء إلى:	أ- الشام	ب- مصر	ج- العراق	د- اليمن
٧	من أهم موروثات الشعر عند العرب:	أ- المعلقة السبع	ب- الحوليات	ج- المعلقات الخمس	د- القصائد
٨	كان سوق ذو المجاز في:	أ- الطائف	ب- مكة	ج- الرياض	د- المدينة المنورة
٩	بقي النبي صلى الله عليه وسلم في بني سعد عند مرضعته حليلة السعدية:	أ- ثلاث سنوات	ب- أربع سنوات	ج- خمس سنوات	د- ست سنوات
١٠	أول زوجات النبي صلى الله عليه وسلم السيدة:	أ- عائشة	ب- خديجة	ج- مارية	د- حفصة

(١٠ درجات)

السؤال الثاني : ضع علامة (٧) أمام العبارة الصحيحة و علامة (x) أمام العبارة الخاطئة فيما يلي :

✓	١	يساعد التخطيط على تنظيم الوقت واختيار الأسلوب المناسب للدراسة.
✗	٢	يعد تصميم عدد من الجداول للأعمال نفسها أكثر فاعلية من الجدول الواحد.
✗	٣	التخطيط الالكتروني أفضل من استخدام الورقة والقلم.
✗	٤	من نتائج التخطيط التوتر والقلق.
✓	٥	يساعدنا التخطيط على تحقيق العديد من الأهداف وإنجاز المهام
✓	٦	البادية هم الذين يسكنون الصحراء وينتقلون من مكان لآخر بحثاً عن الماء والعشب
✗	٧	ولد النبي ﷺ في شهر ربيع الثاني من عام الفيل
✓	٨	كانت السمة العامة في شبه الجزيرة العربية قبل الإسلام الاضطراب وتعدد الزعامات السياسية
✓	٩	من الضروري عند التخطيط تخصيص وقت لما يطرأ من أعمال
✓	١٠	شهد النبي صلى الله عليه وسلم حلف الفضول.

السؤال الثالث : أ - رتب خطوات تنظيم الوقت للمهام الدراسية

٤ - تحديد الوقت اللازم لإنجاز كل عمل.

٣ - ترتيب الأعمال وفق الأولوية.

٥ - تحديد وقت للاستراحة.

١ - إعداد قائمة الأعمال اليومية بعد حصرها.

٢ - كتابة جميع الأعمال في قائمة واحدة.

ب - أكتب المفهوم الدال العبارة الآتية :

حلف الفضول

١- حلف عقده قريش وتعاهدوا فيه على نصره المظلوم.....

جده عبدالمطلب

٢- فرح بميلاد النبي صلى الله عليه وسلم واسماه محمداً.....

٢- تشرفت بإرضاع النبي صلى الله عليه وسلم وبقي عندها أربع سنوات **حليمة السعدية**

٤- كان الصنم الأعظم لقريش على ظهر الكعبة. (**هبل**.....)

٥- ملة أبينا إبراهيم وهي ملة التوحيد. (**الحنيفية**.....)

موقع منهجي 
mnhaji.com

مع تمنياتي للجميع بالتوفيق / معلم المادة :

اختبار مادة الاجتماعيات الفترة الثانية لعام ١٤٤٨ هـ

٣٠

الصف :

اسم الطالبة:

درجات	السؤال الأول : أ- إختاري الإجابة الصحيحة في كلا مما يأتي				
1	يساعد..... على تنظيم الوقت، واختيار الاسلوب المناسب للدراسة				
أ	التخطيط	ب	الانجاز	ج	الاعمال
د	جميع ما ذكر				
2	تقع شبه الجزيرة العربية فيالعالم				
أ	وسط	ب	جنوب	ج	شرق
د	شمال				
3 وهي ملة أبينا إبراهيم ملة التوحيد،				
أ	الحنيفية	ب	اليهودية	ج	الاصنام
د	لاشي مما ذكر				
4	من الممارسات الدينية				
أ	الاصنام	ب	الاجرام السماوية	ج	المجوسية
د	جميع ما ذكر				
5	عبادة النار (المجوسية) : نشأت في بلاد				
أ	الشام	ب	فارس	ج	العراق
د	الاردن				
6	بعض الأخلاق الحسنة عند العرب قبل الإسلام				
أ	الوفاء بالعهد	ب	حماية الجار	ج	الشجاعة
د	جميع ما ذكر				
7	ولد النبي محمد ﷺ في في شهر ربيع الأول من عام الفيل ٥٧١ للميلاد				
أ	مكة المكرمة	ب	المدينة المنورة	ج	الطائف
د	لاشي مما ذكر				
8	نزل الوحي على النبي محمد ﷺ في شهر من عام ٦١٠ للميلاد في غار حراء				
أ	رجب	ب	رمضان	ج	شوال
د	شعبان				
9	من وصايا الإسلام في الإحسان إلى الجار				
أ	محبه الخير له	ب	تجنب إيذانه	ج	بذل المعروف له
د	جميع ما ذكر				
10	من شعراء المعلقات السبع				
أ	طرفة بن العبد	ب	عَنْترة بن شداد	ج	عمرو بن كُثُوم
د	جميع ما ذكر				
11	كانت عزوة الخندق في عام				
أ	(٥٣هـ)	ب	(٥٨هـ)	ج	(٥٥هـ)
د	(٥٢هـ)				



15 درجات	ب- ضعي علامة (√) امام العبارة الصحيحة وعلامة ح (×) امام العبارة الخاطئة
1	شرف الله شبه الجزيرة العربية وجعلها أرض التوحيد والحنيفية ففيها هبط ادم وحواء
2	ابرز خطوات تنظيم الوقت حصر الاعمال اليومية والاستفادة الكاملة من الوقت
3	يعتمد نجاح التخطيط للدراسة على معرفة قيمة الوقت، وعدم إدراك أهميته
4	التخطيط هو الاعداد المنظم، لتحديد المهام والاعمال المستقبلية
5	كانت شبه الجزيرة العربية قبل الاسلام نشطةً اقتصادياً وحضارياً
6	مرضعته النبي محمد ﷺ هي (حليلة السعدية)
7	من أساليب قريش في مواجهة الدعوة تشويه الدعوة والاعتداء على النبي ﷺ
8	أولاد النبي محمد ﷺ الأبناء - القاسم و عبدالله و إبراهيم
9	من عمال النبي محمد صلى الله عليه وسلم في المدينة المنورة بناء المسجد النبوي
10	أول هجرة النبي محمد صلى الله عليه وسلم الى المدينة المنورة
11	الغزوة هي التي قادها النبي صلى الله عليه وسلم بنفسه
12	غزوة بدر كانت بسبب استلاء قريش في مكة على أموال المسلمين الذين هاجروا للمدينة
13	من نتائج فتح مكة المكرمة اقبال الناس على دين الله أفواجا
14	توفي النبي محمد صلى الله عليه وسلم في السنة العاشرة للهجرة.
15	امضى النبي محمد صلى الله عليه وسلم في تبليغ الدين الاسلامي خمس عشرة سنة.

4 درجات	ب - أذكر ما يلي
---------	-----------------

❖ اثنين من أسواق العرب في شبه الجزيرة العربية

-2

-1

❖ اثنين من شمائل النبي محمد صل الله عليه وسلم

-2

-1



المادة : اجتماعيات
الصف : الأول متوسط
الفصل الدراسي : الأول

نموذج الإجابة

اختبار مادة الاجتماعيات الفترة الثانية لعام ١٤٤٨ هـ

٣٠

الصف :

اسم الطالبة:

السؤال الأول : أ- إختاري الإجابة الصحيحة في كلا مما يأتي	١١ درجات
يساعد..... على تنظيم الوقت، واختيار الاسلوب المناسب للدراسة	١
أ التخطيط ب الانجاز ج الاعمال د جميع ما ذكر	
٢ تقع شبه الجزيرة العربية في.....العالم	
أ وسط ب جنوب ج شرق د شمال	
٣ وهي ملة أبينا إبراهيم ملة التوحيد،	
أ الحنيفية ب اليهودية ج الاصنام د لاشي مما ذكر	
٤ من الممارسات الدينية	
أ الاصنام ب الاجرام السماوية ج المجوسية د جميع ما ذكر	
٥ عبادة النار (المجوسية) : نشأت في بلاد	
أ الشام ب فارس ج العراق د الاردن	
٦ بعض الأخلاق الحسنة عند العرب قبل الإسلام	
أ الوفاء بالعهد ب حماية الجار ج الشجاعة د جميع ما ذكر	
٧ ولد النبي محمد ﷺ في..... في شهر ربيع الأول من عام الفيل ٥٧١ للميلاد	
أ مكة المكرمة ب المدينة المنورة ج الطائف د لاشي مما ذكر	
٨ نزول الوحي على النبي محمد ﷺ في شهر..... من عام ٦١٠ للميلاد في غار حراء	
أ رجب ب رمضان ج شوال د شعبان	
٩ من وصايا الإسلام في الإحسان إلى الجار	
أ محبه الخير له ب تجنب إيذائه ج بذل المعروف له د جميع ما ذكر	
١٠ من شعراء المعلقات السبع	
أ طرفة بن العبد ب عنتر بن شداد ج عمرو بن كلثوم د جميع ما ذكر	
١١ كانت عزوة الخندق في عام	
أ (٥٣) ب (٥٨) ج (٥٥) د (٥٢)	



ب- ضعي علامة (√) امام العبارة الصحيحة وعلامة ح (×) امام العبارة الخاطئة	١٥ درجات
١	شرف الله شبه الجزيرة العربية وجعلها أرض التوحيد والحنيفية ففيها هبط ادم وحواء
٢	ابرز خطوات تنظيم الوقت حصر الاعمال اليومية والاستفادة الكاملة من الوقت
٣	يعتمد نجاح التخطيط للدراسة على معرفة قيمة الوقت، وعدم إدراك أهميته
٤	التخطيط هو الاعداد المنظم، لتحديد المهام والاعمال المستقبلية
٥	كانت شبه الجزيرة العربية قبل الاسلام نشطة اقتصادياً وحضارياً
٦	مرضعته النبي محمد ﷺ هي (حليلة السعدية)
٧	من أساليب قريش في مواجهة الدعوة تشويه الدعوة والاعتداء على النبي ﷺ
٨	أولاد النبي محمد ﷺ الأبناء - القاسم و عبدالله و إبراهيم
٩	من عمال النبي محمد صلى الله عليه وسلم في المدينة المنورة بناء المسجد النبوي
١٠	أول هجرة النبي محمد صلى الله عليه وسلم الى المدينة المنورة
١١	الغزوة هي التي قادها النبي صلى الله عليه وسلم بنفسه
١٢	غزوة بدر كانت بسبب استلاء قريش في مكة على أموال المسلمين الذين هاجروا للمدينة
١٣	من نتائج فتح مكة المكرمة اقبال الناس على دين الله أفواجا
١٤	توفي النبي محمد صلى الله عليه وسلم في السنة العاشرة للهجرة.
١٥	امضى النبي محمد صلى الله عليه وسلم في تبليغ الدين الاسلامي خمس عشرة سنة.

موقع منهجي



mnhaji.com

ب - أذكر ما يلي	٤ درجات
❖ اثنين من أسواق العرب في شبه الجزيرة العربية	٢
١ - دومة الجندل الجوف ٢ عكاظ الطائف	
❖ اثنين من شمائل النبي محمد صل الله عليه وسلم	٢
١ - الصدق ٢- التواضع	
مع أطيب التمنيات لك بالتوفيق والنجاح الباهر	
معلمة المادة /	

المادة : الدراسات الاجتماعية				
الصف: الأول متوسط				
اختبار الفترة الثانية				اسم الطالب:

السؤال الأول: اختر الإجابة الصحيحة فيما يلي بوضع دائرة عليها:

١	عمل النبي صلى الله عليه وسلم في أول شبابه عدد من الأعمال من أبرزها :				
أ	الزراعة	ب	الصناعة	ج	رعي الغنم
د	الحدادة				
٢	أسهم النبي صلى الله عليه وسلم في حل بعض مشكلات مجتمعه ومن ذلك :				
أ	حفر بئر زمزم	ب	بناء المسجد الأقصى	ج	تجديد بناء الكعبة
د	ترميم الأصنام				
٣	كانت الحالة السياسية في شبه الجزيرة العربية قبل الإسلام قائمة على :				
أ	الوحدة	ب	الاضطراب	ج	التعاون
د	التضامن				
٤	جهر النبي صلى الله عليه وسلم بالدعوة في المرحلة الجهرية :				
أ	استعدادا للحرب	ب	استجابة لأمر الله	ج	إقرار من بني هاشم
د	لزيادة أعداد اليهود				
٥	أسواق العرب قبل الإسلام :				
أ	عكاظ وذو المجاز	ب	الوطن وذو المجنة	ج	المدينة والحجاز
د	القيصية والعرب				
٦	غزوة بدر أول غزوة في الإسلام وكانت فاصلة بين الحق والباطل ومن أهم أسباب قيام الغزوة :				
أ	إعادة الأموال للمهاجرين	ب	لأمانة قريش مع المهاجرين	ج	انتقاما من قريش
د	محاربة الرسول صلى الله عليه وسلم لليهود				
٧	الأسباب الرئيسية في هزيمة المسلمين في غزوة أحد :				
أ	قلة عدد المسلمين	ب	اشتداد الحصار على المسلمين	ج	مخالفة الرماة لأوامر الرسول صلى الله عليه وسلم
د	خوف المسلمين من قريش				
٨	أول عمل قام به نبينا صلى الله عليه وسلم في مكة بعد الفتح				
أ	تحطيم الأصنام	ج	المواخاة بين المهاجرين والأنصار	د	عقد هدنة مع اليهود
د	التوجه لمحاربة قبائل الجزيرة العربية				
٩	كان حصار الشعب في السنة				
أ	٥ من البعثة	ب	٦ من البعثة	ج	٧ من البعثة
د	٨ من البعثة				
١٠	عدد الذين بايعوا النبي صلى الله عليه وسلم				
أ	١٢ رجلاً	ب	١٣ رجلاً	ج	١٤ رجلاً
د	١٥ رجلاً				

السؤال الثاني : ضع إشارة (√) أمام الإجابة الصحيحة وإشارة (×) أمام الإجابة الخاطئة:

١	تقع شبه الجزيرة العربية في قلب العالم وترتبط بين ثلاث قارات " أفريقيا وأوروبا وآسيا "
٢	الذي نجح في التفريق بين قريش وحلفائها في غزوة الخندق هو نعيم بن مسعود رضي الله
٣	الذي كفل الرسول صلى الله عليه وسلم بعد وفاة والدته هو عمه أبوطالب
٤	بدأت بوادر الوحي على النبي صلى الله عليه وسلم بالرؤيا الصادقة
٥	كان الرسول صلى الله عليه وسلم يتعبد في غار حراء
٦	الصحابي الجليل الذي هاجر مع الرسول صلى الله عليه وسلم هو أبو بكر الصديق رضي الله عنه
٧	تزوج الرسول صلى الله عليه وسلم من خديجة رضي الله عنها وعمره ٣٥ سنة
٨	فتح مكة كان في السنة ١٠ من الهجرة
٩	صحب النبي عليه السلام عمه أبو طالب في رحلة تجارية إلى بلاد الشام
١٠	الغزوة هي المعركة التي قادها النبي صلى الله عليه وسلم بنفسه

انتهت الأسئلة

موقع منهجي
mnhaji.com



السؤال الأول: اختر الإجابة الصحيحة فيما يلي بوضع دائرة عليها:

١	عمل النبي صلى الله عليه وسلم في أول شبابه عدد من الأعمال من أبرزها :	أ	الزراعة	ب	الصناعة	ج	رعي الغنم	د	الحدادة
٢	أسهم النبي صلى الله عليه وسلم في حل بعض مشكلات مجتمعه ومن ذلك :	أ	حفر بئر زمزم	ب	بناء المسجد الأقصى	ج	تجديد بناء الكعبة	د	ترميم الأصنام
٣	كانت الحالة السياسية في شبه الجزيرة العربية قبل الإسلام قائمة على :	أ	الوحدة	ب	الاضطراب	ج	التعاون	د	التضامن
٤	جهر النبي صلى الله عليه وسلم بالدعوة في المرحلة الجهرية :	أ	استعدادا للحرب	ب	استجابة لأمر الله	ج	إقرار من بني هاشم	د	لزيادة أعداد اليهود
٥	أسواق العرب قبل الإسلام :	أ	عكاظ وذو المجاز	ب	الوطن وذو المجنة	ج	المدينة والحجاز	د	القيصية والعرب
٦	غزوة بدر أول غزوة في الإسلام وكانت فاصلة بين الحق والباطل ومن أهم أسباب قيام الغزوة :	أ	إعادة الأموال للمهاجرين	ب	لأمانة قريش مع المهاجرين	ج	انتقاما من قريش	د	محاربة الرسول صلى الله عليه وسلم لليهود
٧	الأسباب الرئيسية في هزيمة المسلمين في غزوة أحد :	أ	قلة عدد المسلمين	ب	اشتداد الحصار على المسلمين	ج	مخالفة الرماة لأوامر الرسول صلى الله عليه وسلم	د	خوف المسلمين من قريش
٨	أول عمل قام به نبينا صلى الله عليه وسلم في مكة بعد الفتح	أ	تحطيم الأصنام	ب	المواخاة بين المهاجرين والأنصار	ج	عقد هدنة مع اليهود	د	التوجه لمحاربة قبائل الجزيرة العربية
٩	كان حصار الشعب في السنة	أ	٥ من البعثة	ب	٦ من البعثة	ج	٧ من البعثة	د	٨ من البعثة
١٠	عدد الذين بايعوا النبي صلى الله عليه وسلم	أ	١٢ رجلاً	ب	١٣ رجلاً	ج	١٤ رجلاً	د	١٥ رجلاً

السؤال الثاني : ضع إشارة (✓) أمام الإجابة الصحيحة وإشارة (×) أمام الإجابة الخاطئة:

✓	١	تقع شبه الجزيرة العربية في قلب العالم وترتبط بين ثلاث قارات " أفريقيا وأوروبا وآسيا "
✓	٢	الذي نجح في التفريق بين قريش وحلفائها في غزوة الخندق هو نعيم بن مسعود رضي الله
✗	٣	الذي كفل الرسول صلى الله عليه وسلم بعد وفاة والدته هو عمه أبو طالب
✓	٤	بدأت بوادر الوحي على النبي صلى الله عليه وسلم بالرؤيا الصادقة
✓	٥	كان الرسول صلى الله عليه وسلم يتعبد في غار حراء
✓	٦	الصحابي الجليل الذي هاجر مع الرسول صلى الله عليه وسلم هو أبو بكر الصديق رضي الله عنه
✗	٧	تزوج الرسول صلى الله عليه وسلم من خديجة رضي الله عنها وعمره ٣٥ سنة
✗	٨	فتح مكة كان في السنة ١٠ من الهجرة
✓	٩	صحب النبي عليه السلام عمه أبو طالب في رحلة تجارية إلى بلاد الشام
✓	١٠	الغزوة هي المعركة التي قادها النبي صلى الله عليه وسلم بنفسه

نموذج الإجابة

السؤال الأول: اختار الإجابة الصحيحة فيما يلي بوضع دائرة عليها:

١	نزل الوحي على الرسول صلى الله عليه وسلم وعمره	أ	٣٠ سنة	ب	٤٠ سنة	ج	٥٠ سنة	د	٦٠ سنة
٢	وقعت غزوة بدر في السنة	أ	٢ من الهجرة	ب	٣ من الهجرة	ج	٤ من الهجرة	د	٥ من الهجرة
٣	أشار على النبي صلى الله عليه وسلم بحفر الخندق في غزوة الأحزاب (الخندق)	أ	مصعب ابن عمير	ب	سلمان الفارسي	ج	نعيم بن مسعود	د	سعيد بن زيد
٤	عمل النبي صلى الله عليه وسلم في أول شبابه عدد من الأعمال من أبرزها :	أ	الزراعة	ب	الصناعة	ج	رعي الغنم	د	الحدادة
٥	أول عمل قام به نبينا في مكة بعد الفتح	أ	تحطيم الأصنام	ب	المؤاخاة بين المهاجرين والأنصار	ج	عقد هدنة مع اليهود	د	التوجه لمحاربة قبائل الجزيرة العربية
٦	أسهم النبي محمد صلى الله عليه وسلم في حل بعض مشكلات مجتمعه ومن ذلك :	أ	حفر بئر زمزم	ب	بناء المسجد الأقصى	ج	تجديد بناء الكعبة	د	ترميم الأصنام
٧	كانت الحالة السياسية في شبه الجزيرة العربية قبل الإسلام قائمة على :	أ	الوحدة	ب	الاضطراب	ج	التعاون	د	التضامن
٨	يدل موقف نبينا صلى الله عليه وسلم مع قريش عند فتح مكة على خلق :	أ	العفو	ب	الأمانة	ج	الزهد	د	الصدق

السؤال الثاني : ضع إشارة (✓) امام الإجابة الصحيحة وإشارة (×) أمام الإجابة الخاطئة:

✓	١	أشار على النبي صلى الله عليه وسلم بحفر الخندق في غزوة الأحزاب (الخندق)
✓	٢	جميع اولاد النبي صلى الله عليه وسلم من زوجته خديجة ماعدا إبراهيم من مارية القبطية
✗	٣	السرية هي المعركة التي قادها النبي صلى الله عليه وسلم بنفسه
✗	٤	هاجر المسلمون الاوائل الى مصر
✓	٥	كان النبي صلى الله عليه وسلم يوصف بين قومه بالصادق الأمين
✗	٦	الذي كفل الرسول صلى الله عليه وسلم بعد وفاة والدته هو عمه أبوطالب
✓	٧	كانت السمة العامة للحالة السياسية في شبه الجزيرة العربية قبل الاسلام الاضطراب والنزاعات
✗	٨	فتح مكة كان في السنة ١٠ من الهجرة

السؤال الثالث :

عدد اثنين مما يلي :

أ. أعمال النبي صلى الله عليه وسلم في المدينة :

١. **بناء المسجد النبوي**
٢. **المؤاخاة بين المهاجرين والأنصار**

ب. الأخلاق الحسنة عند العرب قبل الإسلام :

١. **حماية الجار والمروءة**
٢. **الوفاء بالعهد**



الدرجة من 20	الفصل	اسم الطالب/ة

السؤال الأول ضع/ي الرقم المناسب أمام المجموعة الأولى أمام ما يناسبها من المجموعة الثانية؟ 5 درجات

الرقم	المجموعة الأولى	الرقم	المجموعة الثانية
1	خطوات تنظيم الوقت		التفوق و النجاح
2	التخطيط		رؤية مستقبلية تمثل نموذجاً فريداً للتخطيط المستقبلي
3	من أسس التخطيط		القلق و التوتر
4	رؤية 2030		تنظيم الوقت
5	من نتائج التخطيط		الاعداد المنظم للمهام و الاعمال و تحديد الزمن لتنفيذها و انجازها
			اعداد قائمة بالاعمال و المهام اليومية

السؤال الثاني أيهما تفضل عند التخطيط للمذاكرة (التطبيقات الالكترونية أو الورقة و القلم) ؟ 4 درجات

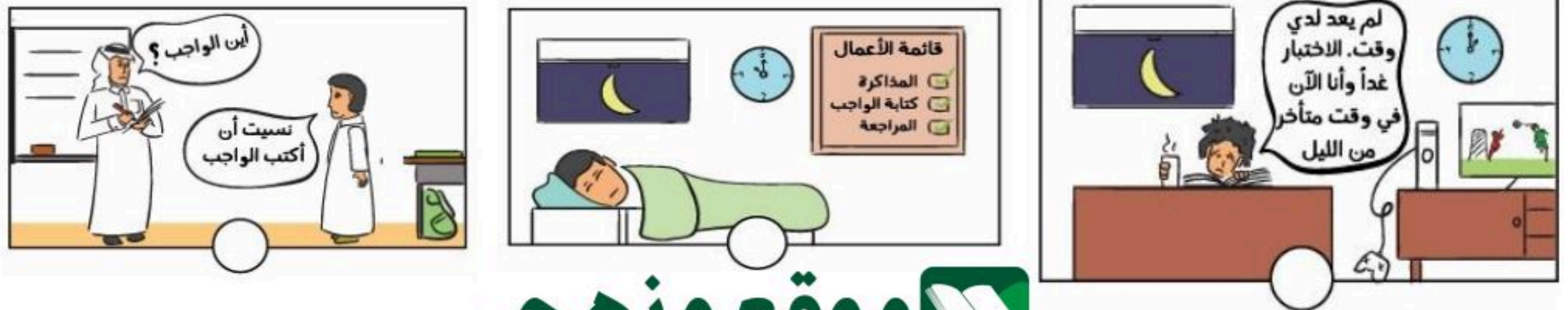
أفضل:

السبب:

السؤال الثالث ضع/ي علامة (✓) أمام العبارة الصائبة و علامة (x) ؟ 7 درجات

1	تحديد وقت للراحة المنتظمة خلال اليوم
2	الجدية في الالتزام بالتخطيط و تنظيم الوقت و تنفيذ المهام
3	تحديد الاعمال دون و من و وقت لتنفيذها
4	من اهم اهداف التخطيط بناء الشخصية و الاستمتاع بالوقت
5	تعتني رؤية المملكة 2030 ببناء شخصية وطنية تحرص على التخطيط و تنظيم الوقت
6	المميزون و المبدعون دائماً يخططون
7	ليس مهماً عندما نخطط ان نقوم بحصر المهام و الاعمال اليومية

السؤال الرابع حدد بوضع علامة (x) على الصور التي تمثل عدم التخطيط ؟ 4 درجات



نموذج الإجابة



الدرجة من 20	الفصل	اسم الطالب/ة

السؤال الأول ضعبي الرقم المناسب أمام المجموعة الأولى أمام ما يناسبها من المجموعة الثانية؟ 5 درجات

الرقم	المجموعة الأولى	الرقم	المجموعة الثانية
1	خطوات تنظيم الوقت	6	التفوق والنجاح
2	التخطيط	5	رؤية مستقبلية تمثل نموذجاً فريداً للتخطيط المستقبلي
3	من أسس التخطيط	4	القلق والتوتر
4	رؤية 2030	2	تنظيم الوقت
5	من نتائج التخطيط	1	الاعداد المنظم للمهام والاعمال وتحديد الزمن لتنفيذها وانجازها
			اعداد قائمة بالاعمال والمهام اليومية

السؤال الثاني أيهما تفضل عند التخطيط للمذاكرة (التطبيقات الالكترونية أو الورقة والقلم) ؟ 4 درجات

أفضل: **التطبيقات الالكترونية**
السبب: لأن التطبيقات الإلكترونية توفر العديد من النماذج للتخطيط للمذاكرة.

السؤال الثالث ضعبي علامة (✓) أمام العبارة الصائبة وعلامة (x) ؟ 7 درجات

✓	1	تحديد وقت للراحة المنتظمة خلال اليوم
✓	2	الجدية في الالتزام بالتخطيط وتنظيم الوقت وتنفيذ المهام
✗	3	تحديد الاعمال دون ومن وقت لتنفيذها
✓	4	من اهم اهداف التخطيط بناء الشخصية والاستمتاع بالوقت
✓	5	تعتني رؤية المملكة 2030 ببناء شخصية وطنية تحرص على التخطيط وتنظيم الوقت
✓	6	المميزون والمبدعون دائماً يخططون
✗	7	ليس مهماً عندما نخطط ان نقوم بحصر المهام والاعمال اليومية

السؤال الرابع حدد بوضع علامة (x) على الصور التي تمثل عدم التخطيط ؟ 4 درجات



المادة : الدراسات الاجتماعية			
الصف: الأول متوسط			
اختبار الوحدة الثالثة			اسم الطالب/ة:

السؤال الأول: اختر الإجابة الصحيحة فيما يلي بوضع دائرة عليها:

يساعدنا التخطيط على تحقيق عدد من الأهداف منها:	١
أ هدر الوقت	ب النجاح والتفوق
ج ضياع الصحة	د ضعف الشخصية
٢ فوائد تنظيم الوقت	
أ الحد من التوتر والقلق	ب تنظيم المكان وتهينته
ج حصر الأعمال اليومية	د تصميم جدول الأعمال
٣ نتائج التخطيط	
أ اهدار الوقت	ب ضياع الصحة
ج تحقيق الأهداف	د عدم مواكبة التغيرات
٤ يؤدي التخطيط إلى:	
أ تسويق الأعمال	ب قلة التفكير
ج بناء الشخصية	د قلة الإنتاجية
٥ أهم خطوات تنظيم الوقت:	
أ العمل أربعة وعشرون ساعة	ب حصر الأعمال اليومية
ج ترتيب الأعمال الغير مهمة	د عدم التوازن بين العمالة
٦ مرحلة تحضيرية للعمل وخطة ممنهجة ومنظمة لتحديد المهام والأعمال ومواعيد القيام بها وكيفية إنجازها يطلق عليها ب	
أ التخطيط	ب الانجاز
ج التطوير	د الطموح
٧ أي من التالي يعد من أهم فوائد تنظيم الوقت؟	
أ زيادة وقت مشاهدة التلفاز.	ب تحقيق التوازن بين الدراسة والراحة والعبادة.
ج النوم لساعات أطول.	د تجنب جميع الأعمال المنزلية.
٨ ما هي الخطوة الأولى التي يجب عليك القيام بها عند تنظيم وقتك؟	
أ البدء فوراً في أداء المهام.	ب تحديد وقت للراحة والاسترخاء.
ج إعداد قائمة بجميع الأعمال اليومية.	د شراء مفكرة جديدة.
٩ إحدى النتائج الإيجابية للتخطيط هي المحافظة على الصحة، ويتم ذلك من خلال:	
أ السهر طوال الليل للمذاكرة.	ب تناول وجبات غير صحية بسرعة.
ج تناول وجبات غير صحية بسرعة.	د تجنب ممارسة أي نشاط بدني.
١٠ تصميم جدول للأعمال اليومية يساعد بشكل مباشر على:	
أ تقليل التوتر والقلق من تراكم المهام.	ب زيادة عدد الأصدقاء.
ج الحصول على مصروف أكبر.	د عدم الذهاب إلى المدرسة.

السؤال الثاني : عدد اثنين مما يلي :

أ- من فوائد تنظيم الوقت :

١- ٢-

ب- من خطوات تنظيم الوقت للمهام الدراسية :

١- ٢-

السؤال الثالث : ضع إشارة (√) امام الإجابة الصحيحة وإشارة (×) أمام الإجابة الخاطئة:

١	يساعد التخطيط في انجاز المهام
٢	من نتائج التخطيط التوتر والقلق
٣	من أسس التخطيط الجيد تنظيم الوقت
٤	التخطيط عامل من عوامل إهدار الوقت
٥	البدء بالأعمال غير المهمة أولاً من الأولويات
٦	إنجاز الأعمال في وقتها من فوائد تنظيم الوقت
٧	تحديد الأهداف لا يفيد في التخطيط الجيد
٨	التخطيط يعني تحديد الأهداف ورسم طرائق مناسبة لتحقيقها
٩	النجاح في الحياة لا يتطلب تخطيطاً مسبقاً، بل يعتمد على الحظ فقط
٩	من فوائد التخطيط أنه يساعد على معرفة ما يجب علينا فعله ومتى نؤديه
١٠	التخطيط الجيد يضيع الوقت ويزيد من الفوضى في حياة الطالب
١١	يساعد التخطيط على تحقيق التوازن بين أداء الواجبات المدرسية والاستمتاع بالوقت الشخصي.
١٢	النجاح في الدراسة يعتمد فقط على الذكاء ولا علاقة له بتنظيم الوقت
١٣	من الضروري أن يكون جدولك الزمني مرناً وقابلاً للتعديل عند حدوث طارئ
١٤	تنظيم الوقت يعني العمل المستمر دون أي أوقات للراحة أو الترفيه
١٥	استخدام تطبيق إلكتروني لتنظيم الوقت أفضل دائماً من استخدام القلم والورقة
١٦	إنجاز المهام في وقتها المحدد يساعد على زيادة الثقة بالنفس والشعور بالإنجاز

انتهت الأسئلة

موقع منهجي 
 mnhaji.com

السؤال الأول: اختر الإجابة الصحيحة فيما يلي بوضع دائرة عليها:

يساعدنا التخطيط على تحقيق عدد من الأهداف منها:	١
أ هدر الوقت	ب النجاح والتفوق
ب ضياع الصحة	ج ضعف الشخصية
ج	د
٢ فوائد تنظيم الوقت	أ الحد من التوتر والقلق
ب تنظيم المكان وتهينته	ج حصر الأعمال اليومية
ب	د تصميم جدول الأعمال
ج	د
٣ نتائج التخطيط	أ اهدار الوقت
ب ضياع الصحة	ج تحقيق الأهداف
ب	د عدم مواكبة التغيرات
ج	د
٤ يؤدي التخطيط إلى:	أ تسويق الأعمال
ب قلة التفكير	ج بناء الشخصية
ب	د قلة الإنتاجية
ج	د
٥ أهم خطوات تنظيم الوقت:	أ العمل أربعة وعشرون ساعة
ب حصر الأعمال اليومية	ج ترتيب الأعمال الغير مهمة
ب	د عدم التوازن بين العمالة
ج	د
٦ مرحلة تحضيرية للعمل وخطة ممنهجة ومنظمة لتحديد المهام والأعمال ومواعيد القيام بها وكيفية إنجازها يطلق عليها ب	أ التخطيط
ب الانجاز	ج التطوير
ب	د الطموح
ج	د
٧ أي من التالي يعد من أهم فوائد تنظيم الوقت؟	أ زيادة وقت مشاهدة التلفاز.
ب تحقيق التوازن بين الدراسة والراحة والعبادة.	ج النوم لساعات أطول.
ب	د تجنب جميع الأعمال المنزلية.
ج	د
٨ ما هي الخطوة الأولى التي يجب عليك القيام بها عند تنظيم وقتك؟	أ البدء فوراً في أداء المهام.
ب تحديد وقت للراحة والاسترخاء.	ج إعداد قائمة بجميع الأعمال اليومية.
ب	د شراء مفكرة جديدة.
ج	د
٩ إحدى النتائج الإيجابية للتخطيط هي المحافظة على الصحة، ويتم ذلك من خلال:	أ السهر طوال الليل للمذاكرة.
ب تناول وجبات غير صحية بسرعة.	ج انتظام النوم ومواعيد تناول الوجبات.
ب	د تجنب ممارسة أي نشاط بدني.
ج	د
١٠ تصميم جدول للأعمال اليومية يساعد بشكل مباشر على:	أ تقليل التوتر والقلق من تراكم المهام.
ب زيادة عدد الأصدقاء.	ج الحصول على مصروف أكبر.
ب	د عدم الذهاب إلى المدرسة.
ج	د

السؤال الثاني: عدد اثنين مما يلي :

- أ- من فوائد تنظيم الوقت :
١- الحد من التوتر والقلق ٢- أداء الأعمال في الوقت المحدد له
ب- من خطوات تنظيم الوقت للمهام الدراسية :

- ١- كتابة جميع الأعمال في قائمة واحدة. ٢- إعداد قائمة الأعمال اليومية بعد حصرها.

السؤال الثالث : ضع إشارة (√) امام الإجابة الصحيحة وإشارة (×) أمام الإجابة الخاطئة:

✓	يساعد التخطيط في انجاز المهام	١
✗	من نتائج التخطيط التوتر والقلق	٢
✓	من أسس التخطيط الجيد تنظيم الوقت	٣
✗	التخطيط عامل من عوامل إهدار الوقت	٤
✗	البدء بالأعمال غير المهمة أولاً من الأولويات	٥
✓	إنجاز الأعمال في وقتها من فوائد تنظيم الوقت	٦
✗	تحديد الأهداف لا يفيد في التخطيط الجيد	٧
✓	التخطيط يعني تحديد الأهداف ورسم طرائق مناسبة لتحقيقها	٨
✗	النجاح في الحياة لا يتطلب تخطيطاً مسبقاً، بل يعتمد على الحظ فقط	٩
✓	من فوائد التخطيط أنه يساعد على معرفة ما يجب علينا فعله ومتى نؤديه	٩
✗	التخطيط الجيد يضيع الوقت ويزيد من الفوضى في حياة الطالب	١٠
✓	يساعد التخطيط على تحقيق التوازن بين أداء الواجبات المدرسية والاستمتاع بالوقت الشخصي.	١١
✗	النجاح في الدراسة يعتمد فقط على الذكاء ولا علاقة له بتنظيم الوقت	١٢
✓	من الضروري أن يكون جدولك الزمني مرناً وقابلاً للتعديل عند حدوث طارئ	١٣
✗	تنظيم الوقت يعني العمل المستمر دون أي أوقات للراحة أو الترفيه	١٤
✗	استخدام تطبيق إلكتروني لتنظيم الوقت أفضل دائماً من استخدام القلم والورقة	١٥
✓	إنجاز المهام في وقتها المحدد يساعد على زيادة الثقة بالنفس والشعور بالإنجاز	١٦

انتهت الأسئلة

موقع منهجي 
mnhaji.com

الاسم	الفصل	الدرجة
-------	-------	--------

الصف: الأول المتوسط
الدرجة الكلية: 10 درجات

المادة: الدراسات الاجتماعية
الوحدة الثالثة: التخطيط
الزمن: 15 دقيقة

أولاً: اختر الإجابة الصحيحة (ضع دائرة حول الإجابة الصحيحة) - (5 درجات)

التخطيط هو:

(أ) تنظيم الأعمال الماضية
(ب) إعداد الأعمال المستقبلية وكيفية تنفيذها
(ج) مراقبة الأعمال فقط
(د) تسجيل الملاحظات اليومية

من أهداف التخطيط:

(أ) إضاعة الوقت
(ب) زيادة القلق
(ج) النجاح والتفوق
(د) النوم لساعات طويلة

من نتائج التخطيط الجيد:

(أ) الفوضى في الأعمال
(ب) التوتر المستمر
(ج) الاستفادة من الوقت
(د) ضياع الجهد

من أسس التخطيط السليم:

(أ) إهمال الوقت
(ب) تحديد الأهداف بوضوح
(ج) ترك الأعمال دون تنظيم
(د) الاعتماد على الصدفة

يرتبط التخطيط ارتباطاً وثيقاً بـ:

(أ) الترفيه فقط
(ب) تنظيم الوقت
(ج) قلة المسؤولية
(د) إهمال الواجبات

ثانياً: ضع علامة (✓) أمام العبارة الصحيحة وعلامة (X) أمام العبارة الخاطئة - (5 درجات)

من فوائد التخطيط الاستمتاع بالوقت والمحافظة على الصحة. ()

التخطيط يعتمد على الحظ فقط دون تحديد أهداف. ()

تنظيم الوقت جزء أساسي من التخطيط. ()

من خطوات تنظيم الوقت: حصر الأعمال اليومية وتصميم جدول لها. ()

من نتائج عدم التخطيط: الفوضى وضياع الجهد. ()

المادة : الدراسات الاجتماعية
الصف : الاول المتوسط
اختبار قصير
الفصل الدراسي الاول 1448هـ

نموذج الإجابة

الاسم	الفصل	الدرجة
-------	-------	--------

الصف: الأول المتوسط
الدرجة الكلية: 10 درجات

المادة: الدراسات الاجتماعية
الوحدة الثالثة: التخطيط
الزمن: 15 دقيقة

أولاً: اختر الإجابة الصحيحة (ضع دائرة حول الإجابة الصحيحة) - (5 درجات)

التخطيط هو:

(أ) تنظيم الأعمال الماضية
الملاحظات اليومية
(ب) إعداد الأعمال المستقبلية وكيفية تنفيذها
(ج) مراقبة الأعمال فقط
(د) تسجيل

من أهداف التخطيط:

(أ) إضاعة الوقت
(ب) زيادة القلق
(ج) النجاح والتفوق
(د) النوم لساعات طويلة

من نتائج التخطيط الجيد:

(أ) الفوضى في الأعمال
(ب) التوتر المستمر
(ج) الاستفادة من الوقت
(د) ضياع الجهد

من أسس التخطيط السليم:

(أ) إهمال الوقت
(ب) تحديد الأهداف بوضوح
(ج) ترك الأعمال دون تنظيم
(د) الاعتماد على الصدفة

يرتبط التخطيط ارتباطاً وثيقاً بـ:

(أ) الترفيه فقط
(ب) تنظيم الوقت
(ج) قلة المسؤولية
(د) إهمال الواجبات

ثانياً: ضع علامة (✓) أمام العبارة الصحيحة وعلامة (X) أمام العبارة الخاطئة - (5 درجات)

(✓) من فوائد التخطيط الاستمتاع بالوقت والمحافظة على الصحة.

(X) التخطيط يعتمد على الحظ فقط دون تحديد أهداف.

(✓) تنظيم الوقت جزء أساسي من التخطيط.

(✓) من خطوات تنظيم الوقت: حصر الأعمال اليومية وتصميم جدول لها.

(✓) من نتائج عدم التخطيط: الفوضى وضياع الجهد.

اختبار الوحدة الثالثة التخطيط

الاسم :

السؤال الأول:

اختر الإجابة الصحيحة لكل فقرة من الفقرات التالية:

ما هو التعريف الأدق لمفهوم 'التخطيط'؟

1	القيام بالأعمال بشكل عشوائي.	الإعداد المنظم لتحديد المهام المستقبلية ومواعيدها وكيفية إنجازها.	تأجيل جميع الأعمال إلى وقت لاحق.	التركيز على مهمة واحدة فقط وتجاهل البقية.
أي من التالي يعد من أهم أهداف التخطيط للطالب؟				
2	زيادة وقت اللعب فقط.	إلغاء الواجبات المدرسية.	استغلال الوقت بحكمة.	النوم لساعات طويلة جدًا.
كيف يساهم التخطيط في بناء الشخصية الوطنية حسب الدرس؟				
3	من خلال تشجيع الكسل.	بجعل الفرد غير مبالي بالمستقبل.	بمواكبة طموحات رؤية المملكة 2030 التي تحث على الإنجاز والإتقان.	عن طريق تجاهل الواجبات المجتمعية.
طالب لديه واجبات مدرسية ونشاط رياضي، ما أفضل طريقة لإدارة يومه؟				
4	تأدية النشاط الرياضي وتأجيل الواجبات.	وضع خطة يومية توازن بين أداء الواجبات وممارسة الرياضة.	ترك الواجبات والرياضة والخلود للراحة.	القيام بالواجبات في وقت متأخر من الليل.
إحدى النتائج الإيجابية للتخطيط هي المحافظة على الصحة، ويتم ذلك من خلال				
5	السهر طوال الليل للمذاكرة.	تناول وجبات غير صحية بسرعة.	انتظام النوم ومواعيد تناول الوجبات.	تجنب ممارسة أي نشاط بدني.
ما هي الخطوة الأولى التي يجب عليك القيام بها عند تنظيم وقتك؟				
6	البدء فورًا في أداء المهام.	تحديد وقت للراحة والاسترخاء.	إعداد قائمة بجميع الأعمال اليومية.	شراء مفكرة جديدة.
أي من التالي يعد من أهم فوائد تنظيم الوقت؟				
7	زيادة وقت مشاهدة التلفاز.	تحقيق التوازن بين الدراسة والراحة والعبادة.	النوم لساعات أطول.	تجنب جميع الأعمال المنزلية.
8	عند ترتيب الأعمال في جدولك، يجب أن تبدأ بـ			

الأعمال الأسهل والأكثر متعة.	الأعمال التي يطلبها منك أصدقائك.	الأعمال الأكثر أهمية وعجلة.	الأعمال التي تستغرق وقتاً قصيراً.
تخصيص وقت للراحة بين المهام الدراسية يؤدي إلى			
9	الشعور بالملل والكسل.	تجديد النشاط وزيادة التركيز.	نسيان ما قمت بدراسته.
تصميم جدول للأعمال اليومية يساعد بشكل مباشر على			
10	تقليل التوتر والقلق من تراكم المهام.	زيادة عدد الأصدقاء.	الحصول على مصروف أكبر.
عدم الذهاب إلى المدرسة.			

السؤال الثاني :

حدد كلمة صح أو خطأ لكل فقرة من الفقرات الآتية:

1	التخطيط يعني تحديد الأهداف ورسم طرائق مناسبة لتحقيقها.	<input type="radio"/> صح	<input type="radio"/> خطأ
2	النجاح في الحياة لا يتطلب تخطيطاً مسبقاً، بل يعتمد على الحظ فقط.	<input type="radio"/> صح	<input type="radio"/> خطأ
3	من فوائد التخطيط أنه يساعد على معرفة ما يجب علينا فعله ومتى نؤديه.	<input type="radio"/> صح	<input type="radio"/> خطأ
4	التخطيط الجيد يضع الوقت ويزيد من الفوضى في حياة الطالب.	<input type="radio"/> صح	<input type="radio"/> خطأ
5	يساعد التخطيط على تحقيق التوازن بين أداء الواجبات المدرسية والاستمتاع بالوقت الشخصي.	<input type="radio"/> صح	<input type="radio"/> خطأ
6	النجاح في الدراسة يعتمد فقط على الذكاء ولا علاقة له بتنظيم الوقت.	<input type="radio"/> صح	<input type="radio"/> خطأ
7	من الضروري أن يكون جدولك الزمني مرناً وقابلاً للتعديل عند حدوث طارئ.	<input type="radio"/> صح	<input type="radio"/> خطأ
8	تنظيم الوقت يعني العمل المستمر دون أي أوقات للراحة أو الترفيه.	<input type="radio"/> صح	<input type="radio"/> خطأ
9	استخدام تطبيق إلكتروني لتنظيم الوقت أفضل دائماً من استخدام القلم والورقة.	<input type="radio"/> صح	<input type="radio"/> خطأ
10	إنجاز المهام في وقتها المحدد يساعد على زيادة الثقة بالنفس والشعور بالإنجاز.	<input type="radio"/> صح	<input type="radio"/> خطأ

انتهت الأسئلة ...

إعداد موقع منهجي

<https://www.mnhaji.com>

اجابة اختبار الوحدة الثالثة التخطيط

الاسم :

نهودج الإجابة

السؤال الأول:

اختر الإجابة الصحيحة لكل فقرة من الفقرات التالية:

ما هو التعريف الأدق لمفهوم 'التخطيط'؟			
1	القيام بالأعمال بشكل عشوائي.	الإعداد المنظم لتحديد المهام المستقبلية ومواعيدها وكيفية إنجازها.	تأجيل جميع الأعمال إلى وقت لاحق.
أي من التالي يعد من أهم أهداف التخطيط للطالب؟			
2	زيادة وقت اللعب فقط.	إلغاء الواجبات المدرسية.	استغلال الوقت بحكمة لتحقيق النجاح الدراسي.
كيف يساهم التخطيط في بناء الشخصية الوطنية حسب الدرس؟			
3	من خلال تشجيع الكسل.	بجعل الفرد غير مبالي بالمستقبل.	بمواكبة طموحات رؤية المملكة 2030 التي تحث على الإنجاز والإتقان.
طالب لديه واجبات مدرسية ونشاط رياضي، ما أفضل طريقة لإدارة يومه؟			
4	تأدية النشاط الرياضي وتأجيل الواجبات.	وضع خطة يومية توازن بين أداء الواجبات وممارسة الرياضة.	ترك الواجبات والرياضة والخلود للراحة.
إحدى النتائج الإيجابية للتخطيط هي المحافظة على الصحة، ويتم ذلك من خلال			
5	السهر طوال الليل للمذاكرة.	تناول وجبات غير صحية بسرعة.	انتظام النوم ومواعيد تناول الوجبات.
ما هي الخطوة الأولى التي يجب عليك القيام بها عند تنظيم وقتك؟			
6	البدء فوراً في أداء المهام.	تحديد وقت للراحة والاسترخاء.	إعداد قائمة بجميع الأعمال اليومية.
أي من التالي يعد من أهم فوائد تنظيم الوقت؟			
7	زيادة وقت مشاهدة التلفاز.	تحقيق التوازن بين الدراسة والراحة والعبادة.	النوم لساعات أطول.
عند ترتيب الأعمال في جدولك، يجب أن تبدأ بـ			
8			

الأعمال التي تستغرق وقتاً قصيراً.	الأعمال الأكثر أهمية وعجلة.	الأعمال التي يطلبها منك أصدقاؤك.	الأعمال الأسهل والأكثر متعة.
تخصيص وقت للراحة بين المهام الدراسية يؤدي إلى			
تأخير إنجاز الواجبات.	نسيان ما قمت بدراسته.	تجديد النشاط وزيادة التركيز.	الشعور بالملل والكسل.
تصميم جدول للأعمال اليومية يساعد بشكل مباشر على			
عدم الذهاب إلى المدرسة.	الحصول على مصروف أكبر.	زيادة عدد الأصدقاء.	تقليل التوتر والقلق من تراكم المهام.

السؤال الثاني :

حدد كلمة صح أو خطأ لكل فقرة من الفقرات الآتية:

خطأ	صح	التخطيط يعني تحديد الأهداف ورسم طرائق مناسبة لتحقيقها.	1
خطأ	صح	النجاح في الحياة لا يتطلب تخطيطاً مسبقاً، بل يعتمد على الحظ فقط.	2
خطأ	صح	من فوائد التخطيط أنه يساعد على معرفة ما يجب علينا فعله ومتى نؤديه.	3
خطأ	صح	التخطيط الجيد يضع الوقت ويزيد من الفوضى في حياة الطالب.	4
خطأ	صح	يساعد التخطيط على تحقيق التوازن بين أداء الواجبات المدرسية والاستمتاع بالوقت الشخصي.	5
خطأ	صح	النجاح في الدراسة يعتمد فقط على الذكاء ولا علاقة له بتنظيم الوقت.	6
خطأ	صح	من الضروري أن يكون جدولك الزمني مرناً وقابلاً للتعديل عند حدوث طارئ.	7
خطأ	صح	تنظيم الوقت يعني العمل المستمر دون أي أوقات للراحة أو الترفيه.	8
خطأ	صح	استخدام تطبيق إلكتروني لتنظيم الوقت أفضل دائماً من استخدام القلم والورقة.	9
خطأ	صح	إنجاز المهام في وقتها المحدد يساعد على زيادة الثقة بالنفس والشعور بالإنجاز.	10

انتهت الأسئلة ،،،،

إعداد موقع منهجي

<https://www.mnhaji.com>



صَلَّى اللهُ
عَلَيْهِ
وَسَلَّمَ

- ابو بكر الصديق رضي الله عنه
- عمر بن الخطاب رضي الله عنه
- عثمان بن عفان رضي الله عنه
- علي بن ابي طالب رضي الله عنه

الدرجة من 20	الفصل	اسم الطالب/ة

السؤال الأول ضع/ي الرقم المناسب أمام المجموعة الأولى أمام ما يناسبها من المجموعة الثانية؟ 5 درجات

الرقم	المجموعة الأولى	الرقم	المجموعة الثانية
1	حليمة السعدية		أول من آمن بالنبي من النساء
2	مصعب بن عمير		كان رفيق و صاحب النبي في الهجرة
3	سلمان الفارسي		مرضعة النبي صلى الله عليه وسلم
4	خديجة بنت خويلد		أمره النبي بأن يززع صفوف المشركين بالخدعة
5	نعيم بن مسعود		أرسله النبي مع المبايعين الى يثرب ليعلمهم الدين
			أشار على النبي صلى الله عليه وسلم بحفر الخندق

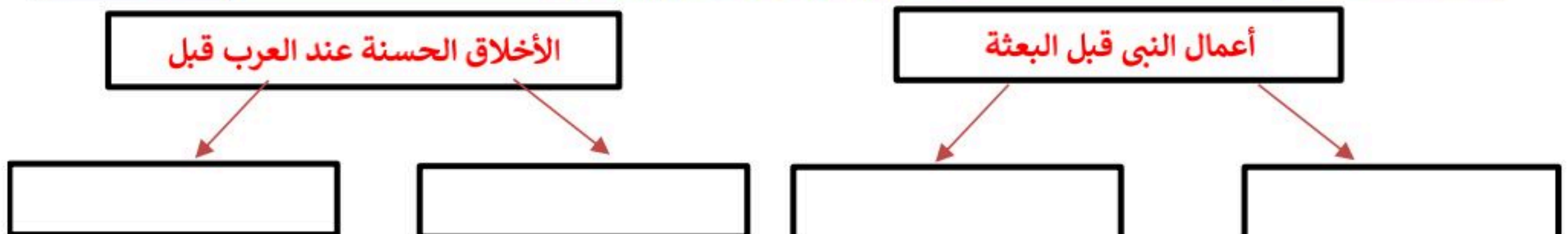
السؤال الثاني قارن/ي بين معركتي بدر و أحد وفق الجدول أدناه؟ 4 درجات

معركة بدر	وجه المقارنة	معركة أحد
	العام التي وقعت فيه	
	نتيجتها	

السؤال الثالث ضع/ي علامة (✓) أمام العبارة الصائبة وعلامة (x) ؟ 7 درجات

1	اتسمت الحالة السياسية في شبة الجزيرة العربية قبل الإسلام بالحروب و الصراعات و التنافر
2	ولد النبي محمد صلى الله عليه وسلم في مكة المكرمة في شهر ربيع الاول من عام الفيل
3	هاجر المسلمون الأوائل الى مصر
4	حدثت ثلاث بيعات في العقبة
5	من نتائج وثيقة المدينة التعايش بين المسلمين و اليهود
6	كان فتح مكة في العام الثامن من الهجرة
7	الحاضرة وهم السكان المستقرون في المدن والقرى

السؤال الثالث أكمل/ي خرائط المفاهيم التالية ؟ 4 درجات



نموذج الإجابة

نموذج اختبار الوحدة الرابعة
المادة: الدراسات الاجتماعية
الصف: الأول المتوسط
الفصل الدراسي الأول
١٤٤٨ هـ

■ ابو بكر الصديق رضي الله عنه
■ عمر بن الخطاب رضي الله عنه
■ عثمان بن عفان رضي الله عنه
■ علي بن ابي طالب رضي الله عنه

صَلَّى اللهُ
عَلَيْهِمْ
وَسَلَّمَ

الدرجة من 20	الفصل	اسم الطالب/ة نموذج اجابة
--------------	-------	-----------------------------

السؤال الأول ضع/ي الرقم المناسب أمام المجموعة الأولى أمام ما يناسبها من المجموعة الثانية؟ 5 درجات

الرقم	المجموعة الأولى	الرقم	المجموعة الثانية
1	حليمة السعدية	4	أول من آمن بالنبي من النساء
2	مصعب بن عمير		كان رفيق و صاحب النبي في الهجرة
3	سلمان الفارسي	1	مرضعة النبي صلى الله عليه وسلم
4	خديجة بنت خويلد	5	أمره النبي بأن يززع صفوف المشركين بالخدعة
5	نعيم بن مسعود	2	أرسله النبي مع المبايعين الى يثرب ليعلمهم الدين
		3	أشار على النبي صلى الله عليه وسلم بحفر الخندق

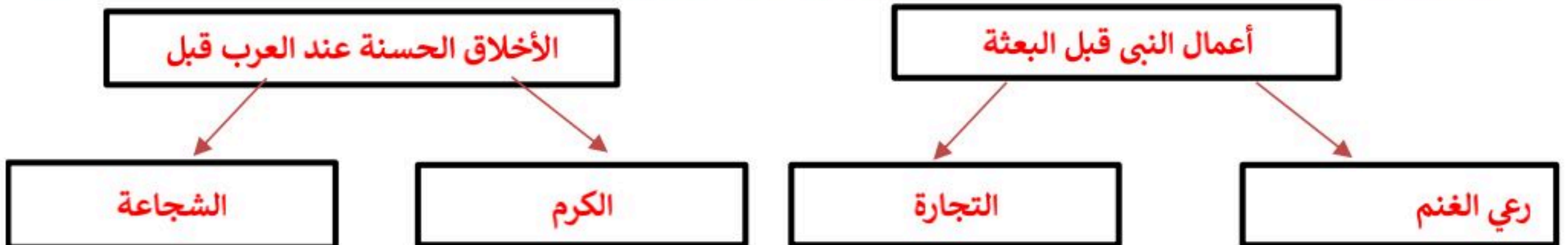
السؤال الثاني قارن/ي بين معركتي بدر و أحد وفق الجدول أدناه؟ 4 درجات

معركة بدر	وجه المقارنة	معركة أحد
2 هـ	العام التي وقعت فيه	3 هـ
انتصار المسلمين	نتيجتها	انهزم المسلمون

السؤال الثالث ضع/ي علامة (✓) أمام العبارة الصائبة وعلامة (x) ؟ 7 درجات

1	اتسمت الحالة السياسية في شبة الجزيرة العربية قبل الإسلام بالحروب و الصراعات و التنافر	✓
2	ولد النبي محمد صلى الله عليه وسلم في مكة المكرمة في شهر ربيع الاول من عام الفيل	✓
3	هاجر المسلمون الأوائل الى مصر	x
4	حدثت ثلاث بيعات في العقبة	x
5	من نتائج وثيقة المدينة التعايش بين المسلمين و اليهود	✓
6	كان فتح مكة في العام الثامن من الهجرة	✓
7	الحاضرة وهم السكان المستقرون في المدن والقرى	✓

السؤال الثالث أكمل/ي خرائط المفاهيم التالية ؟ 4 درجات



اختبار الوحدة الرابعة
المادة: الدراسات الاجتماعية
الصف: الاول المتوسط
الفصل الدراسي الأول ١٤٤٨ هـ



اسم الطالب/ة	الفصل	20 درجة
--------------	-------	---------

السؤال الاول : ضع علامة (√) امام العبارة الصحيحة وعلامة (×) امام العبارة الخاطئة فيما يلي؟ (4 درجات)	
1	كانت السمة العامة للحالة السياسية في شبه الجزيرة العربية قبل الاسلام الاضطراب والنزاعات والحروب وتعدد الزعامات السياسية
2	جميع اولاد النبي صلى الله عليه وسلم من زوجته خديجة ماعدا ابراهيم من مارية القبطية
3	هاجر المسلمون الاوائل الى مصر
4	الغزوة هي المعركة التي قادها النبي صلى الله عليه وسلم بنفسه

السؤال الثاني : أختار الاجابة الصحيحة فيما يلي ؟ (4 درجات)	
1	مرضعة النبي محمد صلى الله عليه وسلم هي :
	حليمة السعدية خديجة بن خويلد أمينة بنت وهب
2	ولد نبينا محمد صلى الله عليه وسلم في في شهر ببيع الاول من عام 571 م :
	المدينة المنورة الطائف مكة المكرمة
3	اشار على النبي بحفر الخندق في غزوة الاحزاب (الخندق) :
	مصعب ابن عمير سلمان الفارسي نعيم بن مسعود
4	حدثت ببيعات في العقبة :
	اثنتين ثلاث اربعة

السؤال الثالث : قارن بين غزوتي بدر واحد وفق الجدول ادناه ؟ (4 درجات)		
غزوة بدر	وجه المقارنة	غزوة احد
	تاريخها	
	نتيجتها	

(4 درجات)

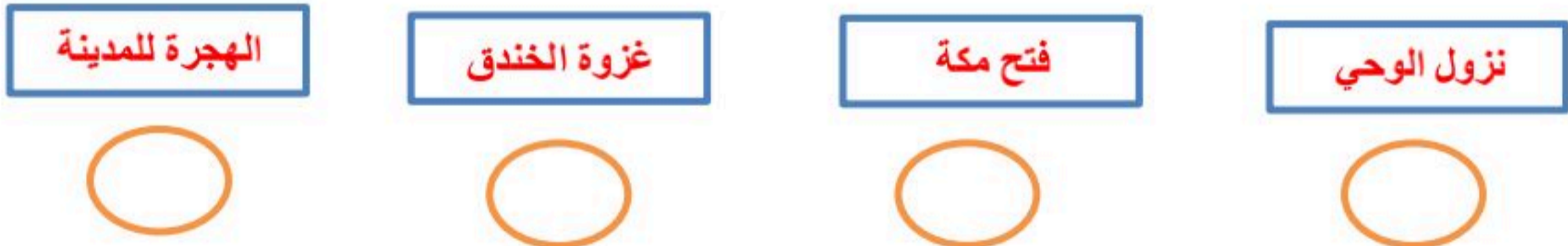
السؤال الرابع : اكمل خرائط المفاهيم التالية ؟



السؤال الخامس :

عزيزي الطالب من خلال دراستك سيرة الحبيب نبينا محمد صلى الله عليه وسلم رتب الاحداث التاريخية التالية من سيرته من الاقدم الى الاحدث؟

(4 درجات)



تمت الأسئلة

إعداد: موقع منهجي التعليمي
<https://www.mnhaji.com>

معلم المادة :

اختبار الوحدة الرابعة
المادة: الدراسات الاجتماعية
الصف: الاول المتوسط
الفصل الدراسي الأول ١٤٤٨ هـ

نموذج الإجابة

اسم الطالب/ة	نموذج اجابة	الفصل	20درجة
--------------	-------------	-------	--------

السؤال الاول : ضع علامة (√) امام العبارة الصحيحة وعلامة (×) امام العبارة الخاطئة فيما يلي؟ (4 درجات)		
1	كانت السمة العامة للحالة السياسية في شبه الجزيرة العربية قبل الاسلام الاضطراب والنزاعات والحروب وتعدد الزعامات السياسية	√
2	جميع اولاد النبي صلى الله عليه وسلم من زوجته خديجة ماعدا ابراهيم من مارية القبطية	√
3	هاجر المسلمون الاوائل الى مصر	×
4	الغزوة هي المعركة التي قادها النبي صلى الله عليه وسلم بنفسه	√

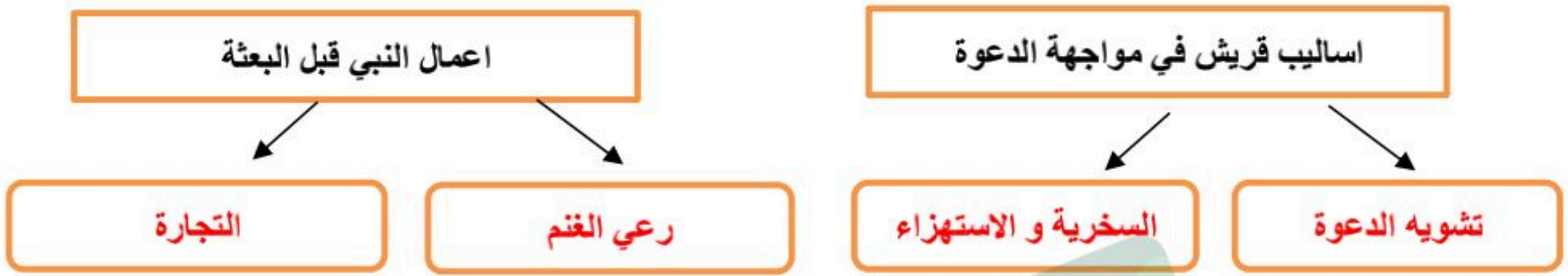
السؤال الثاني : أختار الاجابة الصحيحة فيما يلي ؟ (4 درجات)		
1	مرضعة النبي محمد صلى الله عليه وسلم هي :	
	حليمة السعدية	خديجة بن خويلد
	آمنة بنت وهب	
2	ولد نبينا محمد صلى الله عليه وسلم في في شهر ببيع الاول من عام 571 م :	
	المدينة المنورة	الطائف
	مكة المكرمة	
3	اشار على النبي بحفر الخندق في غزوة الاحزاب (الخندق) :	
	مصعب ابن عمير	سلمان الفارسي
	نعيم بن مسعود	
4	حدثت ببغات في العقبة :	
	اثنتين	ثلاث
		اربعة



السؤال الثالث : قارن بين غزوتي بدر واحد وفق الجدول ادناه ؟ (4 درجات)		
غزوة بدر	وجه المقارنة	غزوة احد
2هـ	تاريخها	3هـ
انتصار المسلمين	نتيجتها	انتصر المسلمين في البداية ثم انهزامهم بعد مخالفتهم أمر رسول الله

(4 درجات)

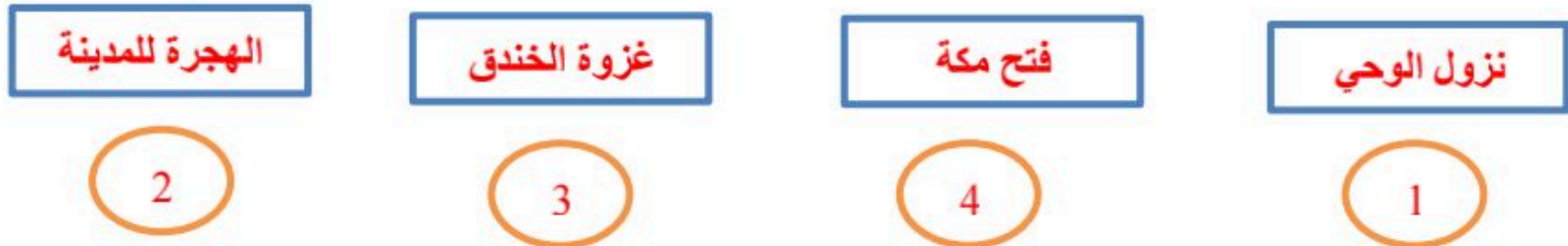
السؤال الرابع : اكمل خرائط المفاهيم التالية ؟



السؤال الخامس :

عزيزي الطالب من خلال دراستك سيرة الحبيب نبينا محمد صلى الله عليه وسلم رتب الاحداث التاريخية التالية من سيرته من الاقدم الى الاحدث؟

(4 درجات)



تمت الأسئلة

إعداد: موقع منهجي التعليمي
<https://www.mnhaji.com>

معلم المادة :

المادة : الدراسات الاجتماعية						
الصف: الأول متوسط						
اختبار الفترة الرابعة						اسم الطالب/ة:

السؤال الأول: اختر الإجابة الصحيحة فيما يلي بوضع دائرة عليها:

١	نزل الوحي على النبي صلى الله عليه وسلم وعمره					
أ	٣٠ سنة	ب	٤٠ سنة	ج	٥٠ سنة	د
٢	وقعت غزوة بدر في السنة					
أ	٢ من الهجرة	ب	٣ من الهجرة	ج	٤ من الهجرة	د
٣	أشار على النبي بحفر الخندق في غزوة الأحزاب (الخندق)					
أ	مصعب ابن عمير	ب	سلمان الفارسي	ج	نعيم بن مسعود	د
٤	عمل النبي صلى الله عليه وسلم في أول شبابه عدد من الأعمال من أبرزها :					
أ	الزراعة	ب	الصناعة	ج	رعي الغنم	د
٥	أول عمل قام به الرسول صلى الله عليه وسلم في مكة بعد الفتح					
أ	تحطيم الأصنام	ب	المواخاة بين المهاجرين والأنصار	ج	عقد هدنة مع اليهود	د
٦	أسهم النبي صلى الله عليه وسلم في حل بعض مشكلات مجتمعه ومن ذلك :					
أ	حفر بئر زمزم	ب	بناء المسجد الأقصى	ج	تجديد بناء الكعبة	د
٧	كانت الحالة السياسية في شبه الجزيرة العربية قبل الإسلام قائمة على :					
أ	الوحدة	ب	الاضطراب	ج	التعاون	د
٨	عدد الذين بايعوا النبي صلى الله عليه وسلم					
أ	١٢ رجلاً	ب	١٣ رجلاً	ج	١٤ رجلاً	د
٩	وجدت عند العرب قبل الإسلام بعض الممارسات والعادات السيئة :					
أ	الوفاء بالعهد	ب	العصبية القبلية	ج	الشجاعة والكرم	د
١٠	الأسباب الرئيسية في هزيمة المسلمين في غزوة أحد :					
أ	قلة عدد المسلمين	ب	اشتداد الحصار على المسلمين	ج	مخالفة الرماة لأوامر الرسول صلى الله عليه وسلم	د
١١	كان حصار الشعب في السنة					
أ	٥ من البعثة	ب	٦ من البعثة	ج	٧ من البعثة	د
١٢	يدل موقف نبينا صلى الله عليه وسلم مع قريش عند فتح مكة على خلق :					
أ	العفو	ب	الأمانة	ج	الزهد	د
١٣	الحملة العسكرية التي يرسلها النبي ﷺ ولا يشارك فيها ب:					
أ	الغزوة	ب	البعثة	ج	السرية	د

السؤال الثاني : ضع إشارة (√) امام الإجابة الصحيحة وإشارة (×) أمام الإجابة الخاطئة:

١	كان الرسول صلى الله عليه وسلم يتعبد في غار حراء
٢	جميع اولاد النبي صلى الله عليه وسلم من زوجته خديجة ماعدا إبراهيم من مارية القبطية
٣	مرضعة النبي ﷺ التي عاش معها في البادية هي حليلة السعدية
٤	هاجر المسلمون الاوائل الى مصر
٥	كان النبي صلى الله عليه وسلم يوصف بين قومه بالصادق الأمين
٦	الذي كفل الرسول صلى الله عليه وسلم بعد وفاة والدته هو عمه أبوطالب
٧	كانت السمة العامة للحالة السياسية في شبه الجزيرة العربية قبل الاسلام الاضطراب والنزاعات
٨	فتح مكة كان في السنة ١٠ من الهجرة
٩	صحب النبي عليه السلام عمه أبو طالب في رحلة تجارية إلى بلاد الشام
١٠	بدأت بوادر الوحي على النبي صلى الله عليه وسلم بالرؤيا الصادقة
١١	الذي نجح في التفريق بين قريش وحلفائها في غزوة الخندق هو نعيم بن مسعود رضي الله
١٢	أول عمل قام به نبينا في مكة بعد الفتح " المواخاة بين المهاجرين والأنصار "
١٣	تقع شبه الجزيرة العربية في قلب العالم وترتبط بين ثلاث قارات " أفريقيا وأوروبا وآسيا "

السؤال الثالث :

أ- من اعمال النبي صلى الله عليه وسلم في المدينة المنورة

١- ٢-

١- من اولاد النبي صلى الله عليه وسلم الذكور

٢-

انتهت الأسئلة

نهوذج الإجابة

المادة : الدراسات الاجتماعية

الصف: الأول متوسط

اختبار الفترة الرابعة

اسم الطالب/ة:

السؤال الأول: اختر الإجابة الصحيحة فيما يلي بوضع دائرة عليها:

١	نزل الوحي على النبي صلى الله عليه وسلم وعمره	أ	٣٠ سنة	ب	٤٠ سنة	ج	٥٠ سنة	د	٦٠ سنة
٢	وقعت غزوة بدر في السنة	أ	٢ من الهجرة	ب	٣ من الهجرة	ج	٤ من الهجرة	د	٥ من الهجرة
٣	أشار على النبي بحفر الخندق في غزوة الأحزاب (الخندق)	أ	مصعب ابن عمير	ب	سلمان الفارسي	ج	نعيم بن مسعود	د	سعيد بن زيد
٤	عمل النبي صلى الله عليه وسلم في أول شبابه عدد من الأعمال من أبرزها :	أ	الزراعة	ب	الصناعة	ج	رعي الغنم	د	الحدادة
٥	أول عمل قام به الرسول صلى الله عليه وسلم في مكة بعد الفتح	أ	تحطيم الأصنام	ب	المواخاة بين المهاجرين والأنصار	ج	عقد هدنة مع اليهود	د	التوجه لمحاربة قبائل الجزيرة العربية
٦	أسهم النبي صلى الله عليه وسلم في حل بعض مشكلات مجتمعه ومن ذلك :	أ	حفر بئر زمزم	ب	بناء المسجد الأقصى	ج	تجديد بناء الكعبة	د	ترميم الأصنام
٧	كانت الحالة السياسية في شبه الجزيرة العربية قبل الإسلام قائمة على :	أ	الوحدة	ب	الاضطراب	ج	التعاون	د	التضامن
٨	عدد الذين بايعوا النبي صلى الله عليه وسلم	أ	١٢ رجلاً	ب	١٣ رجلاً	ج	١٤ رجلاً	د	١٥ رجلاً
٩	وجدت عند العرب قبل الإسلام بعض الممارسات والعادات السيئة :	أ	الوفاء بالعهد	ب	العصبية القبلية	ج	الشجاعة والكرم	د	حماية الجار والمروءة
١٠	الأسباب الرئيسية في هزيمة المسلمين في غزوة أحد :	أ	قلة عدد المسلمين	ب	اشتداد الحصار على المسلمين	ج	مخالفة الرماة لأوامر الرسول صلى الله عليه وسلم	د	خوف المسلمين من قريش
١١	كان حصار الشعب في السنة	أ	٥ من البعثة	ب	٦ من البعثة	ج	٧ من البعثة	د	٨ من البعثة
١٢	يدل موقف نبينا صلى الله عليه وسلم مع قريش عند فتح مكة على خلق :	أ	العفو	ب	الأمانة	ج	الزهد	د	الصدق
١٣	الحملة العسكرية التي يرسلها النبي ﷺ ولا يشارك فيها ب:	أ	الغزوة	ب	البعثة	ج	السرية	د	الفتح

تابع خلف الورقة



السؤال الثاني : ضع إشارة (✓) امام الإجابة الصحيحة وإشارة (×) أمام الإجابة الخاطئة:

✓	١	كان الرسول صلى الله عليه وسلم يتعبد في غار حراء
✓	٢	جميع اولاد النبي صلى الله عليه وسلم من زوجته خديجة ماعدا إبراهيم من مارية القبطية
✓	٣	مرضعة النبي ﷺ التي عاش معها في البادية هي حليلة السعدية
✗	٤	هاجر المسلمون الاوائل الى مصر
✓	٥	كان النبي صلى الله عليه وسلم يوصف بين قومه بالصادق الأمين
✗	٦	الذي كفل الرسول صلى الله عليه وسلم بعد وفاة والدته هو عمه أبوطالب
✓	٧	كانت السمة العامة للحالة السياسية في شبه الجزيرة العربية قبل الاسلام الاضطراب والنزاعات
✗	٨	فتح مكة كان في السنة ١٠ من الهجرة
✓	٩	صحب النبي عليه السلام عمه أبو طالب في رحلة تجارية إلى بلاد الشام
✓	١٠	بدأت بوادر الوحي على النبي صلى الله عليه وسلم بالرؤيا الصادقة
✓	١١	الذي نجح في التفريق بين قريش وحلفائها في غزوة الخندق هو نعيم بن مسعود رضي الله
✗	١٢	أول عمل قام به نبينا في مكة بعد الفتح " المواخاة بين المهاجرين والأنصار "
✓	١٣	تقع شبه الجزيرة العربية في قلب العالم وترتبط بين ثلاث قارات " أفريقيا وأوروبا وآسيا "

السؤال الثالث :

أ- من اعمال النبي صلى الله عليه وسلم في المدينة المنورة

١- **المواخاة بين المهاجرين والأنصار.** ٢- **بناء المسجد النبوي.**
٢- **كتابة وثيقة المدينة.**

١- من اولاد النبي صلى الله عليه وسلم الذكور

٢- **إبراهيم. عبد الله.** ٢- **القاسم.**

انتهت الأسئلة

موقع منهجي
mnhaji.com



الاسم	الفصل	الدرجة
-------	-------	--------

الصف: الأول المتوسط
 الدرجة الكلية: 10 درجات

المادة: الدراسات الاجتماعية
 الوحدة الرابعة: العصر النبوي
 الزمن: 15 دقيقة

أولاً: اختر الإجابة الصحيحة (ضع دائرة حول الإجابة الصحيحة) - (5 درجات)

وُلِدَ النبي محمد صلى الله عليه وسلم في عام:
 (أ) الفيل (ب) الهجرة (ج) الجماعة (د) الرمادة

هاجر النبي محمد صلى الله عليه وسلم من مكة إلى:
 (أ) الطائف (ب) المدينة المنورة (ج) الكوفة (د) الشام

من أبرز أسباب الهجرة إلى المدينة:
 (أ) البحث عن التجارة (ب) اشتداد أذى قريش للمسلمين (ج) إقامة الأسواق (د) بناء القصور

من نتائج غزوة بدر الكبرى:
 (أ) انتصار المسلمين (ب) هزيمة المسلمين (ج) استسلام الروم (د) فتح مكة

خطبة حجة الوداع أكدت على:
 (أ) وحدة الأمة والتمسك بالدين (ب) بناء القصور (ج) زيادة الأموال (د) توسعة الأسواق

ثانياً: ضع علامة (✓) أمام العبارة الصحيحة وعلامة (X) أمام العبارة الخطأ - (5 درجات)

شارك النبي صلى الله عليه وسلم في تجديد بناء الكعبة قبل بعثته. ()

أول ما نزل على النبي صلى الله عليه وسلم من القرآن قوله تعالى: (اقرأ). ()

من نتائج صلح الحديبية: دخول الناس في دين الله أفواجاً. ()

بعد فتح مكة عاقب النبي صلى الله عليه وسلم قريش عقوبة شديدة. ()

توفي النبي محمد صلى الله عليه وسلم في السنة الحادية عشرة للهجرة. ()

نموذج الإجابة

المادة : الدراسات الاجتماعية
الصف : الاول المتوسط
اختبار قصير
الفصل الدراسي الاول 1448هـ

الاسم	الفصل	الدرجة
-------	-------	--------

الصف: الأول المتوسط
الدرجة الكلية: 10 درجات

المادة: الدراسات الاجتماعية
الوحدة الرابعة: العصر النبوي
الزمن: 15 دقيقة

أولاً: اختر الإجابة الصحيحة (ضع دائرة حول الإجابة الصحيحة) - (5 درجات)

وُلد النبي محمد صلى الله عليه وسلم في عام:
أ) الفيل (ب) الهجرة (ج) الجماعة (د) الرمادة

هاجر النبي محمد صلى الله عليه وسلم من مكة إلى:
أ) الطائف (ب) المدينة المنورة (ج) الكوفة (د) الشام

من أبرز أسباب الهجرة إلى المدينة:
أ) البحث عن التجارة (ب) اشتداد أذى قريش للمسلمين (ج) إقامة الأسواق (د) بناء القصور

من نتائج غزوة بدر الكبرى:
أ) انتصار المسلمين (ب) هزيمة المسلمين (ج) استسلام الروم (د) فتح مكة

خطبة حجة الوداع أكدت على:
أ) وحدة الأمة والتمسك بالدين (ب) بناء القصور (ج) زيادة الأموال (د) توسعة الأسواق

ثانياً: ضع علامة (✓) أمام العبارة الصحيحة وعلامة (X) أمام العبارة الخطأ - (5 درجات)

(✓) شارك النبي صلى الله عليه وسلم في تجديد بناء الكعبة قبل بعثته.

(✓) أول ما نزل على النبي صلى الله عليه وسلم من القرآن قوله تعالى: (اقرأ).

(X) من نتائج صلح الحديبية: دخول الناس في دين الله أفواجاً.

(X) بعد فتح مكة عاقب النبي صلى الله عليه وسلم قريش عقوبة شديدة.

(✓) توفي النبي محمد صلى الله عليه وسلم في السنة الحادية عشرة للهجرة.





اختبار الوحدة الرابعة العصر النبوي

اسم الطالب/ة:

السؤال الأول : ضع إشارة (√) أو علامة (×) امام العبارات التالية :

- () (1) تربط شبه الجزيرة العربية بين ثلاث قارات
- () (2) بسبب انعدام الوحدة كثرت الحروب والخلافات في شبه الجزيرة العربية .
- () (3) لم يؤثر موقع شبه الجزيرة العربية في التجارة البحرية.
- () (4) نشطت التجارة في شبه الجزيرة العربية قبل الإسلام.
- () (5) كان النبي صلى الله عليه وسلم يخلو في غار حراء يتفكر في الكون.
- () (6) اهتم العرب قبل الإسلام بالمرأة وأعطوها حقها.
- () (7) زاد الترابط الاجتماعي بعد مؤاخاة النبي صلى الله عليه وسلم بين المهاجرين والأنصار.
- () (8) حدثت ثلاث بيعات في العقبة.
- () (9) انجبت السيدة خديجة جميع أبناء النبي صلى الله عليه وسلم.
- () (10) نزل الوحي على النبي صلى الله عليه وسلم في غار حراء عام 571م.

السؤال الثاني : اختار الإجابة الصحيحة بوضع دائرة عليها:

(1) كانت الهجرة إلى الحبشة في السنة بعد الدعوة		
(أ) الخامسة	(ب) الرابعة	(ج) السادسة
(2) أول زوجات النبي صلى الله عليه وسلم :		
(أ) عائشة رضي الله عنها	(ب) خديجة رضي الله عنها	(ج) حفصة رضي الله عنها
(3) ولد النبي محمد صلى الله عليه وسلم في شهر :		
(أ) ربيع أول	(ب) محرم	(ج) ربيع ثاني

4) خير أرض الله يقصد بها :

أ) مكة المكرمة	ب) المدينة المنورة	ج) الطائف
----------------	--------------------	-----------

5) انتشر الإسلام في المدينة على يد:

أ) مصعب بن عمير	ب) عمر بن الخطاب	ج) بلال بن رباح
-----------------	------------------	-----------------

6) أسلم من كبار قريش :

أ) صهيب الرومي	ب) عمار بن ياسر	ج) حمزة بن عبد المطلب
----------------	-----------------	-----------------------

7) عندما أراد النبي صلى الله عليه وسلم أن يبلغ الدعوة لقريش سعد جبل :

أ) المروة	ب) الصفا	ج) النور
-----------	----------	----------

8) عدد بنات النبي صلى الله عليه وسلم

أ) 4 بنات	ب) 3 بنات	ج) 5 بنات
-----------	-----------	-----------

السؤال الثالث :

علل ما يأتي :

1-رضاعة النبي صلى الله عليه وسلم في بني ساعدة:

.....

.....

2-بناء النبي صلى الله عليه وسلم للمسجد النبوي :

.....

.....

انتهت الأسئلة،،،

نهوذج الإجابة

اختبار الوحدة الرابعة العصر النبوي

اسم الطالب/ة:

السؤال الأول : ضع إشارة (√) أو علامة (×) امام العبارات التالية :

- (√) (1) تربط شبه الجزيرة العربية بين ثلاث قارات
- (√) (2) بسبب انعدام الوحدة كثرت الحروب والخلافات في شبه الجزيرة العربية .
- (×) (3) لم يؤثر موقع شبه الجزيرة العربية في التجارة البحرية.
- (√) (4) نشطت التجارة في شبه الجزيرة العربية قبل الإسلام.
- (√) (5) كان النبي صلى الله عليه وسلم يخلو في غار حراء يتفكر في الكون.
- (×) (6) اهتم العرب قبل الإسلام بالمرأة وأعطوها حقها.
- (√) (7) زاد الترابط الاجتماعي بعد مؤاخاة النبي صلى الله عليه وسلم بين المهاجرين والأنصار.
- (×) (8) حدثت ثلاث بيعات في العقبة.
- (×) (9) انجبت السيدة خديجة جميع أبناء النبي صلى الله عليه وسلم.
- (×) (10) نزل الوحي على النبي صلى الله عليه وسلم في غار حراء عام 571م.

السؤال الثاني : اختار الإجابة الصحيحة بوضع دائرة عليها:

(1) كانت الهجرة إلى الحبشة في السنة بعد الدعوة		
(أ) الخامسة	(ب) الرابعة	(ج) السادسة
(2) أول زوجات النبي صلى الله عليه وسلم :		
(أ) عائشة رضي الله عنها	(ب) خديجة رضي الله عنها	(ج) حفصة رضي الله عنها
(3) ولد النبي محمد صلى الله عليه وسلم في شهر :		
(أ) ربيع أول	(ب) محرم	(ج) ربيع ثاني

(4) خير أرض الله يقصد بها :		
(أ) مكة المكرمة	(ب) المدينة المنورة	(ج) الطائف
(5) انتشر الإسلام في المدينة على يد:		
(أ) مصعب بن عمير	(ب) عمر بن الخطاب	(ج) بلال بن رباح
(6) أسلم من كبار قريش :		
(أ) صهيب الرومي	(ب) عمار بن ياسر	(ج) حمزة بن عبد المطلب
(7) عندما أراد النبي صلى الله عليه وسلم أن يبلغ الدعوة لقريش سعد جبل :		
(أ) المروة	(ب) الصفا	(ج) النور
(8) عدد بنات النبي صلى الله عليه وسلم		
(أ) 4 بنات	(ب) 3 بنات	(ج) 5 بنات

السؤال الثالث :

علل ما يأتي :

1-رضاعة النبي صلى الله عليه وسلم في بني ساعدة:

كان عادة أشرف العرب إرسال أبنائهم إلى المرضعات في البادية حفاظاً على سلامة لغتهم من الخطأ وفصاحة سنتهم وصحة أجسادهم.

2-بناء النبي صلى الله عليه وسلم للمسجد النبوي :

ليصبح مكاناً للعبادة ومركزاً للحكم والقيادة في المدينة المنورة التي أصبحت عاصمة البلاد الإسلامية.

انتهت الأسئلة،،