

تم تحميل وعرض المادة من

# منهجي

mnhaji.com



موقع منهجي منصة تعليمية توفر كل ما يحتاجه المعلم  
والطالب من حلول الكتب الدراسية وشرح للدروس  
بأسلوب مبسط لكافة المراحل التعليمية وتوزيع  
المناهج وتحضير وملخصات ونماذج اختبارات وأوراق  
عمل جاهزة للطباعة والتحميل بشكل مجاني

حمل تطبيق منهجي ليصلك كل جديد



20

الدرجة:

نموذج اختبار منتصف الفترة لمادة الدراسات الاجتماعية للصف الثاني المتوسط

أ / ب

الفصل

اسم الطالب

5 درجات

السؤال الاول: ضع علامة (√) أمام العبارة الصائبة وعلامة (x) أمام العبارة الخاطئة لما يأتي؟

1	الترباط والتنسيق المشترك بين دول العالم العربي والاسلامي يخدم العالم أجمع
2	يتفق الناس جميعا في ميولهم نحو الهوايات
3	عندما اخطط لتنظيم وقتي لا ابالي بحساب الزمن
4	تعد اندونيسيا أكبر دولة اسلامية من حيث عدد السكان
5	يقصد بالتركيب النوعي للسكان توزيعهم حسب الأعمار

درجتين

السؤال الثاني: عبر بأسلوبك ورأيك في الموضوع التالي؟

احمد طالب في الصف الثاني المتوسط قام بإعداد خطة للمذاكرة، كيف يستطيع معرفة ان تخطيطه غير صحيح وماهي الحلول المناسبة للتغلب على المشكلات التي قد تواجهه عند تطبيق ما خطط له:

.....

.....

.....

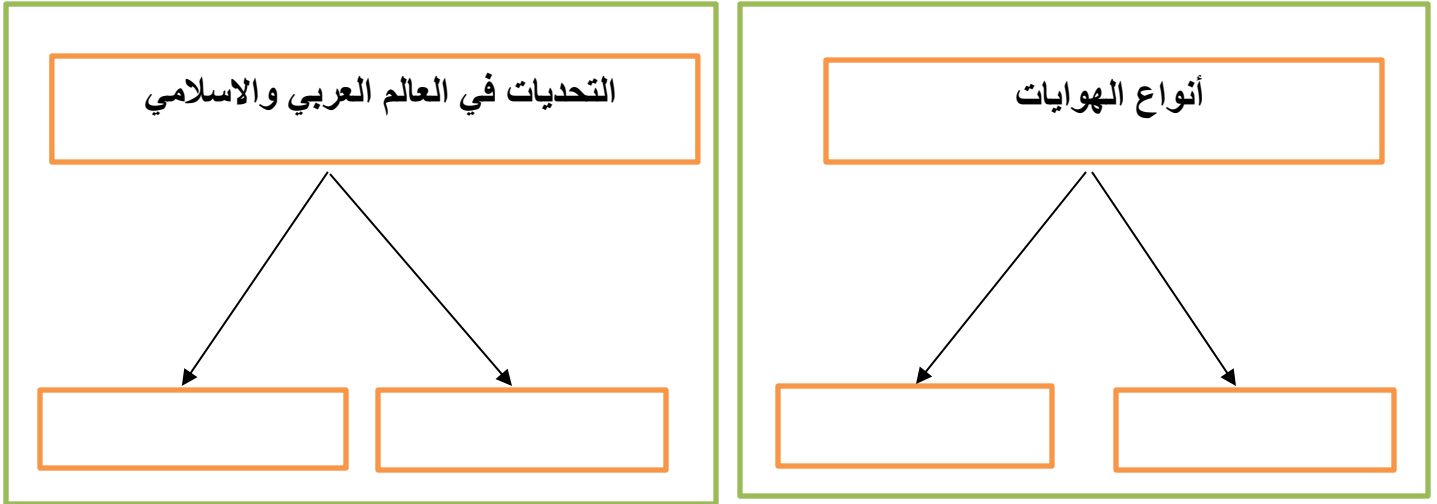
4 درجات

السؤال الثالث: اختر الاجابة الصحيحة في الجدول ادناه؟

1	العاصمة السابقة لنيجيريا :	2	ترتيب الاعمال وفق أهميتها والزمن لتنفيذها :
أ	ابوجا	أ	الأولويات
ب	لاجوس	ب	الهوايات
ج	كانو	ج	تقويم التخطيط
د	إبادان	د	ادارة الوقت
3	تعتبر اندونيسيا ثاني اكبر بلد في العالم في انتاج :	4	من اسباب انتشار الفقر في العالم العربي والاسلامي
أ	النفط	أ	قوة الانتاج
ب	الغاز الطبيعي	ب	البطالة والامية
ج	الذهب	ج	الاستقرار
د	القصدير	د	ازدهار التنمية

يتبع

## السؤال الرابع: أكل خرائط المفاهيم التالية؟



## السؤال الخامس: ضع الرقم الموجود امام المجموعة الاولى امام يناسبها من المجموعة الثانية؟

الرقم	المجموعة الأولى	الرقم	المجموعة الثانية
1	جبال طوروس		المملكة العربية السعودية
2	هضبة نجد		مصر
3	نهر النيل		باكستان
			تركيا

## السؤال السادس: عزيزي الطالب أمامك الخريطة الطبيعية لجمهورية ألبانيا الاسلامية تأمل هذه الخريطة



ثم أجب على الاسئلة ادناه؟

(أ) أين تقع البانيا من قارة أوروبا؟

.....

(ب) ماذا يحد البانيا من جهة الشرق؟

.....

(ج) صف بإيجاز السطح في البانيا؟

.....

(د) ماهي عاصمة البانيا؟

.....

انتهت الاسئلة

20

الدرجة:

نموذج اختبار منتصف الفترة لمادة الدراسات الاجتماعية للصف الثاني المتوسط

أ / ب

الفصل

# نموذج الإجابة

اسم الطالب

5 درجات

السؤال الاول: ضع علامة (√) أمام العبارة الصائبة وعلامة (x) أمام العبارة الخاطئة لما يأتي؟

√	1	التربط والتنسيق المشترك بين دول العالم العربي والاسلامي يخدم العالم أجمع
x	2	يتفق الناس جميعا في ميولهم نحو الهوايات
x	3	عندما اخطط لتنظيم وقتي لا ابالي بحساب الزمن
√	4	تعد اندونيسيا أكبر دولة اسلامية من حيث عدد السكان
x	5	يقصد بالتركيب النوعي للسكان توزيعهم حسب الأعمار

درجتين

السؤال الثاني: عبر بأسلوبك ورأيك في الموضوع التالي؟

احمد طالب في الصف الثاني المتوسط قام بإعداد خطة للمذاكرة، كيف يستطيع معرفة ان تخطيطه غير صحيح وماهي الحلول المناسبة للتغلب على المشكلات التي قد تواجهه عند تطبيق ما خطط له:

يعرف ان التخطيط غير صحيح: عندما يشعر بالقلق وضيق الوقت وتراكم الاعمال

الحلول المناسبة هي : اختيار المكان والوقت المناسبين للمذاكرة و الابتعاد عن كل ما يؤثر على المذاكرة كالجوال والتلفاز وتحديد وقت للاستراحة .

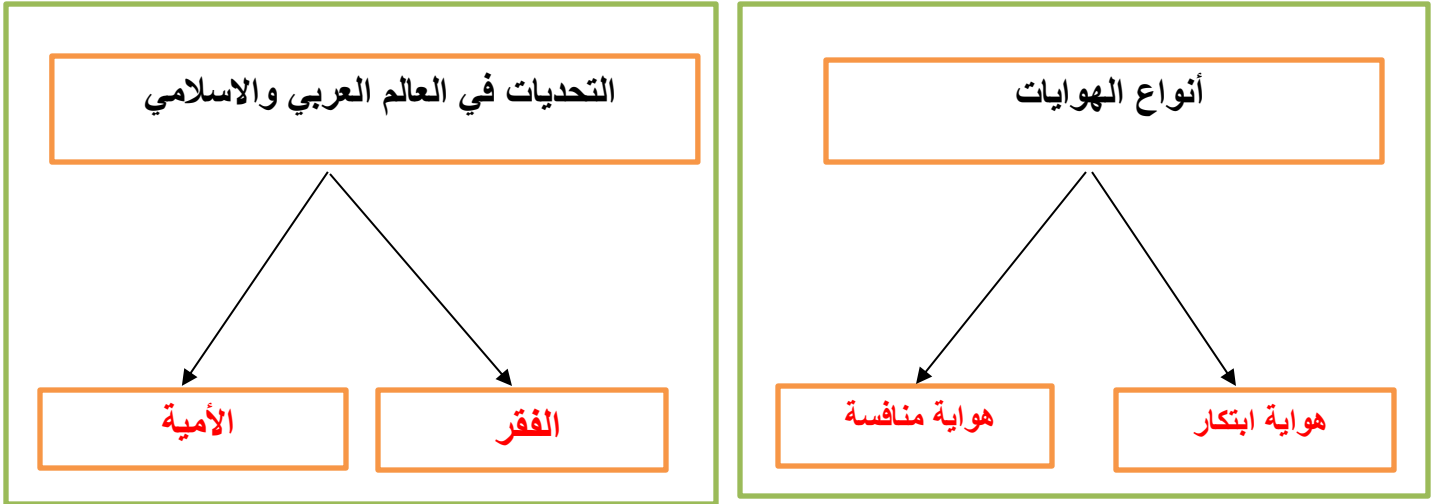
4 درجات

السؤال الثالث: اختر الاجابة الصحيحة في الجدول ادناه؟

1	العاصمة السابقة لنيجيريا :	2	ترتيب الاعمال وفق أهميتها والزمن لتنفيذها :
أ	ابوجا	أ	الأولويات
ب	لاجوس	ب	الهوايات
ج	كانو	ج	تقويم التخطيط
د	إبادان	د	ادارة الوقت
3	تعتبر اندونيسيا ثاني اكبر بلد في العالم في انتاج :	4	من اسباب انتشار الفقر في العالم العربي والاسلامي
أ	النفط	أ	قوة الانتاج
ب	الغاز الطبيعي	ب	البطالة والامية
ج	الذهب	ج	الاستقرار
د	القصدير	د	ازدهار التنمية

يتبع

## السؤال الرابع: أكل خرائط المفاهيم التالية؟



## السؤال الخامس: ضع الرقم الموجود امام المجموعة الاولى امام يناسبها من المجموعة الثانية؟

المجموعة الثانية	الرقم	المجموعة الأولى	الرقم
المملكة العربية السعودية	2	جبال طوروس	1
مصر	3	هضبة نجد	2
باكستان		نهر النيل	3
تركيا	1		

## السؤال السادس: عزيزي الطالب أمامك الخريطة الطبيعية لجمهورية ألبانيا الاسلامية تأمل هذه الخريطة



ثم أجب على الاسئلة ادناه؟

(أ) أين تقع البانيا من قارة أوروبا؟

جنوب شرق أوروبا

(ب) ماذا يحد البانيا من جهة الشرق؟

مقدونيا واليونان

(ج) صف بإيجاز السطح في البانيا؟

مرتفعات جبلية في الشرق وسهول ساحلية في الغرب

(د) ماهي عاصمة البانيا؟

تيرانا

انتهت الاسئلة / محمد القرني

التوقيع	اسم المصحح :	الدرجة	 وزارة التعليم Ministry of Education	المملكة العربية السعودية وزارة التعليم الإدارة العامة للتعليم بمنطقة مكتب التعليم مدرسة
التوقيع	اسم المراجع :	..... 20	 رؤية 2030	

رقم الجلوس	الصف الثاني متوسط	العام الدراسي 1445 هـ	أسئلة اختبار منتصف الفصل الثالث ( الدور الأول )
عدد الصفحات : 2	الزمن : ساعه ونصف	المادة : اجتماعيات	اسم الطالب : .....

### السؤال الأول

استعن بالله ثم اجب على الاسئلة

20

ضع علامة ( √ ) أمام العبارة الصحيحة وعلامة ( X ) أمام العبارة الخاطئة

أ

( )	يصل عدد الجزر الإندونيسية إلى عشرة آلاف جزيرة .	1
( )	تساوي مساحة العالم العربي نحو 14 مليون كم 2 .	2
( )	تقع ألبانيا في جنوب شرق أوروبا	3
( )	تعتبر لاجوس العاصمة الحالية لنيجيريا وتقع في الوسط	4
( )	من العوامل البشرية المؤثرة في توزيع السكان الأنشطة الاقتصادية .	5

5

### السؤال الثاني

أربط بين العمود [ أ ] بما يناسبه في العمود [ ب ] بوضع الرقم المناسب في مربع الإجابة :

م	العمود [ أ ]	الإجابة	العمود [ ب ]
1	الدول الأعضاء في منظمة التعاون الإسلامي		الأمية
2	الدول ذات المستوى الاقتصادي المنخفض		البطالة
3	هم الأفراد الذين يعيشون بلا عمل		العالم الإسلامي
4	الدول التي تضمها جامعة الدول العربية		الدول الفقيرة
5	فقدان القدرة على القراءة والكتابة		الدول العربية

10

ضع دائرة على الحرف الذي يسبق الإجابة الصحيحة لكل مما يلي :

### السؤال الثالث

1- من آثار الأمية في العالم العربي والإسلامي:

أ ارتفاع تنافسية الاقتصاد ب ركود التنمية ج انتشار الصحة

2-تزداد الكثافة السكانية في المناطق :

أ	الرعية	ب	الرملية	ج	الصناعية
3 - تمثل مساحة العالم العربي والإسلامي بالنسبة إلى مساحة العالم :					
أ	الثالث	ب	الربع	ج	الخمس
4- تطل نيجيريا من الجنوب على :					
أ	المحيط الهندي	ب	خليج غينيا	ج	خليج البنغال
5- تعد مركزا صناعيا وميناء بحريا لإندونيسيا					
أ	سورابايا	ب	دورسو	ج	لاجوس

#### السؤال الرابع

5

اذكر اثنين فقط لكل مما يلي :

1- من العوامل التي ساعدت على انتشار الفقر في العالم العربي والإسلامي:

أ - ..... ب-.....

2- يتوزع أغلب سكان العالم العربي والإسلامي بين قارتي :

أ - ..... ب-.....

3- من الخصائص السكانية التي تميز العالم العربي والإسلامي :

أ - ..... ب-.....



نموذج اختبار منتصف الفترة  
الفصل الدراسي الثالث 1445  
المادة: الدراسات الاجتماعية  
الصف: الثاني المتوسط



وزارة التعليم  
ادارة التعليم  
مكتب تعليم  
مدرسة

الدرجة /20

الفصل

إعداد / محمد القرني

اسم الطالب

العالم العربي  
العالم الاسلامي  
التركيب النوعي  
الأمية  
لاجوس  
سورابايا  
التركيب العمري

**السؤال الأول: مستعينا بالشكل المجاور ضع المصطلح امام ما يناسبه من العبارات ادناه؟**

- ( العاصمة السابقة لدولة نيجيريا ) ❖  
( مركز صناعي وميناء بحري هام لإنдонيسيا ) ❖  
( مجموعة الدول الاعضاء في جامعة الدول العربية ) ❖  
( توزيع السكان الى ذكور واثاث ونسبة كل منهم الى جملة السكان ) ❖  
( هي فقدان القدرة على القراءة والكتابة ) ❖

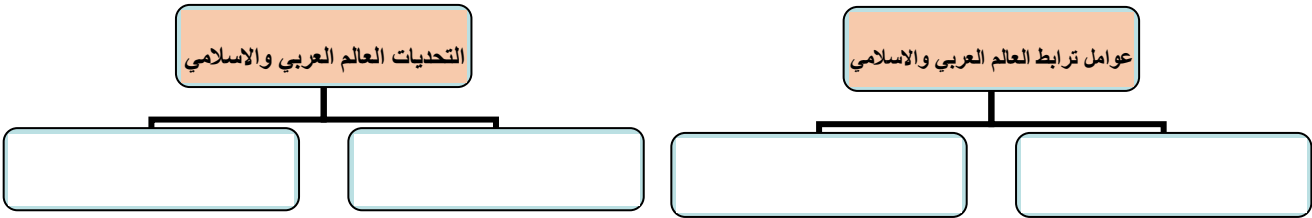
5 درجات

**السؤال الثاني : ضع الرقم امام المجموعة الاولى امام ما يناسبه من المجموعة الثانية؟**

المجموعة الثانية	الرقم	المجموعة الاولى	الرقم
المملكة العربية السعودية		هضبة بلوختان	1
مصر		جبال الحجاز	2
تركيا		نهر النيل	3
باكستان			

3 درجات

**السؤال الثالث : أكمل خرائط المفاهيم التالية ؟**



4 درجات

**السؤال الرابع : ( أ ) قارن بين اندونيسيا و ألبانيا وفق الجدول؟**

ألبانيا	وجه المقارنة	اندونيسيا
	الموقع	
	المناخ	
	العاصمة	

4 درجات

**( ب ) وضح باختصار اهمية موقع العالم العربي والاسلامي ؟**

**السؤال الخامس: ضع علامة (√) امام العبارة الصائبة وعلامة ( x ) امام العبارة الخاطئة ؟**

1	الترباط بين دول العالم العربي والاسلامي يخدم العالم أجمع
2	يتركز ويتوزع أغلب سكان العالم العربي والاسلامي في قارتي آسيا وأفريقيا
3	تعادل مساحة العالم العربي والاسلامي ربع مساحة اليابسة
4	تقع نيجيريا في وسط قارة أفريقيا على المحيط الاطلسي

4 درجات





نموذج اختبار منتصف الفترة  
الفصل الدراسي الثالث 1445  
المادة: الدراسات الاجتماعية  
الصف: الثاني المتوسط



وزارة التعليم  
ادارة التعليم  
مكتب تعليم  
مدرسة

الدرجة /20

الفصل

## نموذج الإجابة

اسم الطالب

العالم العربي  
العالم الاسلامي  
التركيب النوعي  
الأمية  
لاجوس  
سورابايا  
التركيب العمري

**السؤال الأول: مستعينا بالشكل المجاور ضع المصطلح امام ما يناسبه من العبارات ادناه؟**

- ❖ ( لاجوس ) العاصمة السابقة لدولة نيجيريا .
- ❖ ( سورابايا ) مركز صناعي وميناء بحري هام لإندونيسيا .
- ❖ ( العالم العربي ) مجموعة الدول الاعضاء في جامعة الدول العربية .
- ❖ ( التركيب النوعي ) توزيع السكان الى ذكور واثاث ونسبة كل منهم الى جملة السكان .
- ❖ ( الأمية ) هي فقدان القدرة على القراءة والكتابة .

5 درجات

**السؤال الثاني : ضع الرقم امام المجموعة الاولى امام ما يناسبه من المجموعة الثانية؟**

الرقم	المجموعة الاولى	الرقم	المجموعة الثانية
1	هضبة بلوختان	2	المملكة العربية السعودية
2	جبال الحجاز	3	مصر
3	نهر النيل		تركيا
		1	باكستان

3 درجات

**السؤال الثالث : أكمل خرائط المفاهيم التالية ؟**



4 درجات

**السؤال الرابع : ( أ ) قارن بين اندونيسيا و ألبانيا وفق الجدول؟**

ألبانيا	وجه المقارنة	اندونيسيا
جنوب شرق اوروبا	الموقع	جنوب شرق آسيا
مناخ البحر الابيض المتوسط	المناخ	مناخ استوائي
تيرانا	العاصمة	جاكرتا

4 درجات

( ب ) وضح باختصار اهمية موقع العالم العربي والاسلامي ؟  
يقع وسط العالم القديم (آسيا وأفريقيا وأوروبا) ومهد الديانات السماوية (اليهودية والنصرانية و الإسلام) ويطل على مسطحات مائية ومضائق هامة ومرور طرق التجارة العالمية بأراضيه

**السؤال الخامس: ضع علامة (√) امام العبارة الصائبة وعلامة ( x ) امام العبارة الخاطئة ؟**

√	الترباط بين دول العالم العربي والاسلامي يخدم العالم أجمع	1
√	يتركز ويتوزع أغلب سكان العالم العربي والاسلامي في قارتي آسيا وأفريقيا	2
x	تعادل مساحة العالم العربي والاسلامي ربع مساحة اليابسة	3
√	تقع نيجيريا في وسط قارة أفريقيا على المحيط الاطلسي	4

4 درجات

المادة / الدراسات الاجتماعية

الصف / الثاني المتوسط

الزمن / 45 دقيقة

20



وزارة التعليم  
Ministry of Education

المملكة العربية السعودية

وزارة التعليم

إدارة تعليم

مكتب تعليم

متوسطة

اختبار منتصف الفصل الدراسي الثالث

لعام / 1445هـ

اسم الطالب / ..... الصف / .....

السؤال الأول / اختر الإجابة الصحيحة في الجمل التالية وذلك بوضع علامة ( ✓ ) في المربع الصحيح.

1	تبلغ مساحة العالم العربي والإسلامي نحو	2	من أهمية موقع العالم العربي والإسلامي
أ-	<input type="checkbox"/> 34 مليون كم <sup>2</sup>	أ-	<input type="checkbox"/> وقوعه في قارات العالم القديم
ب-	<input type="checkbox"/> 43 مليون كم <sup>2</sup>	ب-	<input type="checkbox"/> مهد الديانات السماوية الثلاث
ج-	<input type="checkbox"/> 41 مليون كم <sup>2</sup>	ج-	<input type="checkbox"/> إطلالته على مسطحات مائية مهمة
د-	<input type="checkbox"/> 14 مليون كم <sup>2</sup>	د-	<input type="checkbox"/> جميع ما سبق
3	يشغل العالم العربي والإسلامي نحو	4	يبلغ عدد الدول الإسلامية
أ-	<input type="checkbox"/> 81 دائرة عرضية	أ-	<input type="checkbox"/> 58
ب-	<input type="checkbox"/> 82 دائرة عرضية	ب-	<input type="checkbox"/> 22
ج-	<input type="checkbox"/> 83 دائرة عرضية	ج-	<input type="checkbox"/> 56
د-	<input type="checkbox"/> 80 دائرة عرضية	د-	<input type="checkbox"/> 57
5	أكبر دول العالم الإسلامي من حيث المساحة	6	أكبر دول العالم الإسلامي من حيث عدد السكان
أ-	<input type="checkbox"/> المملكة العربية السعودية	أ-	<input type="checkbox"/> إيران
ب-	<input type="checkbox"/> اندونيسيا	ب-	<input type="checkbox"/> إندونيسيا
ج-	<input type="checkbox"/> الجزائر	ج-	<input type="checkbox"/> مصر
د-	<input type="checkbox"/> كازاخستان	د-	<input type="checkbox"/> كازاخستان
7	تقع في جنوب شرق اسيا	8	تقع في وسط أفريقيا
أ-	<input type="checkbox"/> البانيا	أ-	<input type="checkbox"/> نيجريا
ب-	<input type="checkbox"/> اندونيسيا	ب-	<input type="checkbox"/> اندونيسيا
ج-	<input type="checkbox"/> نيجيريا	ج-	<input type="checkbox"/> البانيا
د-	<input type="checkbox"/> تركيا	د-	<input type="checkbox"/> المغرب
9	تقع في جنوب شرق اوروبا	10	من نتائج البطالة
أ-	<input type="checkbox"/> نيجيريا	أ-	<input type="checkbox"/> انتشار الجهل
ب-	<input type="checkbox"/> اندونيسيا	ب-	<input type="checkbox"/> الحروب
ج-	<input type="checkbox"/> اوكرانيا	ج-	<input type="checkbox"/> انتشار الفقر
د-	<input type="checkbox"/> البانيا	د-	<input type="checkbox"/> لا شيء مما سبق

السؤال الثاني/ ضع علامة ( ✓ ) أمام العبارة الصحيحة و علامة ( X ) أمام العبارة الخاطئة:

{ }	-1	تعادل مساحة العالم العربي والاسلامي سدس مساحة اليابسة
{ }	-2	من اشهر المحاصيل الزراعية في نيجيريا الفول السوداني
{ }	-3	تبلغ مساحة العالم العربي نحو 14 مليون كم <sup>2</sup>
{ }	-4	تشكل الجبال المظهر السائد في العالم العربي والإسلامي

السؤال الثالث : أصل بين العمود ( أ ) بما يناسبه من العمود ( ب ) بوضع الرقم المناسب أمامه فيما يلي :

( أ )		( ب )	
العالم العربي	١	هي فقدان القدرة على القراءة والكتابة	
العالم الإسلامي	٢	هي الدولة ذات المستوى الاقتصادي المنخفض	
التركيب النوعي	٣	هو توزيع السكان إلى ذكور وإناث	
التركيب العمري	٤	الدول الأعضاء في جامعة الدول العربية	
الدولة الفقيرة	٥	الدول الأعضاء في منظمة التعاون الإسلامي	
الأمية	6	هو تقسيم السكان إلى فئات حسب أعمارهم	

انتهت الأسئلة

إعداد : خالد الحربي