

تم تحميل وعرض المادة من

منهجي

mnhaji.com



موقع منهجي منصة تعليمية توفر كل ما يحتاجه المعلم
والطالب من حلول الكتب الدراسية وشرح للدروس
بأسلوب مبسط لكافة المراحل التعليمية وتوزيع
المناهج وتحضير وملخصات ونماذج اختبارات وأوراق
عمل جاهزة للطباعة والتحميل بشكل مجاني

حمل تطبيق منهجي ليصلك كل جديد



اختبار التربية الفنية - ثالث ابتدائي - الترم الثالث

الصف : ٣ /

اسم الطالب/ة :

السؤال الأول ، صح او خطأ :

١. الوحدة الزخرفية هي تتكون من الأشكال الزخرفية ويمكن تصنيفها الى ثلاثة أنواع نباتية وهندسية وكتابية

صح خطأ

٢. استخدم الفنان الزخارف الهندسية في جميع المجالات كزخرفة المساجد والأبواب والنوافذ والأثاث والمصاحف

صح خطأ

٣. الطبيعة بمختلف عناصرها مصدر إلهام الفنان

صح خطأ

٤. التكرار هو : إعادة الشيء مرة بعد الأخرى

صح خطأ

٥. من اتجاهات التكرار : مائل وأفقي وعمودي ومنحني

صح خطأ

السؤال الثاني ، صل بين المسمى والشكل المناسب :


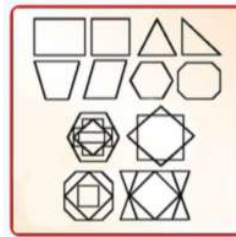


• الزخرفة الهندسية

• الزخرفة النباتية

السؤال الثالث ، اختار ما بين الأقواس وضعه في المكان المناسب في الفراغات التالية :

(الزخرفة بالخطوط ، الزخرفة بالأشكال الدائرية ، الزخرفة بالأشكال الهندسية)



.....

.....

.....

نموذج الإجابة

المملكة العربية السعودية
وزارة التعليم
الإدارة العامة للتعليم بمنطقة
ابتدائية

١٠

اختبار التربية الفنية - ثالث ابتدائي - الترم الثالث

الصف : ٣ /

اسم الطالب/ة :

السؤال الأول ، صح او خطأ :

١. الوحدة الزخرفية هي تتكون من الأشكال الزخرفية ويمكن تصنيفها الى ثلاثة أنواع نباتية وهندسية وكتابية

صح خطأ

٢. استخدم الفنان الزخارف الهندسية في جميع المجالات كزخرفة المساجد والأبواب والنوافذ والأثاث والمصاحف

صح خطأ

٣. الطبيعة بمختلف عناصرها مصدر إلهام الفنان

صح خطأ

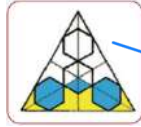
٤. التكرار هو : إعادة الشيء مرة بعد الأخرى

صح خطأ

٥. من اتجاهات التكرار : مائل وافقي وعمودي ومنحني

صح خطأ

السؤال الثاني ، صل بين المسمى والشكل المناسب :



الزخرفة الهندسية



الزخرفة النباتية

السؤال الثالث ، اختار ما بين الأقواس وضعه في المكان المناسب في الفراغات التالية :

(الزخرفة بالخطوط ، الزخرفة بالأشكال الدائرية ، الزخرفة بالأشكال الهندسية)

