

تم تحميل وعرض المادة من


منهجي

mnhaji.com



موقع منهجي منصة تعليمية توفر كل ما يحتاجه المعلم
والطالب من حلول الكتب الدراسية وشرح للدروس
بأسلوب مبسط لكافة المراحل التعليمية وتوزيع
المناهج وتحضير وملخصات ونماذج اختبارات وأوراق
عمل جاهزة للطباعة والتحميل بشكل مجاني

حمل تطبيق منهجي ليصلك كل جديد



الدرجة رقما	الدرجة ٤٠	الدرجة كتابة	المصحح التوقيع	المراجع التوقيع
----------------	--------------	-----------------	-------------------	--------------------

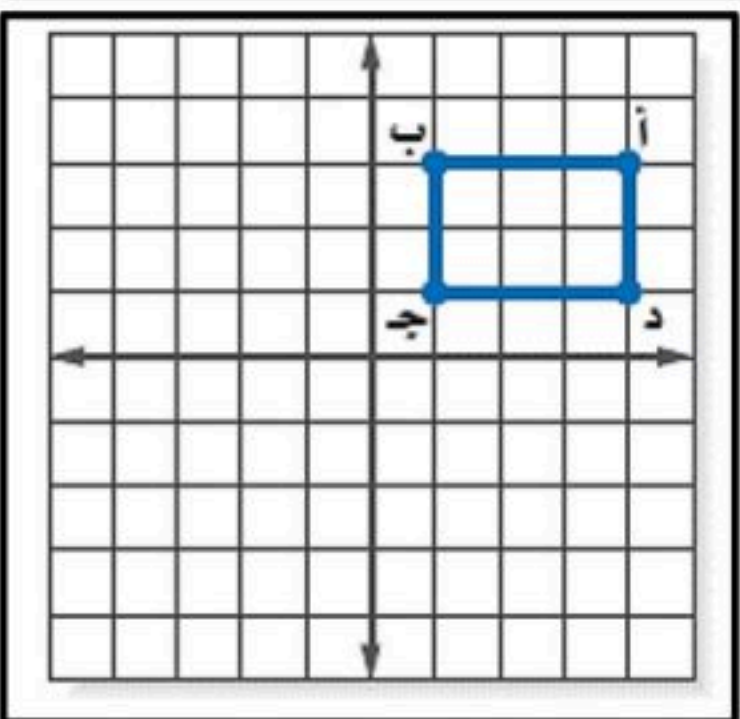

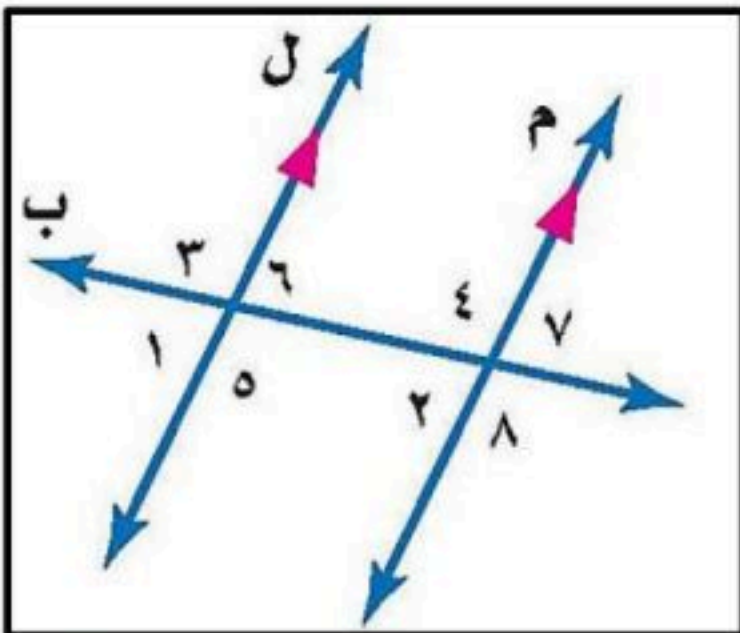
اختبار نهائي الفصل الدراسي الثاني (الدور الأول)

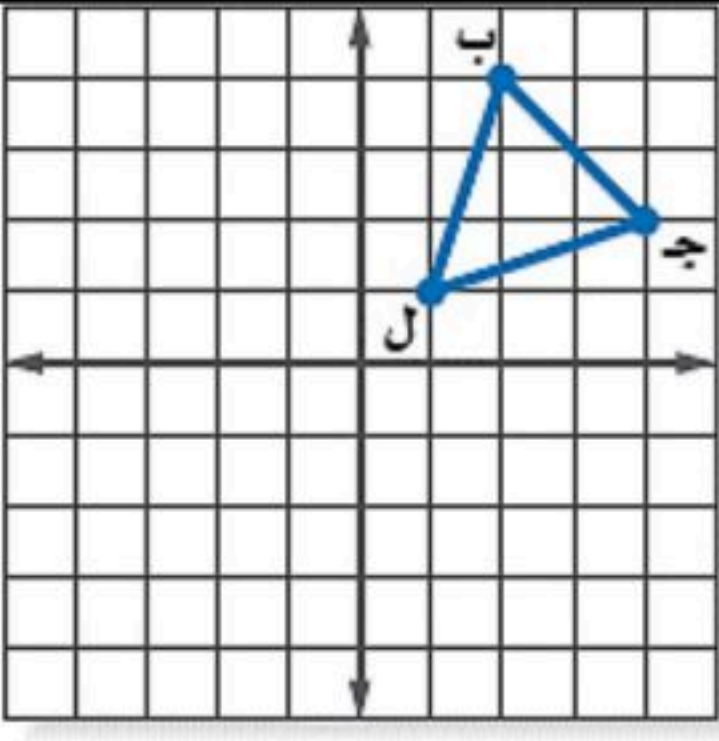
اسم الطالب :	رقم الجلوس :
--------------	--------------

٢٥ درجة	
---------	--

السؤال الأول: اختر الإجابة الصحيحة لكل فقرة :

- أوجد ٢٥٪ من ١٦٠
أ ٥٠ ب ٦٠ ج ٧٠ د ٤٠
- قدر النسبة المئوية للعدد ٧ من ٧٩
أ ٢٥٪ ب ٢٠٪ ج ١٠٪ د $\frac{2}{3} \times 16$
- العدد الذي ٧٥٪ منه تساوي ٢١٠
أ ٢٧٠ ب ٢٨٠ ج ٢٧٥ د ٢٩٠
- التغير المئوي إذا كان الثمن الأصلي ٤٠ ريال والجديد ٤٨ ريال
أ ٢٠٪ ب ٣٠٪ ج ٢٥٪ د ١٥٪ نقصان مئوي
- إذا كان ثمن القميص ٨٠ ريال والخصم ٢٥٪ فإن ثمن البيع =
أ ٦٠ ب ٧٠ ج ٦٥ د ٤٠
- العلاقة بين الزاويتان ٣ و ٨
أ متبادلتان داخليا ب متبادلتان خارجيا ج متناظرتان د متكاملتان
- قياس الزاوية الداخلية للمضلع السداسي المنتظم
أ ١٠٨° ب ١٣٥° ج ١٢٠° د ٩٠°
- مجموع قياسات الزوايا الداخلية للمضلع الثماني
أ ٩٠٠° ب ٧٢٠° ج ١٢٦٠° د ١٠٨٠°
- للشكل المجاور محور تماثل
أ أكثر من محور ب أفقي ج دوراني د رأسي
- صورة النقطة (١، ٥) بالانعكاس حول محور السينات هي
أ (١، -٥) ب (١، ٥) ج (١، -٥) د (١، ٥)
- إذا أجري دوران للمستطيل أ ب ج د بزاوية ١٨٠° حول نقطة الأصل فما إحداثيات ب ؟
أ (٣، -١) ب (٣، -١) ج (١، -٣) د (٣، ١)
- صورة النقطة أ (٥، -٣) هي أ (٣، -٥) بدوران مركزه نقطة الأصل وزاويته:
أ ٢٧٠° ب ٩٠° ج ١٨٠° د ٣٦٠°
- صورة النقطة (٦، ٨) بعد انسحاب ٧ وحدات لليسا و ٤ وحدات للأسفل
أ (٤، -١) ب (٤، ١٣) ج (١٢، ١٣) د (١٢، -١)





١٤. إذا أجري دوران للمثلث ب ج ل بزاوية 270° حول نقطة الأصل فما إحداثيات النقطة جـ

أ $(-2, 4)$ ب $(2, -4)$ ج $(-2, -4)$ د $(2, 4)$

١٥. أوجد المتوسط الحسابي لدرجات خمسة طلاب في مادة الرياضيات : ٩ ، ٨ ، ١٥ ، ٨ ، ٢٠

أ ١٥ ب ١٠ ج ١٢ د ١٤

١٦. أنسب طريقه لتمثيل توزيع دخل الاسرة على المتطلبات المنزلية

أ الصندوق وطرفيه ب الساق والورقة ج المدرج التكراري د القطاعات الدائرية

١٧. من تمثيل القطاعات الدائرية المجاور أوجد النسبة المئوية للألومنيوم =

أ ١٠,٧ ب ٩,٤ ج ٧,٢ د ٨,١

١٨. عدد النواتج الممكنة لرمي قطعة نقد ومكعب أرقام =

أ ٨ ب ٤ ج ١٢ د ١٦

١٩. عند القاء قطعة نقد ورمي مكعب أرقام فأوجد ح (شعار و عدد فردي) =

أ $\frac{1}{2}$ ب $\frac{1}{4}$ ج $\frac{1}{6}$ د $\frac{1}{3}$

٢٠. يقدم مطعم ٣ أصناف من الطعام بخمسة أنواع من التوابل وقد تكون باللحم او بدونه ، عدد خيارات الطعام الممكنة باستعمال مبدأ العد الأساسي؟

أ ٣٠ ب ١٥ ج ٢٠ د ١٠

٢١. من تمثيل الساق والورقة المجاور مدى الدرجات =

أ ٤٩ ب ٥٩ ج ٥٠ د ٧٦,٥

٢٢. باعت وكالة سيارات ٨٠ سيارة منها ٣٥ سيارة صغيرة فإن الاحتمال التجريبي أن تكون السيارات المباعة صغيرة

أ $\frac{5}{7}$ ب $\frac{7}{16}$ ج $\frac{5}{16}$ د $\frac{16}{5}$

٢٣. من المدرج التكراري عدد الطلاب الذين يقطعون مسافة أكثر من ٥ كم للوصول إلى مدرستهم

أ ١٠ ب ١٢ ج ١٦ د ٦

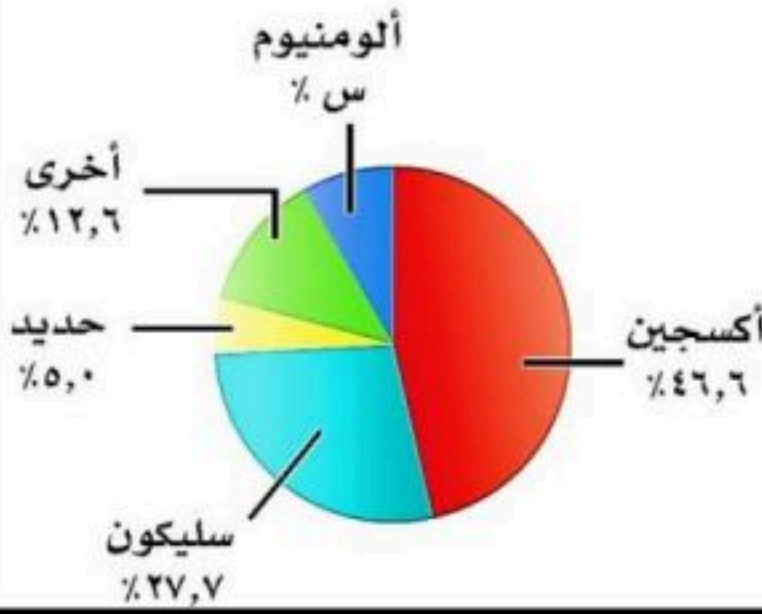
٢٤. ما احتمال أن يكون مجموع العددين ١٢ عند رمي مكعبين أرقام

أ $\frac{1}{6}$ ب $\frac{1}{12}$ ج $\frac{1}{18}$ د $\frac{1}{36}$

٢٥. إذا اختير شخص عشوائيا من كل دائرة في شركة لتحديد أولويات الموظفين فكانت الخدمة الصحية أهم أولويات ٦٧ منهم فاستنتج المدير أن الخدمة الصحية يجب أن تشمل جميع الموظفين.

أ عينة تطوعية ب عينة ملائمة ج عشوائية منتظمة د عشوائية طبقية

العناصر في القشرة الأرضية

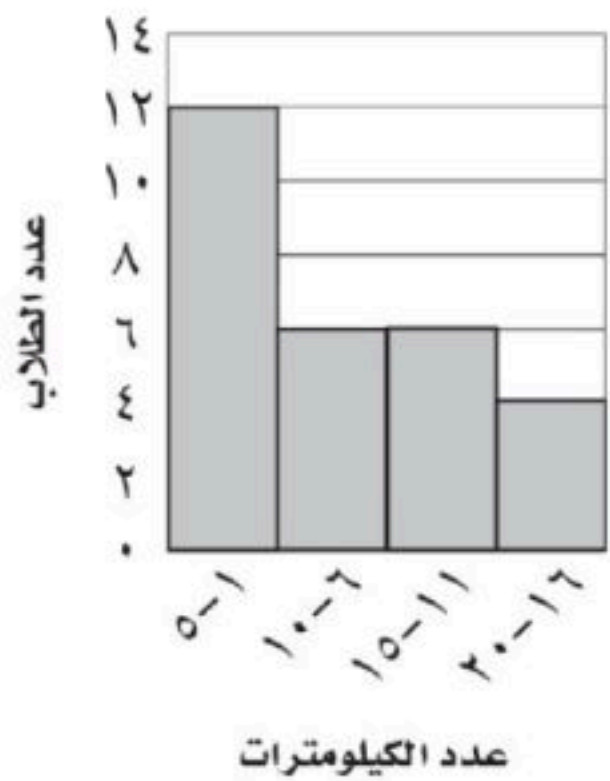


درجات الرياضيات

الساق	الورقة
٥	٠ ٩
٦	٤ ٥ ٧ ٨
٧	٠ ٤ ٤ ٥ ٥ ٦ ٧ ٨ ٨
٨	٢ ٣ ٣ ٥ ٧ ٨
٩	٠ ١ ٥ ٥ ٩

%٥٩ = ٥/٩

المسافات التي يقطعها الطلاب



٥ درجات

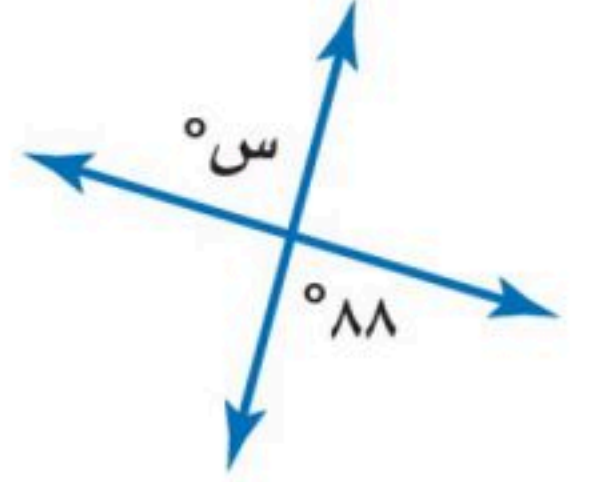
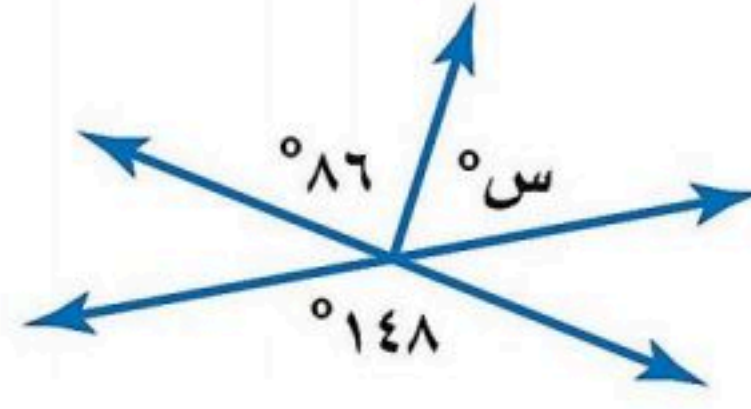
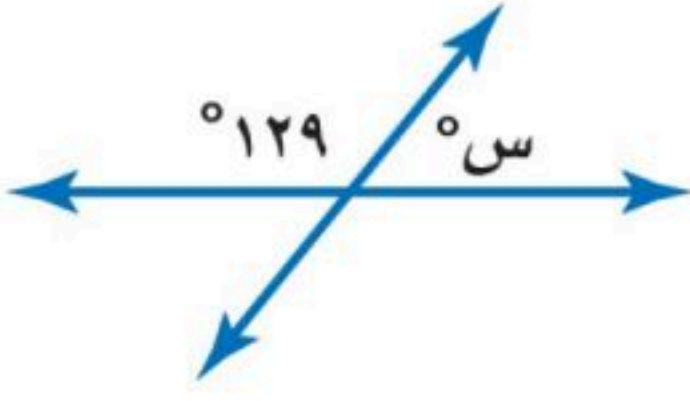
السؤال الثاني: ضع علامة (✓) أمام العبارة الصحيحة وعلامة (x) أمام العبارة الخاطئة :

١.	الانسحاب هو انتقال الشكل من موقع إلى آخر دون تدويره
٢.	أفضل طريقة لتمثيل البيانات المنظمة في فئات التمثيل بالقطاعات الدائرية
٣.	إذا تأثر احدي الحادثتين بناتج الحادثة الأخرى فان الحادثتين تكونان غير مستقلتين
٤.	إذا كانت الزاويتان ك ، م متتامتان و ق \sphericalangle ك = 55° فإن ق \sphericalangle م = 45°
٥.	تسمى المضلعات التي لها نفس القياس والشكل بالمضلعات المتطابقة

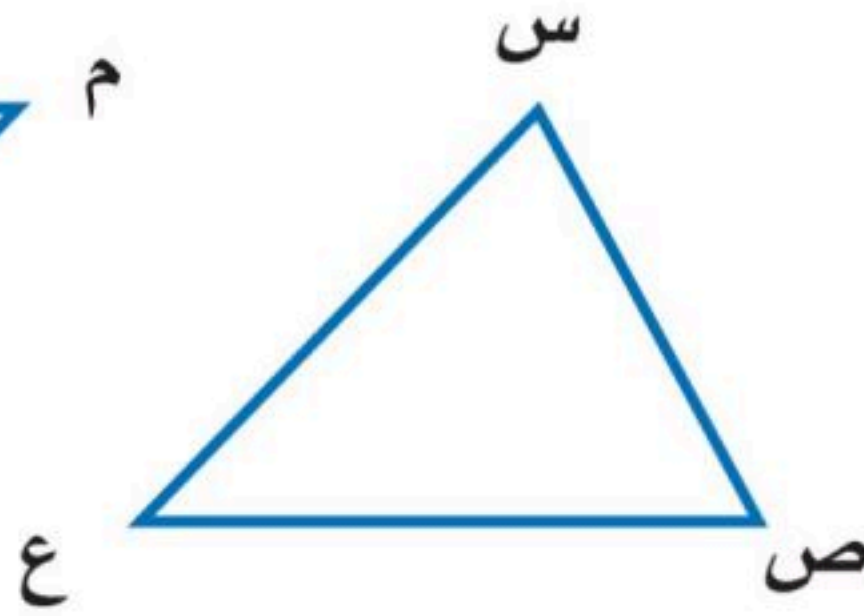
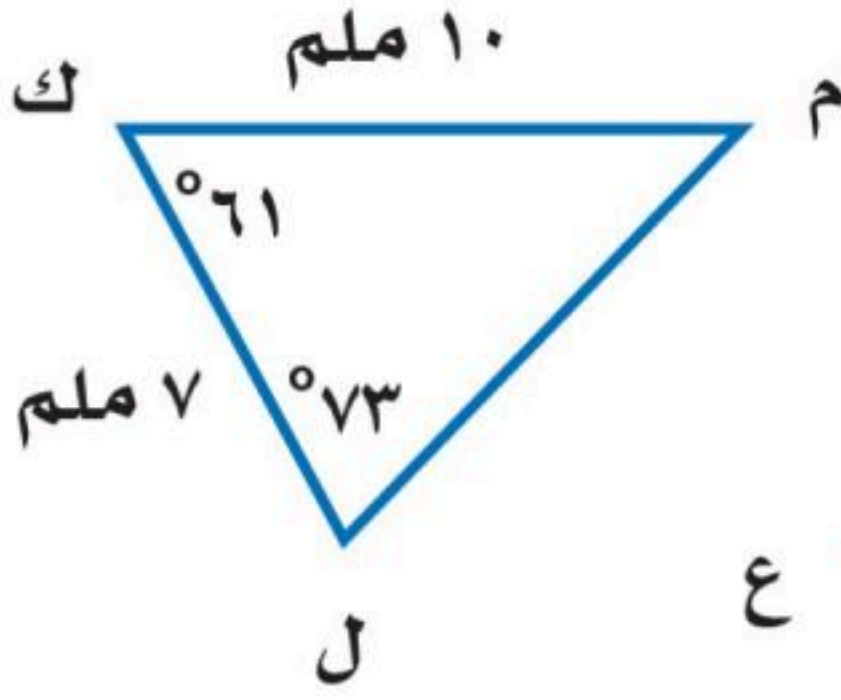
٥ درجات

السؤال الثالث:

(أ) أوجد قيمة س في الأشكال الآتية



(ب) في الشكل \triangle س ص ع \cong \triangle ل ك م ، أوجد ما يلي :



(أ) ق \triangle س =

(ب) ص \triangle ع =

٥ درجات

السؤال الرابع:

أوجد مقاييس التشتت للبيانات في الجدول : ١١٧ ، ١٧٧ ، ٢٢٨ ، ٤١٨ ، ٤٧٦

إنتاج المناطق من الحبوب في أحد الأعوام	
المنطقة	الإنتاج (لأقرب ألف طن)
الجوف	٤٧٦
القصيم	٤١٨
جازان	٢٢٨
الرياض	١٧٧
تبوك	١١٧

الوسيط =

المدى =

الربيع الأدنى =

الربيع الأعلى =

المدى الربيعي =

انتهت الأسئلة ,, أرجو لكم التوفيق والنجاح

نموذج الإجابة

المملكة العربية السعودية
وزارة التعليم
إدارة التعليم بمنطقة
مكتب التعليم
متوسطة

وزارة التعليم
Ministry of Education

الصف : ثاني متوسط
المادة : رياضيات
الزمن : ساعتان
التاريخ : / / ١٤٤٥ هـ

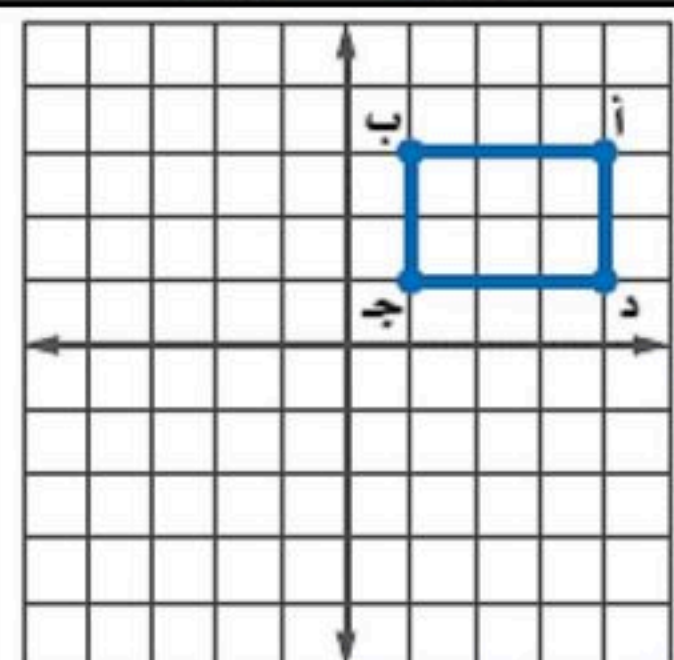

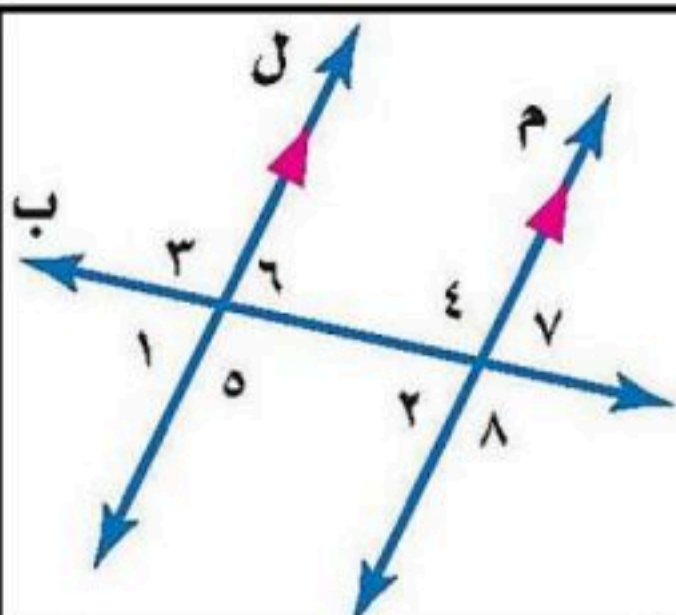
الدرجة رقما	الدرجة كتابة	المصحح	المراجع
٤٠		التوقيع	التوقيع

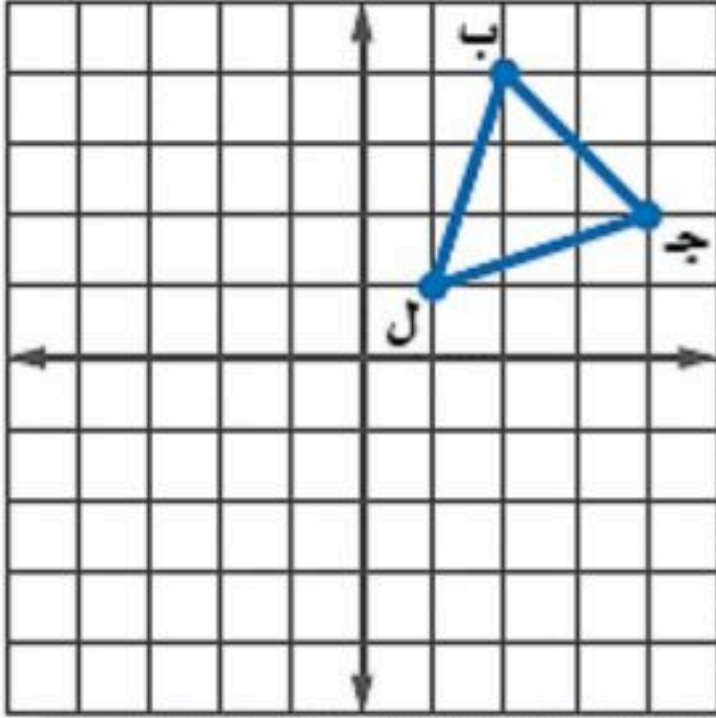
اختبار نهائي الفصل الدراسي الثاني (الدور الأول)

اسم الطالب :	رقم الجلوس :
--------------	--------------

السؤال الأول: اختر الإجابة الصحيحة لكل فقرة :	٢٥ درجة
---	---------

١.	أوجد ٢٥٪ من ١٦٠	أ	٥٠	ب	٦٠	ج	٧٠	د	٤٠
٢.	قدر النسبة المئوية للعدد ٧ من ٧٩	أ	٢٥٪	ب	٢٠٪	ج	١٠٪	د	$\frac{2}{3} \times 16$
٣.	العدد الذي ٧٥٪ منه تساوي ٢١٠	أ	٢٧٠	ب	٢٨٠	ج	٢٧٥	د	٢٩٠
٤.	التغير المئوي إذا كان الثمن الأصلي ٤٠ ريال و الجديد ٤٨ ريال	أ	زيادة مئوية ٢٠٪	ب	نقصان مئوي ٣٠٪	ج	زيادة مئوية ٢٥٪	د	نقصان مئوي ١٥٪
٥.	إذا كان ثمن القميص ٨٠ ريال و الخصم ٢٥٪ فإن ثمن البيع =	أ	٦٠	ب	٧٠	ج	٦٥	د	٤٠
٦.	العلاقة بين الزاويتان ٣ و ٨	أ	متبادلتان داخليا	ب	متبادلتان خارجيا	ج	متناظرتان	د	متكاملتان
٧.	قياس الزاوية الداخلية للمضلع السداسي المنتظم	أ	١٠٨°	ب	١٣٥°	ج	١٢٠°	د	٩٠°
٨.	مجموع قياسات الزوايا الداخلية للمضلع الثماني	أ	٩٠٠°	ب	٧٢٠°	ج	١٢٦٠°	د	١٠٨٠°
٩.	للشكل المجاور محور تماثل	أ	أكثر من محور	ب	أفقي	ج	دوراني	د	رأسي
١٠.	صورة النقطة (١، ٥) بالانعكاس حول محور السينات هي	أ	(١، -٥)	ب	(-١، ٥)	ج	(١، -٥)	د	(١، ٥)
١١.	إذا أجري دوران للمستطيل أ ب ج د بزاوية ١٨٠° حول نقطة الأصل فما إحداثيات ب ؟	أ	(٣، -١)	ب	(-٣، -١)	ج	(١، -٣)	د	(٣، ١)
١٢.	صورة النقطة أ (٥، -٣) هي أ (٣، -٥) بدوران مركزه نقطة الأصل وزاويته:	أ	٢٧٠°	ب	٩٠°	ج	١٨٠°	د	٣٦٠°
١٣.	صورة النقطة (٨، ٦) بعد انسحاب ٧ وحدات لليسر و ٤ وحدات للأسفل	أ	(٤، -١)	ب	(٤، ١٣)	ج	(١٢، ١٣)	د	(١٢، -١)





١٤. إذا أجري دوران للمثلث ب ج ل بزاوية ٢٧٠° حول نقطة الأصل فما إحداثيات النقطة جـ ؟

أ	(٤، ٢-)	ب	(٤-، ٢)	ج	(٤-، ٢-)	د	(٤، ٢)
---	---------	---	---------	---	----------	---	--------

١٥. أوجد المتوسط الحسابي لدرجات خمسة طلاب في مادة الرياضيات : ٩، ٨، ١٥، ٨، ٢٠.

أ	١٥	ب	١٠	ج	١٢	د	١٤
---	----	---	----	---	----	---	----

١٦. أنسب طريقه لتمثيل توزيع دخل الاسرة على المتطلبات المنزلية

أ	الصندوق و طرفيه	ب	الساق والورقة	ج	المدرج التكراري	د	القطاعات الدائرية
---	-----------------	---	---------------	---	-----------------	---	-------------------

١٧. من تمثيل القطاعات الدائرية المجاور أوجد النسبة المئوية للألومنيوم =

أ	١٠,٧	ب	٩,٤	ج	٧,٢	د	٨,١
---	------	---	-----	---	-----	---	-----

١٨. عدد النواتج الممكنة لرمي قطعة نقد ومكعب أرقام =

أ	٨	ب	٤	ج	١٢	د	١٦
---	---	---	---	---	----	---	----

١٩. عند القاء قطعة نقد ورمي مكعب أرقام فأوجد ح (شعار و عدد فردي) =

أ	$\frac{1}{2}$	ب	$\frac{1}{4}$	ج	$\frac{1}{6}$	د	$\frac{1}{3}$
---	---------------	---	---------------	---	---------------	---	---------------

٢٠. يقدم مطعم ٣ أصناف من الطعام بخمسة أنواع من التوابل وقد تكون باللحم او بدونه ، عدد خيارات الطعام الممكنة باستعمال مبدأ العد الأساسي ؟

أ	٣٠	ب	١٥	ج	٢٠	د	١٠
---	----	---	----	---	----	---	----

٢١. من تمثيل الساق والورقة المجاور مدى الدرجات =

أ	٤٩	ب	٥٩	ج	٥٠	د	٧٦,٥
---	----	---	----	---	----	---	------

٢٢. باعت وكالة سيارات ٨٠ سيارة منها ٣٥ سيارة صغيرة فإن الاحتمال التجريبي أن تكون السيارات المباعة صغيرة

أ	$\frac{5}{7}$	ب	$\frac{7}{16}$	ج	$\frac{5}{16}$	د	$\frac{17}{5}$
---	---------------	---	----------------	---	----------------	---	----------------

٢٣. من المدرج التكراري عدد الطلاب الذين يقطعون مسافة أكثر من ٥ كم للوصول إلى مدرستهم

أ	١٠	ب	١٢	ج	١٦	د	٦
---	----	---	----	---	----	---	---

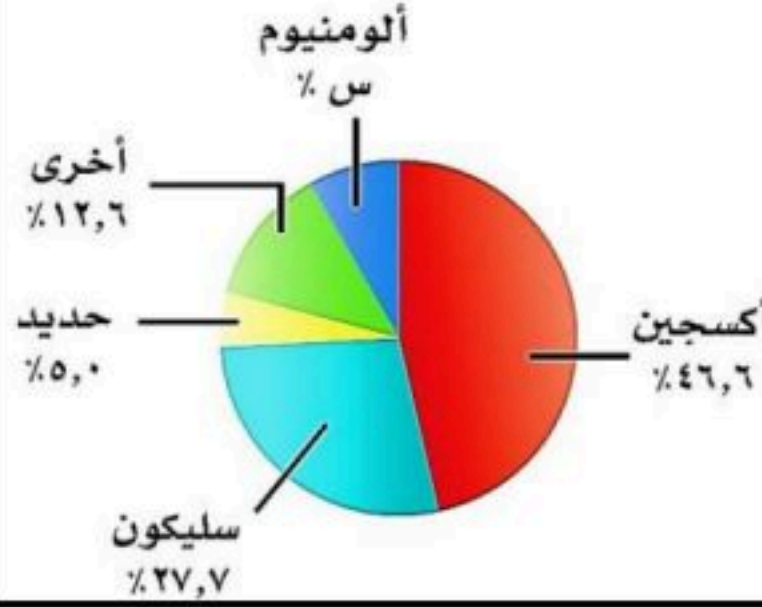
٢٤. ما احتمال أن يكون مجموع العددين ١٢ عند رمي مكعبي أرقام

أ	$\frac{1}{6}$	ب	$\frac{1}{12}$	ج	$\frac{1}{18}$	د	$\frac{1}{36}$
---	---------------	---	----------------	---	----------------	---	----------------

٢٥. حدد نوع العينة إذا اختير شخص عشوائياً من كل دائرة في شركة لتحديد أولويات الموظفين فكانت الخدمة الصحية أهم أولويات ٦٧ منهم فاستنتج المدير أن الخدمة الصحية يجب أن تشمل جميع الموظفين

أ	عينة تطوعية	ب	عينة ملائمة	ج	عشوائية منتظمة	د	عشوائية طبقية
---	-------------	---	-------------	---	----------------	---	---------------

العناصر في القشرة الأرضية

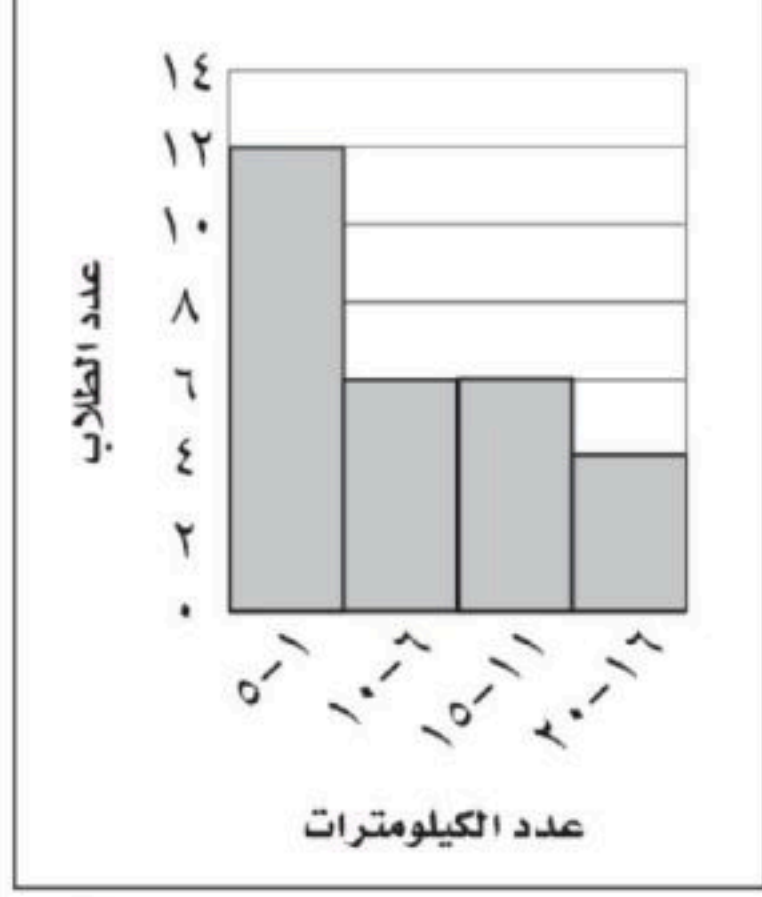


درجات الرياضيات

الساق	الورقة
٥	٠ ٩
٦	٤ ٥ ٧ ٨
٧	٠ ٤ ٤ ٥ ٥ ٦ ٧ ٨ ٨
٨	٢ ٣ ٣ ٥ ٧ ٨
٩	٠ ١ ٥ ٥ ٩

%٥٩ = ٥/٩

المسافات التي يقطعها الطلاب

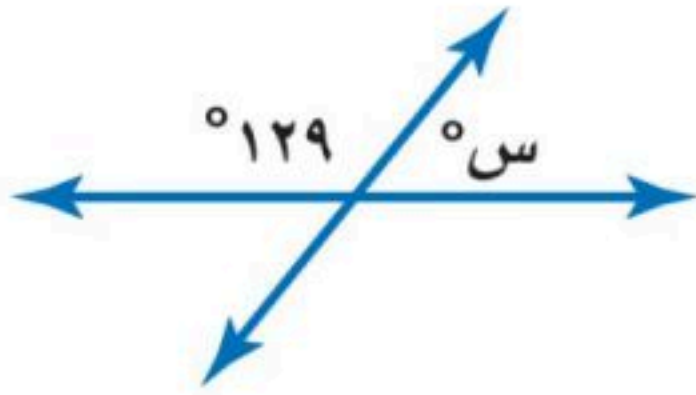


٥ درجات

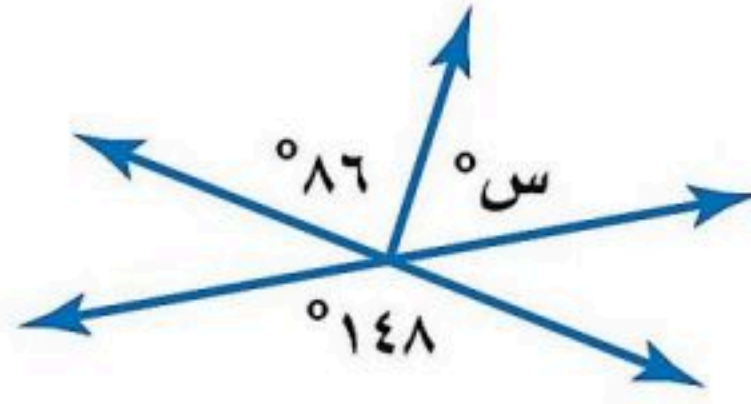
السؤال الثاني: ضع علامة (✓) أمام العبارة الصحيحة وعلامة (x) أمام العبارة الخاطئة:

✓	١. الانسحاب هو انتقال الشكل من موقع إلى آخر دون تدويره
x	٢. أفضل طريقة لتمثيل البيانات المنظمة في فئات التمثيل بالقطاعات الدائرية
✓	٣. إذا تأثر احدي الحادثتين بناتج الحادثة الأخرى فان الحادثتين تكونان غير مستقلتين
x	٤. إذا كانت الزاويتان ك، م متتامتان و ق \sphericalangle ك = ٥٥° فإن ق \sphericalangle م = ٤٥°
✓	٥. تسمى المضلعات التي لها نفس القياس والشكل بالمضلعات المتطابقة

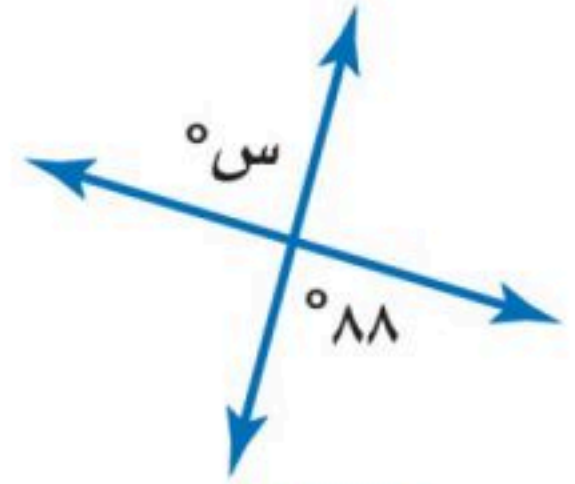
(أ) أوجد قيمة س في الأشكال الآتية



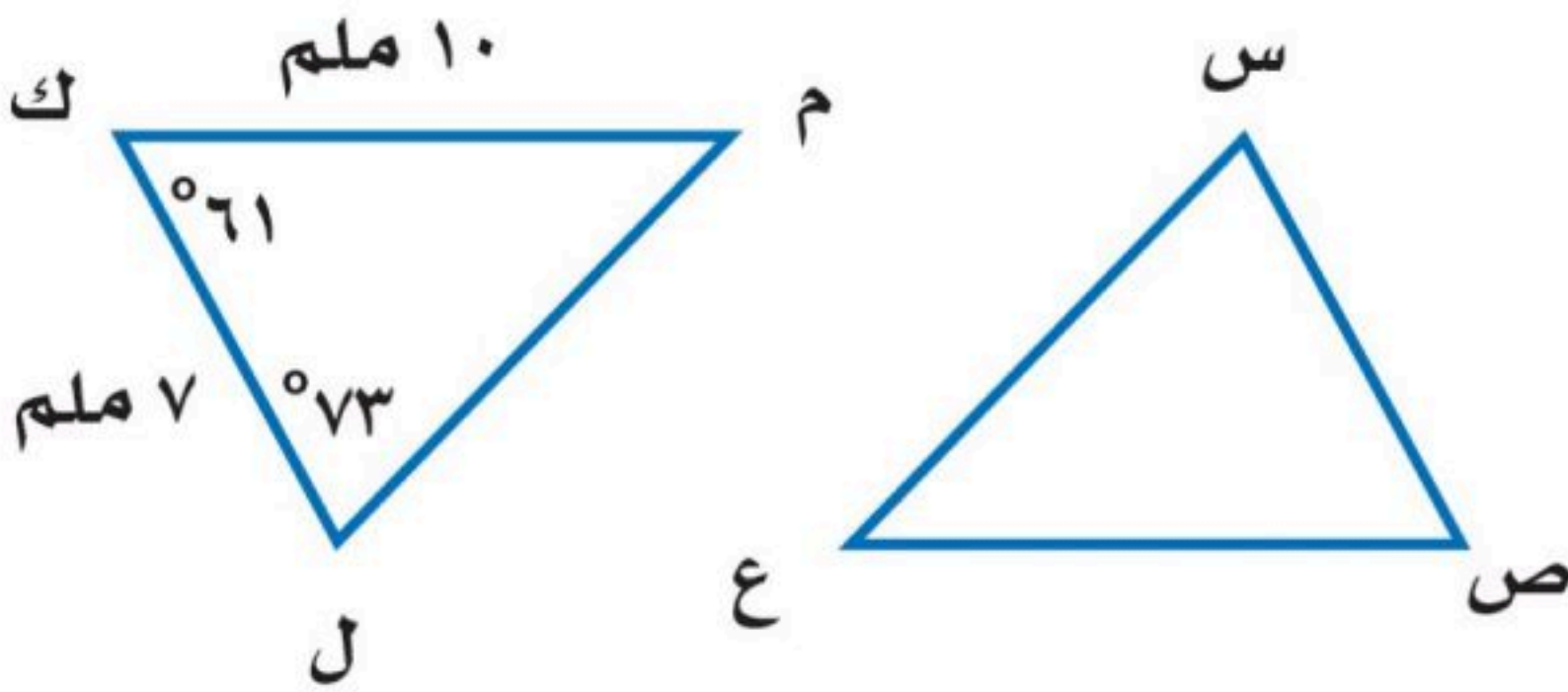
$$س = 129 - 180 = 51$$



$$س = 148 - 86 = 62$$



$$س = 88$$

(ب) في الشكل \triangle س ص ع \cong \triangle ل ك م ، أوجد ما يلي:

$$أ) ق \sphericalangle س = 73$$

$$ب) ص \overline{ع} = 10 \text{ ملم}$$

أوجد مقاييس التشتت للبيانات في الجدول : ١١٧ ، ١٧٧ ، ٢٢٨ ، ٤١٨ ، ٤٧٦

$$\text{الوسيط} = 228$$

$$\text{المدى} = 476 - 117 = 359$$

$$\text{الربيع الأدنى} = \frac{117 + 177}{2} = 147$$

$$\text{الربيع الأعلى} = \frac{418 + 476}{2} = 447$$

$$\text{المدى الربيعي} = 447 - 147 = 300$$

المنطقة	الإنتاج (لأقرب ألف طن)
الجوف	٤٧٦
القصيم	٤١٨
جازان	٢٢٨
الرياض	١٧٧
تبوك	١١٧

انتهت الأسئلة ،،، أرجو لكم التوفيق والنجاح

أسم الطالب /	الصف /	الزمن :	الدرجة رقماً	الدرجة كتابة من ٤٠
أسم المصحح: أ /	التوقيع /	ساعتان		
أسم المدقق: أ /	التوقيع /	ونصف	٤٠	درجة

السؤال الأول: أختَر الإجابة الصحيحة فيما يلي :

١٠ درجات

١ - هو مدى نصف البيانات التي تقع في الوسط، وهو الفرق بين الربيعين الأعلى والادنى .

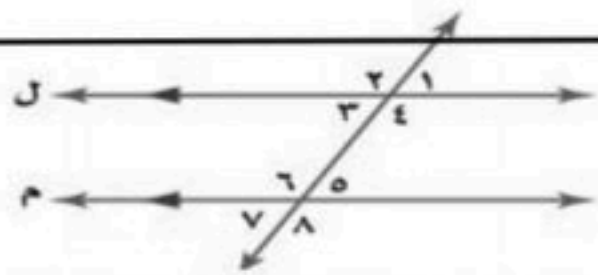
(أ) المدى الربيعي (ب) القيمة المتطرفة (ج) النصف الأعلى

٢ - هي القيمة الأكثر تكراراً :

(أ) المتوسط الحسابي (ب) المنوال (ج) المدى

٣ - عند حساب ٢٠٪ من ٤٥ يكون الناتج :

(أ) ٥ (ب) ٩ (ج) ١٠

٤ - العلاقة بين الزاويتان $1 >$ و $5 >$ في الرسم

(أ) متناظرتان (ب) متبادلتان داخلياً (ج) متبادلتان خارجياً

٥ - قميص سعرة ٢٠٠ ريال كم يصبح ثمنه الجديد بعد خصم ٤٠٪ :

(أ) ٨٠ ريالاً (ب) ١٢٠ ريالاً (ج) ٢٨٠ ريالاً

٦ - الزاويتان المتتامتان : هما الزاويتان اللتان مجموع قياسيهما يساوي :

(أ) ١٢٠° (ب) ٩٠° (ج) ١٨٠°

٧ - مجموع قياسات الزاويا الداخلية للمضلع السداسي تساوي :

(أ) ٥٤٠° (ب) ٧٢٠° (ج) ٩٠٠°

٨ - عدد نواتج رمي مكعب مرتين :

(أ) ٤ (ب) ١٢ (ج) ٣٦

٩ - يتقاضى بدر ٣٠ ريال عن كل ساعة عمل إذا خطط لشراء هاتف ثمنه ١١٦٠ ريال فإنه يحتاج الى أن يعمل :

(أ) ٢٠ ساعة عمل (ب) ٣٠ ساعة عمل (ج) ٤٠ ساعة عمل

١٠ - قيم تعمل على تقسيم البيانات الى أربعة أجزاء متساوية .

(أ) الربيعات (ب) القيم المتطرفة (ج) القيم العظمى

السؤال الثاني: ضع علامة (✓) وعلامة (×) أمام العبارات التالية:

٧ درجات

١ - الأعداد المتناغمة هما عدنان يسهل قسمتهما ذهنياً ()

٢ - الزاويتان الداخليتان هما الزاويتان الواقعتان في جهة واحدة من القاطع ()

٣ - المتوسط الحسابي هي القيمة الأكثر تكراراً ()

٤ - الحادثة المركبة هي التي تتكون من حادثتين مركبتين ()

٥ - المضلع المنتظم هو الذي تكون جميع زاوياه وأضلاعه متطابقة ()

٦ - المدرج التكراري هو تمثيل بياني يعرض البيانات في فئات متساوي ()

٧ - الزاويتان المتكاملتان : هما الزاويتان اللتان مجموع قياسيهما يساوي ٩٠° ()

اقلب الورقة

السؤال الثالث:

(أ) أوجد المتوسط الحسابي والوسيط والمنوال والمدى للبيانات التالية : ١٠ ، ٩ ، ٩ ، ١٥ ، ٤ ، ٣ درجات

المتوسط الحسابي = ، الوسيط =

المنوال = ، المدى =

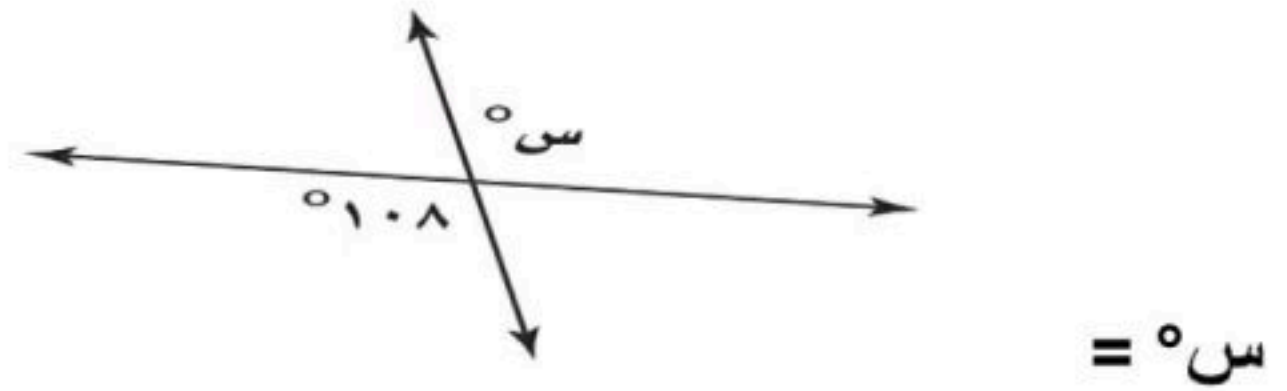
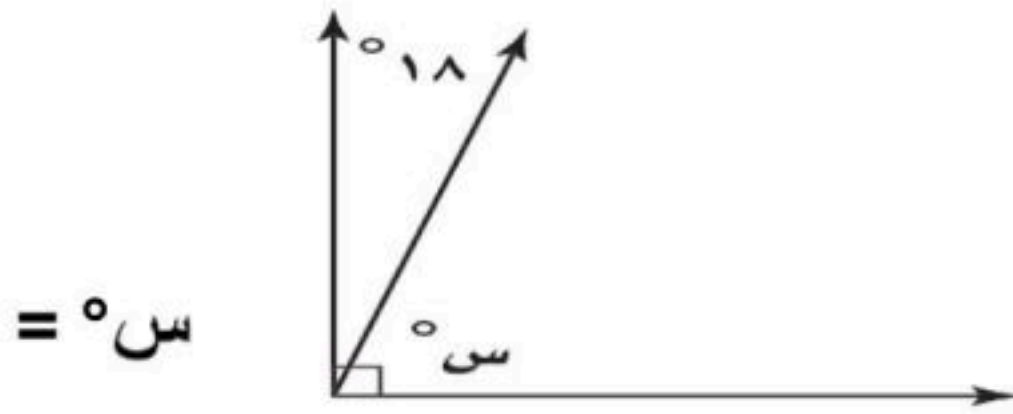
(ب) أوجد التغيير المنوي لما يأتي : ٣ درجات

الأصلي : ٦٠ ريالاً

الجديد : ٤٨ ريالاً

١١ درجة

(ج) أوجد قيمة زاوية س° في الأشكال التالية : ٤ درجتان



السؤال الرابع:

(أ) مثل بالساق والورقة البيانات الآتية : ٣ درجات

مساحات القارات لأقرب مليون كلم ^٢	القارة
٤٥	آسيا
٣٠	إفريقيا
٢٤	أمريكا الشمالية
١٨	أمريكا الجنوبية
١٤	القطبية الجنوبية
١٠	أوروبا

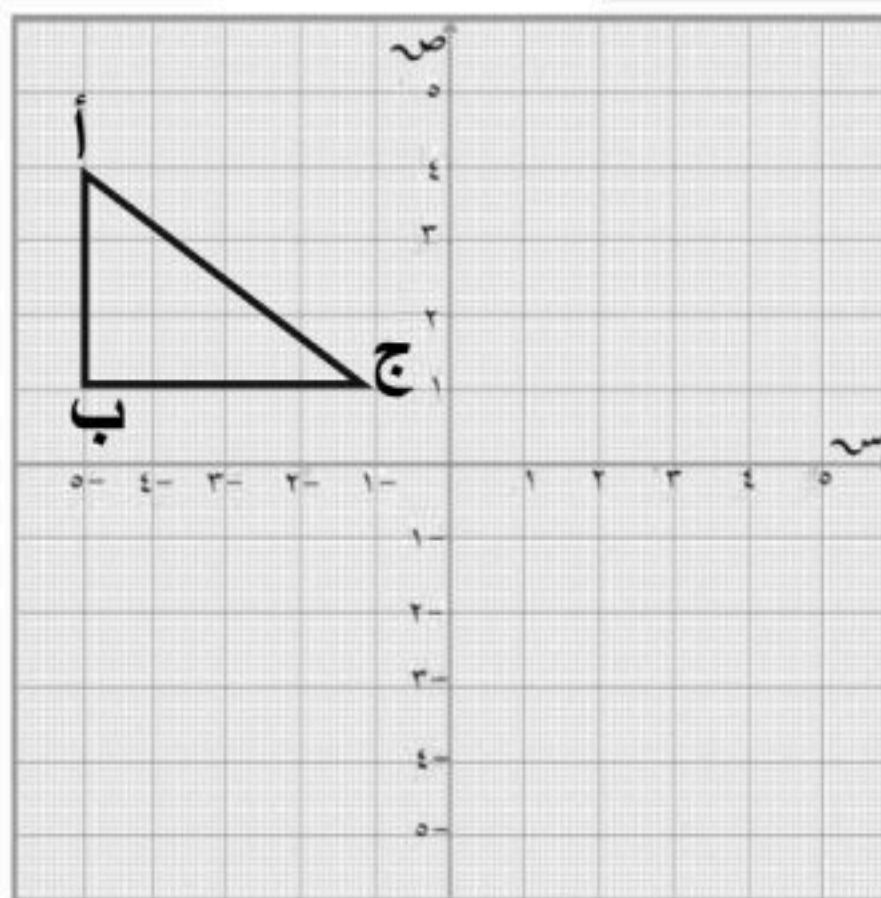
(ب) مثل بالرسم الشجري ٣ درجات

لإيجاد عدد النواتج الممكنة عند إلقاء قطعة نقدية مرتين .

١٢ درجة

(د) ارسم صورة الشكل بانعكاس حول محور الصادات

٣ درجات واكتب إحداثيات الصورة



إحداثيات الصورة

أ = (،)

ب = (،)

ج = (،)

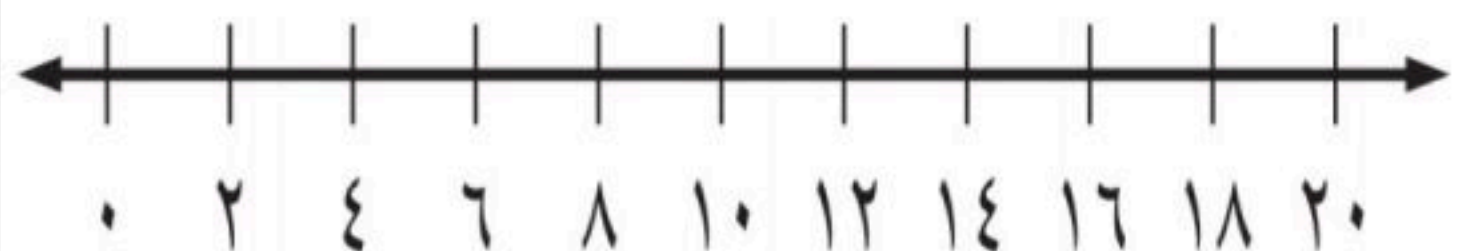
(ج) مثل بالصندوق وطرفية على خط الأعداد البيانات التالية : ٣ درجات

أ- الوسيط = ١٢

ب- الربيع الأدنى = ٨ ج- الربيع الأعلى = ١٦

د- القيمة الصغرى = ٤ هـ- القيمة العظمى = ٢٠

و- القيمة المتطرفة = ٠



معلم المادة /

نتمنى لك التوفيق والنجاح الدائم

نموذج الإجابة

المملكة العربية السعودية

اختبار نهائي الفصل الدراسي الثاني

إدارة التعليم

العام الدراسي ١٤٤٥ هـ

وزارة التعليم

متوسطة

المادة: رياضيات - الثاني متوسط

VISION 2030
رؤية ٢٠٣٠
الاستراتيجية الوطنية للتعليم

أسم الطالب /	الصف /	الزمن :	الدرجة رقماً	الدرجة كتابة من ٤٠
أسم المصحح: أ /	التوقيع /	ساعتان		
أسم المدقق: أ /	التوقيع /	ونصف	٤٠	درجة

السؤال الأول: أختار الإجابة الصحيحة فيما يلي :

١٠ درجات

١ - هو مدى نصف البيانات التي تقع في الوسط، وهو الفرق بين الربيعين الأعلى والادنى .

(أ) المدى الربيعي (ب) القيمة المتطرفة (ج) النصف الأعلى

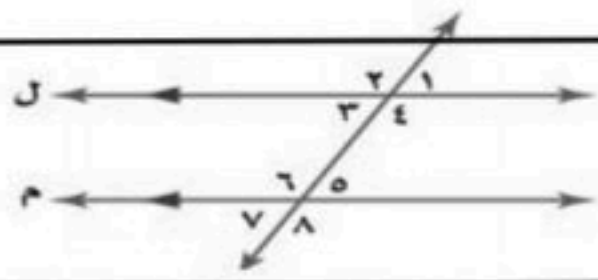
٢ - هي القيمة الأكثر تكراراً :

(أ) المتوسط الحسابي (ب) المنوال (ج) المدى

٣ - عند حساب ٢٠٪ من ٤٥ يكون الناتج :

(أ) ٥ (ب) ٩ (ج) ١٠

٤ - العلاقة بين الزاويتان $1 > 0$ و $5 > 0$ في الرسم



(أ) متناظرتان (ب) متبادلتان داخلياً (ج) متبادلتان خارجياً

٥ - قميص سعرة ٢٠٠ ريال كم يصبح ثمنه الجديد بعد خصم ٤٠٪ :

(أ) ٨٠ ريالاً (ب) ١٢٠ ريالاً (ج) ٢٨٠ ريالاً

٦ - الزاويتان المتتامتان : هما الزاويتان اللتان مجموع قياسيهما يساوي :

(أ) ١٢٠° (ب) ٩٠° (ج) ١٨٠°

٧ - مجموع قياسات الزوايا الداخلية للمضلع السداسي تساوي :

(أ) ٥٤٠° (ب) ٧٢٠° (ج) ٩٠٠°

٨ - عدد نواتج رمي مكعب مرتين :

(أ) ٤ (ب) ١٢ (ج) ٣٦

٩ - يتقاضى بدر ٣٠ ريال عن كل ساعة عمل إذا خطط لشراء هاتف ثمنه ١١٦٠ ريال فإنه يحتاج الى أن يعمل :

(أ) ٢٠ ساعة عمل (ب) ٣٠ ساعة عمل (ج) ٤٠ ساعة عمل

١٠ - قيم تعمل على تقسيم البيانات الى أربعة أجزاء متساوية .

(أ) الربيعات (ب) القيم المتطرفة (ج) القيم العظمى

السؤال الثاني: ضع علامة (✓) وعلامة (×) أمام العبارات التالية:

٧ درجات

(✓)	١ - الأعداد المتناغمة هما عدنان سهل قسمتهما ذهنياً
(×)	٢ - الزاويتان الداخليتان هما الزاويتان الواقعتان في جهة واحدة من القاطع
(×)	٣ - المتوسط الحسابي هي القيمة الأكثر تكراراً
(✓)	٤ - الحادثة المركبة هي التي تتكون من حادثتين مركبتين
(✓)	٥ - المضلع المنتظم هو الذي تكون جميع زواياه وأضلاعه متطابقة
(✓)	٦ - المدرج التكراري هو تمثيل بياني يعرض البيانات في فئات متساوي
(×)	٧ - الزاويتان المتكاملتان : هما الزاويتان اللتان مجموع قياسيهما يساوي ٩٠°

اقلب الورقة

السؤال الثالث:

(أ) أوجد المتوسط الحسابي والوسيط والمنوال والمدى للبيانات التالية : ١٠ ، ٩ ، ٩ ، ١٥ ، ٤ ، ٣ درجات

المتوسط الحسابي = ١٠ ، الوسيط = ٩

المنوال = ٩ ، المدى = ١٢

(ب) أوجد التغيير المئوي لما يأتي : ٣ درجات

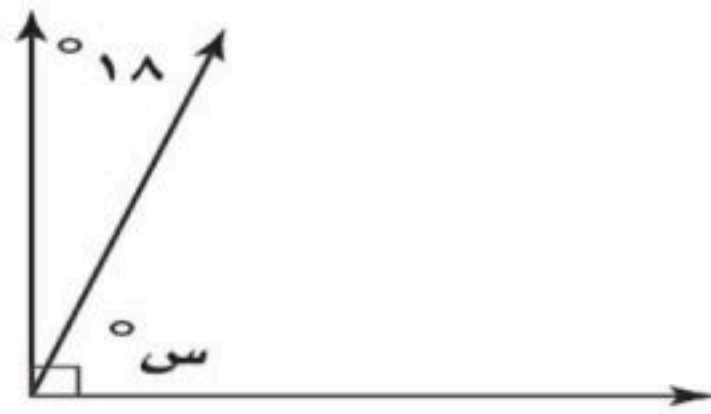
الأصلي : ٦٠ ريالاً

الجديد : ٤٨ ريالاً

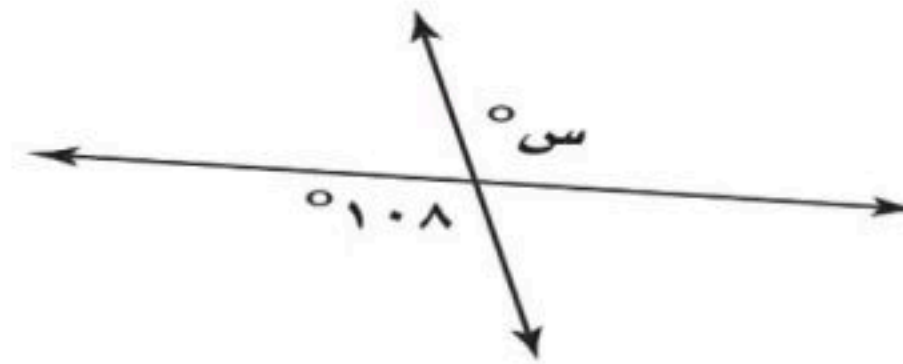
الإجابة : ٢٠%

١١ درجة

(ج) أوجد قيمة زاوية س° في الأشكال التالية : ٤ درجتان



س° = ٧٢



س° = ١٠٨

السؤال الرابع:

(أ) مثل بالساق والورقة البيانات الآتية : ٣ درجات

المساحة	القارة
٤٥	آسيا
٣٠	إفريقيا
٢٤	أمريكا الشمالية
١٨	أمريكا الجنوبية
١٤	القطبية الجنوبية
١٠	أوروبا

الساق | الورقة

١ | ٠ ٤ ٨

٢ | ٤

٣ | ٠

٤ | ٥

٥ | ٤ = ٥

توجد أكثر من إجابة

(ب) مثل بالرسم الشجري ٣ درجات

لإيجاد عدد النواتج الممكنة عند إلقاء قطعة

نقدية مرتين

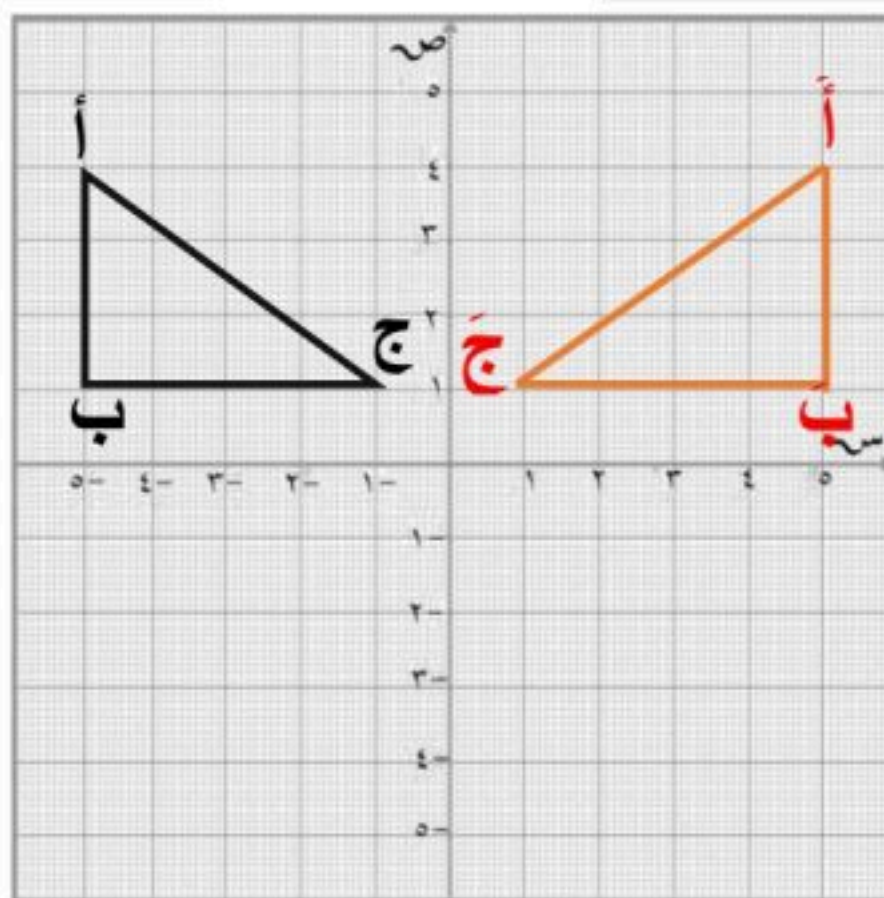
الرمية الأولى : ش — ش ، ش ، ش
الرمية الثانية : ش — ك ، ش ، ك

ش — ش ، ك ، ك
ك — ك ، ك ، ك

عدد النواتج = ٤

(د) ارسم صورة الشكل بانعكاس حول محور الصادات

واكتب إحداثيات الصورة ٣ درجات



إحداثيات الصورة

أ = (٤ ، ٥)

ب = (١ ، ٥)

ج = (١ ، ١)

معلم المادة /

نتمنى لك التوفيق والنجاح الدائم

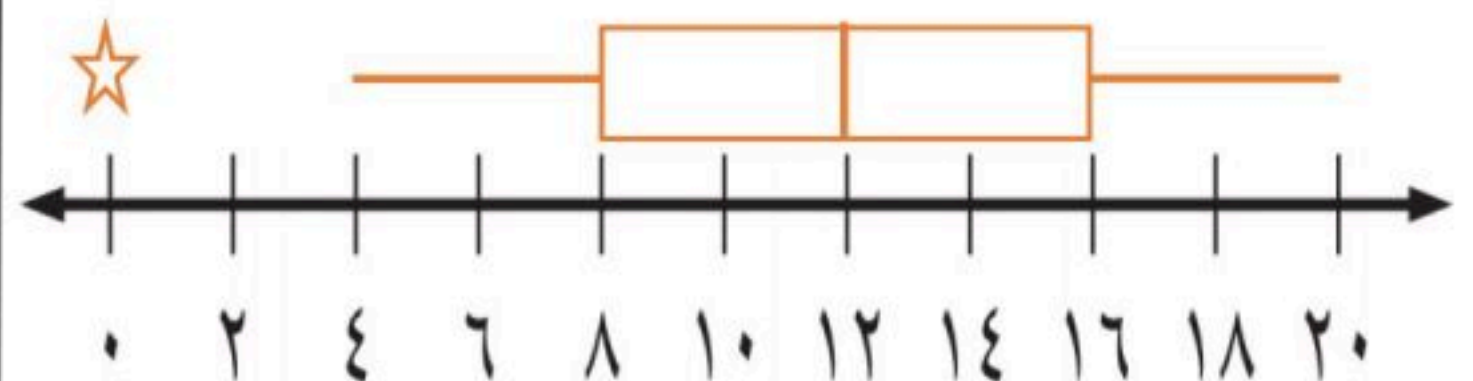
(ج) مثل بالصندوق وطرفية على خط الأعداد البيانات التالية : ٣ درجات

أ- الوسيط = ١٢

ب- الربيع الأدنى = ٨ ج- الربيع الأعلى = ١٦

د- القيمة الصغرى = ٤ هـ- القيمة العظمى = ٢٠

و- القيمة المتطرفة = ٠



رياضيات	المادة:	<p>بسم الله الرحمن الرحيم</p> 	<p>المملكة العربية السعودية وزارة التعليم إدارة التعليم جدة</p>
الفصل الدراسي الثاني	الفصل:		
ثاني متوسط	الصف:		
ساعتان ونصف	الزمن:		
١٤٤٥هـ	السنة الدراسية:		

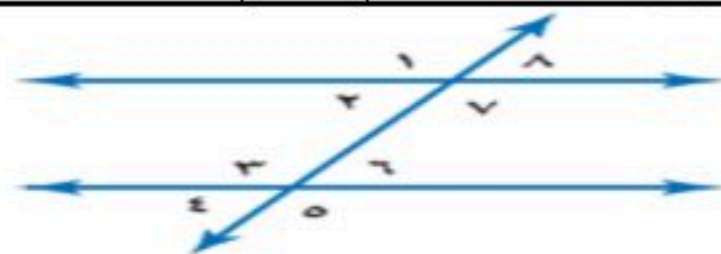
اسم الطالب	رقم الجلوس
------------	------------

أجيب مستعين بالله على الأسئلة التالية

(اللهم لا سهل إلا ما جعلته سهلاً، وأنت تجعل الحزن إذا شئت سهلاً)

السؤال الأول: ظلل الإجابة الصحيحة في ورقة الإجابة:

١. ما النسبة المئوية للعدد ٤٢٠ من ٦٠٠؟			
أ	٦٠٪	ب	٧٠٪
ج	٨٠٪	د	٧٥٪
٢. ما العدد الذي ٣٤% منه تساوي ٦٨٠؟			
أ	١٥٠٠	ب	٢٠٠٠
ج	٢٥٠٠	د	٣٠٠٠
٣. صورة النقطة (١،٥) بالانعكاس حول محور الصادات هي؟			
أ	(٥،٥-)	ب	(١-،٥-)
ج	(٥،١-)	د	(١،٥-)
٤. الزاويتان المتتامتان هما الزاويتان اللتان مجموع قياسهما يساوي؟			
أ	٩٠	ب	١٨٠
ج	٣٦٠	د	٤٢٠
٥. اوجد مجموع قياس الزاوية الداخلية لمضلع تساعي؟			
أ	١٢٠٠	ب	١٢٥٠
ج	١٢٦٠	د	١٢٠
٦. (١٢، ١٣، ١٤، ١٦، ١٨، ٢٠، ٣٢) أوجد القيمة العظمى؟			
أ	١٩	ب	٥
ج	٣٢	د	١٤
٧. ما الاحتمال النظري لظهور العدد ١ مرتين عند رمي مكعب الأرقام؟			
أ	$\frac{1}{12}$	ب	$\frac{1}{36}$
ج	$\frac{2}{36}$	د	$\frac{2}{12}$
٨. صنف زوج الزاوية ٢١ و ٦١			
أ	متبادلة داخليا	ب	متبادلة خارجيا
ج	متناظرة	د	متقابلة بالراس
٩. اوجد المتوسط الحسابي (٥،٥،٦،٩،١٠)؟			
أ	٧	ب	٨
ج	٥	د	١٥
١٠. استعمل مبدأ العدد الاساسي لاختيار عدد أيام الأسبوع عشوائيا ورمي نرد؟			
أ	٣١	ب	٢٥
ج	٤٢	د	٩٩
١١. النقطة الناتجة من دوران ١٨٠° حول نقطة الأصل للنقطة (١، ٢)؟			
أ	(٢، ١-)	ب	(١، ٢-)
ج	(١-، ٢-)	د	(٢، ١)



١٢. أي الاشكال الرباعية التالية ليس له تماثل دوراني حول نقطة؟

أ	المعين	ب	المربع	ج	متوازي الاضلاع	د	شبه المنحرف
١٣. من خلال هذه البيانات التالية ١١, ١٦, ٣٠, ١٤, ٢٢, ١٤ أوجد المدى الربيعي							
أ	٨	ب	١٤	ج	٣	د	٢٥



١٤. اوجد قيمة س؟

أ	٤	ب	٩٤	ج	١٨٠	د	٩٠
---	---	---	----	---	-----	---	----

١٥. ما النسبة المئوية للكسر الاعتيادي $\frac{3}{4}$ ؟

أ	%٦٠	ب	%٧٠	ج	%٨٠	د	%٧٥
---	-----	---	-----	---	-----	---	-----

١٦. عدد النواتج الممكنة لرمي مكعب مرتين؟

أ	٦	ب	١٢	ج	٢٤	د	٣٦
---	---	---	----	---	----	---	----

١٧. هو متوسط العددين المتوسطين في مجموعة البيانات وتحتوي مجموعة البيانات قيما متطرفة؟

أ	المدى	ب	المنوال	ج	الوسيط	د	المتوسط الحسابي
---	-------	---	---------	---	--------	---	-----------------

١٨. ما المجموع الذي له فرصة حدوث كبيرة اعتمادا على الاحتمال التجريبي مستعملا الشكل المجاور؟



أ	٤	ب	٦	ج	٨	د	١٠
---	---	---	---	---	---	---	----

١٩. الثمن الأصلي = ٤٠ ريالاً، الثمن الجديد = ٣٢ ريالاً اوجد التغير المئوي؟

أ	%٨٠	ب	%٦٠	ج	%٤٠	د	%٢٠
---	-----	---	-----	---	-----	---	-----

٢٠. قدر النسبة المئوية ٨ من ٢٥؟

أ	%١٤	ب	%٢٠	ج	%٢٧	د	%٣٣
---	-----	---	-----	---	-----	---	-----

٢١. عند تحويل النسبة ٢٠٪ الى زاوية قطاع دائري فإنها تساوي؟

أ	٤٤	ب	٦٣	ج	٧٢	د	٩٩
---	----	---	----	---	----	---	----

٢٢. المنوال للبيانات : ٣٦، ٢٥، ١٧، ٢٥، ٥، ٣٦، ٢٥؟

أ	٣٦	ب	٢٥	ج	٩	د	١٧
---	----	---	----	---	---	---	----



٢٣. اوجد قيمة س؟

أ	٤٢	ب	١٥٣	ج	٢٧	د	٩٠
---	----	---	-----	---	----	---	----

٢٤. اوجد قياس الزاوية الداخلية في المضلع المنتظم الثماني؟

أ	١٣٥	ب	١٤٠	ج	١٠٤٠	د	١٠٣٥
---	-----	---	-----	---	------	---	------

٢٥. عند إلقاء قطعة نقد ورمي مكعب ارقام اوجد احتمال : ح (كتابة و٣)؟

أ	$\frac{1}{6}$	ب	$\frac{5}{6}$	ج	$\frac{1}{12}$	د	$\frac{7}{12}$
---	---------------	---	---------------	---	----------------	---	----------------



٢٦. كم يوجد محور تماثل للشكل المجاور؟

أ	١	ب	٢	ج	٣	د	لا يوجد
---	---	---	---	---	---	---	---------

٢٧. ما احتمال أن يكون مجموع العددين الظاهرين هو ١٢ عند رمي مكعب الأرقام؟

أ	$\frac{2}{12}$	ب	$\frac{1}{12}$	ج	$\frac{2}{24}$	د	$\frac{1}{36}$
---	----------------	---	----------------	---	----------------	---	----------------

٢٨. في التمثيل الآتي: ما عدد الطلاب الذي تتراوح أعمارهم بين ١٣٠ و ١٣٩ سم؟



أ	٤	ب	٦	ج	٨	د	١٠
---	---	---	---	---	---	---	----

٢٩. اشترى بدر بضاعة بمبلغ ٩١٤ ريالاً، وباعها بربح ٧٥% بكم باعها؟

أ	١٦٠٠	ب	١٧٠٠	ج	١٨٠٠	د	٢٥٠٠
---	------	---	------	---	------	---	------

٣٠. احسب ذهبنا ١٠% من ٩٨؟

أ	٩,٨	ب	٨,١	ج	٩,١	د	١,٨
---	-----	---	-----	---	-----	---	-----

السؤال الثاني: اختر من العمود (أ) ما يناسبها من العمود (ب) ثم ظلل في نموذج الإجابة فيما يلي :-

(أ)	الحرف الصحيح
١. الحادثة المركبة	
٢. الاتسحاب	
٣. الانعكاس	
٤. التغير المنوي	
٥. العينة العشوائية البسيطة	

(ب)
(أ) النسبة المئوية لمقدار التغير من الكمية الاصلية .
(ب) فرص اختيار عناصر او افراد المجتمع متساوية.
(ج) صورة المرآة التي تتكون بقلب الشكل فوق مستقيم .
(د) هو انتقال الشكل من موقع إلى آخر دون تدويره.
(هـ) تتكون من حادثتين بسيطتين أو أكثر.

السؤال الثالث: ظلل حرف (ص) إذا كانت الإجابة صحيحة، وحرف (خ) إذا كانت العبارة خاطئة في ورقة الإجابة :

صح/خطأ	السؤال
	١. أفضل طريقة لتمثيل درجات الاختبار المنظمة في فئات هي المدرجات التكرارية.
	٢. مجموع النسب في القطاعات الدائرية يساوي ١٠٠٪ .
	٣. المستقيمان الواقعان في المستوى نفسه ولا يتقاطعان أبدا مستقيمين متعامدين.
	٤. القطاعات الدائرية يفضل استعمالها عند توضيح تكرار البيانات الموزعة في فئات متساوية.
	٥. إذا تطابق مضعان، فإن أضلاعهما المتناظرة متطابقة، وزواياهما المتناظرة متطابقة .

انتهت الأسئلة

وفقكم الله

الدرجة رقما	الدرجة ٤٠	الدرجة كتابة	المصحح	محمد معيض الشهري	المراجع
			التوقيع		التوقيع

اختبار نهائي الفصل الدراسي الثاني (الدور الأول)

اسم الطالب :

رقم الجلوس :

20

السؤال الأول / ختر الإجابة الصحيحة لكل فقرة :

(١) أوجد ٢٥٪ من 100 :

(أ) 4٠ (ب) ٦٠ (ج) 5٠

(٢) قدر النسبة المئوية للعدد ٧ من ٧٩ :

(أ) 10٪ (ب) ٢٠٪ (ج) ١٠٪

(٣) العدد الذي ٧٥٪ منه تساوي ٢١٠ :

(أ) ٣٠٠ (ب) ٢٨٠ (ج) ٢٩٠

(٤) التغير المئوي إذا كان الثمن الأصلي ٤٠ ريال و الجديد ٤٨ ريال

(أ) ٢٥٪ زيادة مئوية (ب) ٢٠٪ زيادة مئوية (ج) ٣٠٪ زيادة مئوية

(٥) إذا كان ثمن القميص ٨٠ ريال و الخصم ٢٥٪ فإن ثمن البيع =

(أ) ٥٦ (ب) ٦٠ (ج) ٦٤

(٦) العلاقة بين الزاويتان ٣ و ٨

(أ) متبادلتان داخليا (ب) متبادلتان خارجيا (ج) متناظرتان

(٧) قياس الزاوية الداخلية للمضلع السداسي المنتظم

(أ) ١٠٨° (ب) ١٢٠° (ج) ١٣٥°

(٨) مجموع قياسات الزوايا الداخلية للمضلع الثماني

(أ) ٩٠٠° (ب) ٧٢٠° (ج) ١٠٨٠°

(٩) صورة النقطة (٥، ١) بالانعكاس حول محور السينات هي :

(أ) (٥، -١) (ب) (٥، -١) (ج) (-٥، ١)

(10) للشكل المجاور محور تماثل

(أ) رأسي (ب) أفقي (ج) أكثر من

(11) صورة النقطة أ (٣، -٥) هي أ' (٥، -٣) بدوران مركزه نقطة الأصل وزاويته:

(أ) ٩٠° (ب) ٢٧٠° (ج) ١٨٠°

(12) صورة النقطة (٦، ٨) بعد انسحاب ٧ وحدات لليسا و ٤ وحدات للأسفل

(أ) (-١، ٤) (ب) (١٠، ١٥) (ج) (٢، ١)

(13) ما الاحتمال التجريبي لاستعمال ساعة اليد لمعرفة الوقت ؟

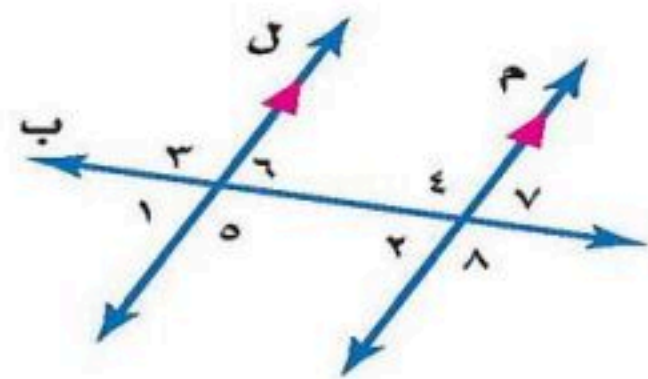
(أ) Error! (ب) Error!

(14) عدد النواتج الممكنة لرمي قطعة نقد ومكعب أرقام =

(أ) ١٢ (ب) ٨ (ج) ١٦

(15) أنسب طريقه لتمثيل توزيع دخل الاسرة على المتطلبات المنزلية

(أ) الصندوق وطرفيه (ب) القطاعات الدائرية (ج) المدرج التكراري



محور

الطريقة	عدد الأشخاص
هاتف نقال	١٨٥
ساعة حائط	٥٨
ساعة يد	٥٧

(ج) Error!

درجات الرياضيات	
الساق	الورقة
٥	٠ ٩
٦	٤ ٥ ٧ ٨
٧	٠ ٤ ٤ ٥ ٥ ٦ ٧ ٨ ٨
٨	٢ ٣ ٣ ٥ ٧ ٨
٩	٠ ١ ٥ ٥ ٩ %٥٩ = ٥ ٩

١٦) هدايا أسعارها ٢٥ ، ٢٨ ، ٣٢ ، ٣٥ ، ٤٠ ، ٥٠ ، المتوسط الحسابي =

(أ) ٣٢ (ب) ٣٥ (ج) ٣٨

١٧) من تمثيل الساق والورقة المجاور مدى الدرجات =

(أ) ٥٠ (ب) ٩٩ (ج) ٤٩

١٨) ما احتمال أن يكون مجموع العددين ١٢ عند رمي مكعبين أرقام

(أ) $\frac{1}{18}$ (ب) $\frac{1}{36}$ (ج) $\frac{1}{12}$

١٩) عند القاء قطعة نقد ورمي مكعب أرقام فأوجد ح (شعار و عدد زوجي) =

(أ) $\frac{1}{4}$ (ب) $\frac{2}{5}$ (ج) $\frac{1}{6}$

٢٠) حدد نوع العينة (اختيار شخص عشوائيا من كل دائرة في شركة لتحديد أولويات الموظفين فكانت الخدمة الصحية أهم أولويات 67 منهم فاستنتج المدير أن الخدمة الصحية يجب أن تشمل جميع الموظفين)

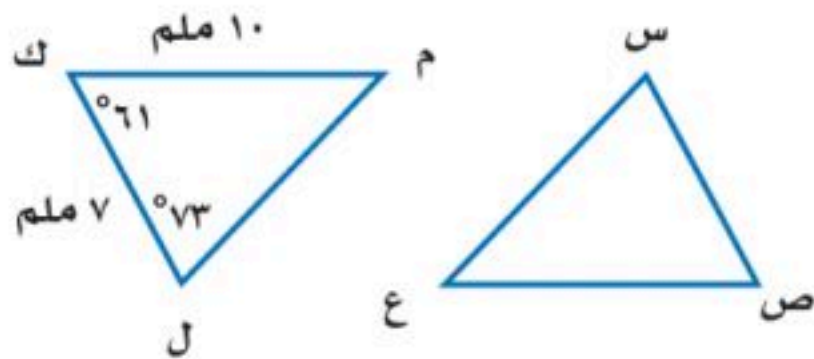
(أ) عشوائية بسيطة (ب) عشوائية طبقية (ج) عشوائية منتظمة

(ب) في الشكل \triangle س ص ع \cong \triangle ل ك م ، أوجد ما يلي :

(أ) $\angle ق \simeq \angle س =$

(ب) $\overline{ص ع} =$

10



(ج) أوجد الوسيط والربيع الأدنى والربيع الأعلى و المدى الربيعي للبيانات التالية :

150 ، 130 ، ٢٢٨ ، ٤24 ، ٤٧٦

الوسيط

الربيع الأدنى

الربيع الأعلى

المدى الربيعي

10

س/٣ ضع علامة (✓) أمام العبارة الصحيحة وعلامة (x) أمام العبارة الخاطئة :

١	الانسحاب هو انتقال الشكل من موقع إلى آخر دون تدويره
٢	أفضل طريقة لتمثيل درجات الاختبار المنظمة في فئات التمثيل بالقطاعات الدائرية
٣	الزاويتان المتكاملتان هما الزاويتان اللتان مجموع قياسيهما يساوي ١٨٠°
٤	25 ، 20 ، 21 ، 25 ، 20 ، 25 المنوال = 25
٥	ق \simeq س = 88°
٦	إذا تأثر احدي الحادثتين بناتج الحادثة الأخرى فان الحادثتين تكونان مستقلتين
٧	المضلع المنتظم هو المضلع الذي تتطابق فيه جميع اضلاعه و زواياه المتناظرة
٨	إذا كانت الزاويتان ك ، م متتامتان و ق \simeq ك = ٥٥° فإن ق \simeq م = ٤٥°
٩	يستعمل التمثيل بالساق و الورقة خط الأعداد ليبين أنتشار مجموعة من البيانات
١٠	تسمى المضلعات التي لها نفس القياس والشكل بالمضلعات المتطابقة

انتهت الأسئلة ، أرجو لكم التوفيق والنجاح



الدرجة رقما	الدرجة كتابة	المصحح	المراجع
٤٠	الدرجة كتابة	التوقيع	التوقيع

اسم الطالب : _____ رقم الجلوس : _____

السؤال الأول: اختر الإجابة الصحيحة لكل فقرة :

١) احسب ذهنيا ٧٥٪ من ١٢٠	٢) احسب ذهنيا ١٠٪ من ٣٥٠ =
أ) ٨٥	أ) ٤٠
ب) ٩٠	ب) ٣٥
ج) ٨٠	ج) ٤٥
د) ٧٥	د) ٣٠
٣) أوجد ٢٥٪ من ١٦٠	٤) قدر النسبة المئوية للعدد ٧ من ٧٩
أ) ٥٠	أ) ٢٥٪
ب) ٦٠	ب) ٢٠٪
ج) ٧٠	ج) ٣٠٪
د) ٤٠	د) ١٠٪
٥) العدد الذي ٧٥٪ منه تساوي ٢١٠	٦) أوجد التغير المئوي إذا كان الثمن الأصلي ٤٠ و الجديد ٤٨
أ) ٢٧٠	أ) ٢٥٪ زيادة مئوية
ب) ٢٧٥	ب) ٣٠٪ زيادة مئوية
ج) ٢٨٠	ج) ٢٠٪ زيادة مئوية
د) ٢٩٠	د) ١٥٪ زيادة مئوية
٧) ما النسبة المئوية للعدد ٢٥ من ٦٢٥	٨) ما العدد الذي ١٥٪ منه تساوي ٣٠
أ) ٦٪	أ) ٢٩٠
ب) ٤٪	ب) ٢٠٠
ج) ١٣٪	ج) ٢٥٠
د) ٩٪	د) ٢٨٠
٩) إذا كان ثمن الطاولة ٤٢٠ ريالاً والربح ٣٠٪ فأوجد ثمن البيع	١٠) قدر ٢٤٪ من ٤٤ =
أ) ٥٤٦	أ) ١١
ب) ٤٥١	ب) ١٨
ج) ٤٥٥	ج) ٢٠
د) ٥٠٠	د) ١٥
١١) هو نسبة تقارن مقدار التغير في كمية ما بالكمية الأصلية	١٢) إذا كان ثمن القميص ٨٠ ريالاً و الخصم ٢٠٪ فأوجد ثمن البيع
أ) الربح	أ) ٦٠
ب) الخصم	ب) ٥٤
ج) التغير المئوي	ج) ٦٤
د) ثمن البيع	د) ٥٠
١٣) إذا كان الزمن الأصلي ٨ ساعات و الزمن الجديد ٦ ساعات	١٤) اشترى تاجر قطعة أثاث بمبلغ ٢٥٠٠ وباعها بخسارة ٥٪
أوجد التغير المئوي	فكم ثمن البيع
أ) - ٢٠٪	أ) ٢٠٥٠
ب) - ١٥٪	ب) ٢١٢٥
ج) - ٢٥٪	ج) ٢٣٧٥
د) - ١٠٪	د) ٢٢٥٠

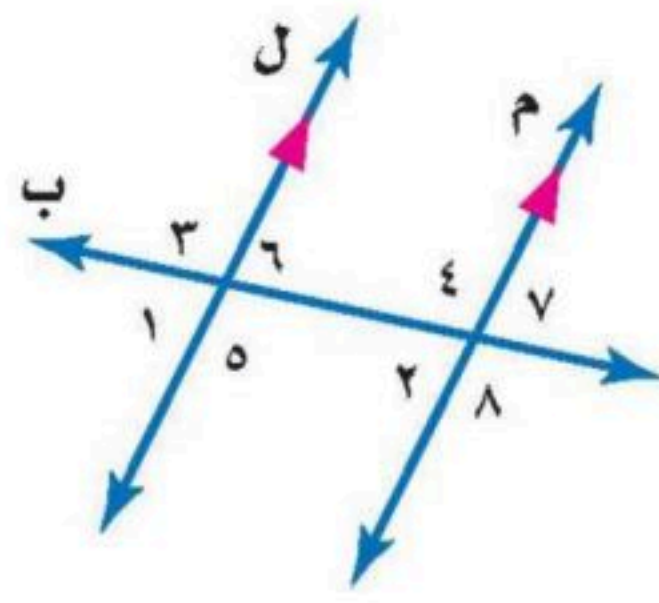
١٥) ما العلاقة بين $\triangle ٨$ و $\triangle ٥$

أ) متبادلتان خارجيا

ب) متبادلتان داخليا

ج) متجاورتان

د) متناظرتان



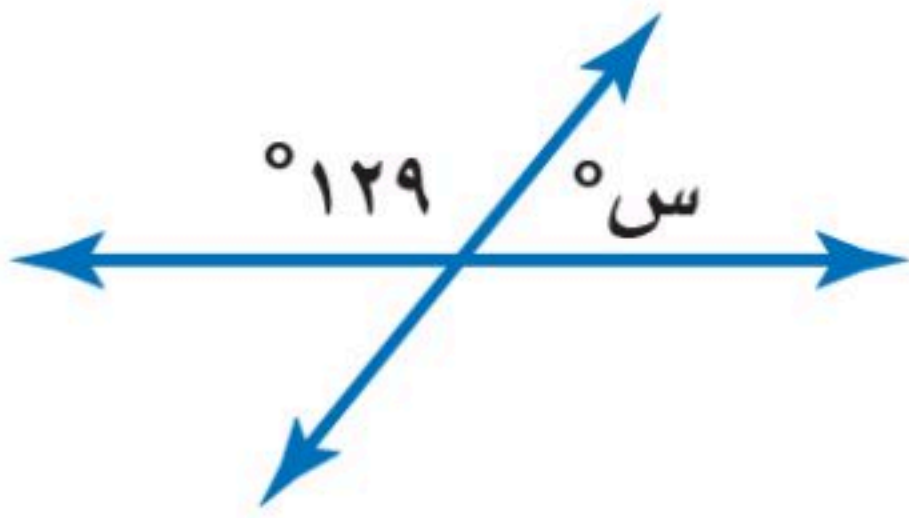
١٦) أوجد قيمة س؟

أ) ٤٩°

ب) ٦١°

ج) ٥٩°

د) ٥١°



١٧) أوجد قياس الزاوية الداخلية للمضلع السداسي المنتظم

أ) ١٢٠°

ب) ١٣٥°

ج) ١٠٨°

د) ٩٠°

١٨) مجموع قياسات الزوايا الداخلية للمضلع الثماني

أ) ١٠٨٠°

ب) ٩٠٠°

ج) ١٢٦٠°

د) ٧٢٠°

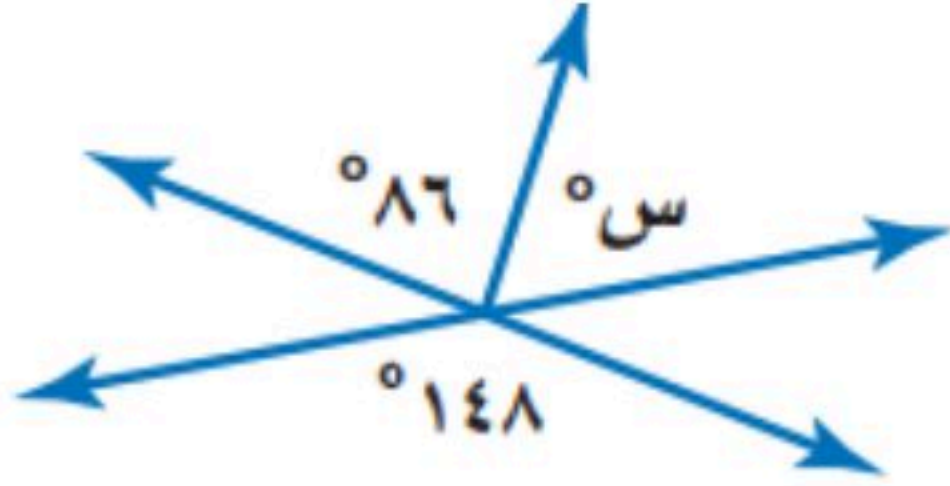
١٩) أوجد قيمة س؟

أ) ٤٢°

ب) ٥٢°

ج) ٦٢°

د) ٤٨°



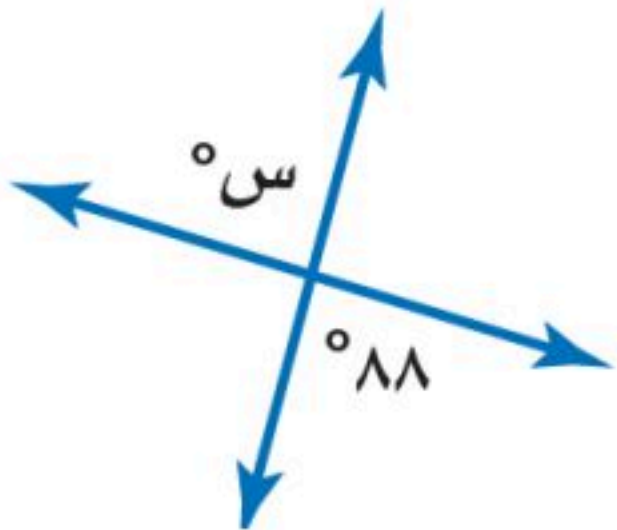
٢٠) أوجد قيمة س؟

أ) ٨٢°

ب) ٩٨°

ج) ٨٨°

د) ٩٢°



٢١) إذا كان المستقيمان أ و ب

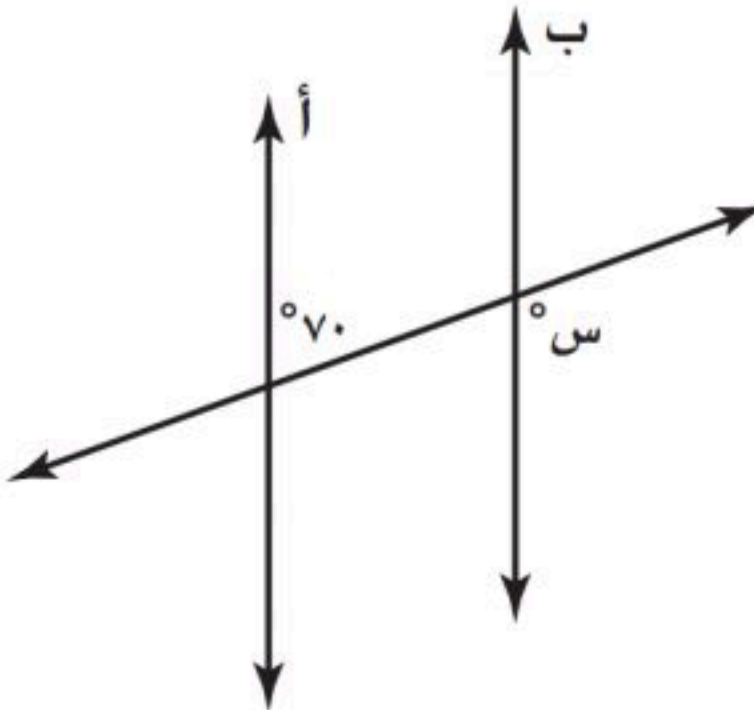
متوازيين ، فما قيمة س ؟

أ) ٣٠°

ب) ١٥٠°

ج) ٧٠°

د) ١١٠°



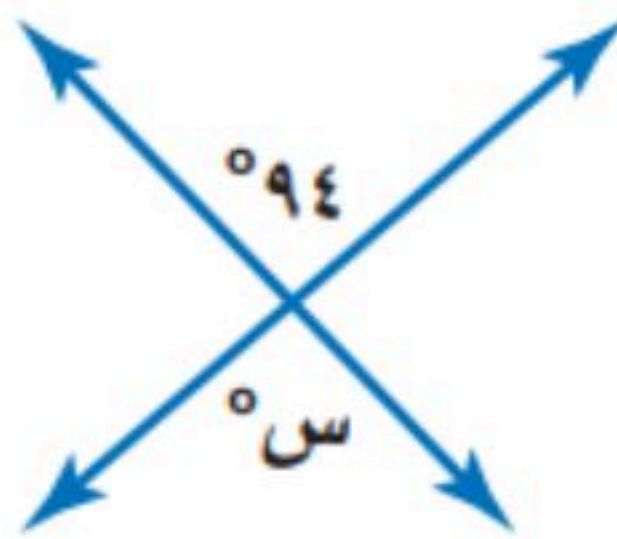
٢٢) أوجد قيمة س؟

أ) ٨٢°

ب) ٩٨°

ج) ٨٦°

د) ٩٤°



٢٣) قياس الزاوية الداخلية للمضلع السداسي المنتظم

أ) ١٢٠°

ب) ١٣٥°

ج) ١٠٨°

د) ٩٠°

٢٤) للشكل المجاور محور تماثل

أ) رأسي

ب) أفقي

ج) دوراني

د) جميع ما سبق



٢٥) للشكل المجاور محور تماثل

أ) رأسي

ب) أفقي

ج) دوراني

د) جميع ما سبق



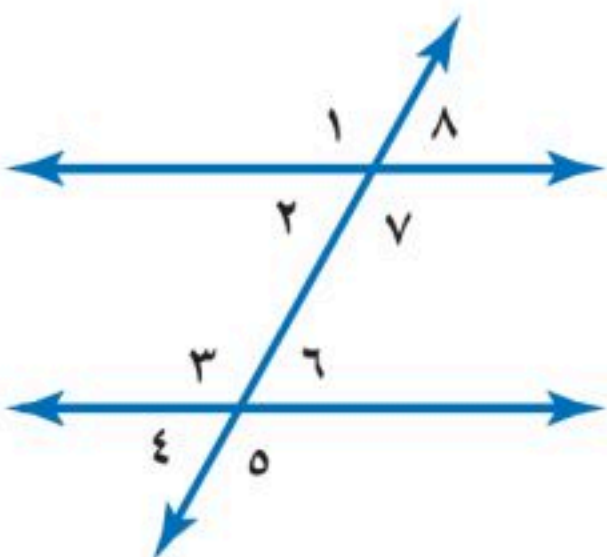
٢٦) العلاقة بين الزاويتان ٣ و ٧

أ) متبادلتان داخليا

ب) متبادلتان خارجيا

ج) متناظرتان

د) متكاملتان



٢٨) إذا كان $\triangle أ ب ج \cong \triangle س ص ع$ ، فأى العبارات الاتية صحيحة

أ) $أ ب \cong س ص ع$

ب) $\triangle أ ب ج \cong \triangle س ص ع$

ج) $أ ب ج \cong س ص ع$

د) $ص ع ج \cong أ ب ج$

٢٧) أجري دوران للمستطيل

أ ب ج د بزاوية ١٨٠° حول

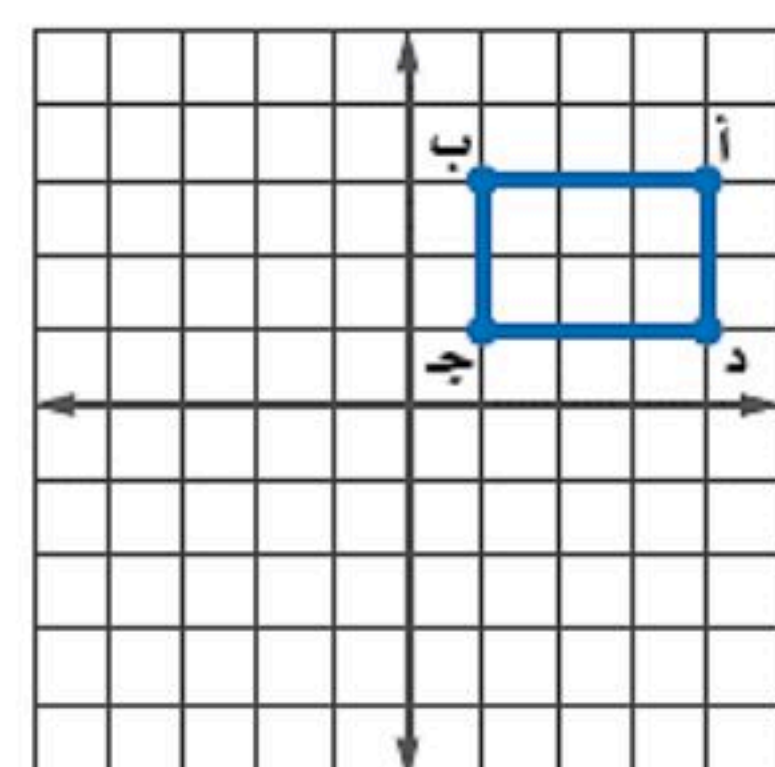
نقطة الأصل فما إحداثيات ب

أ) $(١- ، ٣)$

ب) $(١- ، ٣)$

ج) $(٣- ، ١)$

د) $(١ ، ٣)$



٣٠) صورة النقطة (٥-، ١) بالانعكاس حول محور السينات

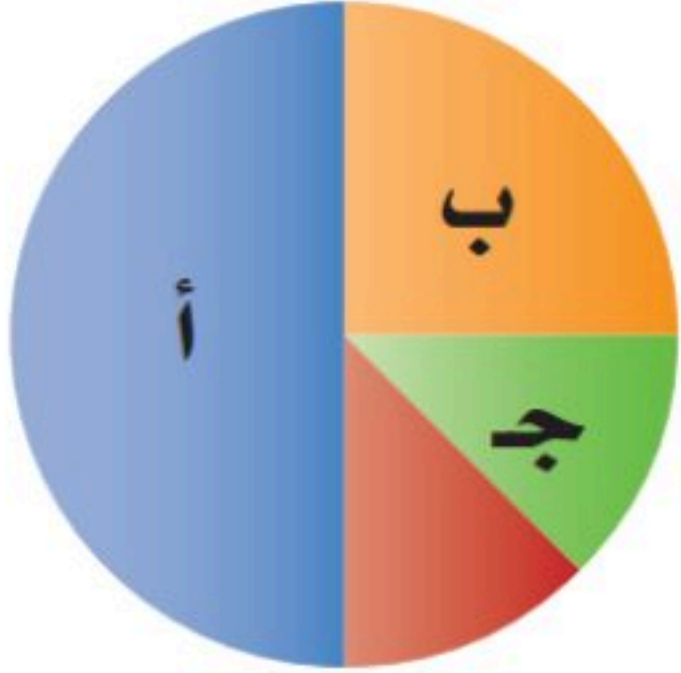
- أ) (٥-، ١)
ب) (١، ٥-)
ج) (١، ٥)
د) (١، ٥)

٢٩) صورة النقطة أ (٣، ٥) هي أ' (٥-، ٣) بدوران مركزه نقطة الأصل وزاويته:

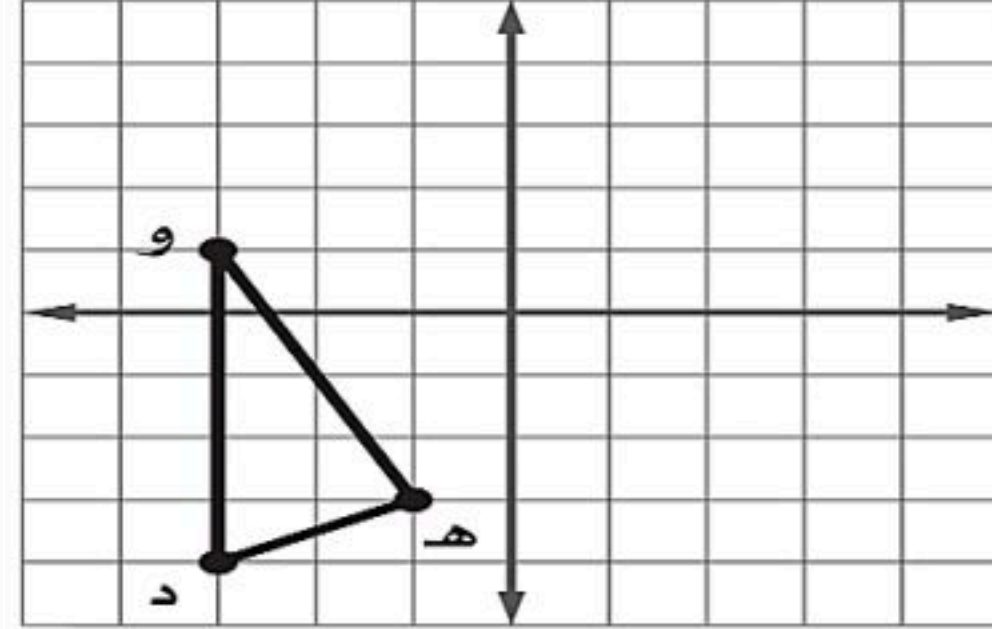
- أ) ٢٧٠°
ب) ٩٠°
ج) ١٨٠°
د) ٣٦٠°

٣٢) ما النسبة المئوية التي يمثلها ب في الشكل المجاور

- أ) ٢٥%
ب) ٥٠%
ج) ١٢,٥%
د) ٢٠%




٣١) إذا أجري انسحاب للمثلث دهو مقداره ٣ وحدات إلى اليمين و ٤ وحدات إلى الأعلى فما إحداثيات النقطة هـ



- أ) (١، ٢)
ب) (٧-، ٤-)
ج) (١، ٤-)
د) (٧-، ٢)

٣٤) أوجد المتوسط الحسابي لدرجات خمسة طلاب في مادة الرياضيات: ٩، ٨، ١٥، ٨، ٢٠

- أ) ١٠
ب) ١٢
ج) ١٥
د) ١٤

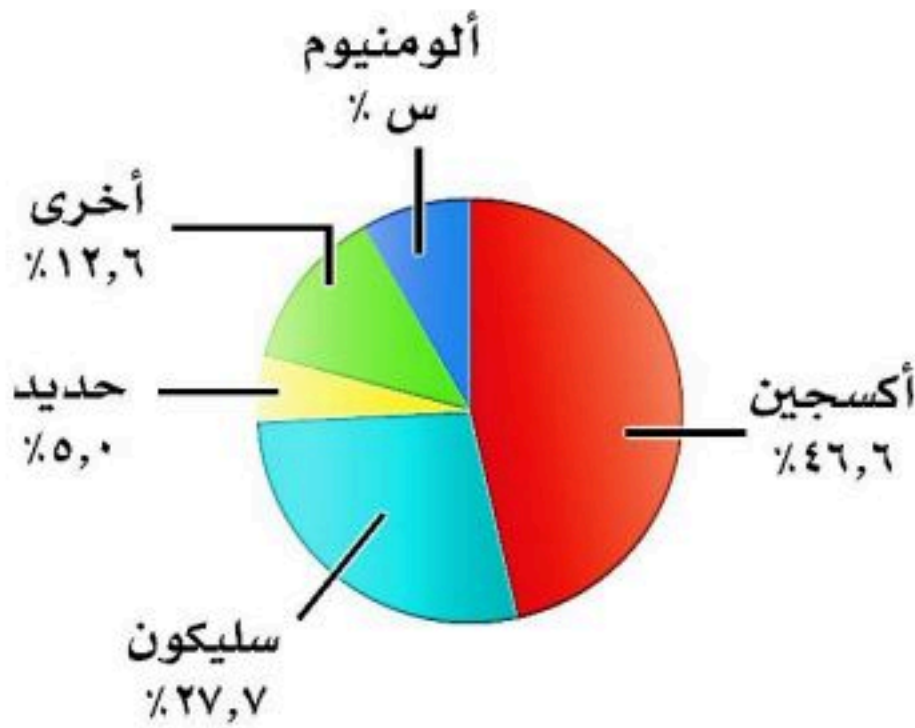


٣٣) زاوية الدوران للشكل المجاور

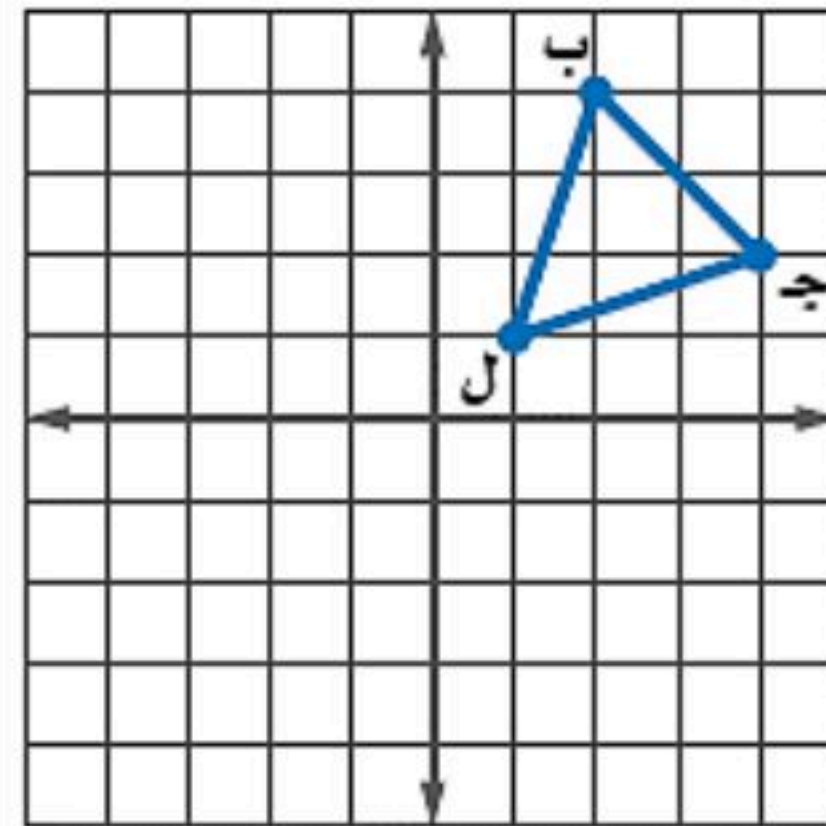
- أ) ١٢٠°
ب) ١٨٠°
ج) ٢٤٠°
د) ٩٠°

٣٦) من تمثيل القطاعات الدائرية المجاور احسب نسبة الألومنيوم العناصر في القشرة الأرضية

- أ) ١٠,٧
ب) ٨,١
ج) ٧,٢
د) ٩,٤



٣٥) إذا أجري دوران للمثلث ب ج ل حول نقطة الأصل فما إحداثيات ج'



- أ) (٤، ٢-)
ب) (٤-، ٢)
ج) (٤-، ٢-)
د) (٤، ٢)

٣٨) من تمثيل الساق والورقة المجاور أوجد مدى الدرجات

- أ) ٤٩
ب) ٥٩
ج) ٥٠
د) ٧٦,٥

درجات الرياضيات	
الساق	الورقة
٥	٠ ٩
٦	٤ ٥ ٧ ٨
٧	٠ ٤ ٤ ٥ ٥ ٦ ٧ ٨ ٨
٨	٢ ٣ ٣ ٥ ٧ ٨
٩	٠ ١ ٥ ٥ ٩

%٥٩ = ٥|٩

٣٧) يقدم مطعم ٣ أصناف من الطعام بخمسة أنواع من التوابل وقد تكون باللحم او بدونه ، عدد خيارات الطعام الممكنة باستعمال مبدأ العد الأساسي؟

- أ) ٣٠
ب) ١٥
ج) ٢٠
د) ١٠

٤٠) عدد النواتج الممكنة لرمي قطعة نقد ومكعب أرقام

- أ) ٨
ب) ٤
ج) ١٢
د) ١٦

٣٩) أنسب طريقه لتمثيل توزيع دخل الاسرة على المتطلبات المنزلية

- أ) الصندوق وطرفيه
ب) الساق والورقة
ج) القطاعات الدائرية
د) المدرج التكراري

٤١) عند القاء قطعة نقد ورمي مكعب أرقام فأوجد
ح (شعار و عدد فردي)

- أ) $\frac{1}{2}$
ب) $\frac{1}{4}$
ج) $\frac{1}{6}$
د) $\frac{1}{3}$

٤٢) باعت وكالة سيارات ٨٠ سيارة منها ٣٥ سيارة صغيرة فإن
الاحتمال التجريبي أن تكون السيارات المباعة صغيرة

- أ) $\frac{5}{7}$
ب) $\frac{7}{16}$
ج) $\frac{5}{16}$
د) $\frac{16}{5}$

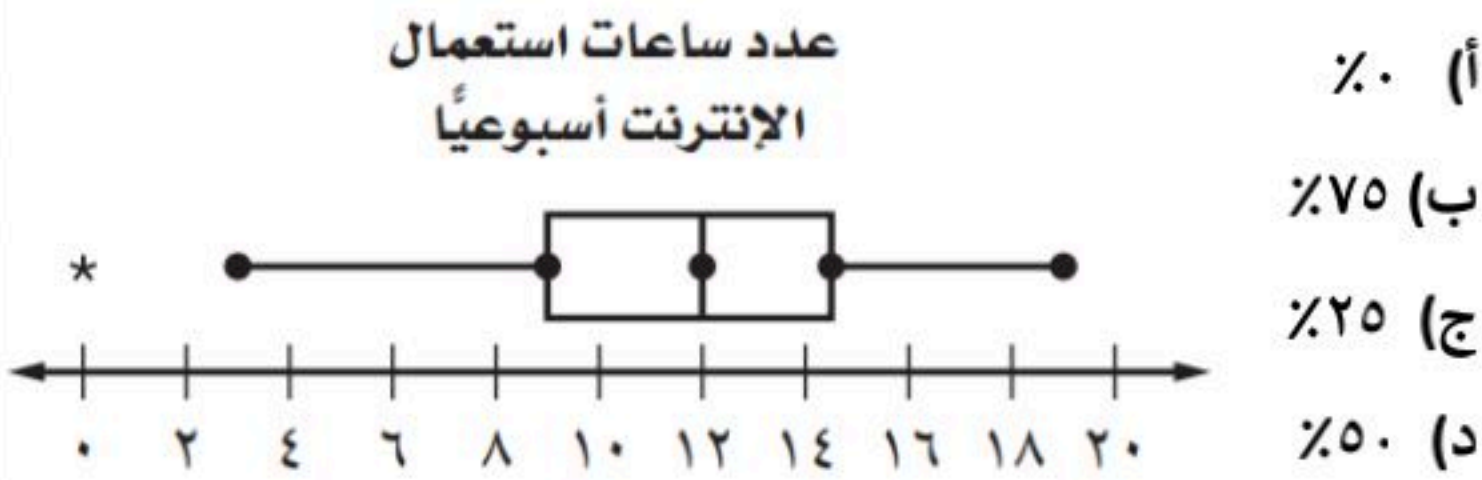
٤٣) ما احتمال أن يكون مجموع العددين ١٢ عند رمي مكعبي أرقام

- أ) $\frac{1}{12}$
ب) $\frac{1}{6}$
ج) $\frac{1}{36}$
د) $\frac{1}{18}$

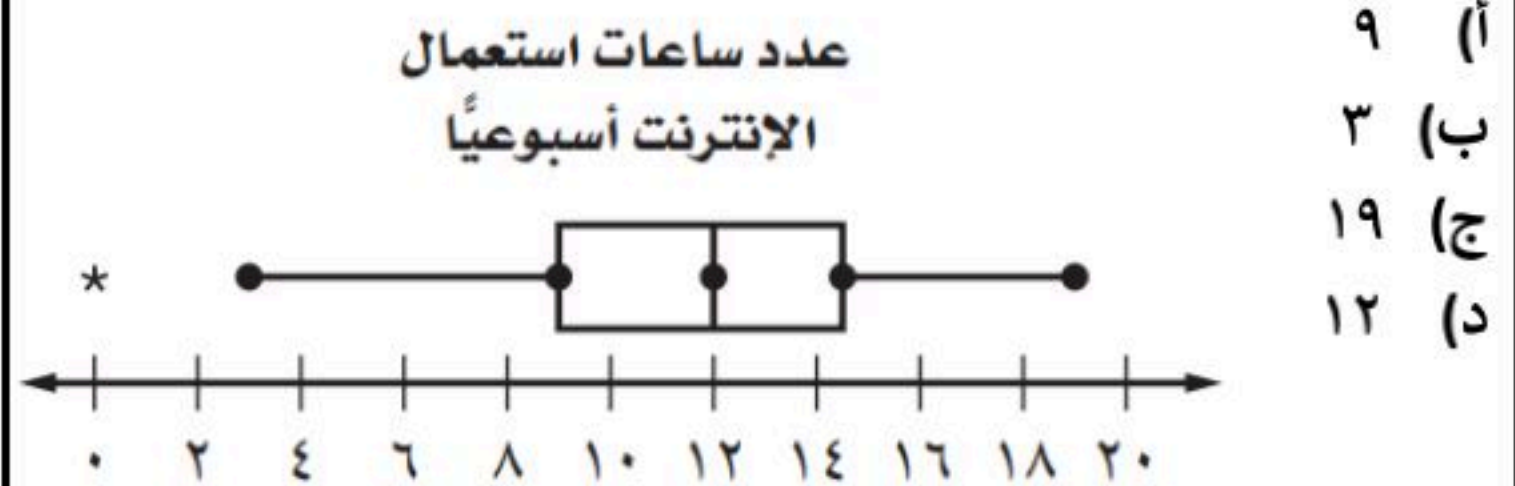
٤٤) يوجد في سلة فواكه ٤ برتقالات و ٧ موزات و ٥ تفاحات
أوجد احتمال اختيار حبة موز ثم حبة برتقال

- أ) $\frac{7}{40}$
ب) $\frac{1}{20}$
ج) $\frac{7}{60}$
د) $\frac{1}{12}$

٤٦) من تمثيل الصندوق و طرفيه كم نسبة استعمال الجوال أكثر من
١٢ ساعة ؟



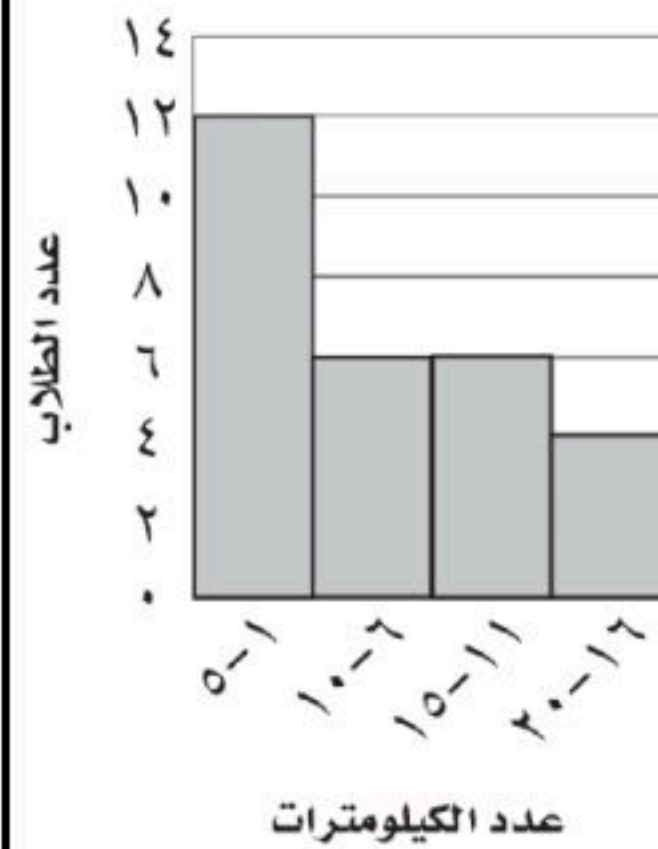
٤٥) من تمثيل الصندوق و طرفيه كم قيمة الوسيط ؟



٤٨) إذا اختير شخص عشوائياً من كل دائرة في شركة لتحديد أولويات
الموظفين فكانت الخدمة الصحية أهم أولويات ٦٧ منهم فاستنتج
المدير أن الخدمة الصحية يجب أن تشمل جميع الموظفين.

- أ) عينة تطوعية
ب) عينة ملائمة
ج) عشوائية منتظمة
د) عشوائية طبقية

٤٧) من المدرج التكراري المجاور
ما عدد الطلاب الذين يقطعون
مسافة أكثر من ٥ كم للوصول
إلى مدرستهم.



- أ) ١٠
ب) ١٢
ج) ٤
د) ١٦

٥٠) فاز سعيد خلال الأيام الأربعة الأولى من سباق رالي السيارات بـ
٢٤ جولة من ٣٠ جولة ، وإذا اشترك في ٥٠ سباقاً في هذا الموسم ،
فكم تتوقع أن يكون عدد مرات فوز سعيد ؟

- أ) ٣٥
ب) ٤٠
ج) ٣٢
د) ٣٨

٤٩) سأل معلم طلبته الخمسة الجالسين في الصف الأمامي في غرفة
الصف عن رغبتهم في الاشتراك في يوم النشاط المدرسي فأجابوا
بالموافقة فاستنتج من ذلك أن جميع طلاب المدرسة سيشاركون في
يوم النشاط

- أ) عينة تطوعية
ب) عينة ملائمة
ج) عشوائية منتظمة
د) عشوائية طبقية

السؤال الثاني: ضع علامة (✓) أمام العبارة الصحيحة وعلامة (x) أمام العبارة الخاطئة :

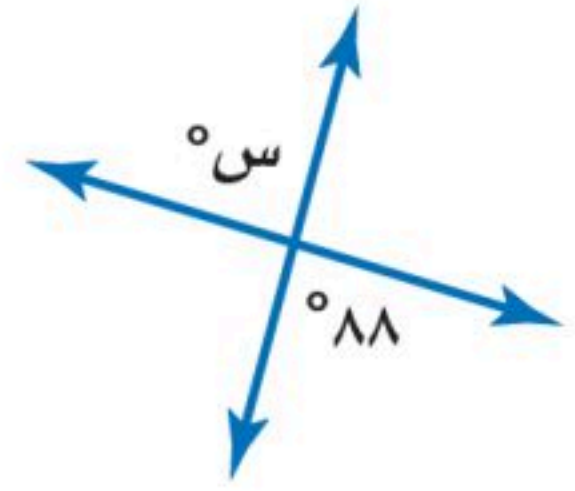
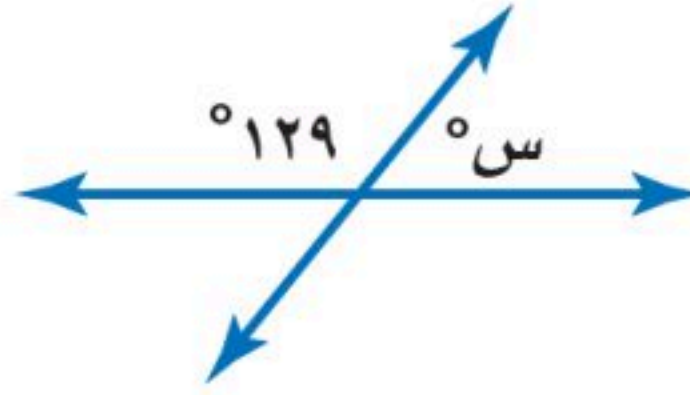
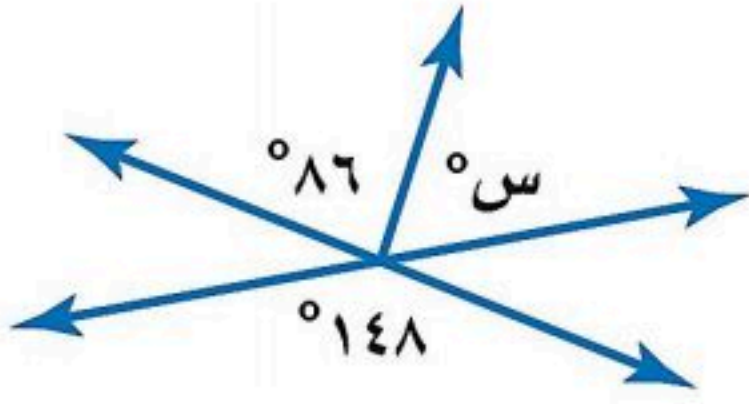
٥ درجات

١.	الانسحاب هو انتقال الشكل من موقع إلى آخر دون تدويره
٢.	أفضل طريقة لتمثيل البيانات المنظمة في فئات التمثيل بالقطاعات الدائرية
٣.	إذا تأثر احدي الحادثتين بناتج الحادثة الأخرى فان الحادثتين تكونان غير مستقلتين
٤.	إذا كانت الزاويتان ك ، م متتامتان و ق Δ ك = ٥٥° فإن ق Δ م = ٤٥°
٥.	تسمى المضلعات التي لها نفس القياس والشكل بالمضلعات المتطابقة

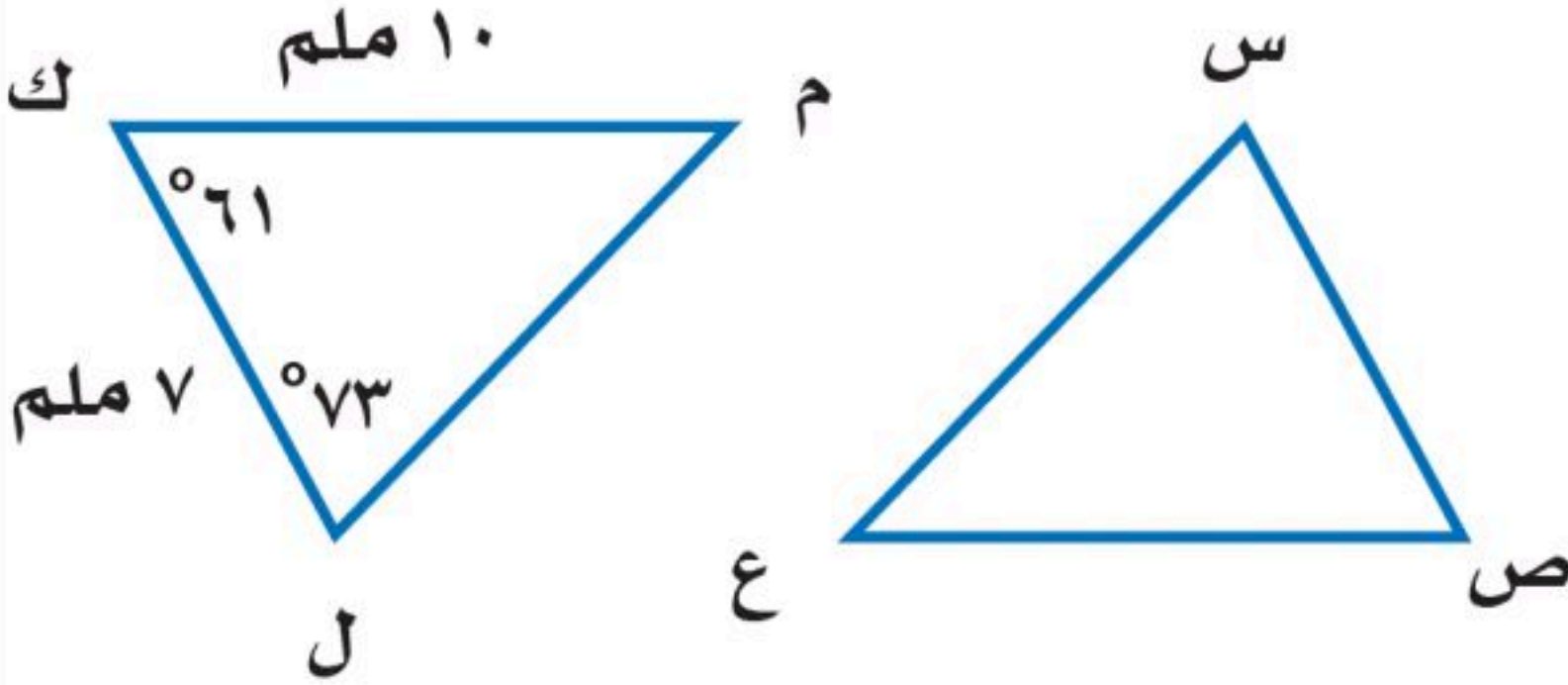
السؤال الثالث:

٥ درجات

(أ) أوجد قيمة س في الأشكال الآتية



(ب) في الشكل Δ س ص ع \cong Δ ل ك م ، أوجد ما يلي :



(أ) ق Δ س =

(ب) ص ع =

(أ) ق Δ ع =

(ب) س ص =

السؤال الرابع: أوجد مقاييس التشتت للبيانات من الجدول :

٥ درجات

إنتاج المناطق من الحبوب في أحد الأعوام

المنطقة	الإنتاج (لأقرب ألف طن)
الجوف	٤٧٦
القصيم	٤١٨
جازان	٢٢٨
الرياض	١٧٧
تبوك	١١٧

الوسيط =

المدى =

الربيع الأدنى =

الربيع الأعلى =

المدى الربيعي =

انتهت الأسئلة

نموذج الإجابة

الصف : ثاني متوسط
المادة : رياضيات
الزمن : ساعتان
التاريخ : / ٨ / ١٤٤٥ هـ
اختبار نهائي الفصل الدراسي الثاني (الدور الأول)

الدرجة رقما	الدرجة كتابة	المصحح	المراجع
٤٠	كتابة	التوقيع	التوقيع

اسم الطالب : _____ رقم الجلوس : _____

السؤال الأول: اختر الإجابة الصحيحة لكل فقرة :

١) احسب ذهنيا ٧٥٪ من ١٢٠ أ) ٨٥ ب) ٩٠ ج) ٨٠ د) ٧٥	٢) احسب ذهنيا ١٠٪ من ٣٥٠ = أ) ٤٠ ب) ٣٥ ج) ٤٥ د) ٣٠
٣) أوجد ٢٥٪ من ١٦٠ أ) ٥٠ ب) ٦٠ ج) ٧٠ د) ٤٠	٤) قدر النسبة المئوية للعدد ٧ من ٧٩ أ) ٢٥٪ ب) ٢٠٪ ج) ٣٠٪ د) ١٠٪
٥) العدد الذي ٧٥٪ منه تساوي ٢١٠ أ) ٢٧٠ ب) ٢٧٥ ج) ٢٨٠ د) ٢٩٠	٦) أوجد التغير المئوي إذا كان الثمن الأصلي ٤٠ و الجديد ٤٨ أ) ٢٥٪ زيادة مئوية ب) ٣٠٪ زيادة مئوية ج) ٢٠٪ زيادة مئوية د) ١٥٪ زيادة مئوية
٧) ما النسبة المئوية للعدد ٢٥ من ٦٢٥ أ) ٦٪ ب) ٤٪ ج) ١٣٪ د) ٩٪	٨) ما العدد الذي ١٥٪ منه تساوي ٣٠ أ) ٢٩٠ ب) ٢٠٠ ج) ٢٥٠ د) ٢٨٠
٩) إذا كان ثمن الطاولة ٤٢٠ ريالاً والربح ٣٠٪ فأوجد ثمن البيع أ) ٥٤٦ ب) ٤٥١ ج) ٤٥٥ د) ٥٠٠	١٠) قدر ٢٤٪ من ٤٤ = أ) ١١ ب) ١٨ ج) ٢٠ د) ١٥
١١) هو نسبة تقارن مقدار التغير في كمية ما بالكمية الأصلية أ) الربح ب) الخصم ج) التغير المئوي د) ثمن البيع	١٢) إذا كان ثمن القميص ٨٠ ريالاً و الخصم ٢٠٪ فأوجد ثمن البيع أ) ٦٠ ب) ٥٤ ج) ٦٤ د) ٥٠
١٣) إذا كان الزمن الأصلي ٨ ساعات و الزمن الجديد ٦ ساعات أوجد التغير المئوي أ) - ٢٠٪ ب) - ١٥٪ ج) - ٢٥٪ د) - ١٠٪	١٤) اشترى تاجر قطعة أثاث بمبلغ ٢٥٠٠ وباعها بخسارة ٥٪ فكم ثمن البيع أ) ٢٠٥٠ ب) ٢١٢٥ ج) ٢٣٧٥ د) ٢٢٥٠

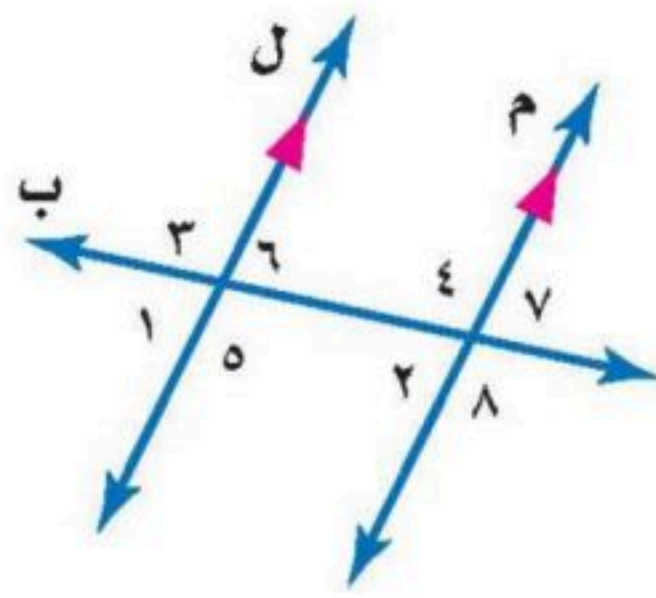
١٥) ما العلاقة بين $\angle 5$ و $\angle 8$ ؟

أ) متبادلتان خارجيا

ب) متبادلتان داخليا

ج) متجاورتان

د) متناظرتان



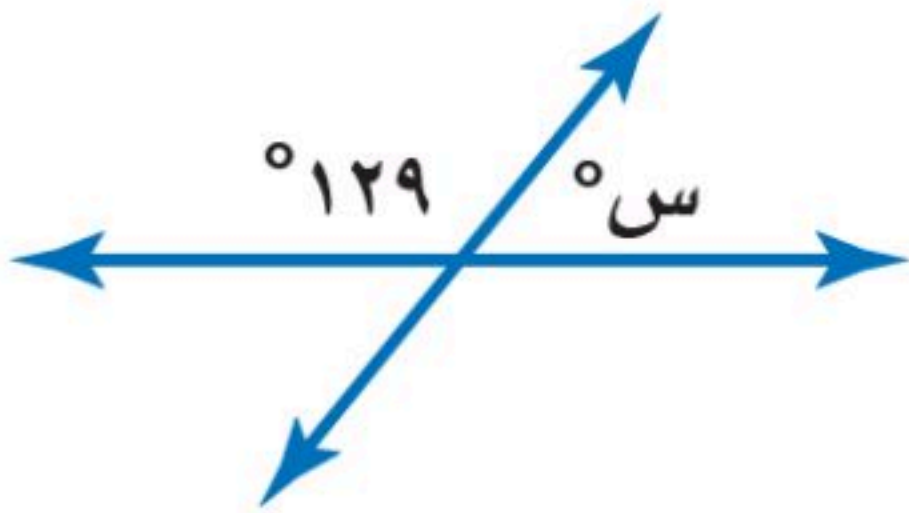
١٦) أوجد قيمة س؟

أ) 49°

ب) 61°

ج) 59°

د) 51°



١٧) أوجد قياس الزاوية الداخلية للمضلع السداسي المنتظم

أ) 120°

ب) 135°

ج) 108°

د) 90°

١٨) مجموع قياسات الزوايا الداخلية للمضلع الثماني

أ) 1080°

ب) 900°

ج) 1260°

د) 720°

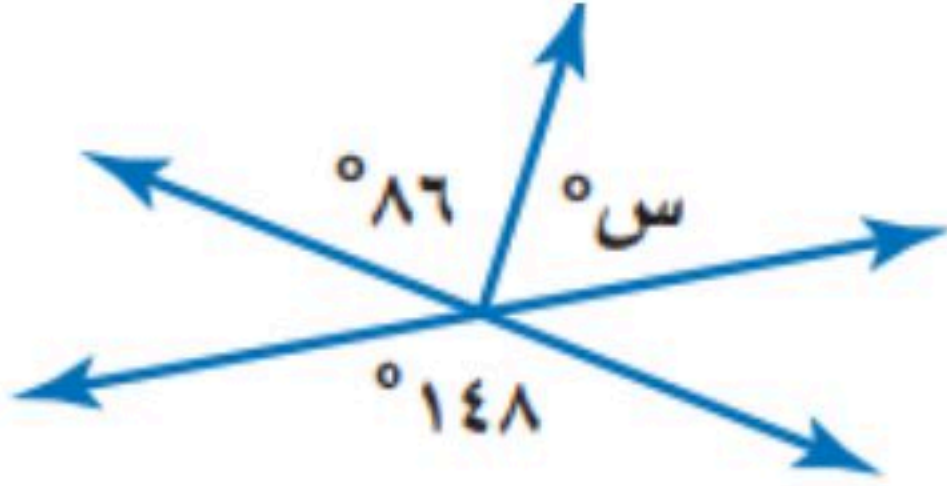
١٩) أوجد قيمة س؟

أ) 42°

ب) 52°

ج) 62°

د) 48°



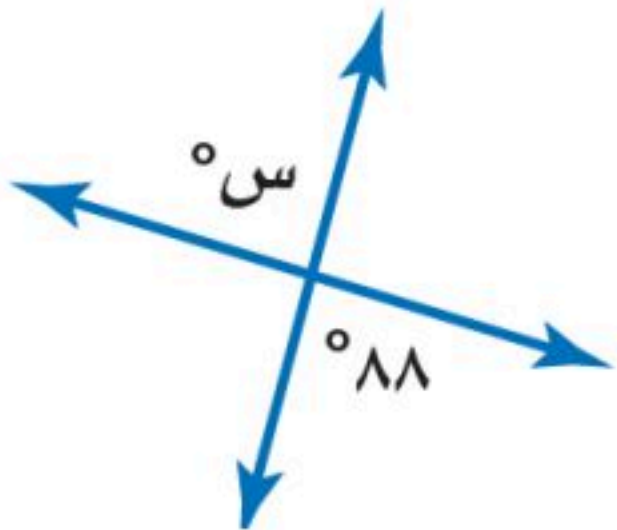
٢٠) أوجد قيمة س؟

أ) 82°

ب) 98°

ج) 88°

د) 92°



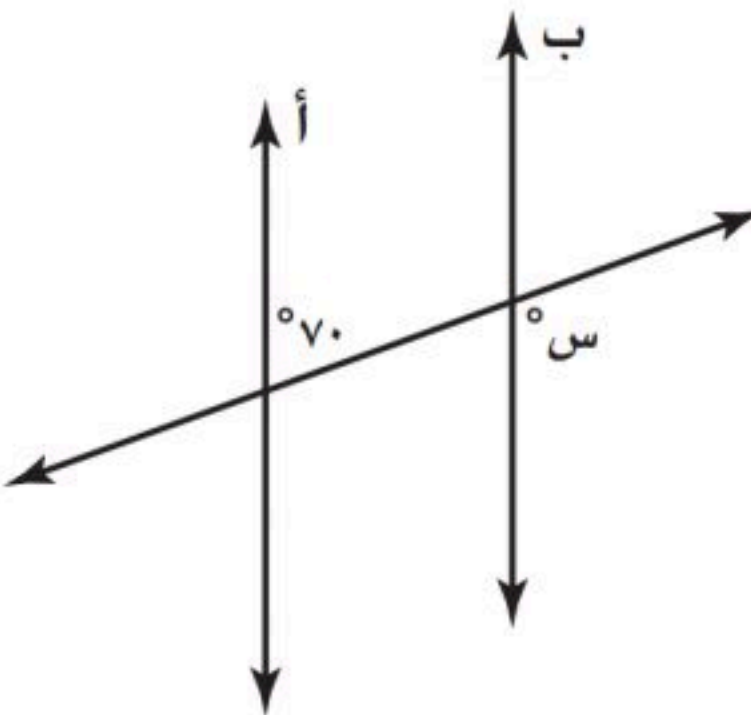
٢١) إذا كان المستقيمان أ و ب متوازيين ، فما قيمة س ؟

أ) 30°

ب) 150°

ج) 70°

د) 110°



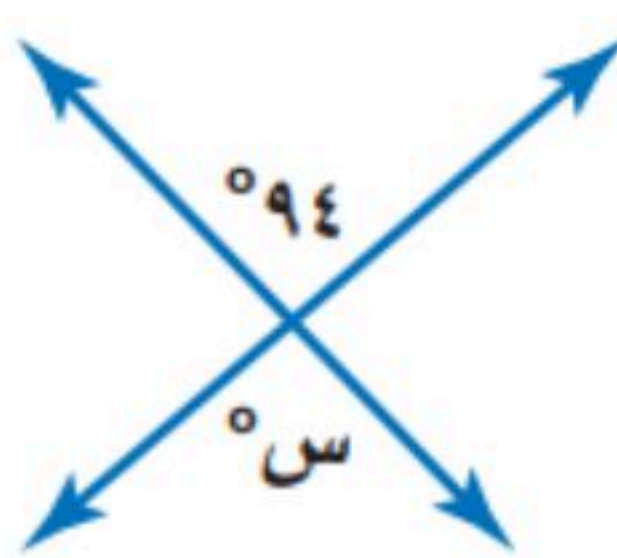
٢٢) أوجد قيمة س؟

أ) 82°

ب) 98°

ج) 86°

د) 94°



٢٣) قياس الزاوية الداخلية للمضلع السداسي المنتظم

أ) 120°

ب) 135°

ج) 108°

د) 90°

٢٤) للشكل المجاور محور تماثل

أ) رأسي

ب) أفقي

ج) دوراني

د) جميع ما سبق



٢٥) للشكل المجاور محور تماثل

أ) رأسي

ب) أفقي

ج) دوراني

د) جميع ما سبق



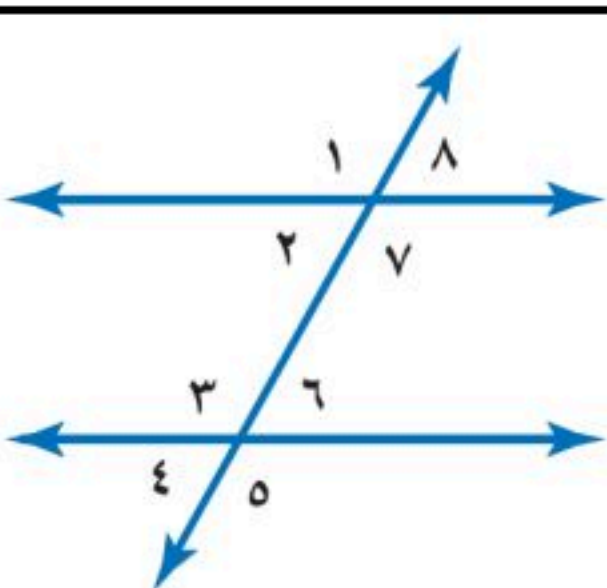
٢٦) العلاقة بين الزاويتان ٣ و ٧

أ) متبادلتان داخليا

ب) متبادلتان خارجيا

ج) متناظرتان

د) متكاملتان



٢٨) إذا كان $\triangle أ ب ج \cong \triangle س ص ع$ ، فأى العبارات الاتية صحيحة

أ) $أ ب \cong س ص ع$

ب) $\angle أ \cong \angle س$

ج) $أ ب ج \cong س ص ع$

د) $\angle س \cong \angle ج$

٢٧) إذا أجري دوران للمستطيا

أ ب ج د بزاوية 180° حول

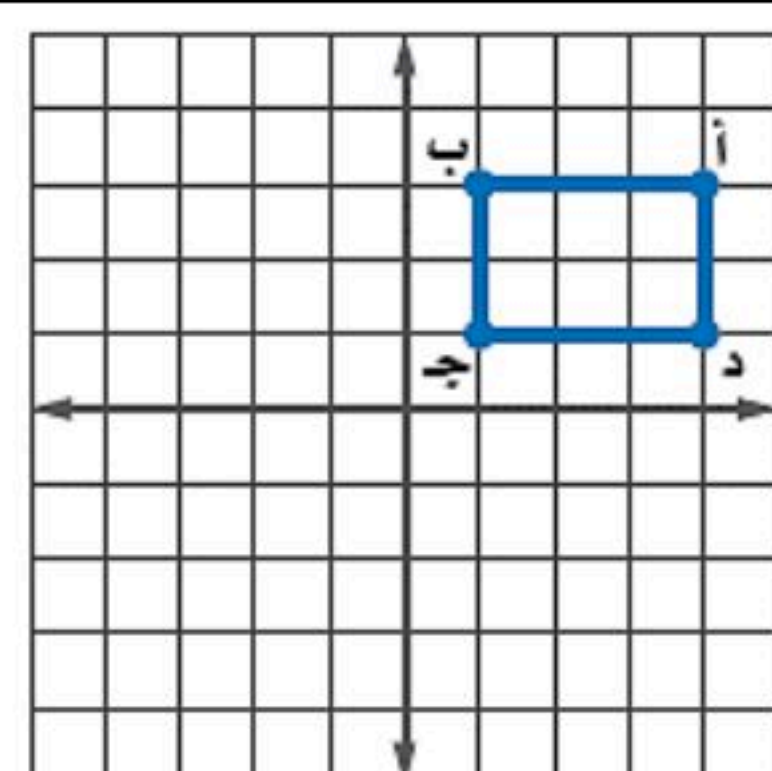
نقطة الأصل فما إحداثيات ب

أ) $(-3, 1)$

ب) $(-1, -3)$

ج) $(-1, 3)$

د) $(3, 1)$



٣٠) صورة النقطة (٥-، ١) بالانعكاس حول محور السينات

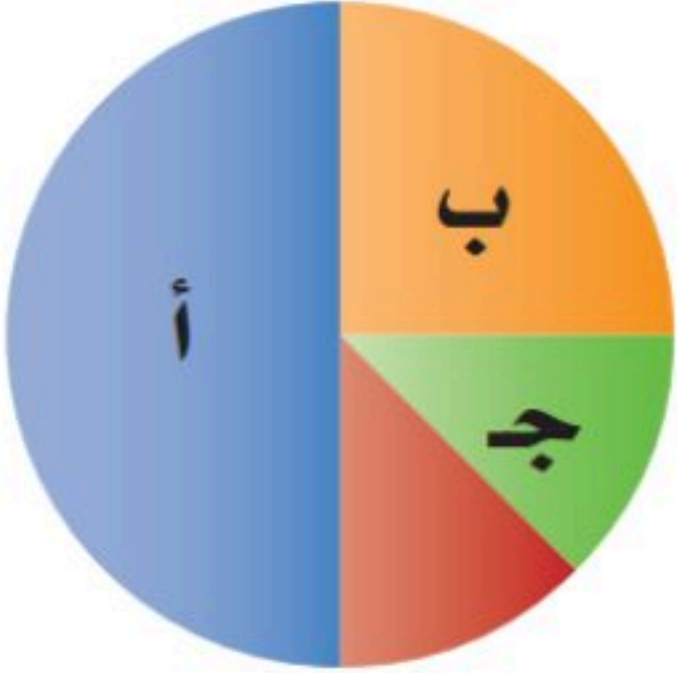
- أ) (٥-، ١)
ب) (١، ٥-)
ج) (١-، ٥)
د) (١، ٥)

٢٩) صورة النقطة أ (٣، ٥-) هي أ' (٥-، ٣) بدوران مركزه نقطة الأصل وزاويته:

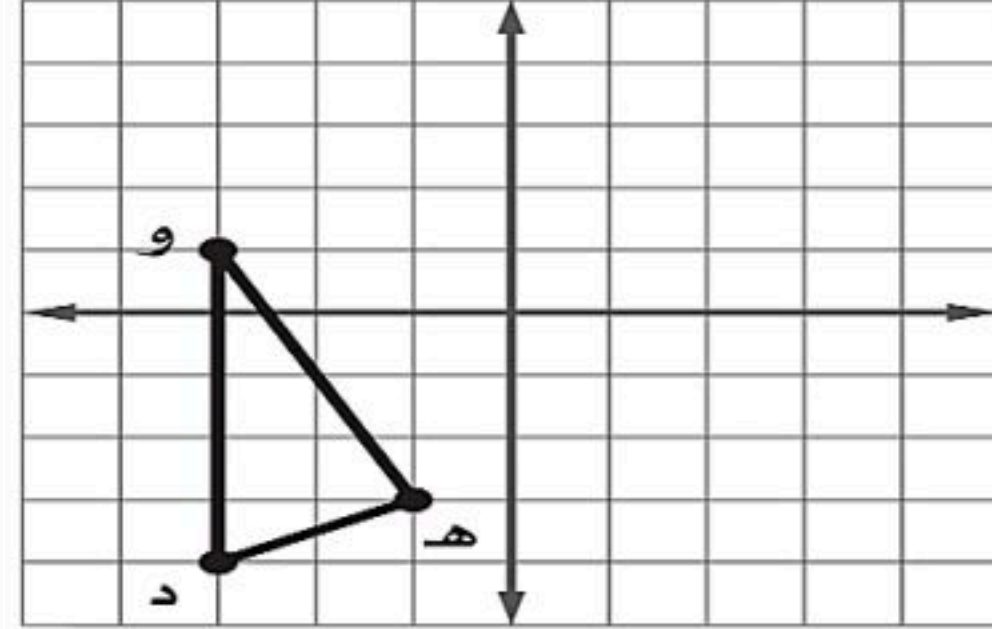
- أ) ٢٧٠°
ب) ٩٠°
ج) ١٨٠°
د) ٣٦٠°

٣٢) ما النسبة المئوية التي يمثلها ج في الشكل المجاور

- أ) ١٢,٥%
ب) ٥٠%
ج) ٢٥%
د) ٢٠%




٣١) إذا أجري انسحاب للمثلث ده و مقداره ٣ وحدات إلى اليمين و ٤ وحدات إلى الأعلى فما إحداثيات النقطة هـ



- أ) (١، ٢)
ب) (-٤، -٧)
ج) (-٤، ١)
د) (٢، -٧)

٣٤) أوجد المتوسط الحسابي لدرجات خمسة طلاب في مادة الرياضيات: ٩، ٨، ١٥، ٨، ٢٠

- أ) ١٠
ب) ١٢
ج) ١٥
د) ١٤

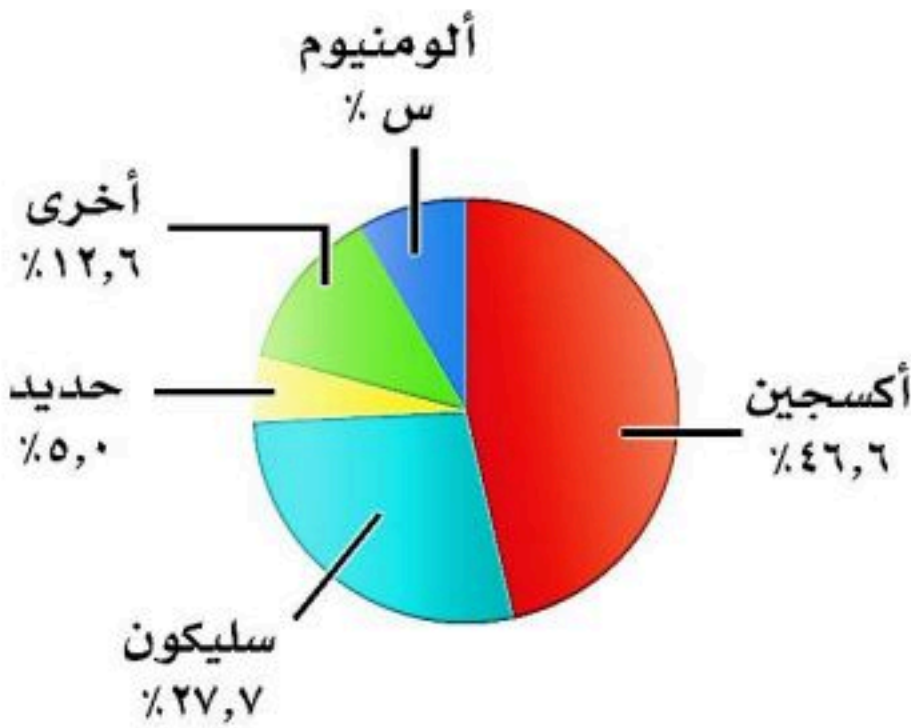


٣٣) زاوية الدوران للشكل المجاور

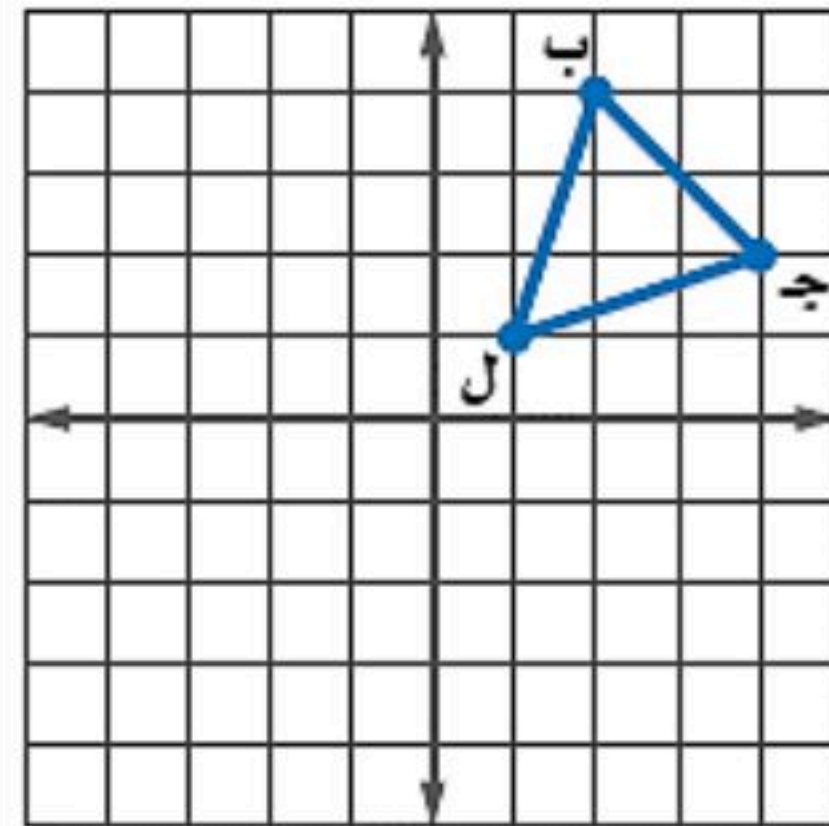
- أ) ١٢٠°
ب) ١٨٠°
ج) ٢٤٠°
د) ٩٠°

٣٦) من تمثيل القطاعات الدائرية المجاور احسب نسبة الألومنيوم العناصر في القشرة الأرضية

- أ) ١٠,٧
ب) ٨,١
ج) ٧,٢
د) ٩,٤



٣٥) إذا أجري دوران للمثلث ب ج ل بزاوية ٢٧٠° حول نقطة الأصل فما إحداثيات ج'



- أ) (-٢، ٤)
ب) (-٢، ٤)
ج) (-٢، -٤)
د) (٢، ٤)

٣٨) من تمثيل الساق والورقة المجاور أوجد مدى الدرجات

- أ) ٤٩
ب) ٥٩
ج) ٥٠
د) ٧٦,٥

درجات الرياضيات	
الساق	الورقة
٥	٠ ٩
٦	٤ ٥ ٧ ٨
٧	٠ ٤ ٤ ٥ ٥ ٦ ٧ ٨ ٨
٨	٢ ٣ ٣ ٥ ٧ ٨
٩	٠ ١ ٥ ٥ ٩

%٥٩ = ٥ | ٩

٣٧) يقدم مطعم ٣ أصناف من الطعام بخمسة أنواع من التوابل وقد تكون باللحم او بدونه ، عدد خيارات الطعام الممكنة باستعمال مبدأ العد الأساسي؟

- أ) ٣٠
ب) ١٥
ج) ٢٠
د) ١٠

٤٠) عدد النواتج الممكنة لرمي قطعة نقد ومكعب أرقام

- أ) ٨
ب) ٤
ج) ١٢
د) ١٦

٣٩) أنسب طريقه لتمثيل توزيع دخل الاسرة على المتطلبات المنزلية

- أ) الصندوق وطرفيه
ب) الساق والورقة
ج) القطاعات الدائرية
د) المدرج التكراري

٤١) عند القاء قطعة نقد ورمي مكعب أرقام فأوجد
ح (شعار و عدد فردي)

- أ) $\frac{1}{2}$
ب) $\frac{1}{4}$
ج) $\frac{1}{6}$
د) $\frac{1}{3}$

٤٢) باعت وكالة سيارات ٨٠ سيارة منها ٣٥ سيارة صغيرة فإن
الاحتمال التجريبي أن تكون السيارات المباعة صغيرة

- أ) $\frac{5}{7}$
ب) $\frac{7}{16}$
ج) $\frac{5}{16}$
د) $\frac{16}{5}$

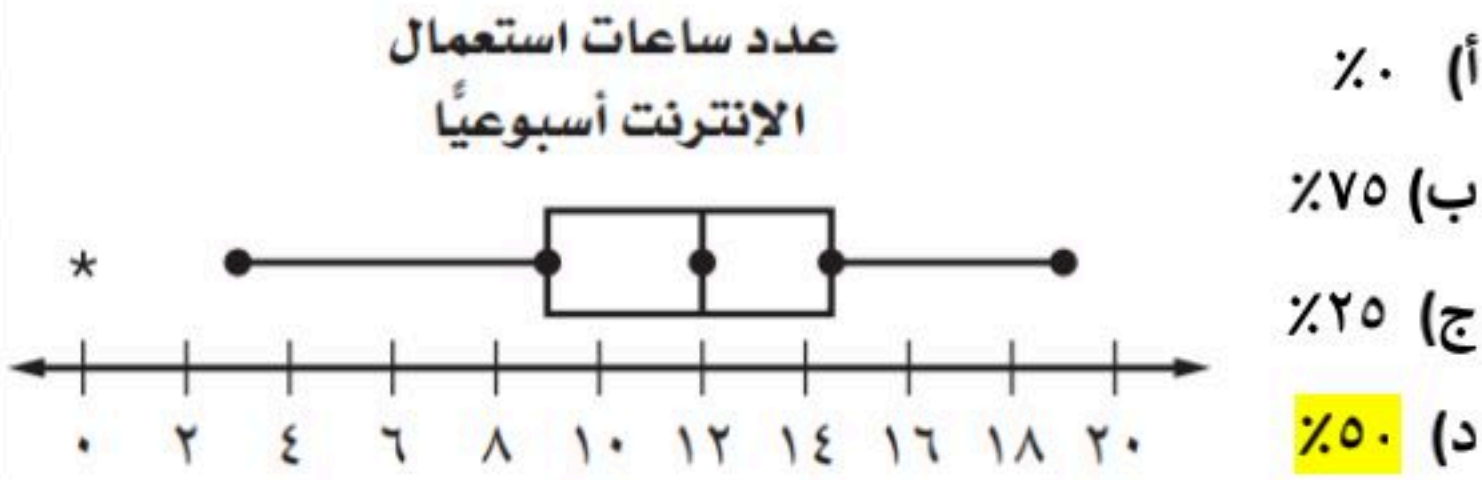
٤٣) ما احتمال أن يكون مجموع العددين ١٢ عند رمي مكعبي أرقام

- أ) $\frac{1}{12}$
ب) $\frac{1}{6}$
ج) $\frac{1}{36}$
د) $\frac{1}{18}$

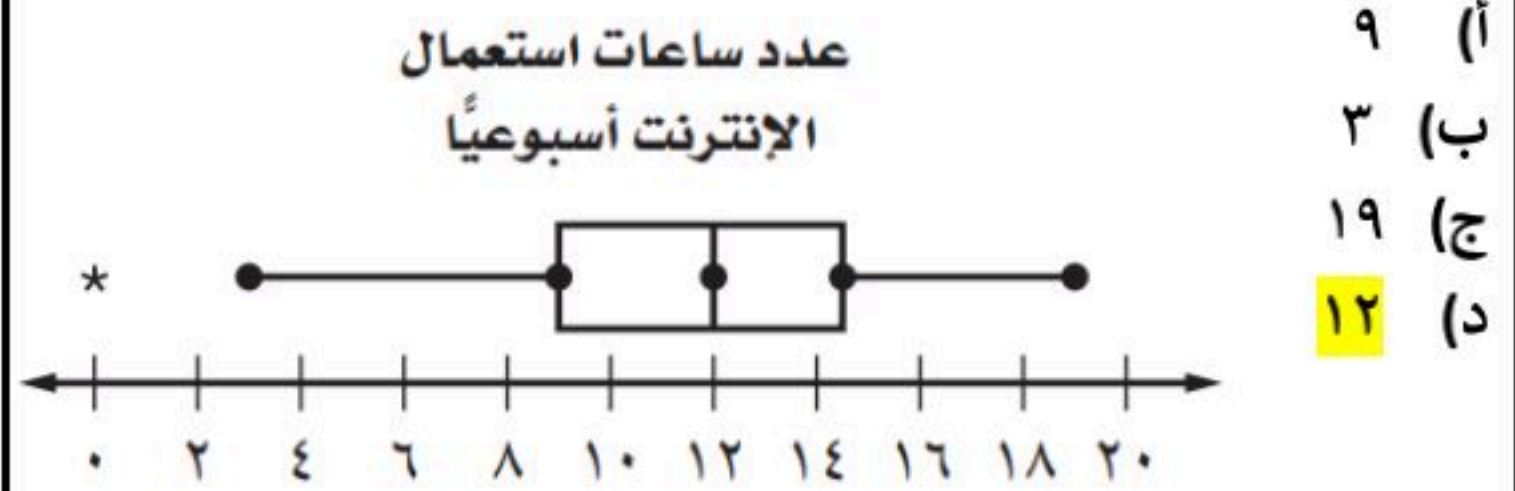
٤٤) يوجد في سلة فواكه ٤ برتقالات و ٧ موزات و ٥ تفاحات
أوجد احتمال اختيار حبة موز ثم حبة برتقال

- أ) $\frac{7}{40}$
ب) $\frac{1}{20}$
ج) $\frac{7}{60}$
د) $\frac{1}{12}$

٤٦) من تمثيل الصندوق و طرفيه كم نسبة استعمال الجوال أكثر من
١٢ ساعة ؟



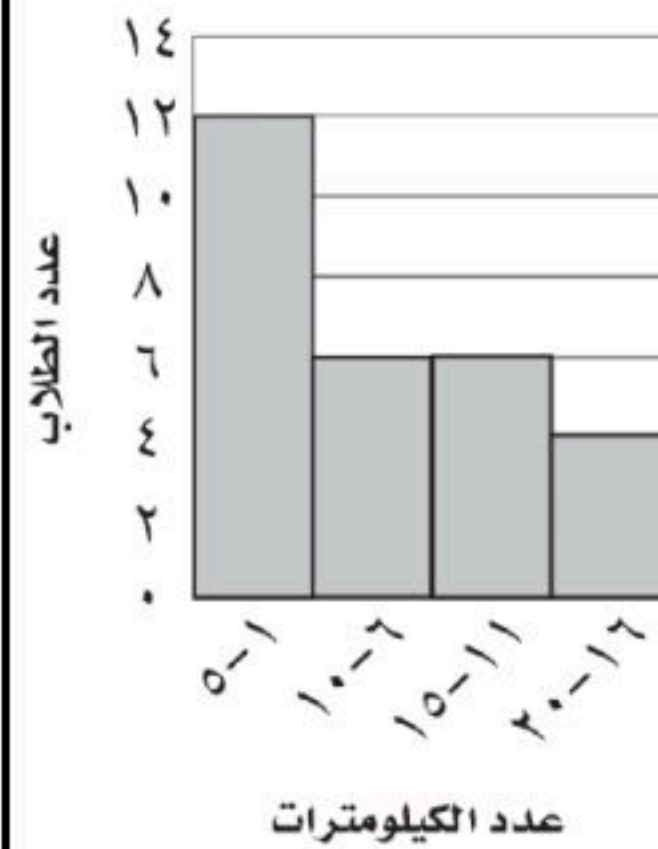
٤٥) من تمثيل الصندوق و طرفيه كم قيمة الوسيط ؟



٤٨) إذا اختير شخص عشوائياً من كل دائرة في شركة لتحديد أولويات
الموظفين فكانت الخدمة الصحية أهم أولويات ٦٧ منهم فاستنتج
المدير أن الخدمة الصحية يجب أن تشمل جميع الموظفين.

- أ) عينة تطوعية
ب) عينة ملائمة
ج) عشوائية منتظمة
د) عشوائية طبقية

المسافات التي يقطعها الطلاب



٤٧) من المدرج التكراري المجاور
ما عدد الطلاب الذين يقطعون
مسافة أكثر من ٥ كم للوصول
إلى مدرستهم.

- أ) ١٠
ب) ١٢
ج) ٤
د) ١٦

السؤال الثاني: ضع علامة (✓) أمام العبارة الصحيحة وعلامة (x) أمام العبارة الخاطئة :

٥ درجات

١.	الانسحاب هو انتقال الشكل من موقع إلى آخر دون تدويره
٢.	أفضل طريقة لتمثيل البيانات المنظمة في فئات التمثيل بالقطاعات الدائرية
٣.	إذا تأثر احدي الحادثتين بناتج الحادثة الأخرى فان الحادثتين تكونان غير مستقلتين
٤.	إذا كانت الزاويتان ك ، م متتامتان و ق Δ ك = ٥٥° فإن ق Δ م = ٤٥°
٥.	تسمى المضلعات التي لها نفس القياس والشكل بالمضلعات المتطابقة

السؤال الثالث:

٥ درجات

(أ) أوجد قيمة س في الأشكال الآتية

(ب) في الشكل Δ س ص ع \cong Δ ل ك م ، أوجد ما يلي :

(أ) ق Δ س =

(ب) $\overline{ص ع}$ =

(أ) ق Δ ع =

(ب) $\overline{س ص}$ =

السؤال الرابع: أوجد مقاييس التشتت للبيانات من الجدول :

٥ درجات

إنتاج المناطق من الحبوب في أحد الأعوام

المنطقة	الإنتاج (لأقرب ألف طن)
الجوف	٤٧٦
القصيم	٤١٨
جازان	٢٢٨
الرياض	١٧٧
تبوك	١١٧

الوسيط =

المدى =

الربيع الأدنى =

الربيع الأعلى =

المدى الربيعي =

انتهت الأسئلة , , أرجو لك التوفيق والنجاح

الدرجة رقما	الدرجة ٤٠	الدرجة كتابة	المصحح	المراجع
			التوقيع	التوقيع

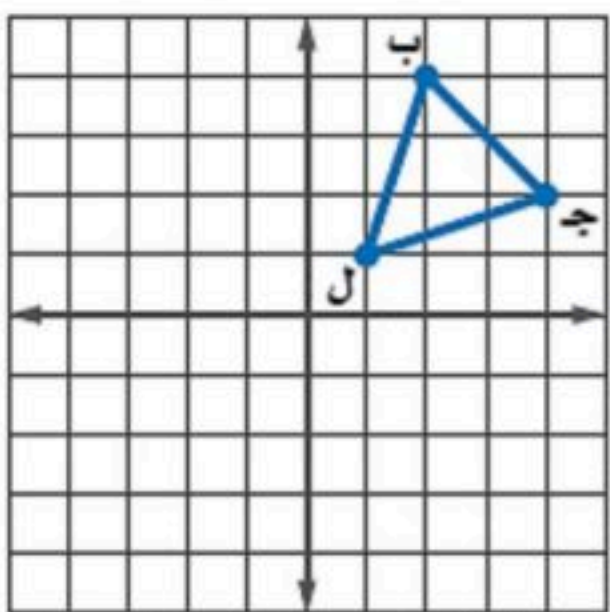
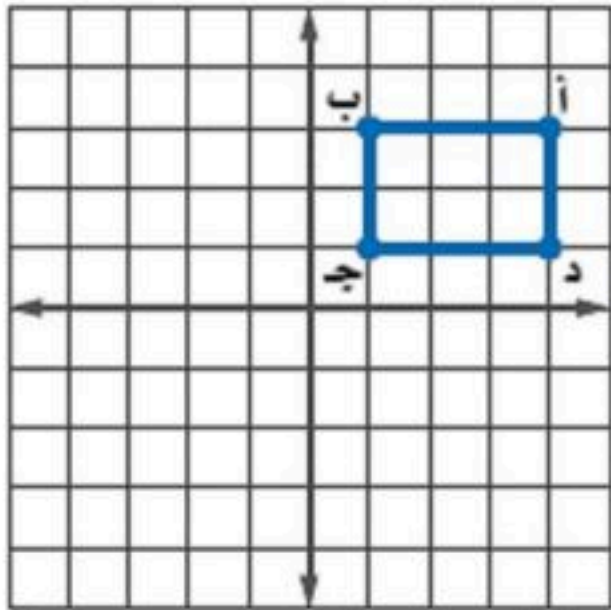
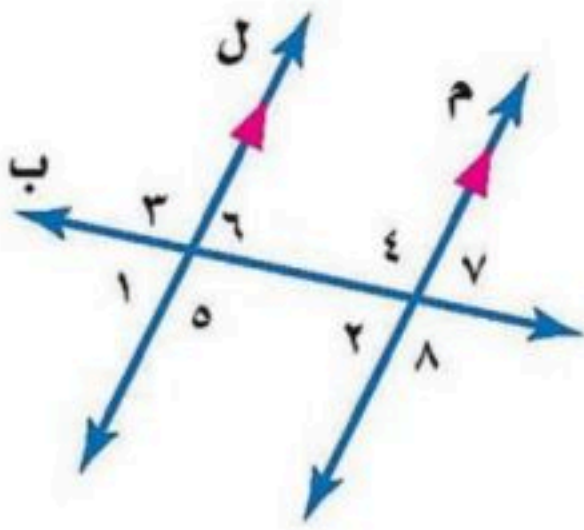
اختبار نهائي الفصل الدراسي الثاني (الدور الأول)

اسم الطالب :	رقم الجلوس :
--------------	--------------

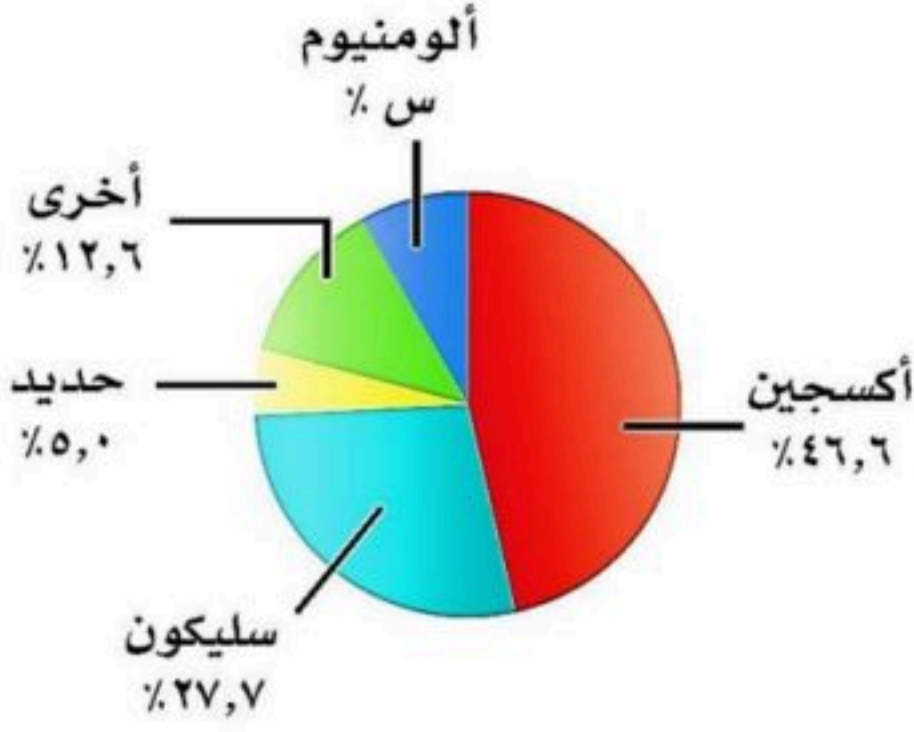
٢٥

س١ / اختر الإجابة الصحيحة لكل فقرة :

- (١) أوجد ٢٥٪ من ١٦٠ :
أ) ٥٠ ب) ٦٠ ج) ٤٠
- (٢) قدر النسبة المئوية للعدد ٧ من ٧٩
أ) ٣٠٪ ب) ٢٠٪ ج) ١٠٪
- (٣) العدد الذي ٧٥٪ منه تساوي ٢١٠
أ) ٣٠٠ ب) ٢٨٠ ج) ٢٩٠
- (٤) التغير المئوي إذا كان الثمن الأصلي ٤٠ ريال و الجديد ٤٨ ريال
أ) ٢٥٪ زيادة مئوية ب) ٢٠٪ زيادة مئوية ج) ٣٠٪ زيادة مئوية
- (٥) إذا كان ثمن القميص ٨٠ ريال و الخصم ٢٥٪ فإن ثمن البيع =
أ) ٥٦ ب) ٦٠ ج) ٦٤
- (٦) العلاقة بين الزاويتان ٣ و ٨
أ) متبادلتان داخليا ب) متبادلتان خارجيا ج) متناظرتان
- (٧) قياس الزاوية الداخلية للمضلع السداسي المنتظم
أ) ١٠٨° ب) ١٢٠° ج) ١٣٥°
- (٨) مجموع قياسات الزوايا الداخلية للمضلع الثماني
أ) ٩٠٠° ب) ٧٢٠° ج) ١٠٨٠°
- (٩) صورة النقطة (١، ٥) بالانعكاس حول محور السينات هي
أ) (١، -٥) ب) (-١، ٥) ج) (-١، -٥)
- (١٠) إذا أجري دوران للمستطيل أ ب ج د بالشكل المجاور بزاوية ١٨٠° حول نقطة الأصل فما إحداثيات ب' ؟
أ) (-٣، ١) ب) (-١، ٣) ج) (-٣، -١)
- (١١) صورة النقطة أ (٣، -٥) هي أ' (-٥، ٣) بدوران مركزه نقطة الأصل وزاويته:
أ) ٩٠° ب) ٢٧٠° ج) ١٨٠°
- (١٢) صورة النقطة (٦، ٨) بعد انسحاب ٧ وحدات لليسا و ٤ وحدات للأسفل
أ) (-٤، ١) ب) (١٥، ١٠) ج) (١، ٢)
- (١٣) للشكل المجاور محور تماثل
أ) رأسي ب) أفقي ج) أكثر من محور
- (١٤) إذا أجري دوران للمثلث ب ج ل بزاوية ٢٧٠° حول نقطة الأصل فما إحداثيات النقطة ج- ؟
أ) (٢، ٤) ب) (-٢، ٤) ج) (-٤، ٢)



العناصر في القشرة الأرضية



١٥) من تمثيل القطاعات الدائرية المجاور أوجد النسبة المئوية للألومنيوم =
 (أ) ١٠,٧ (ب) ٨,١ (ج) ٤,٩

١٦) عدد النواتج الممكنة لرمي قطعة نقد ومكعب أرقام =
 (أ) ١٢ (ب) ٨

١٧) أنسب طريقه لتمثيل توزيع دخل الاسرة على المتطلبات المنزلية
 (أ) الصندوق وطرفيه (ب) القطاعات الدائرية

١٨) مجموعة من الهدايا أسعارها ٢٥ ، ٢٨ ، ٣٢ ، ٣٥ ، ٤٠ ، ٥٠ ، المتوسط الحسابي =
 (أ) ٣٢ (ب) ٣٥ (ج) ٣٨

١٩) يقدم مطعم ٣ أصناف من الطعام بخمسة أنواع من التوابل وقد تكون باللحم او بدونه ، عدد خيارات الطعام الممكنة ؟
 (أ) ٣٠ (ب) ٢٠ (ج) ٤٠

٢٠) من تمثيل الساق والورقة المجاور مدى الدرجات =
 (أ) ٥٠ (ب) ٩٩

٢١) باعت وكالة سيارات ٨٠ سيارة منها ٣٥ سيارة صغيرة فإن الاحتمال التجريبي أن تكون السيارات المباعة صغيرة
 (أ) $\frac{7}{5}$ (ب) $\frac{5}{12}$ (ج) $\frac{7}{16}$

٢٢) من المدرج التكراري عدد الطلاب الذين يقطعون مسافة أكثر من 5 كم للوصول إلى مدرستهم
 (أ) ١٦ (ب) ١٢ (ج) ٤

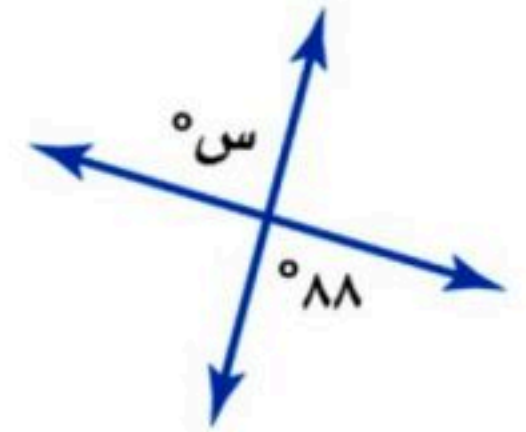
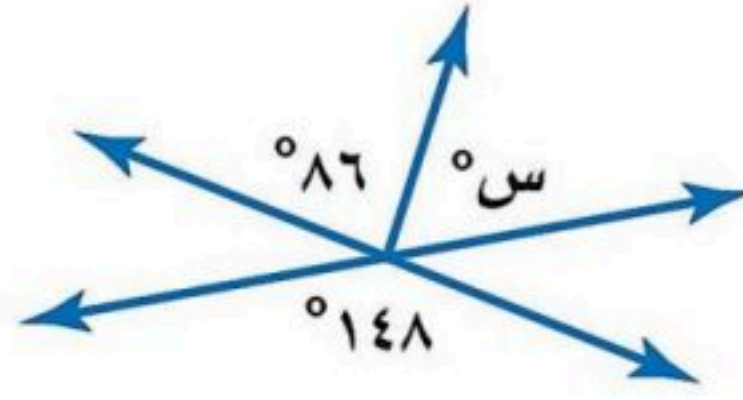
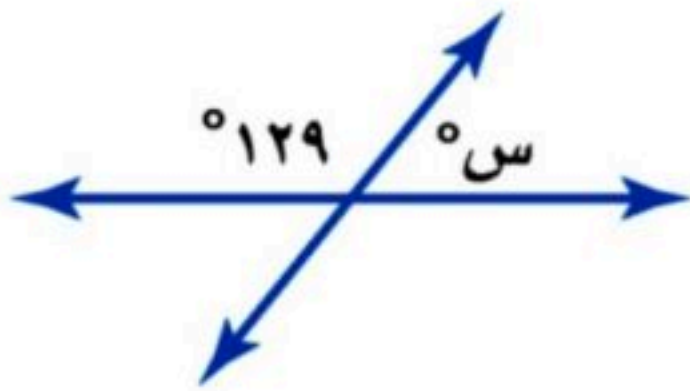

٢٣) ما احتمال أن يكون مجموع العددين ١٢ عند رمي مكعبي أرقام
 (أ) $\frac{1}{18}$ (ب) $\frac{1}{36}$ (ج) $\frac{1}{12}$

٢٤) عند القاء قطعة نقد ورمي مكعب أرقام فأوجد ح (شعار و عدد زوجي) =
 (أ) $\frac{1}{4}$ (ب) $\frac{2}{5}$ (ج) $\frac{1}{6}$

٢٥) حدد نوع العينة (اختير شخص عشوائيا من كل دائرة في شركة لتحديد أولويات الموظفين فكانت الخدمة الصحية أهم أولويات 67 منهم فاستنتج المدير أن الخدمة الصحية يجب أن تشمل جميع الموظفين)

(أ) عشوائية بسيطة (ب) عشوائية طبقية (ج) عشوائية منتظمة

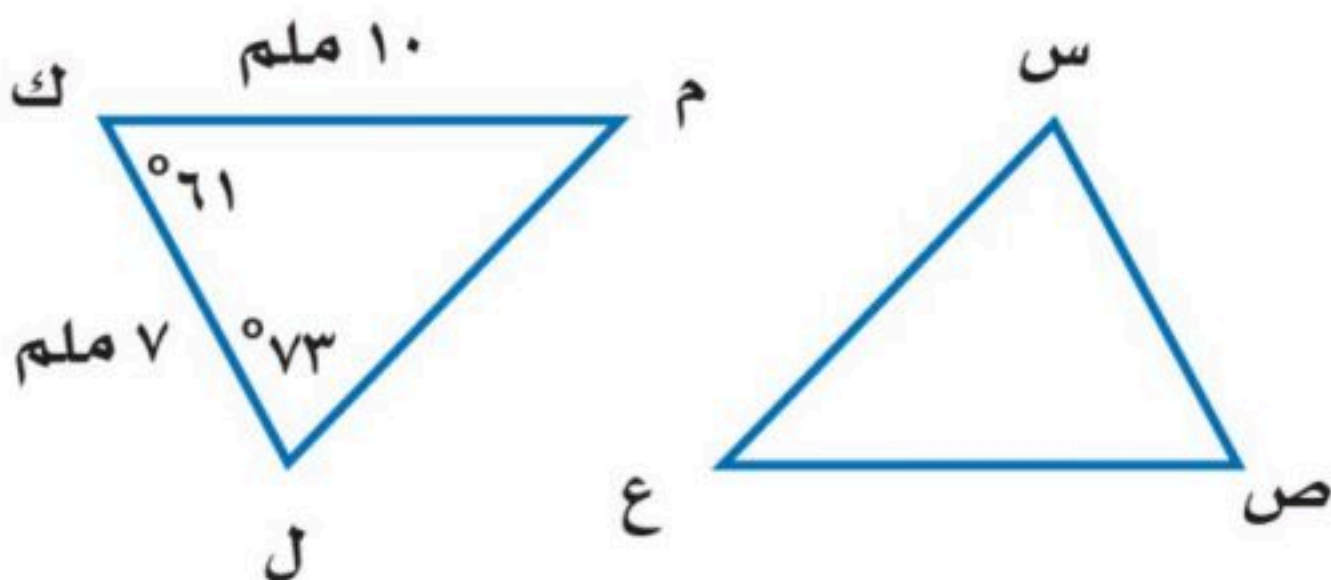
س٢ / أ) أوجد قيمة س في الاشكال التالية :



(ب) في الشكل \triangle س ص ع \cong \triangle ل ك م ، أوجد ما يلي :

(أ) ق \triangle س =

(ب) $\overline{ص ع}$ =



ج) أوجد الوسيط و المدى والرابع الأدنى والرابع الأعلى و المدى الربيعي للبيانات التالية :

١١٧ ، ١٧٧ ، ٢٢٨ ، ٤١٨ ، ٤٧٦

إنتاج المناطق من الحبوب في أحد الأعوام	
المنطقة	الإنتاج (لأقرب ألف طن)
الجوف	٤٧٦
القصيم	٤١٨
جازان	٢٢٨
الرياض	١٧٧
تبوك	١١٧

٨

س٣/ ضع علامة (✓) أمام العبارة الصحيحة وعلامة (x) أمام العبارة الخاطئة :

١	الانسحاب هو انتقال الشكل من موقع إلى آخر دون تدويره
٢	أفضل طريقة لتمثيل درجات الاختبار المنظمة في فئات التمثيل بالقطاعات الدائرية
٣	الزاويتان المتكاملتان هما الزاويتان اللتان مجموع قياسيهما يساوي ١٨٠°
٤	إذا تأثر احدي الحادثتين بناتج الحادثة الأخرى فان الحادثتين تكونان مستقلتين
٥	المضلع المنتظم هو المضلع الذي تتطابق فيه جميع اضلاعه وزواياه المتناظرة
٦	إذا كانت الزاويتان ك ، م متتامتان و ق \sphericalangle ك = ٥٥° فان ق \sphericalangle م = ٤٥°
٧	يستعمل التمثيل بالساق و الورقة خط الأعداد ليبين أنتشار مجموعة من البيانات
٨	تسمى المضلعات التي لها نفس القياس والشكل بالمضلعات المتطابقة

انتهت الأسئلة ،،، أرجو لكم التوفيق والنجاح