

تم تحميل وعرض المادة من


منهجي

mnhaji.com



موقع منهجي منصة تعليمية توفر كل ما يحتاجه المعلم
والطالب من حلول الكتب الدراسية وشرح للدروس
بأسلوب مبسط لكافة المراحل التعليمية وتوزيع
المناهج وتحضير وملخصات ونماذج اختبارات وأوراق
عمل جاهزة للطباعة والتحميل بشكل مجاني

حمل تطبيق منهجي ليصلك كل جديد



المادة: الدراسات الاجتماعية		المملكة العربية السعودية.
الصف: خامس الابتدائي		وزارة التعليم.
التاريخ: / / ١٤٤٥هـ		إدارة تعليم
اليوم:		مكتب تعليم
عدد الصفحات: ٣		مدرسة
اسم الطالب:		رقم الجلوس:

المدققة	المراجعة	المصححة	الدرجة التي حصلت عليها الطالبة		رقم السؤال
			رقمًا	كتابة	
			١٥	فقط لا غير	الأول
			١٥	فقط لا غير	الثاني
			١٠	فقط لا غير	الثالث
				فقط لا غير	الرابع
				فقط لا غير	المجموع

السؤال الأول : أ) ضعي علامة (✓) أمام العبارة الصحيحة و (X) أمام العبارة الخاطئة:

١٥

()	١. الحرات هي سطوح لابية سوداء.
()	٢. رمال الربع الخالي هي أكبر صحراء رملية في وطني.
()	٣. تقدم هيئة الهلال الأحمر السعودي خدمات الاسعاف .
()	٤. الحماية والأمن من وظائف مؤسسات الدولة.
()	٥. هضبة عسير ونجران هي أكبر الهضاب في وطني
()	٦. جبال أجا وسلمى من الجبال المنفردة .
()	٧. يستخرج النفط في الربع الخالي .
()	٨. تعد المنطقة الشرقية من أغنى مناطق وطني بالنفط.
()	٩. من محافظات منطقة المدينة المنورة مدينة ينبع.
()	١٠. من أهمية موقع المملكة العربية السعودية أنه يحوي قبلة المسلمين.
()	١١. جبال الحجاز هي أقل الجبال امتداداً وارتفاعاً.
()	١٢. إيواء المسافرين من خدمات وزارة الموارد البشرية والتنمية الاجتماعية
()	١٣. المدن الطبية هي مستشفيات صغيرة.

(ب) أعطى مثال واحد لكل مما يلي :-

- ١- من أهم الهضاب في وطني
- ٢- من أهم الحرات في وطني

١٥

السؤال الثاني: اختاري الإجابة الصحيحة لكل فقرة من الفقرات التالية:

١	يجري وادي الرمة في منطقة.	جازان	الحدود الشمالية	القصيم
٢	يقع وطني على مسطح مائي هو .	البحر الميت	البحر المتوسط	البحر الأحمر
٣	يقع جبل أحد في :	مكة المكرمة	الرياض	المدينة المنورة
٤	يقع وادي حنيفة في :	القصيم	تبوك	الرياض
٥	منطقة غنية بالمعادن مثل الفوسفات .	الحدود الشمالية	الباحة	جازان
٦	وزارة التعليم هي :	مؤسسة عامة	مؤسسة تجارية	مؤسسة خاصة
٧	جهاز يتولى المحافظة على الأمن وتطبيق الأنظمة :	الشرطة	المديرية العامة للجوازات	المديرية العامة لحرس الحدود
٨	يتكون وطني المملكة العربية السعودية من :	١٣ منطقة	١٥ منطقة	٢٠ منطقة
٩	تقع جبال طويق في منطقة:	نجد	الحجاز	الجنوب
١٠	هي العاصمة ومنطلق توحيد المملكة العربية السعودية منطقة :	الرياض	تبوك	القصيم
١١	يحد وطني المملكة العربية السعودية من جهة الجنوب :	سلطنة عمان واليمن	الإمارات	الكويت والعراق
١٢	من وظائف وزارة الداخلية :	تحقيق الأمن والاستقرار	نقل المرضى	افتتاح المدارس
١٣	منطقة رملية كبيرة على شكل قوس :	رمال الربع الخالي	رمال النفود الكبير	رمال الدهناء
١٤	من أبرز المدن الطبية :	المركز الصحي	المستشفى العام	مدينة الملك سعود الطبية
١٥	مقر منطقة القصيم هي مدينة	جدة	عرعر	بريدة

١٠

السؤال الثالث: أ) أكمل الفراغات الآتية بوضع الكلمات المساعدة في مكانها المناسب :

الخدمات الحكومية	الشعاب المرجانية	وادي العقيق	المرتفعات	المسجد الحرام	ثلثي
------------------	------------------	-------------	-----------	---------------	------

- ١/ تعد الجبال والهضاب من
- ٢/ يوجد في مكة المكرمة
- ٣/ هي كائنات حية تتكون في المياه الضحلة وتحقق التوازن البيئي البحري.
- ٤/ من أشهر أودية المدينة المنورة.
- ٥/ هي الأعمال التي تقوم الدولة من خلال مؤسساتها لمصلحة المجتمع وأفراد داخل الوطن.
- ٦/ تشغل مساحة المملكة العربية السعودية مساحة شبه الجزيرة العربية.

ب): صنفى الجزر الآتية وفق موقعها في الجدول التالي :

جزر فرسان	جزيرة جنا	جزيرة أم القماري	جزيرة كران
-----------	-----------	------------------	------------

البحر الأحمر	الخليج العربي

تمت الأسئلة

والله الموفق ..

نموذج الإجابة

المادة: الدراسات الاجتماعية	المملكة العربية السعودية.
الصف: خامس الابتدائي	وزارة التعليم.
التاريخ: / / ١٤٤٥هـ	إدارة تعليم
اليوم:	مكتب تعليم
عدد الصفحات: ٣	مدرسة
رقم الجلوس:	اسم الطالب:



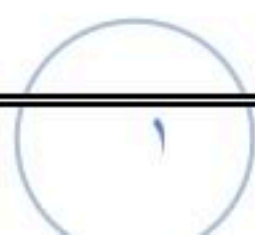
أسئلة الاختبار النهائي (الفصل الدراسي الثاني) للعام الدراسي
١٤٤٥هـ

المدققة	المراجعة	المصححة	الدرجة التي حصلت عليها الطالبة		رقم السؤال
			رقمًا	كتابة	
			١٥	فقط لا غير	الأول
			١٥	فقط لا غير	الثاني
			١٠	فقط لا غير	الثالث
				فقط لا غير	الرابع
				فقط لا غير	المجموع

السؤال الأول : أ) ضعي علامة (✓) أمام العبارة الصحيحة و (X) أمام العبارة الخاطئة:

١٥

(✓)	١. الحرات هي سطوح لابية سوداء.
(✓)	٢. رمال الربع الخالي هي أكبر صحراء رملية في وطني.
(✓)	٣. تقدم هيئة الهلال الأحمر السعودي خدمات الاسعاف .
(✓)	٤. الحماية والأمن من وظائف مؤسسات الدولة.
(X)	٥. هضبة عسير ونجران هي أكبر الهضاب في وطني
(✓)	٦. جبال أجا وسلمى من الجبال المنفردة .
(✓)	٧. يستخرج النفط في الربع الخالي .
(✓)	٨. تعد المنطقة الشرقية من أغنى مناطق وطني بالنفط.
(✓)	٩. من محافظات منطقة المدينة المنورة مدينة ينبع.
(✓)	١٠. من أهمية موقع المملكة العربية السعودية أنه يحوي قبة المسلمين.
(X)	١١. جبال الحجاز هي أقل الجبال امتداداً وارتفاعاً.
(X)	١٢. إيواء المسافرين من خدمات وزارة الموارد البشرية والتنمية الاجتماعية
(X)	١٣. المدن الطبية هي مستشفيات صغيرة.



(ب) أعطى مثال واحد لكل مما يلي :-

- ١- من أهم الهضاب في وطني هضبة الحسمى _ هضبة نجد _ هضبة عسير ونجران _ هضبة الصمان
٢- من أهم الحرات في وطني حرة البرك _ حرة الرخا _ حرة كشب _ حرة خيبر _ حرة رهاط _ حرة واقم

١٥

السؤال الثاني: اختاري الإجابة الصحيحة لكل فقرة من الفقرات التالية:

١	يجري وادي الرمة في منطقة.	جازان	الحدود الشمالية	القصيم
٢	يقع وطني على مسطح مائي هو .	البحر الميت	البحر المتوسط	البحر الأحمر
٣	يقع جبل أحد في :	مكة المكرمة	الرياض	المدينة المنورة
٤	يقع وادي حنيفة في :	القصيم	تبوك	الرياض
٥	منطقة غنية بالمعادن مثل الفوسفات .	الحدود الشمالية	الباحة	جازان
٦	وزارة التعليم هي :	مؤسسة عامة	مؤسسة تجارية	مؤسسة خاصة
٧	جهاز يتولى المحافظة على الأمن وتطبيق الأنظمة :	الشرطة	المديرية العامة للجوازات	المديرية العامة لحرس الحدود
٨	يتكون وطني المملكة العربية السعودية من :	١٣ منطقة	١٥ منطقة	٢٠ منطقة
٩	تقع جبال طويق في منطقة:	نجد	الحجاز	الجنوب
١٠	هي العاصمة و منطلق توحيد المملكة العربية السعودية منطقة :	الرياض	تبوك	القصيم
١١	يحد وطني المملكة العربية السعودية من جهة الجنوب :	سلطنة عمان واليمن	الإمارات	الكويت والعراق
١٢	من وظائف وزارة الداخلية :	تحقيق الأمن والاستقرار	نقل المرضى	افتتاح المدارس
١٣	منطقة رملية كبيرة على شكل قوس :	رمال الربع الخالي	رمال النفود الكبير	رمال الدهناء
١٤	من أبرز المدن الطبية :	المركز الصحي	المستشفى العام	مدينة الملك سعود الطبية
١٥	مقر منطقة القصيم هي مدينة	جدة	عرعر	بريدة

السؤال الثالث: أ) أكمل الفراغات الآتية بوضع الكلمات المساعدة في مكانها المناسب :

الخدمات الحكومية	الشعاب المرجانية	وادي العقيق	المرتفعات	المسجد الحرام	ثلثي
------------------	------------------	-------------	-----------	---------------	------

- ١/ تعد الجبال والهضاب من **المرتفعات**
- ٢/ يوجد في مكة المكرمة **المسجد الحرام**
- ٣/ **الشعاب المرجانية** هي كائنات حية تتكون في المياه الضحلة وتحقق التوازن البيئي البحري.
- ٤/ **وادي العقيق** من أشهر أودية المدينة المنورة.
- ٥/ **الخدمات الحكومية** هي الأعمال التي تقوم الدولة من خلال مؤسساتها لمصلحة المجتمع وأفراد داخل الوطن.
- ٦/ تشغل مساحة المملكة العربية السعودية **ثلثي** مساحة شبه الجزيرة العربية.

ب) : صنفى الجزر الآتية وفق موقعها في الجدول التالي :

جزر فرسان	جزيرة جنا	جزيرة أم القماري	جزيرة كران
-----------	-----------	------------------	------------

البحر الأحمر	الخليج العربي
جزيرة أم القماري	جزيرة جنا
جزر فرسان	جزيرة كران

تمت الأسئلة

والله الموفق ..

بسم الله الرحمن الرحيم

المملكة العربية السعودية		الفصل الدراسي الثاني ١٤٤٥ هـ
وزارة التعليم		المادة: الدراسات الاجتماعية
إدارة تعليم		الصف: الخامس الابتدائي
مدرسة		الزمن : ساعة

اسم الطالب :

رقم الجلوس :

رقما	كتابة	
١٥		السؤال الأول:
١٠		السؤال الثاني:
٩		السؤال الثالث:
٦		السؤال الرابع:
٤٠		المجموع :
	توقيعه	اسم المصحح
	توقيعه	اسم المراجع
	توقيعه	اسم المدقق

إختبار نهاية الفصل الدراسي الثاني (الدور الأول) لعام ١٤٤٥ هـ

السؤال الأول: ضع علامة (√) أمام العبارة الصحيحة وعلامة (X) أمام العبارة الخاطئة:

١٥

١	الحماية والأمن من وظائف مؤسسات الدولة
٢	تقوم وزارة الداخلية بمهام سلامة الحجاج
٣	تقدم الدولة الحماية الاجتماعية للمواطنين والمقيمين
٤	تقدم هيئة الهلال الأحمر السعودي خدمات الإسعاف
٥	جبال أجا وسلمى من الجبال المنفردة
٦	الحرارة هي سطوح لآبيه سوداء
٧	رمال الربع الخالي هي أكبر صحراء رملية في وطني
٨	مكة المكرمة والمدينة المنورة فيهما المسجد الحرام والمسجد النبوي
٩	يحد المملكة العربية السعودية من جهة الغرب : البحر الأحمر
١٠	جبال الحجاز هي أقل الجبال امتدادا وارتفاعا
١١	هضبة عسير هي أكبر هضبة في وطني
١٢	رمال النفود الكبير تمتد على شكل قوس
١٣	لا يعد الربع الخالي موطنًا للحضارات القديمة
١٤	إيواء المسافرين من خدمات وزارة الموارد البشرية والتنمية الاجتماعية
١٥	المدن الطبية هي مستشفيات صغيرة

السؤال الثاني : إختار الإجابة الصحيحة:

١٠

١- يجري وادي الرمة في منطقة :	الباحة	القصيم	تبوك
٢- تقع جزر فرسان في:	البحر المتوسط	البحر الأحمر	الخليج العربي
٣- هناك نوعان رئيسان للمؤسسات هما مؤسسات :	إنتاج واستهلاك	عامه وخاصة	بيع وشراء
٤- يقع جبل أحد في :	الدمام	المدينة المنورة	مكة المكرمة
٥- يقع وادي حنيفة في:	سكاكا	الرياض	نجران
٦- تقع في الجزء الغربي من السعودية ومن خصائصها جمال طبيعتها وإعتدال مناخها :	الباحة	الخفجي	رابغ
٧- يتكون وطني المملكة العربية السعودية من :	١٣ منطقة	٣٣ منطقة	٥٠ منطقة
٨- تقع وسط المملكة العربية السعودية وهي العاصمة:	الرياض	حفر الباطن	شرورة

٩- من أبرز السدود في وطني :

سد وادي نجران	سد النهضة	السد العالي
١٠- تحيط بوطني المملكة العربية السعودية حدود مشتركة مع دول عربية ومنها دولة :	الصين	الجزائر

السؤال الثالث: ضع الكلمات التالية في الفراغات المناسبة :

الخليج العربي - المرتفعات - البحر الأحمر - ثلثي - المنخفضات - بيشة - أمير - الصمان - غرب

١	تعد الجبال والهضاب من
٢	تعد الأودية من
٣	تشغل مساحة المملكة العربية السعودية مساحة شبة الجزيرة العربية
٤	يطل وطني على مسطحين مائين هما و
٥	تنتشر الحرات في المملكة العربية السعودية
٦	هضبة هي هضبة صخرية تقع شرق المملكة العربية السعودية
٧	من أشهر الأودية في وطني وادي
٨	يرأس كل منطقة إدارية المنطقة

السؤال الرابع : اختر من المجموعة (أ) مايناسبها في المجموعة (ب) مستعينا " بالأرقام"

المجموعة (أ)	الارقام	المجموعة (ب)
١ من المؤسسات الحكومية		منطقة حائل
٢ شركة سيارات		الجنوب الغربي لقارة آسيا
٣ من مهام وزارة الداخلية		هي الأرض المرتفعة والمسوحة
٤ تشتهر بجبلي أجا وسلمي		تحقيق الأمن
٥ تقع المملكة العربية السعودية في		مؤسسة خاصة
٦ الهضاب		وزارة التعليم

نموذج الإجابة

بسم الله الرحمن الرحيم

المملكة العربية السعودية		الفصل الدراسي الثاني ١٤٤٥ هـ
وزارة التعليم		المادة: الدراسات الاجتماعية
إدارة تعليم		الصف: الخامس الابتدائي
مدرسة		الزمن : ساعة

اسم الطالب :

رقم الجلوس :

رقما	كتابة	
١٥		السؤال الأول:
١٠		السؤال الثاني:
٩		السؤال الثالث:
٦		السؤال الرابع:
٤٠		المجموع :
	توقيعه	اسم المصحح
	توقيعه	اسم المراجع
	توقيعه	اسم المدقق

إختبار نهاية الفصل الدراسي الثاني (الدور الأول) لعام ١٤٤٥ هـ

السؤال الأول: ضع علامة (√) أمام العبارة الصحيحة وعلامة (X) أمام العبارة الخاطئة:

١٥	
√	١ الحماية والأمن من وظائف مؤسسات الدولة
√	٢ تقوم وزارة الداخلية بمهام سلامة الحجاج
√	٣ تقدم الدولة الحماية الاجتماعية للمواطنين والمقيمين
√	٤ تقدم هيئة الهلال الأحمر السعودي خدمات الاسعاف
√	٥ جبلا أجا وسلمى من الجبال المنفردة
√	٦ الحرات هي سطوح لآبيه سوداء
√	٧ رمال الربع الخالي هي أكبر صحراء رملية في وطني
√	٨ مكة المكرمة والمدينة المنورة فيهما المسجد الحرام والمسجد النبوي
√	٩ يحد المملكة العربية السعودية من جهة الغرب : البحر الأحمر
X	١٠ جبال الحجاز هي أقل الجبال امتدادا وارتفاعا
X	١١ هضبة عسير هي أكبر هضبة في وطني
X	١٢ رمال النفود الكبير تمتد على شكل قوس
X	١٣ لا يعد الربع الخالي موطننا للحضارات القديمة
X	١٤ إيواء المسافرين من خدمات وزارة الموارد البشرية والتنمية الاجتماعية
X	١٥ المدن الطبية هي مستشفيات صغيرة

السؤال الثاني : إختار الإجابة الصحيحة:

١٠	
١- يجري وادي الرمة في منطقة :	
الباحة	القصيم
٢- تقع جزر فرسان في:	
البحر المتوسط	البحر الأحمر
٣- هناك نوعان رئيسان للمؤسسات هما مؤسسات :	
إنتاج واستهلاك	عامه وخاصة
٤- يقع جبل أحد في :	
الدمام	المدينة المنورة
٥- يقع وادي حنيفة في:	
سكاكا	الرياض
٦- تقع في الجزء الغربي من السعودية ومن خصائصها جمال طبيعتها وإعتدال مناخها :	
الباحة	الخفجي
٧- يتكون وطني المملكة العربية السعودية من :	
١٣ منطقة	٣٣ منطقة
٨- تقع وسط المملكة العربية السعودية وهي العاصمة:	
الرياض	حفر الباطن
	شرورة

٩- من أبرز السدود في وطني :

سد وادي نجران سد النهضة السد العالي

١٠- تحيط بوطني المملكة العربية السعودية حدود مشتركة مع دول عربية ومنها دولة :

الكويت الصين الجزائر

السؤال الثالث: ضع الكلمات التالية في الفراغات المناسبة :

٩

الخليج العربي - المرتفعات - البحر الأحمر - ثلثي - المنخفضات - بيشة - أمير - الصمان - غرب

١ تعد الجبال والهضاب من **المرتفعات**

٢ تعد الأودية من **المنخفضات**

٣ تشغل مساحة المملكة العربية السعودية **ثلثي** مساحة شبه الجزيرة العربية

٤ يطل وطني على مسطحين مائين هما **البحر الأحمر** و **الخليج العربي**

٥ تنتشر الحرات في **غرب** المملكة العربية السعودية

٦ هضبة **الصمان** هي هضبة صخرية تقع شرق المملكة العربية السعودية

٧ من أشهر الأودية في وطني وادي **بيشة**

٨ يرأس كل منطقة إدارية **أمير** المنطقة

السؤال الرابع : اختر من المجموعة (أ) مايناسبها في المجموعة (ب) مستعينا " بالأرقام"

٦

المجموعة (أ)	الارقام	المجموعة (ب)
١ من المؤسسات الحكومية	٤	منطقة حائل
٢ شركة سيارات	٥	الجنوب الغربي لقارة آسيا
٣ من مهام وزارة الداخلية	٦	هي الأرض المرتفعة والمسوحة
٤ تشتهر بجبلي أجا وسلمي	٣	تحقيق الأمن
٥ تقع المملكة العربية السعودية في	٢	مؤسسة خاصة
٦ الهضاب	١	وزارة التعليم

الدرجة	اجتماعيات	المادة:	 وزارة التعليم Ministry of Education
	الخامس	الصف:	
٤٠	ساعة	الزمن	
أسئلة الاختبار لمادة الاجتماعيات الدور الأول الفصل الدراسي الثاني للعام الدراسي ١٤٤٥ هـ			
اسم الطالب: المصحح:			

١٠

السؤال الأول: ضع علامة (✓) نهاية العبارات الصحيحة وعلامة (x) نهاية العبارات الخاطئة:

- ١- من إنجازات وطني : استخراج النفط في الربع الخالي من حقل شيبية. ()
- ٢- رمال الربع الخالي هي أكبر صحراء رملية في العالم. ()
- ٣- تعد المنطقة الشرقية من أغنى مناطق وطني بالنفط. ()
- ٤- من أهمية موقع المملكة العربية السعودية أنه يحوي قبلة المسلمين. ()
- ٥- صحراء الربع الخالي موطناً للحضارات القديمة والمعادن النفيسة. ()
- ٦- جبال أجا وسلمى من الجبال المنفردة. ()
- ٧- تقع جزر فرسان في الخليج العربي. ()
- ٨- المدن الطبية هي مستشفيات صغيرة. ()
- ٩- تقع المملكة العربية السعودية في قارة افريقيا. ()
- ١٠- جبال الحجاز هي أقل الجبال امتداداً وارتفاعاً. ()

١٠

السؤال الثاني – اختر من العمود الأول ما يناسب العبارات في العمود الثاني :-

العمود الثاني	العمود الأول
البحر الأحمر	١- هي مناطق شديدة الارتفاع ذات قمة
وادي الرمة	٢- منطقة رملية على شكل مثلث
هضبة نجد	٣- أكبر الهضاب في المملكة العربية السعودية
رمال النفود	٤- من أطول الأودية في وطني
جبال	٥- يحد وطني المملكة العربية السعودية من جهة الغرب

السؤال الثالث : اختر الإجابة الصحيحة فيما يأتي :-

١- وزارة التعليم هي :

- أ- مؤسسة خاصة ب - مؤسسة عامة ج- مؤسسة تجارية

٢- منطقة رملية كبيرة على شكل قوس :

- أ- رمال النفود ب- رمال الدهناء ج- رمال الربع الخالي

٣ - مقر منطقة القصيم هي مدينة :

- أ- عرعر ب- بريدة ج- جدة

٤- يقع جبل أحد في

- أ - الرياض ب- تبوك ج - المدينة المنورة

٥- تتولى تنظيم السير وسلامة السائقين والركاب داخل المدن :

- أ- المديرية العامة لحرس الحدود ب- الأحوال المدنية ج- الإدارة العامة للمرور

٦- يتكون وطني المملكة العربية السعودية من

- أ- ١٣ منطقة ب - ١٥ منطقة ج- ٢٠ منطقة

٧- مساحة وطني المملكة العربية السعودية :

- أ- ٢ مليون كم^٢ ب - ٤ مليون كم^٢ ج- ٦ مليون كم^٢

٨- هي سطوح لابية سوداء نتجت عن تدفقات بركانية قديمة

- أ- الأنهار ب - الحرات ج- الأودية

٩- تقع الدرعية على ضفاف وادي

- أ- العقيق ب - الدواسر ج- حنيفة

١٠- منطقة تضم المقدسات الاسلامية و هي مهبط الوحي

- أ- الشرقية ب- جازان ج- مكة المكرمة

السؤال الرابع : املأ الفراغات بالكلمات المناسبة من القائمة التالية :-

الخدمات الحكومية - الشرطة - جبال طويق - الهضاب - منطقة عسير

الخدمات الحكومية - الشرطة - جبال طويق - الهضاب - منطقة عسير	
١..... تعد من المناطق السياحية في المملكة.	١
٢..... هي الأرض المرتفعة والمسطحة.	٢
٣.....تسمى بجبال العارض أو اليمامة.	٣
٤.....تتولى المحافظة على الأمن و تطبيق الأنظمة.	٤
٥.....هي الأعمال التي تقوم بها الدولة من خلال مؤسساتها لمصلحة المجتمع.	٥

المذيق	المراجع	المصحح	الدرجة		السؤال	المادة	الصف	الزمن	التاريخ	اسم الطالب	رقم الجلوس
			رقماً	كتابةً							
					اختبار الفصل الدراسي الثاني الدور الاول العام الدراسي 1445 هـ	دراسات اجتماعية	خامس ابتدائي	ساعة ونصف			
					المجموع						

السؤال الأول:

أ/ ضع علامة √ أمام العبارة الصحيحة وعلامة X أمام العبارة الخاطئة:

15

1	جبال اجاء وسلمى من الجبال المنفردة
2	الحرث هي سطوح لابيها سواد
3	رمال الربع الخالي هي أكبر صحراء رملية في وطني
4	اغنى مناطق المملكة بالنفط هي المنطقة الشرقية
5	يحد المملكة العربية السعودية من جهة الغرب البحر الأحمر
6	مكة المكرمة والمدينة المنورة فيهما المسجد الحرام والمسجد النبوي
7	تقع جبال طويق في منطقة نجد وتسمى العارض أو اليمامة
8	يحد وطني المملكة العربية السعودية من الشرق الخليج العربي
9	تتبع جزيرتي ثيران وصنافير للمملكة العربية السعودية
10	الشعب المرجانية هي كائنات حية تتكون في المياه الضحلة
11	تقع المملكة العربية السعودية في قارة اسيا
12	يقع وادي السرحان في شمال المملكة
13	تعتبر الأجهزة الأمنية من الخدمات الحكومية
14	لا يعد وطني المملكة موطناً للحضارات القديمة
15	رمال النفود الكبير تمتد على شكل قوس

ب/ أملأ الفراغات بما يناسبها من خلال الكلمات المساعدة:

الهضاب	عمان واليمن	نجد	الرمة	المسجد الحرام
--------	-------------	-----	-------	---------------

10

1. هي أرض مرتفعة و مسطحة
2. يحد وطني المملكة العربية السعودية من الجنوب
3. هضبة تمتد وسط المملكة العربية السعودية وهي أكبر الهضاب
4. أطول وادي في وطني هو وادي
5. يقع في مكة المكرمة .

السؤال الثاني : أ/ اختر الإجابة الصحيحة:

11

١- منطقة غنية بالفوسفات والمعادن:		
الحدود الشمالية	القصيم	عسير
٢- منطقة رملية على شكل مثلث وتغطي أجزاء كبيرة من نجد :		
الربع الخالي	النفود الكبير	نجد
٣- تبلغ مساحة المملكة العربية السعودية حوالي :		
4.000.000 كم ^٢	2.000.000 كم ^٢	5.000.000 كم ^٢
٤- من المسطحات المائية التي يطل عليها وطني :		
البحر الميت	الخليج العربي	نهر النيل
٥- العاصمة ومنطلق توحيد المملكة العربية السعودية		
تبوك	حائل	الرياض
٦- يجري وادي الرمة في منطقة :		
الجوف	الحدود الشمالية	القصيم
٧- تقع جزر فرسان بالقرب من مدينة		
جازان	الظهران	مكة المكرمة
٨- يقع جبل أحد في		
الرياض	المدينة المنورة	جدة
٩- من ابرز المدن الطبية :		
مدينة الملك سعود	المركز الصحي	المستشفى العام
١٠- تقع جزيرة کران في :		
البحر المتوسط	البحر الأحمر	الخليج العربي
١١- تشغل مساحة المملكة العربية السعودية مساحة شبه الجزيرة العربية :		
ربعي	ثلثي	نصفي

ب/ عدد اربعة من اهم مناطق المملكة الادارية؟

- 1
- 2
- 3
- 4

4

انتهت الأسئلة

مع تمنياتي لكم بالتوفيق

المذيق	المراجع	المصحح	الدرجة		السؤال	المادة	الصف	الزمن
			رقماً	كتابةً				
						دراسات اجتماعية	خامس ابتدائي	ساعة ونصف
					اختبار الفصل الدراسي الثاني الدور الأول العام الدراسي 1445 هـ			
					المجموع			

نموذج الإجابة

	السؤال الأول:
15	أ/ ضع علامة √ أمام العبارة الصحيحة وعلامة X أمام العبارة الخاطئة:

1	جبل اجاء وسلمى من الجبال المنفردة	صح
2	الحرار هي سطوح لابيہ سوداء	صح
3	رمال الربع الخالي هي أكبر صحراء رملية في وطني	صح
4	اغنى مناطق المملكة بالنفط هي المنطقة الشرقية	صح
5	يحد المملكة العربية السعودية من جهة الغرب البحر الأحمر	صح
6	مكة المكرمة والمدينة المنورة فيهما المسجد الحرام والمسجد النبوي	صح
7	تقع جبال طويق في منطقة نجد وتسمى العارض أو اليمامة	صح
8	يحد وطني المملكة العربية السعودية من الشرق الخليج العربي	صح
9	تتبع جزيرتي ثيران وصنافير للمملكة العربية السعودية	صح
10	الشعب المرجانية هي كائنات حية تتكون في المياه الضحلة	صح
11	تقع المملكة العربية السعودية في قارة اسيا	صح
12	يقع وادي السرحان في شمال المملكة	صح
13	تعتبر الأجهزة الأمنية من الخدمات الحكومية	صح
14	لا يعد وطني المملكة موطناً للحضارات القديمة	خطأ
15	رمال النفود الكبير تمتد على شكل قوس	خطأ

ب/ أملأ الفراغات بما يناسبها من خلال الكلمات المساعدة:

الهضاب	عمان واليمن	نجد	الرمة	المسجد الحرام
--------	-------------	-----	-------	---------------

1. هي أرض مرتفعة و مسطحةالهضاب.....
2. يحد وطني المملكة العربية السعودية من الجنوب عمان واليمن.....
3. هضبةنجد..... تمتد وسط المملكة العربية السعودية وهي أكبر الهضاب
4. أطول وادي في وطني هو وادي الرمه.....
5. يقعالمسجد الحرام. في مكة المكرمة .

السؤال الثاني : أ/ اختر الإجابة الصحيحة:

11

١- منطقة غنية بالفوسفات والمعادن:		
الحدود الشمالية	القصيم	عسير
٢- منطقة رملية على شكل مثلث وتغطي أجزاء كبيرة من نجد :		
الربع الخالي	النفود الكبير	نجد
٣- تبلغ مساحة المملكة العربية السعودية حوالي :		
4.000.000 كم ^٢	2.000.000 كم ^٢	5.000.000 كم ^٢
٤- من المسطحات المائية التي يطل عليها وطني :		
البحر الميت	الخليج العربي	نهر النيل
٥- العاصمة ومنطلق توحيد المملكة العربية السعودية		
تبوك	حائل	الرياض
٦- يجري وادي الرمة في منطقة :		
الجوف	الحدود الشمالية	القصيم
٧- تقع جزر فرسان بالقرب من مدينة		
جازان	الظهران	مكة المكرمة
٨- يقع جبل أحد في		
الرياض	المدينة المنورة	جدة
٩- من ابرز المدن الطبية :		
مدينة الملك سعود	المركز الصحي	المستشفى العام
١٠- تقع جزيرة کران في :		
البحر المتوسط	البحر الأحمر	الخليج العربي
١١- تشغل مساحة المملكة العربية السعودية مساحة شبه الجزيرة العربية :		
ربعي	ثلثي	نصفي

ب/ عدد اربعة من اهم مناطق المملكة الادارية؟

- 1- منطقة مكة المكرمة
- 2- منطقة القصيم
- 3- منطقة الجوف
- 4- المنطقة الشرقية

4

انتهت الأسئلة

مع تمنياتي لكم بالتوفيق

المصحح : التوقيع:
المراجع : التوقيع:
الدرجة كتابية: درجة

اسم الطالب : رقم الجلوس ()

السؤال الأول / اختر الإجابات الصحيحة فيما يلي بوضع دائرة حولها:

١	من أمثلة الجبال المنفردة	أ	جبل أحد	ب	جبال طويق	ج	جبال الحجاز
٢	منطقة رملية على شكل مثلث وتغطي أجزاء كبيرة من نجد	أ	النفود الكبير	ب	الدهناء	ج	الربع الخالي
٣	من المسطحات المائية التي تطل على وطني	أ	الخليج العربي	ب	البحر المتوسط	ج	نهر النيل
٤	من أهم الأودية في وطني وادي	أ	العقيق	ب	جنا	ج	فرسان
٥	عاصمة المملكة العربية السعودية هي :	أ	الرياض	ب	مكة المكرمة	ج	المدينة المنورة
٦	منطقة فيها المسجد النبوي ومسجد قباء	أ	المدينة المنورة	ب	مكة المكرمة	ج	القصيم
٧	يقع جبلي آجا وسلمى في مدينة	أ	حائل	ب	الجوف	ج	الحدود الشمالية
٨	رمال على شكل قوس	أ	الدهناء	ب	الربع الخالي	ج	نجد
٩	تبلغ مساحة المملكة العربية السعودية حوالي	أ	١٠٠٠,٠٠٠ كم ^٢	ب	٢٠٠٠,٠٠٠ كم ^٢	ج	٣٠٠٠,٠٠٠ كم ^٢
١٠	من أهم الجزر في وطني جزيرة	أ	حسمى	ب	بيشة	ج	فرسان

السؤال الثاني /

أ - أذكر اثنان من أهمية موقع المملكة العربية السعودية :

١ -
٢ -

ب - اذكر اثنان من أجهزة وزارة الداخلية

١ -
٢ -

السؤال الثالث/ ضع علامة (√) أمام العبارات الصحيحة وعلامة (x) أمام العبارات غير الصحيحة:

١٠

١.	يحد وطني المملكة العربية السعودية من الغرب البحر الأحمر	()
٢.	من مهام وزارة التعليم افتتاح المدارس	()
٣.	يتكون وطني من ١٣ منطقة ادارية	()
٤.	تقع جبال طويق في نجد وتسمى العارض أو اليمامة	()
٥.	تشتهر القصيم بزراعة البرتقال والتفاح	()
٦.	تقدم الدولة الحماية الاجتماعية للمواطنين والمقيمين	()
٧.	صحراء الربع الخالي موطناً للحضارات القديمة	()
٨.	الحرث هي سطوح لابية سوداء نتجت عن تدفقات بركانية قديمة	()
٩.	وزارة الدفاع تتولى انشاء المستشفيات ومراكز الرعاية الصحية الأولية	()
١٠.	تقع المملكة العربية السعودية في قارة أفريقيا	()

السؤال الرابع / ضع الكلمات الموجودة في الجدول التالي في الفراغ المناسب:

٦

نجد	الرمة	عمان واليمن	الهضاب	مستشفى حكومي	الحجاز
١.	أطول وادي في وطني هو وادي				
٢.	هي أرض مرتفعة ومسطحة				
٣.	تمتد وسط المملكة العربية السعودية وهي أكبر الهضاب				
٤.	أكثر الجبال امتداداً وارتفاعاً هي جبال				
٥.	من المؤسسات العامة				
٦.	يحد وطني المملكة العربية السعودية من جهة الجنوب				

----- انتهت الأسئلة -----

المصحح: التوفيق: الدرجة كتابية: درجة

نموذج الإجابة

اسم الطالب: رقم الجلوس ()

السؤال الأول / اختر الإجابات الصحيحة فيما يلي بوضع دائرة حولها:

٢٠

١	من أمثلة الجبال المنفردة	أ	جبل أحد	ب	جبال طويق	ج	جبال الحجاز
٢	منطقة رملية على شكل مثلث وتغطي أجزاء كبيرة من نجد	أ	النفود الكبير	ب	الدهناء	ج	الربع الخالي
٣	من المسطحات المائية التي تطل على وطني	أ	الخليج العربي	ب	البحر المتوسط	ج	نهر النيل
٤	من أهم الأودية في وطني وادي	أ	العقيق	ب	جنا	ج	فرسان
٥	عاصمة المملكة العربية السعودية هي:	أ	الرياض	ب	مكة المكرمة	ج	المدينة المنورة
٦	منطقة فيها المسجد النبوي ومسجد قباء	أ	المدينة المنورة	ب	مكة المكرمة	ج	القصيم
٧	يقع جبلي آجا وسلمى في مدينة	أ	حائل	ب	الجوف	ج	الحدود الشمالية
٨	رمال على شكل قوس	أ	الدهناء	ب	الربع الخالي	ج	نجد
٩	تبلغ مساحة المملكة العربية السعودية حوالي	أ	١٠٠٠,٠٠٠ كم ^٢	ب	٢٠٠٠,٠٠٠ كم ^٢	ج	٣٠٠٠,٠٠٠ كم ^٢
١٠	من أهم الجزر في وطني جزيرة	أ	حسمى	ب	بيشة	ج	فرسان

السؤال الثاني /

٤

أ - أذكر اثنان من أهمية موقع المملكة العربية السعودية :

١ - يحوي قبلة المسلمين , يربط بين قارات متعددة ٢ - يتوسط دول العالم

ب - اذكر اثنان من أجهزة وزارة الداخلية

١ - الشرطة , امن الطرق , المرور , مكافحة المخدرات ٢ - الدفاع المدني , حرس الحدود , الجوازات , السجون

السؤال الثالث/ ضع علامة (√) أمام العبارات الصحيحة وعلامة (x) أمام العبارات غير الصحيحة:

١٠

١.	يحد وطني المملكة العربية السعودية من الغرب البحر الأحمر	(صح)
٢.	من مهام وزارة التعليم افتتاح المدارس	(صح)
٣.	يتكون وطني من ١٣ منطقة ادارية	(صح)
٤.	تقع جبال طويق في نجد وتسمى العارض أو اليمامة	(صح)
٥.	تشتهر القصيم بزراعة البرتقال والتفاح	(خطأ)
٦.	تقدم الدولة الحماية الاجتماعية للمواطنين والمقيمين	(صح)
٧.	صحراء الربع الخالي موطناً للحضارات القديمة	(صح)
٨.	الحرث هي سطوح لابية سوداء نتجت عن تدفقات بركانية قديمة	(صح)
٩.	وزارة الدفاع تتولى انشاء المستشفيات ومراكز الرعاية الصحية الأولية	(خطأ)
١٠.	تقع المملكة العربية السعودية في قارة أفريقيا	(خطأ)

السؤال الرابع / ضع الكلمات الموجودة في الجدول التالي في الفراغ المناسب:

٦

الحجاز	مستشفى حكومي	الهضاب	عمان واليمن	الرمة	نجد
					١. أطول وادي في وطني هو وادي الرمه
					٢. هي أرض مرتفعة ومسطحة الهضاب .
					٣. تمتد وسط المملكة العربية السعودية وهي أكبر الهضاب نجد .
					٤. أكثر الجبال امتداداً وارتفاعاً هي جبال الحجاز .
					٥. من المؤسسات العامه مستشفى حكومي .
					٦. يحد وطني المملكة العربية السعودية من جهة الجنوب عمان واليمن .

----- انتهت الأسئلة -----

١	يحد وطني المملكة العربية السعودية من الغرب:	أ	البحر الأحمر	ب	الكويت	ج	سلطنة عمان	د	العراق
٢	سطوح لابية سواء نتجت عن تدفقات بركانية قديمة:	أ	الهضاب	ب	الجبال	ج	الحرث	د	السهول
٣	تتكون المملكة العربية السعودية من منطقة إدارية:	أ	٢٠	ب	١٧	ج	١٩	د	١٣
٤	تمتاز بوفرة مياهها وعذوبتها، وإمارتها هي مدينة سكاكا:	أ	منطقة الجوف	ب	منطقة الباحة	ج	منطقة نجران	د	منطقة جازان
٥	تقع في منطقة نجد وتسمى أيضاً جبال العارض أو اليمامة:	أ	جبال منفردة	ب	جبال النور	ج	جبال طويق	د	جبال الحجاز
٦	منطقة رملية كبيرة على شكل قوس:	أ	الربع الخالي	ب	الدهناء	ج	النفود الكبير	د	العرقانة
٧	تقع في البحر الأحمر جنوب جزيرة القنفذة وتبعد عنها نحو ١٩ كم:	أ	جزيرة جنا	ب	جزيرة فرسان	ج	جزيرة أم القمارى	د	جزيرة کران
٨	تمتاز بثرواتها الزراعية ومن أشهر محصولاتها الزراعية التمور:	أ	المنطقة الشرقية	ب	منطقة عسير	ج	منطقة تبوك	د	منطقة القصيم
٩	من المؤسسات الخاصة:	أ	سوق تجاري	ب	هيئة حكومية	ج	وزارة	د	برنامج حكومي
١٠	عند حدوث حريق - لا سمح الله - نتصل بالرقم:	أ	٩٩٩	ب	٩٩٧	ج	٩٩٨	د	٩٩٦
١١	تقدم هيئة الهلال الأحمر السعودي خدمات منها:	أ	مكافحة التسول	ب	نقل المرضى والمصابين	ج	إصدار بطاقة الهوية	د	المحافظة على الأمن
١٢	مقر الإمارة لمنطقة الحدود الشمالية:	أ	مدينة أبها	ب	مدينة حائل	ج	مدينة جازان	د	مدينة عرعر

(ب) ضعي المصطلح المناسب ممايلي:

(الجمال - الهضاب - الخدمات الحكومية - الشعب المرجانية - النفود الكبير - مؤسسات الدولة - مراكز صحية أولية - اللابة)

١	كائنات حية تتكون في المياه الضحلة.	()
٢	هي الأجهزة الحكومية المكلفة بمهام لخدمة الوطن والمواطن.	()
٣	مراكز صحية تنشأ في الأحياء لتقدم الخدمات الصحية والوقائية في مستوى عام.	()
٤	مناطق شديدة الإرتفاع ذات القمم العالية.	()
٥	سائلة منصهرة تحولت إلى حجارة سوداء على سطح الأرض.	()
٦	منطقة رملية على شكل مثلث وتغطي أجزاء كبيرة من نجد وتمتد شمالاً.	()
٧	هي الأعمال التي تقوم بها الدولة من خلال مؤسساتها لمصلحة المجتمع وأفراده.	()
٨	الأرض المرتفعة والمسطحة.	()

السؤال الثاني/

(أ) صلي العمود أ بما يناسبه من العمود ب:

١٢

العمود ب	الرقم
رمال الربع الخالي
منطقة مكة المكرمة
عسير ونجران
سد الملك فهد
منطقة عسير

العمود أ	
مقر إمارتها مدينة أبها	١
أكبر الصحاري الرملية	٢
أبرز السدود في وطني	٣
مهبط الوحي وتضم المقدسات الإسلامية	٤
أبرز الهضاب	٥

(ب) ضعي علامة ✓ أمام العبارة الصحيحة، وعلامة ✗ أمام العبارة الخاطئة ممايلي:

١	الشعب المرجانية تعمل على اختلال التوازن البيئي البحري.	()
٢	تقع جزيرة جنا في الخليج العربي شرق المملكة العربية السعودية.	()
٣	تقع منطقة الرياض في وسط المملكة العربية السعودية.	()
٤	وادي حنيفة هو أطول وادٍ في وطني.	()
٥	منطقة حائل تشتهر بجبلي أجا وسلمي.	()
٦	المستشفيات الكبيرة لعلاج المرضى تسمى بالمدن الطبية.	()
٧	من أغنى مناطق المملكة العربية السعودية بالنفط هي منطقة الرياض.	()

يتبع

صفحة (٢)

السؤال الثالث/

(أ) عددي اثنين لما يلي :

- أهمية موقع وطني المملكة العربية السعودية؟

/١

/٢

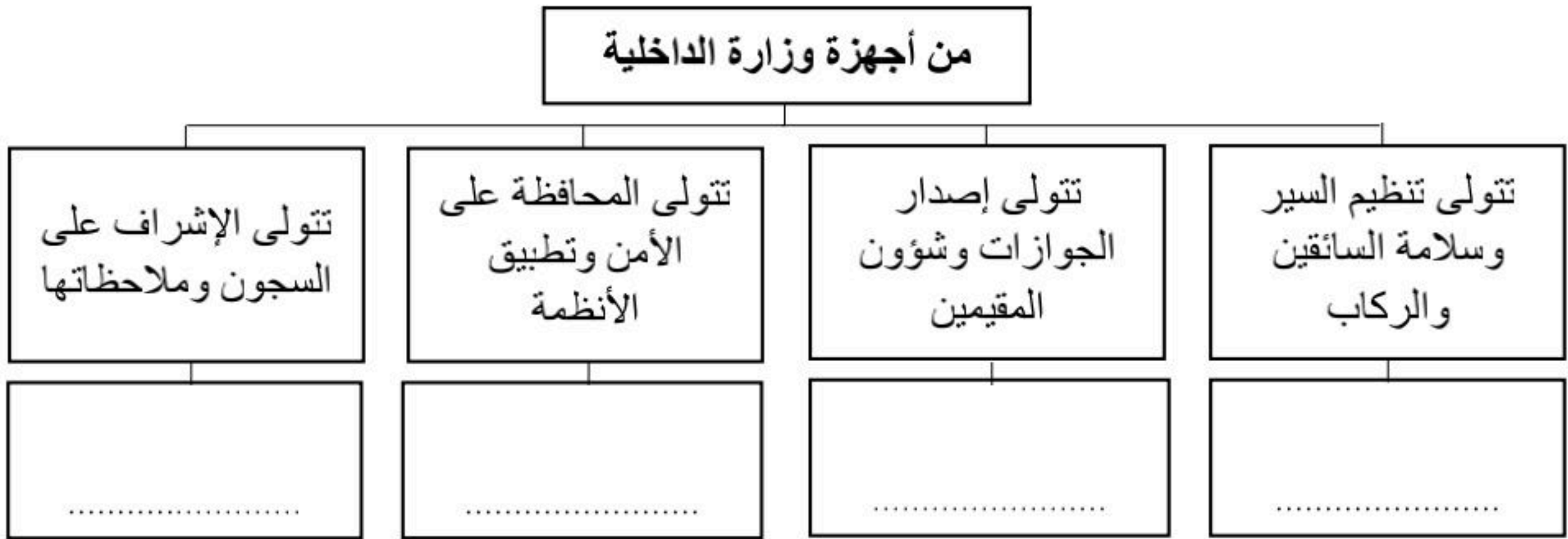
- من وظائف مؤسسات الدولة؟

/١

/٢

(ب) أكمل الخريطة المفهومية التالية:

(الشرطة - الإدارة العامة للمرور - المديرية العامة للسجون - المديرية العامة للجوازات)



انتهت الأسئلة

مع تمنياتي لكن بالتوفيق والنجاح

نموذج الإجابة

السؤال الأول/

(أ) اختاري الإجابة الصحيحة مما يلي:

٢٠

١	يحد وطني المملكة العربية السعودية من الغرب:	أ	البحر الأحمر ✓	ب	الكويت	ج	سلطنة عمان	د	العراق
٢	سطوح لابية سواء نتجت عن تدفقات بركانية قديمة:	أ	الهضاب	ب	الجبال	ج	الحرث ✓	د	السهول
٣	تتكون المملكة العربية السعودية من منطقة إدارية:	أ	٢٠	ب	١٧	ج	١٩	د	١٣ ✓
٤	تمتاز بوفرة مياهها وعذوبتها، وإمارتها هي مدينة سكاكا:	أ	منطقة الجوف ✓	ب	منطقة الباحة	ج	منطقة نجران	د	منطقة جازان
٥	تقع في منطقة نجد وتسمى أيضاً جبال العارض أو اليمامة:	أ	جبال منفردة	ب	جبال النور	ج	جبال طويق ✓	د	جبال الحجاز
٦	منطقة رملية كبيرة على شكل قوس:	أ	الربع الخالي	ب	الدهناء ✓	ج	النفود الكبير	د	العرقانة
٧	تقع في البحر الأحمر جنوب جزيرة القنفذة وتبعد عنها نحو ١٩ كم:	أ	جزيرة جنا	ب	جزيرة فرسان	ج	جزيرة أم القماري ✓	د	جزيرة کران
٨	تمتاز بثرواتها الزراعية ومن أشهر محصولاتها الزراعية التمور:	أ	المنطقة الشرقية	ب	منطقة عسير	ج	منطقة تبوك	د	منطقة القصيم ✓
٩	من المؤسسات الخاصة:	أ	سوق تجاري ✓	ب	هيئة حكومية	ج	وزارة	د	برنامج حكومي
١٠	عند حدوث حريق - لا سمح الله - نتصل بالرقم:	أ	٩٩٩	ب	٩٩٧	ج	٩٩٨ ✓	د	٩٩٦
١١	تقدم هيئة الهلال الأحمر السعودي خدمات منها:	أ	مكافحة التسول	ب	نقل المرضى والمصابين ✓	ج	إصدار بطاقة الهوية	د	المحافظة على الأمن
١٢	مقر الإمارة لمنطقة الحدود الشمالية:	أ	مدينة أبها	ب	مدينة حائل	ج	مدينة جازان	د	مدينة عرعر ✓

يتبع ←

صفحة (١)

(ب) ضعي المصطلح المناسب ممايلي:

(الجبال - الهضاب - الخدمات الحكومية - الشعب المرجانية - النفود الكبير - مؤسسات الدولة - مراكز صحية أولية - اللابة)

الشعب المرجانية	كائنات حية تتكون في المياه الضحلة.	١
مؤسسات الدولة	هي الأجهزة الحكومية المكلفة بمهام لخدمة الوطن والمواطن.	٢
مراكز صحية أولية	مراكز صحية تنشأ في الأحياء لتقدم الخدمات الصحية والوقائية في مستوى عام.	٣
الجبال	مناطق شديدة الإرتفاع ذات القمم العالية.	٤
اللابة	سائلة منصهرة تحولت إلى حجارة سوداء على سطح الأرض.	٥
النفود الكبير	منطقة رملية على شكل مثلث وتغطي أجزاء كبيرة من نجد وتمتد شمالاً.	٦
الخدمات الحكومية	هي الأعمال التي تقوم بها الدولة من خلال مؤسساتها لمصلحة المجتمع وأفراده.	٧
الهضاب	الأرض المرتفعة والمسطحة.	٨

السؤال الثاني/

(أ) صلي العمود أ بما يناسبه من العمود ب:

العمود ب	الرقم
رمال الربع الخالي	٢
منطقة مكة المكرمة	٤
عسير ونجران	٥
سد الملك فهد	٣
منطقة عسير	١

العمود أ	
مقر إمارتها مدينة أبها	١
أكبر الصحاري الرملية	٢
أبرز السدود في وطني	٣
مهبط الوحي وتضم المقدسات الإسلامية	٤
أبرز الهضاب	٥

(ب) ضعي علامة ✓ أمام العبارة الصحيحة، وعلامة ✗ أمام العبارة الخاطئة ممايلي:

(✗)	الشعب المرجانية تعمل على <u>اختلال</u> التوازن البيئي البحري. تحقيق	١
(✓)	تقع جزيرة جنا في الخليج العربي شرق المملكة العربية السعودية.	٢
(✓)	تقع منطقة الرياض في وسط المملكة العربية السعودية.	٣
(✗)	وادي <u>حنيفة</u> هو أطول وادٍ في وطني. الرمة	٤
(✓)	منطقة حائل تشتهر بجبلي أجا وسلمي.	٥
(✓)	المستشفيات الكبيرة لعلاج المرضى تسمى بالمدن الطبية.	٦
(✗)	من أغنى مناطق المملكة العربية السعودية بالنفط هي منطقة <u>الرياض</u> . الشرقية	٧

السؤال الثالث/

(أ) عددي اثنين لما يلي :

- أهمية موقع وطني المملكة العربية السعودية؟

١/ يحوي الموقع قبلة المسلمين - يتوسط الموقع دول العالم

٢/ يربط الموقع بين قارات متعددة

- من وظائف مؤسسات الدولة؟

١/ الحماية والأمن - تطوير الاقتصاد - تنمية المجتمع - تنظيم العمل

٢/ توفير خدمات عامة - تنظيم أنشطة الترفيه والرياضة - تشييد الطرق - توفير الإسكان

(ب) أكمل الخريطة المفهومية التالية:

(الشرطة - الإدارة العامة للمرور - المديرية العامة للسجون - المديرية العامة للجوازات)



انتهت الأسئلة

مع تمنياتي لكن بالتوفيق والنجاح

اختبار مادة الدراسات الاجتماعية للصف الخامس الابتدائي لعام ١٤٤٥ هـ

اسم الطالبة :

رقم السؤال	الدرجة كتابة	الدرجة رقماً	المصححة	المراجعة
السؤال الأول 12				
السؤال الثاني 12				
السؤال الثالث 6				
السؤال الرابع 6				
السؤال الخامس 4				
الدرجة النهائية	رقماً	كتابة		
40				

ضعي علامة (√) امام الإجابات الصحيحة وعلامة (x) امام الإجابة الخاطئة :

1. تقع المملكة العربية السعودية في الجنوب الغربي لقارة اسيا. ()
2. يحد وطني المملكة العربية السعودية من الجنوب الكويت والعراق. ()
3. الحرات هي سطوح لابيها سوداء. ()
4. أكبر صحراء رملية في وطني هي صحراء الربع الخالي. ()
5. تمتاز منطقة عسير بجمال الجو واعتداله. ()
6. يوجد جبلي آجا وسلمى في منطقة حائل. ()
7. مقر منطقة المدينة المنورة ينبع . ()
8. عرف الانسان الخرائط قبل معرفة الكتابة. ()
9. الخرائط الرقمية لا يمكن التحكم بها لصعوبة استخدامها. ()
10. توزيع السكان في العالم ليس منظماً (غير متساوي) . ()
11. ترتفع الكثافة السكانية في صحراء الربع الخالي. ()
12. من الموارد الطبيعية المتجددة الحديد والنفط. ()

اختاري الإجابات الصحيحة فيما يلي:

1	منطلق توحيد المملكة العربية السعودية هي :	المدينة المنورة	الرياض	الطائف
2	يقع جبل أحد في منطقة :	مكة المكرمة	الرياض	المدينة المنورة
3	أطول وادٍ في المملكة العربية السعودية هو :	وادي الدواسر	وادي تثليث	وادي الرمه
4	هي مناطق شديدة الارتفاع وذات قمم عالية :	السهول	الجبال	الهضاب
5	تبلغ مساحة وطني المملكة العربية السعودية حوالي :	2.000.000 كم ²	5.000.000 كم ²	7.000.000 كم ²
6	يحد وطني المملكة العربية السعودية من الغرب :	البحر الأحمر	مصر	العراق
7	أكثر الجبال امتداداً وارتفاعاً :	طويق	الحجاز	الجبال المنفردة

8	هي ارض مرتفعة ومسطحة :	السهول	الهضاب	الحرار
9	منطقة رملية في وطني على شكل قوس :	الربع الخالي	الدهناء	النفوذ
10	تزداد الكثافة السكانية في المناطق :	المعتدلة	الحارة	الباردة
11	من العوامل البشرية المؤثرة في توزيع السكان :	النشاط الاقتصادي	المناخ	التضاريس
12	توجد المقدسات الإسلامية (منى - عرفات) في منطقة :	القصيم	نجران	مكة المكرمة

السؤال الثالث :

6

أكمل الفراغات بالإجابات الصحيحة فيما يلي :

1. هي رسم توضيحي لسطح الأرض وجزء منه
2. اكبر الهضاب في المملكة العربية السعودية
3. من الجبال المنفردة جبل
4. يتكون وطني المملكة العربية السعودية من منطقة.
5. تقع منطقة الرياض في المملكة العربية السعودية .
6. يتركز أكثر السكان في قارة لأنها اكبر القارات .

السؤال الرابع :

6

صلي عبارات المجموعة (أ) بما يناسبها في المجموعة (ب) باستعمال الأرقام :

أ	ب
1 تشتهر القصيم بزراعة	<input type="checkbox"/> الكترونية
2 من العوامل الطبقيّة المؤثرة في توزيع السكان	<input type="checkbox"/> النفوذ الكبير
3 الخريطة الرقمية هي خريطة	<input type="checkbox"/> البحر الأحمر
4 موارد طبيعية متجددة	<input type="checkbox"/> التمور
5 تقع جرز فرسان في	<input type="checkbox"/> التضاريس والمناخ
6 منطقة رملية على شكل مثلث	<input type="checkbox"/> الشمس والرياح

السؤال الخامس :

أجيبني على ما هو مطلوب منك :

1/ أذكرني اقسام المياه ومثلي لكل منهم :

1-..... مثل :

2-..... مثل :

2/ أذكرني اثنان من أنواع النشاط الاقتصادي :

1-.....

2-.....

3/ اذكرني اثنان من أهم جزر المملكة العربية السعودية :

1-.....

2-.....

4/ اذكرني اثنان من مناطق المملكة العربية السعودية :

1-.....

2-.....

تمت الأسئلة

والله الموفق ...