

تم تحميل وعرض المادة من

منهجي

mnhaji.com



موقع منهجي منصة تعليمية توفر كل ما يحتاجه المعلم
والطالب من حلول الكتب الدراسية وشرح للدروس
بأسلوب مبسط لكافة المراحل التعليمية وتوزيع
المناهج وتحضير وملخصات ونماذج اختبارات وأوراق
عمل جاهزة للطباعة والتحميل بشكل مجاني

حمل تطبيق منهجي ليصلك كل جديد



أوراق عمل

مادة

الدراسات الاجتماعية

الصف الرابع الابتدائي

الفصل الدراسي الثاني

أبنائي الطلاب : أسأل الله لكم دوام النجاح والتفوق



بسم الله الرحمن الرحيم

ورقة عمل درس (مفهوم الاقتصاد)

اسم الطالب : الصف : رابع /

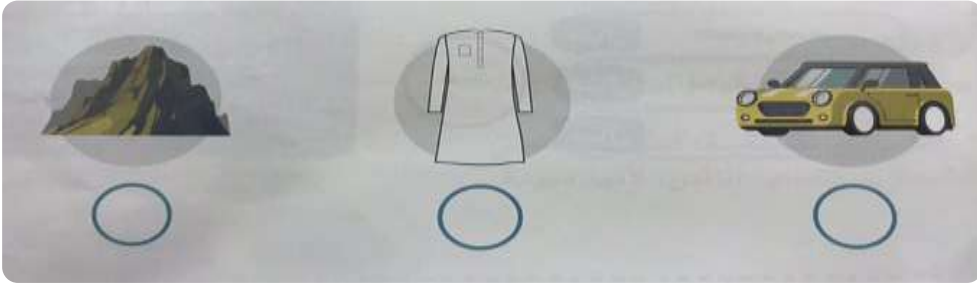
س / ضع علامة (√) أمام العبارة الصحيحة وعلامة (×) أمام العبارة الخاطئة فيما يلي :

١ - النشاط الاقتصادي هو انتاج السلع والخدمات وتوزيعها وتبادلها واستهلاكها

٢ - السلع هي كل ما يصنع وينتج مما يحتاج إليه الإنسان ، ويستهلكه في حياته

٣ - الانتاج هو تحويل المواد الخام إلى منتجات وتوفير الخدمات التي يحتاج إليها الانسان

س / حدد السلعة في الأشكال الآتية :



بسم الله الرحمن الرحيم

ورقة عمل درس (مفهوم الاقتصاد)

اسم الطالب : الصف : رابع /

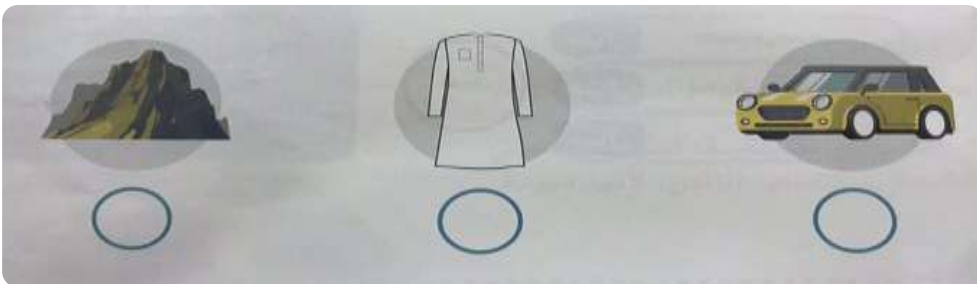
س / ضع علامة (√) أمام العبارة الصحيحة وعلامة (×) أمام العبارة الخاطئة فيما يلي :

١ - النشاط الاقتصادي هو انتاج السلع والخدمات وتوزيعها وتبادلها واستهلاكها

٢ - السلع هي كل ما يصنع وينتج مما يحتاج إليه الإنسان ، ويستهلكه في حياته

٣ - الانتاج هو تحويل المواد الخام إلى منتجات وتوفير الخدمات التي يحتاج إليها الانسان

س / حدد السلعة في الأشكال الآتية :





بسم الله الرحمن الرحيم

ورقة عمل درس (الموارد والاستهلاك)

اسم الطالب : الصف : رابع /

س / ضع علامة (√) أمام العبارة الصحيحة وعلامة (×) أمام العبارة الخاطئة فيما يلي :

- ١- الموارد هي الأشياء التي يعتمد عليها الاقتصاد
- ٢- الادخار تخصيص جزء من المال وحفظه للمستقبل
- ٣- الترشيد هو استعمال الموارد والأموال استعمالاً معتدلاً

س / حدد نوع الموارد التالية :

- ١ موارد طبيعية
- ٢ موارد بشرية
- ٣ رأس مال
- ٣ شاحنة
- ٢ معلمة
- ١ طبيب
- ١ نخلة
- ١ مصنع
- ١ الشمس

س / ميِّز بين المنتج والمستهلك من خلال الصورتين التاليتين :



بسم الله الرحمن الرحيم

ورقة عمل درس (الموارد والاستهلاك)

اسم الطالب : الصف : رابع /

س / ضع علامة (√) أمام العبارة الصحيحة وعلامة (×) أمام العبارة الخاطئة فيما يلي :

- ١- الموارد هي الأشياء التي يعتمد عليها الاقتصاد
- ٢- الادخار تخصيص جزء من المال وحفظه للمستقبل
- ٣- الترشيد هو استعمال الموارد والأموال استعمالاً معتدلاً

س / حدد نوع الموارد التالية :

- ١ موارد طبيعية
- ٢ موارد بشرية
- ٣ رأس مال
- ٣ شاحنة
- ٢ معلمة
- ١ طبيب
- ١ نخلة
- ١ مصنع
- ١ الشمس

س / ميِّز بين المنتج والمستهلك من خلال الصورتين التاليتين :





بسم الله الرحمن الرحيم
ورقة عمل درس (التبادل التجاري)

اسم الطالب : الصف : رابع /

س / ضع علامة (√) أمام العبارة الصحيحة وعلامة (×) أمام العبارة الخاطئة فيما يلي :

- ١ - التبادل التجاري : هو تداول السلع والخدمات بين الناس
- ٢ - كان الناس قديماً يشترون ويبيعون بالمقايضة
- ٣ - أشتري الذي صنع في وطني دعماً لاقتصاده

س / اذكر اثنين من فوائد التبادل التجاري :

- ١ -
- ٢ -



بسم الله الرحمن الرحيم
ورقة عمل درس (التبادل التجاري)

اسم الطالب : الصف : رابع /

س / ضع علامة (√) أمام العبارة الصحيحة وعلامة (×) أمام العبارة الخاطئة فيما يلي :

- ١ - التبادل التجاري : هو تداول السلع والخدمات بين الناس
- ٢ - كان الناس قديماً يشترون ويبيعون بالمقايضة
- ٣ - أشتري الذي صنع في وطني دعماً لاقتصاده

س / اذكر اثنين من فوائد التبادل التجاري :

- ١ -
- ٢ -



بسم الله الرحمن الرحيم

ورقة عمل درس (الأرض)

اسم الطالب : الصف : رابع /

س / ما المقصود بالأرض ؟

ج /



س / ما شكل الأرض ؟

ج /

س / هل التقطت صورة الكرة الأرضية في الشكل التالي من مكان

مرتفع من الأرض أو من الفضاء ؟

ج /



بسم الله الرحمن الرحيم

ورقة عمل درس (الأرض)

اسم الطالب : الصف : رابع /

س / ما المقصود بالأرض ؟

ج /



س / ما شكل الأرض ؟

ج /

س / هل التقطت صورة الكرة الأرضية في الشكل التالي من مكان

مرتفع من الأرض أو من الفضاء ؟

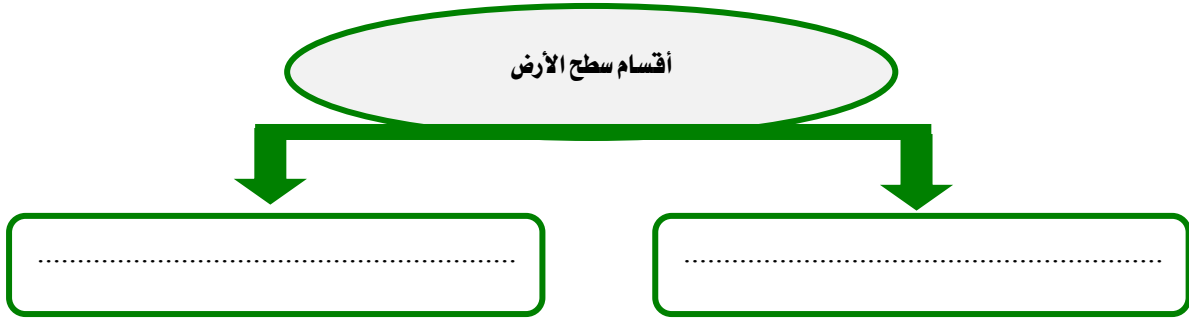
ج /



بسم الله الرحمن الرحيم
ورقة عمل درس (أشكال سطح الأرض)

اسم الطالب : الصف : رابع /

س / ينقسم سطح الأرض إلى قسمين ، أذكرهما ؟



س / أكمل الفراغات التالية بما يناسب :

أ - من أشكال اليابسة على سطح الأرض :

الجبال و و و

ب - من أشكال الماء على سطح الأرض :

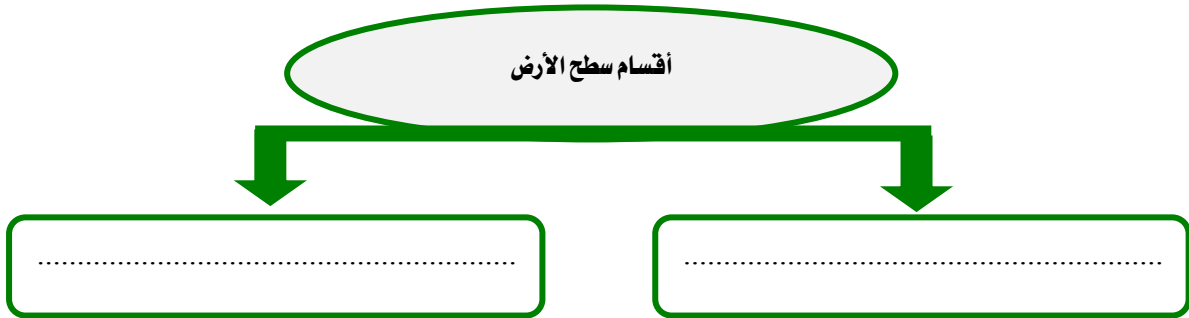
المحيطات و و



بسم الله الرحمن الرحيم
ورقة عمل درس (أشكال سطح الأرض)

اسم الطالب : الصف : رابع /

س / ينقسم سطح الأرض إلى قسمين ، أذكرهما ؟



س / أكمل الفراغات التالية بما يناسب :

أ - من أشكال اليابسة على سطح الأرض :

الجبال و و و

ب - من أشكال الماء على سطح الأرض :

المحيطات و و



بسم الله الرحمن الرحيم
ورقة عمل درس (دوران الأرض)

اسم الطالب : الصف : رابع /

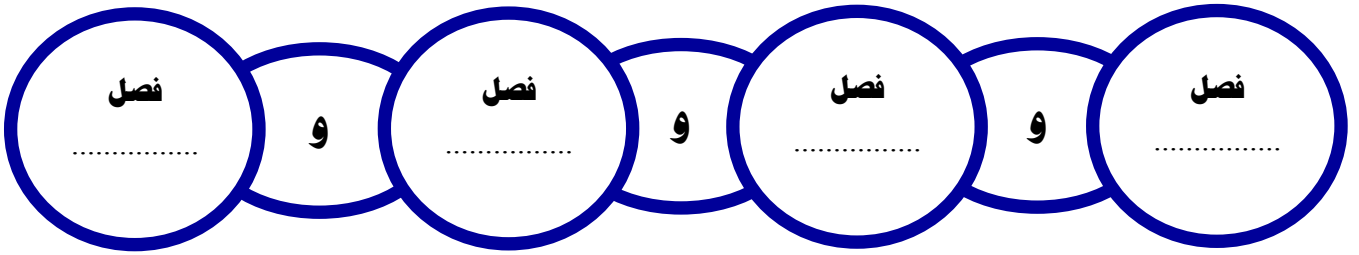
س / أكمل الفراغات التالية بما يناسب :

للأرض حركتان :

• الأولى : وينتج عنها تعاقب و

• الثانية : وتنتج عنها

س / اكتب في الشكل الآتي الفصول الأربعة :



بسم الله الرحمن الرحيم
ورقة عمل درس (دوران الأرض)

اسم الطالب : الصف : رابع /

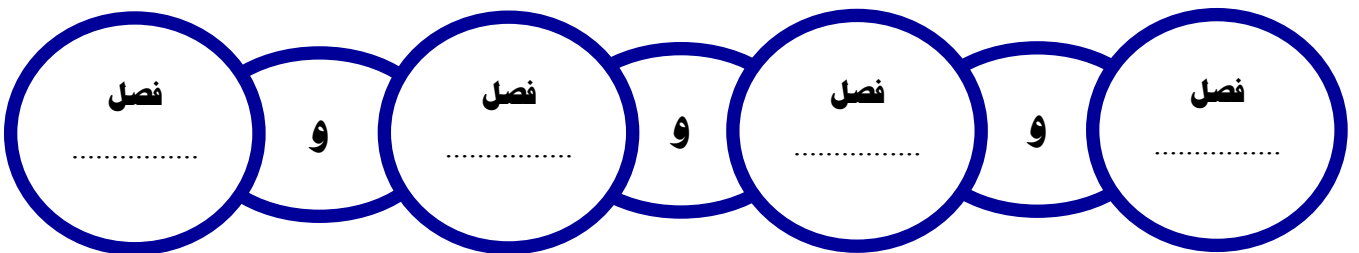
س / أكمل الفراغات التالية بما يناسب :

للأرض حركتان :

• الأولى : وينتج عنها تعاقب و

• الثانية : وتنتج عنها

س / اكتب في الشكل الآتي الفصول الأربعة :





بسم الله الرحمن الرحيم

ورقة عمل درس (دوران القمر حول الأرض)

اسم الطالب : الصف : رابع /

س / ما المقصود بالقمر ؟

ج /

س / أكمل الفراغات التالية بما يناسب :

- أ - نحن نرى الجزء فقط من القمر .
- ب - نسمي القمر المكتمل
- ج - عندما يبدأ الشهر فإننا نرى

س / ضع علامة (\checkmark) أمام العبارة الصحيحة وعلامة (\times) أمام العبارة الخاطئة فيما يلي :

- ١ - يدور القمر حول الأرض مرة كل شهر
- ٢ - كسوف الشمس هو احتجاب ضوء الشمس عن جزء من الأرض ، وذلك عندما يتوسط القمر بينهما



بسم الله الرحمن الرحيم

ورقة عمل درس (دوران القمر حول الأرض)

اسم الطالب : الصف : رابع /

س / ما المقصود بالقمر ؟

ج /

س / أكمل الفراغات التالية بما يناسب :

- أ - نحن نرى الجزء فقط من القمر .
- ب - نسمي القمر المكتمل
- ج - عندما يبدأ الشهر فإننا نرى

س / ضع علامة (\checkmark) أمام العبارة الصحيحة وعلامة (\times) أمام العبارة الخاطئة فيما يلي :

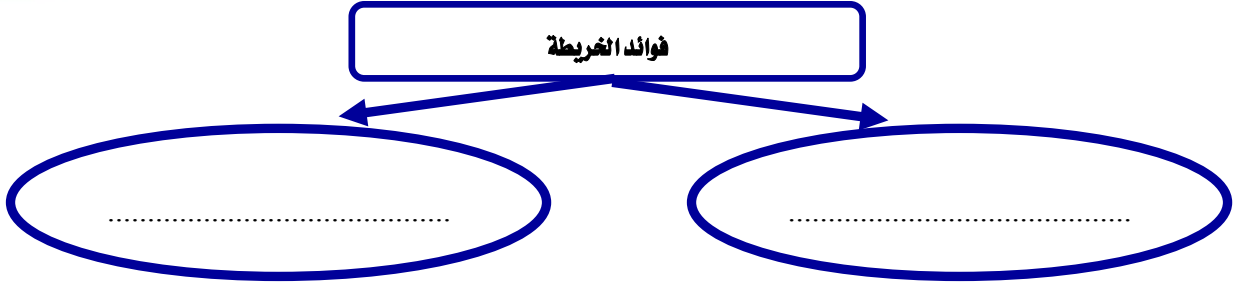
- ١ - يدور القمر حول الأرض مرة كل شهر
- ٢ - كسوف الشمس هو احتجاب ضوء الشمس عن جزء من الأرض ، وذلك عندما يتوسط القمر بينهما



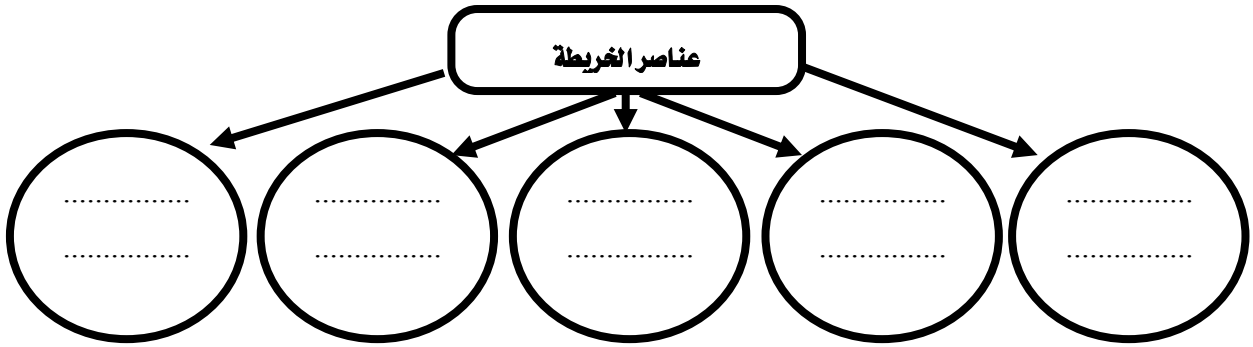
بسم الله الرحمن الرحيم
ورقة عمل درس (الخريطة)

اسم الطالب : الصف : رابع /

س / اذكر فوائد الخريطة ؟



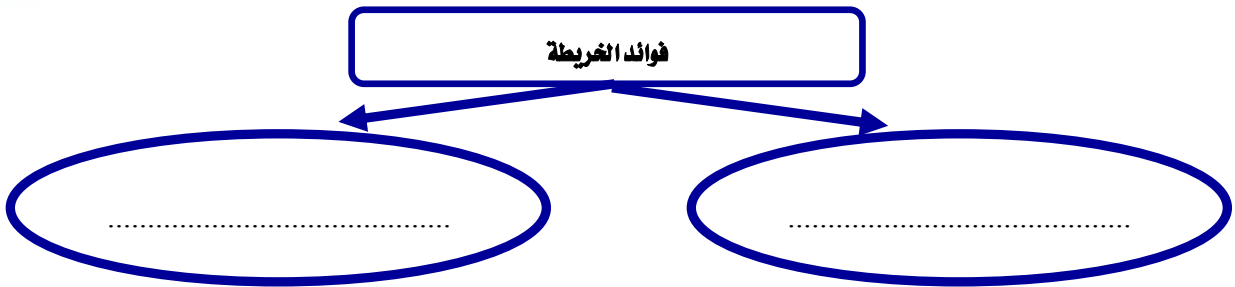
س / اذكر عناصر الخريطة في الشكل التالي :



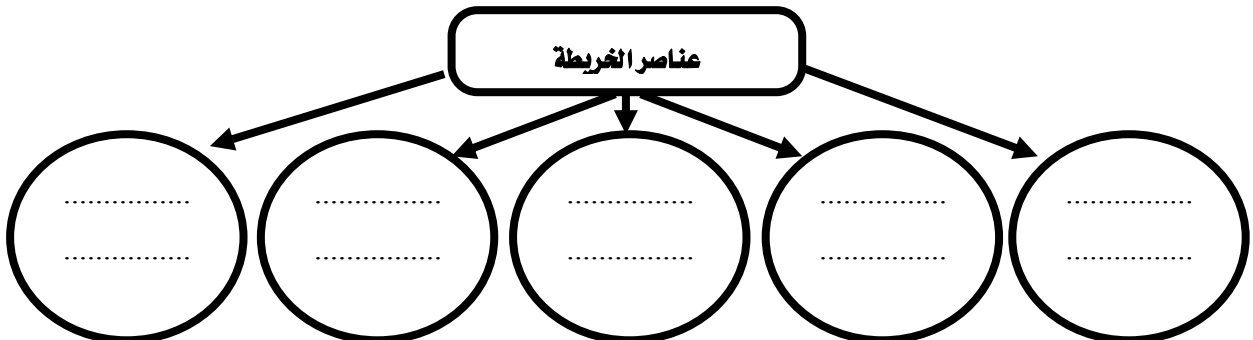
بسم الله الرحمن الرحيم
ورقة عمل درس (الخريطة)

اسم الطالب : الصف : رابع /

س / اذكر فوائد الخريطة ؟



س / اذكر عناصر الخريطة في الشكل التالي :





بسم الله الرحمن الرحيم
ورقة عمل درس (الأسرة والمجتمع)

اسم الطالب : الصف : رابع /

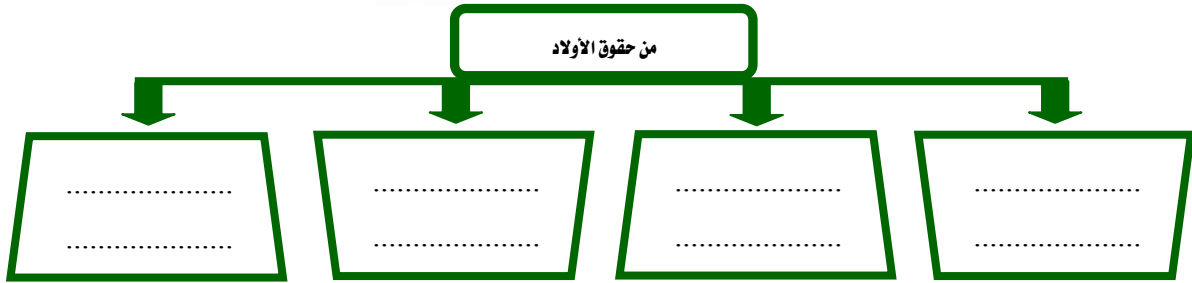
س / أكمل الفراغات التالية بما يناسب :

أ- الأسرة أساس وتتكون من و..... و.....

ب- يتكون المجتمع من عدة
س / أكمل حقوق الأب والأم في الشكل التالي :



س / للأولاد حقوق على الوالدين ، فما هي ؟



بسم الله الرحمن الرحيم
ورقة عمل درس (الأسرة والمجتمع)

اسم الطالب : الصف : رابع /

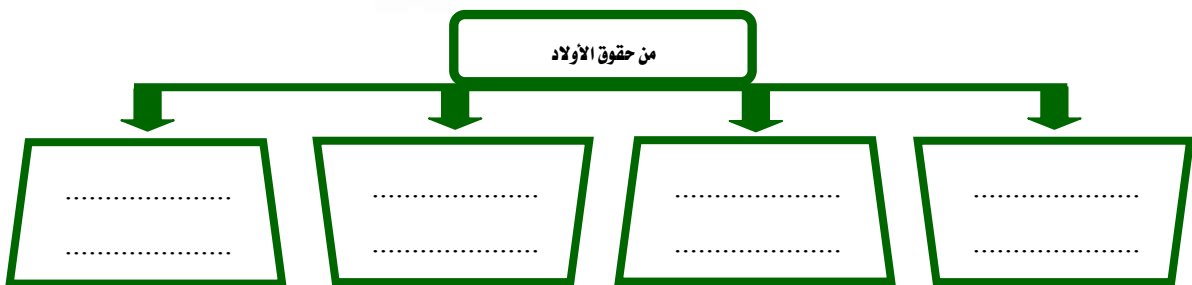
س / أكمل الفراغات التالية بما يناسب :

أ- الأسرة أساس وتتكون من و..... و.....

ب- يتكون المجتمع من عدة
س / أكمل حقوق الأب والأم في الشكل التالي :



س / للأولاد حقوق على الوالدين ، فما هي ؟





بسم الله الرحمن الرحيم

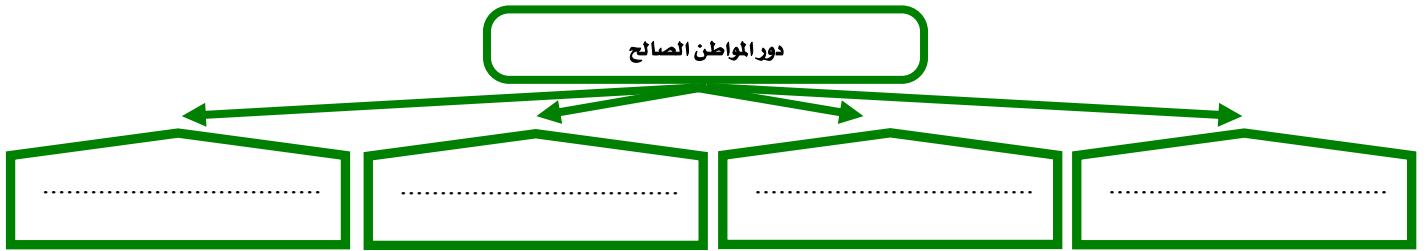
ورقة عمل درس (الحقوق والمسؤوليات)

اسم الطالب : الصف : رابع /

س / ضع علامة (√) أمام العبارة الصحيحة وعلامة (×) أمام العبارة الخاطئة فيما يلي :

- ١- الحقوق ما يستحقه الطلبة في حياتهم
- ٢- من واجباتي في المدرسة أن احضر مبكراً
- ٣- من مسؤولياتي احترام حقوق الآخرين ومعلوماتهم

س / يؤدي المواطن الصالح دوراً مهماً في خدمة وطنه بعدة أمور ، اذكرها :



بسم الله الرحمن الرحيم

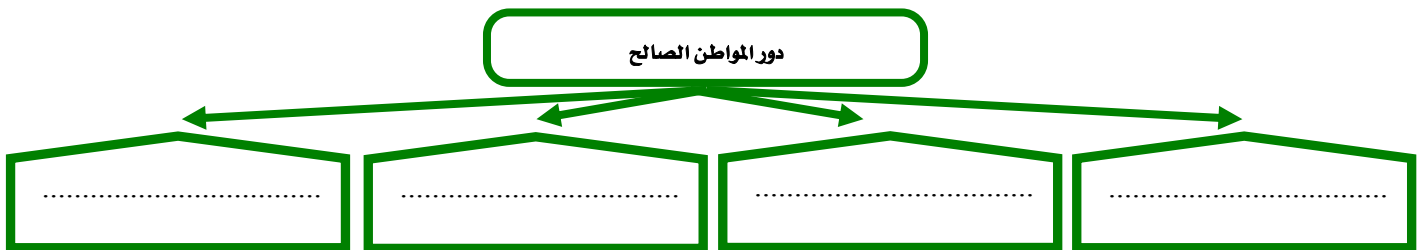
ورقة عمل درس (الحقوق والمسؤوليات)

اسم الطالب : الصف : رابع /

س / ضع علامة (√) أمام العبارة الصحيحة وعلامة (×) أمام العبارة الخاطئة فيما يلي :

- ١- الحقوق ما يستحقه الطلبة في حياتهم
- ٢- من واجباتي في المدرسة أن احضر مبكراً
- ٣- من مسؤولياتي احترام حقوق الآخرين ومعلوماتهم

س / يؤدي المواطن الصالح دوراً مهماً في خدمة وطنه بعدة أمور ، اذكرها :





بسم الله الرحمن الرحيم

ورقة عمل درس (العمل الجماعي)

اسم الطالب : الصف : رابع /

س / اذكر ثلاثاً من فوائد العمل الجماعي :



س / ضع علامة (√) أمام العبارة الصحيحة وعلامة (×) أمام العبارة الخاطئة فيما يلي :

- ١- العمل الجماعي يكون بين اثنين أو أكثر
- ٢- تحديد الهدف من العمل من العوامل التي تحقق النجاح في العمل الجماعي
- ٣- نوزع العمل من اجل نجاح العمل الجماعي

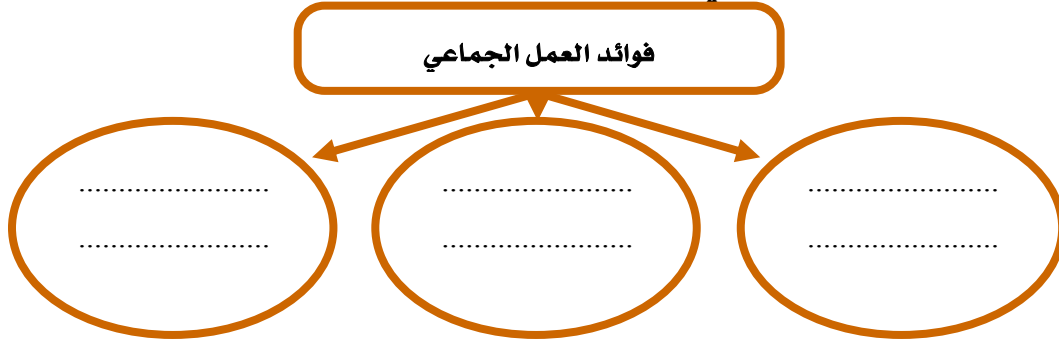


بسم الله الرحمن الرحيم

ورقة عمل درس (العمل الجماعي)

اسم الطالب : الصف : رابع /

س / اذكر ثلاثاً من فوائد العمل الجماعي :



س / ضع علامة (√) أمام العبارة الصحيحة وعلامة (×) أمام العبارة الخاطئة فيما يلي :

- ١- العمل الجماعي يكون بين اثنين أو أكثر
- ٢- تحديد الهدف من العمل من العوامل التي تحقق النجاح في العمل الجماعي
- ٣- نوزع العمل من اجل نجاح العمل الجماعي