

تم تحميل وعرض المادة من


منهجي

mnhaji.com



موقع منهجي منصة تعليمية توفر كل ما يحتاجه المعلم
والطالب من حلول الكتب الدراسية وشرح للدروس
بأسلوب مبسط لكافة المراحل التعليمية وتوزيع
المناهج وتحضير وملخصات ونماذج اختبارات وأوراق
عمل جاهزة للطباعة والتحميل بشكل مجاني

حمل تطبيق منهجي ليصلك كل جديد



درجة الطالب	الدرجة الكلية ٢٠	١٠	س١
		٦	س٢
		٤	س٣
الصف الأول متوسط		أسم الطالب	

أسئلة اختبار مادة الدراسات الاجتماعية (الفترية) للفصل الدراسي الأول للعام الدراسي ١٤٤٥هـ

فقرة	ضع علامة (√) أمام العبارة الصحيحة وعلامة (X) أمام العبارة الخاطئة	السؤال الأول
١	الكواكب تستمد الحرارة والضوء من الشمس	()
٢	الخط الوهمي المستقيم الواصل بين القطبين والمار بمركز الأرض هو محور الأرض	()
٣	تفيد خطوط الطول في معرفة الزمن.	()
٤	تتعاد الشمس مرة واحدة في السنة على مدار السرطان الذي يمر بأرض المملكة العربية السعودية	()
٥	الحركة اليومية للأرض تكون مع اتجاه عقارب الساعة.	()

السؤال الثاني اختر الإجابة الصحيحة من بين الإجابات فيما يلي :

١	أكبر قارات العالم هي قارة	أ	أفريقيا	ج	أمريكا الشمالية
ب	آسيا	د	استراليا		
٢	عدد كواكب المجموعة الشمسية	أ	تسعة كواكب	ج	سبعة كواكب
ب	ثمانية كواكب	د	ستة كواكب		
٣	عدد الفصول المناخية.	أ	اربع فصول	ج	خمس فصول
ب	ستة فصول	د	فصلان		
٤	عدد خطوط الطول	أ	٣٦٠	ج	٥٢٠
ب	٦٣٠	د	١٨٠		
٥	خط الطول الرئيس هو.	أ	مدار الجدي	ج	خط جرينتش
ب	محور الأرض	د	خط الاستواء		
٦	أصغر المحيطات	أ	المحيط الهادي	ج	المحيط المتجمد الشمالي
ب	المحيط الهندي	د	المحيط الأطلسي		

فقرة	أذكر السبب	السؤال الثالث
١	عدم الشعور بحركة الأرض.	
٢	حدوث الليل والنهار.	

نموذج اجابة

درجة الطالب	الدرجة الكلية ٢٠	١٠	س١		المملكة العربية السعودية وزارة التعليم إدارة التعليم بمنطقة مكتب تعليم متوسطة
		٦	س٢		
		٤	س٣		
الصف الأول متوسط					أسم الطالب

أسئلة اختبار مادة الدراسات الاجتماعية (الفترية) للفصل الدراسي الأول للعام الدراسي ١٤٤٥هـ

فقرة	ضع علامة (√) أمام العبارة الصحيحة وعلامة (X) أمام العبارة الخاطئة	السؤال الأول
١	الكواكب تستمد الحرارة والضوء من الشمس	(✓)
٢	الخط الوهمي المستقيم الواصل بين القطبين والمار بمركز الأرض هو محور الأرض	(✓)
٣	تفيد خطوط الطول في معرفة الزمن.	(✓)
٤	تتعادم الشمس مرة واحدة في السنة على مدار السرطان الذي يمر بأرض المملكة العربية السعودية	(✓)
٥	الحركة اليومية للأرض تكون مع اتجاه عقارب الساعة.	(X)

السؤال الثاني اختر الإجابة الصحيحة من بين الإجابات فيما يلي :

٢	عدد كواكب المجموعة الشمسية	أ	تسعة كواكب	ج	سبعة كواكب	١	أكبر قارات العالم هي قارة	أ	أفريقيا	ج	أمريكا الشمالية
		ب	ثمانية كواكب	د	سنة كواكب	ب	آسيا	د	أستراليا		
٤	عدد خطوط الطول	أ	٣٦٠	ج	٥٢٠	٣	عدد الفصول المناخية.	أ	اربع فصول	ج	خمس فصول
		ب	٦٣٠	د	١٨٠	ب	ستة فصول	د	فصلان		
٦	أصغر المحيطات	أ	المحيط الهادي	ج	المحيط المتجمد الشمالي	٥	خط الطول الرئيس هو.	أ	مدار الجدي	ج	خط جرينتش
		ب	المحيط الهندي	د	المحيط الأطلسي	ب	محور الأرض	د	خط الاستواء		

فقرة	اذكر السبب	السؤال الثالث
١	عدم الشعور بحركة الأرض.	١- لأنها تتحرك حركة منتظمة. ٢- لأن حجم الأرض كبير.
٢	حدوث الليل والنهار.	٣- وجود الجاذبية الأرضية. ٤- لأن الأرض تدور بما فيها.
		بسبب دوران الأرض حول محورها



اختبار قصير لمادة الدراسات الاجتماعية للصف الأول المتوسط الفصل الدراسي الأول لعام ١٤٤٥

اسم الطالبية	الفصل	١٨ درجة
السؤال الأول : ضعي علامة (√) أمام العبارة الصحيحة وعلامة (×) أمام العبارة الخاطئة فيما يلي؟		
٦		
١	كواكب المجموعة الشمسية جميعا ذات شكل كروي.	
٢	القطر الاستوائي يصل بين أبعد نقطتين ويمر بمركز الأرض.	
٣	تفيد دوائر العرض في معرفة الزمن.	
٤	عدد دوائر العرض ١٥٠ دائرة عرضية.	
٥	تقع المنطقة الحارة بين مدار السرطان شمالا ومدار الجدي جنوبا.	
٦	تبلغ نسبة المياه على سطح الأرض ٢٩٪.	

السؤال الثاني:
عللي : لا نشعر بحركة الأرض أثناء دورانها؟

٢

.....
.....

السؤال الثالث : اختاري الإجابة الصحيحة من بين الأقواس فيما يلي ؟						
١	أكبر كواكب المجموعة الشمسية حجما.					
أ	أورانوس	ب	نبتون	ج	المشتري	د
						زحل
٢	تقع دائرة الجدي بالنسبة لخط الإستواء .					
أ	شماله	ب	جنوبه	ج	شرقه	د
						غربه

٣	عدد الفصول المناخية.						
أ	خمس فصول	ب	ستة فصول	ج	أربعة فصول	د	فصلان
٤	أكبر قارات العالم مساحة قارة						
أ	آسيا	ب	أستراليا	ج	أفريقيا	د	أوروبا
٥	خط الطول الرئيس هو.						
أ	جرينتش	ب	السرطان	ج	الجدى	د	الاستواء

٦

السؤال الرابع:

أكتب الرقم المناسب من المجموعة (أ) أمام العبارة المناسبة في المجموعة (ب)

م	(أ)	الإجابة	(ب)
١	أول رائد فضاء عربي مسلم		فصل الخريف
٣	دوائر كاملة متوازية.		المتجمد الشمالي
٤	أصغر المحيطات مساحة المحيط.		الأمير سلطان بن سلمان
٥	تكون الشمس عمودية على مدار السرطان.		اختلاف الزمن
٦	من نتائج دوران الأرض حول محورها		دوائر العرض
			فصل الصيف

نموذج اجابة



اختبار قصير لمادة الدراسات الاجتماعية للصف الأول المتوسط الفصل الدراسي الأول لعام ١٤٤٥

اسم الطالبة	الفصل	١٨ درجة
السؤال الأول : ضعي علامة (√) أمام العبارة الصحيحة وعلامة (×) أمام العبارة الخاطئة فيما يلي؟		
١	كواكب المجموعة الشمسية جميعا ذات شكل كروي.	✓
٢	القطر الاستوائي يصل بين أبعد نقطتين ويمر بمركز الأرض.	✓
٣	تفيد دوائر العرض في معرفة الزمن.	✗
٤	عدد دوائر العرض ١٥٠ دائرة عرضية.	✗
٥	تقع المنطقة الحارة بين مدار السرطان شمالا ومدار الجدي جنوبا.	✓
٦	تبلغ نسبة المياه على سطح الأرض ٢٩٪.	✗

٢ السؤال الثاني:
علي : لا نشعر بحركة الأرض أثناء دورانها؟

- ١- لأنها تتحرك حركة منتظمة. ٢- لأن حجم الأرض كبير.
٣- وجود الجاذبية الأرضية. ٤- لأن الأرض تدور بما فيها.

السؤال الثالث : اختاري الإجابة الصحيحة من بين الأقواس فيما يلي ؟									
١	أكبر كواكب المجموعة الشمسية حجما.	أ	أورانوس	ب	نبتون	ج	المشتري	د	زحل
٢	تقع دائرة الجدي بالنسبة لخط الإستواء .	أ	شماله	ب	جنوبه	ج	شرقه	د	غربه

٣	عدد الفصول المناخية.					
أ	خمس فصول	ب	ستة فصول	ج	أربعة فصول	د
٤	أكبر قارات العالم مساحة قارة					
أ	آسيا	ب	أستراليا	ج	أفريقيا	د
٥	خط الطول الرئيس هو.					
أ	جرينتش	ب	السرطان	ج	الجدى	د
	الاستواء					

٦

السؤال الرابع:

أكتبى الرقم المناسب من المجموعة (أ) أمام العبارة المناسبة في المجموعة (ب)

م	(أ)	الإجابة	(ب)
١	أول رائد فضاء عربي مسلم		فصل الخريف
٣	دوائر كاملة متوازية.	٣	المتجمد الشمالي
٤	أصغر المحيطات مساحة المحيط.	١	الأمير سلطان بن سلمان
٥	تكون الشمس عمودية على مدار السرطان.	٥	اختلاف الزمن
٦	من نتائج دوران الأرض حول محورها	٢	دوائر العرض
		٤	فصل الصيف

اختبار الفترة	الأولى	الفصل الدراسي	الأول ١٤٤٤ هـ	الاسم	الدرجة
المادة	الدراسات الاجتماعية	الصف	أول متوسط	المعلمة	التوقيع

السؤال الأول: ضعي علامة (√) أمام العبارة الصحيحة وعلامة (X) أما العبارة الخاطئة :

الإجابة	العبارة
	١ تنتمي المجموعة الشمسية لمجرة درب التبانة.
	٢ الكواكب جميعها ذات شكل كروي
	٣ من الخصائص المشتركة بين كواكب المجموعة الشمسية أنها تدور حول نفسها.
	٤ استطاع الإنسان من خلال الفضاء رؤية الأرض بشكلها الكروي
	٥ دوائر العرض ترسم على شكل الأرض بشكل كامل، ومتوازي.
	٦ تغطي اليابس من مساحة سطح الأرض حوالي ٥٠%.
	٧ تدور الأرض حول الشمس من الشرق إلى الغرب
	٨ أبعاد الأرض متساوية
	٩ شكل الأرض كامل الاستدارة.
	١٠ الكوكب جسم كروي صلب يشع ضوءاً.

السؤال الثاني: اختاري الاجابة الصحيحة:

١	هو كل ما يحيط بنا من نجوم، ومجرات، ومخلوقات حية.	أ الكون	ب الشهب	ج النيازك
٢	يبلغ عدد كواكب المجموعة الشمسية:	أ ثمانية	ب سبعة	ج تسعة
٣	نجم كروي غازي ملتهب، يشع ضوءاً، وحرارة، ويدور حوله عددٌ من الكواكب:	أ الشمس	ب الزهرة	ج عطارد
٤	أقرب الكواكب للشمس:	أ عطارد	ب زحل	ج الزهرة
٥	الخط الوهمي المستقيم الواصل بين القطبين والمار بمركز الأرض هو:	أ القطر القطبي	ب المحيط الاستوائي	ج القطر الاستوائي
٦	عدد خطوط الطول:	أ ٣٦٠ خط	ب ١٨٠ خط	ج ٩٠ خط
٧	دوائر العرض تفيد في:	أ تحديد المناطق الحرارية	ب تحديد خط جرينتش	ج تحديد الزمن
٨	مدة دوران الأرض حول نفسها:	أ ٢٤ ساعة	ب ١٨٠ يوم	ج ٣٦٥ يوم
٩	الماء على سطح الأرض يعادل :	أ ثلثي مساحة الكرة الأرضية	ب ثلث مساحة الكرة الأرضية	ج نصف مساحة الكرة الأرضية
١٠	عدد المحيطات في العالم يبلغ:	أ ٥	ب ٤	ج ٣

اختبار الفترة	الأولى	الفصل الدراسي	الأول ١٤٤٤ هـ	الاسم	الدرجة
المادة	الدراسات الاجتماعية	الصف	أول متوسط	المعلمة	التوقيع

السؤال الأول: ضعي علامة (√) أمام العبارة الصحيحة وعلامة (X) أما العبارة الخاطئة :

الإجابة	العبارة
√	١ تنتمي المجموعة الشمسية لمجرة درب التبانة.
√	٢ الكواكب جميعها ذات شكل كروي
√	٣ من الخصائص المشتركة بين كواكب المجموعة الشمسية أنها تدور حول نفسها.
√	٤ استطاع الإنسان من خلال الفضاء رؤية الأرض بشكلها الكروي
√	٥ دوائر العرض ترسم على شكل الأرض بشكل كامل، ومتوازي.
X	٦ تغطي اليابس من مساحة سطح الأرض حوالي ٥٠%.
X	٧ تدور الأرض حول الشمس من الشرق إلى الغرب
X	٨ أبعاد الأرض متساوية
X	٩ شكل الأرض كامل الاستدارة.
X	١٠ الكوكب جسم كروي صلب يشع ضوءاً.

السؤال الثاني: اختاري الاجابة الصحيحة:

١	هو كل ما يحيط بنا من نجوم، ومجرات، ومخلوقات حية.	أ <u>الكون</u>	ب الشهب	ج النيازك
٢	يبلغ عدد كواكب المجموعة الشمسية:	أ <u>ثمانية</u>	ب سبعة	ج تسعة
٣	نجم كروي غازي ملتهب، يشع ضوءاً، وحرارة، ويدور حوله عددٌ من الكواكب:	أ <u>الشمس</u>	ب الزهرة	ج عطارد
٤	أقرب الكواكب للشمس:	أ <u>عطارد</u>	ب زحل	ج الزهرة
٥	الخط الوهمي المستقيم الواصل بين القطبين والمار بمركز الأرض هو:	أ <u>القطر القطبي</u>	ب المحيط الاستوائي	ج القطر الاستوائي
٦	عدد خطوط الطول:	أ <u>٣٦٠ خط</u>	ب ١٨٠ خط	ج ٩٠ خط
٧	دوائر العرض تفيد في:	أ <u>تحديد المناطق الحرارية</u>	ب تحديد خط جرينتش	ج تحديد الزمن
٨	مدة دوران الأرض حول نفسها:	أ <u>٢٤ ساعة</u>	ب ١٨٠ يوم	ج ٣٦٥ يوم
٩	الماء على سطح الأرض يعادل :	أ <u>ثلثي مساحة الكرة الأرضية</u>	ب ثلث مساحة الكرة الأرضية	ج نصف مساحة الكرة الأرضية
١٠	عدد المحيطات في العالم يبلغ:	أ <u>٥</u>	ب ٤	ج ٣

اختبار الفترة الأولى لمادة الدراسات الاجتماعية للصف الأول المتوسط الفصل الدراسي الأول لعام 1444/1443هـ

اسم الطالبة	الفصل	20 درجة
السؤال الأول : ضعي علامة (✓) أمام العبارة الصحيحة وعلامة (×) أمام العبارة الخاطئة فيما يلي؟		
8		
1	كواكب المجموعة الشمسية جميعا ذات شكل كروي.	
2	لا توجد خصائص مشتركة بين الكواكب.	
3	القطر الاستوائي يصل بين أبعد نقطتين ويمر بمركز الأرض.	
4	تفيد خطوط الطول في معرفة الزمن.	
5	عدد دوائر العرض 150 دائرة عرضية.	
6	تقع المنطقة الحارة بين مدار السرطان شمالا ومدار الجدي جنوبا.	
7	الحركة اليومية للأرض تكون مع اتجاه عقارب الساعة.	
8	الحركة اليومية للأرض تكون حول محورها.	

السؤال الثاني:
عللي : لا نشعر بحركة الأرض أثناء دورانها؟

1

.....

.....

يُتبع



السؤال الثالث : اختاري الإجابة الصحيحة من بين الأقواس فيما يلي ؟

1	أ	أورانوس	ب	نبتون	ج	المشتري	د	زحل
2	أ	تقع دائرة الجدي في نصف الأرض.	ب	الجنوبي	ج	الشرقي	د	الغربي
3	أ	عدد الفصول المناخية.	ب	ستة فصول	ج	أربعة فصول	د	فصلان
4	أ	أكبر قارات العالم مساحة قارة	ب	أستراليا	ج	أفريقيا	د	أوروبا
5	أ	خط الطول الرئيس هو.	ب	السرطان	ج	الجدي	د	الاستواء

السؤال الرابع:

اكتبي الرقم المناسب من المجموعة (أ) أمام العبارة المناسبة في المجموعة (ب)

م	(أ)	الإجابة	(ب)
1	الحركة السنوية ينتج عنها.		فصل الخريف
2	تتساقط فيه أوراق الشجر.		24 ساعة
3	دوائر كاملة متوازية.		المتجمد الشمالي
4	أصغر المحيطات مساحة المحيط.		الفصول الأربعة
5	تكون الشمس عمودية على مدار السرطان.		محورها
6	تتم الحركة الصغرى للأرض مرة كل		دوائر العرض
			فصل الصيف



أسئلة اختبار الفصل الدراسي الأول (الدور الأول) لعام ١٤٤٤ هـ

رقم الجلوس:

الصف:

اسم الطالب:

٤٠

١٠

أولاً: أسئلة الصواب والخطأ من (١) إلى (١٠):

ظل (أ) للعبارة الصحيحة و(ب) للعبارة الخاطئة فيما يلي:

١ س	شبه الجزيرة العربية مهد الحضارات ومنها انطلقت الهجرات.	()
٢ س	استفاد المسلمون من علوم الحضارات السابقة في مختلف الجوانب.	()
٣ س	ظهرت العناية ببناء القصور في عصر الخلفاء الراشدين.	()
٤ س	لم تكن للعرب معرفة بالتجارة قبل الإسلام.	()
٥ س	وزارة التفويض أن ينفذ الوزير أوامر الخليفة فقط.	()
٦ س	تنتمي المجموعة الشمسية لمجرة درب التبانة.	()
٧ س	كواكب المجموعة الشمسية جميعها ذات شكل كروي.	()
٨ س	أبعاد الأرض متساوية.	()
٩ س	خطوط الطول عبارة عن أنصاف دوائر متساوية في الطول.	()
١٠ س	تتركز اليابسة في نصف الكرة الأرضية الجنوبي.	()

٢٢

ثانياً: أسئلة الاختيار من متعدد من (١١) إلى (٣٢):

اختر الإجابة الصحيحة من بين البدائل فيما يلي ثم ظلها في ورقة الإجابة:

١١ س	تفاعل المجموعات البشرية مع البيئة المحيطة بها:	١٤ س	أنشئت الدواوين في عهد الخليفة:
(أ)	الحضارة	(أ)	أبو بكر الصديق ﷺ
(ب)	الوزارة	(ب)	عمر بن الخطاب ﷺ
(ج)	القضاء	(ج)	عثمان بن عفان ﷺ
(د)	التاريخ	(د)	علي بن أبي طالب ﷺ
١٢ س	سقطت إمبراطورية (الكلدانيين) على يد:	١٥ س	أول من أدخل نظام الشرطة في الإسلام:
(أ)	الفرس	(أ)	عمرو بن العاص ﷺ
(ب)	الرومان	(ب)	عمر بن الخطاب ﷺ
(ج)	الصينيين	(ج)	معاوية بن أبي سفيان ﷺ
(د)	الأكاديين	(د)	أبو بكر الصديق ﷺ
١٣ س	عرفت الكتابة (الهيروغليفية) في الحضارة:	١٦ س	العلم الذي يهتم ببيان معاني آيات القرآن الكريم هو علم:
(أ)	الصينية	(أ)	الفقه
(ب)	الفرعونية	(ب)	التفسير
(ج)	الإسلامية	(ج)	الحديث
(د)	الرومانية	(د)	التاريخ

تابع الأسئلة

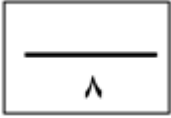
(١)

س١٧	من أشهر علماء المسلمين في علم الفيزياء:	س٢٣	أكبر كواكب المجموعة الشمسية:
(أ)	أبو الريحان البيروني	(أ)	زحل
(ب)	جابر بن حيان	(ب)	المريخ
(ج)	محمد الخوارزمي	(ج)	المشتري
(د)	سيبويه	(د)	الأرض
س١٨	اعتنى المسلمون ببناء القلاع والحصون:	س٢٤	يبلغ عدد دوائر العرض:
(أ)	لتكون عواصم للدول الإسلامية	(أ)	١٢٠ دائرة
(ب)	لأغراض اقتصادية	(ب)	١٥٠ دائرة
(ج)	لأغراض دينية	(ج)	١٨٠ دائرة
(د)	لحماية حدود الدولة	(د)	٣٦٠ دائرة
س١٩	العناية بتوفير وسائل الري ببناء السدود وإقامة الجسور من مظاهر العناية بـ:	س٢٥	خط الطول الرئيسي يسمى:
(أ)	الزراعة	(أ)	جرينتش
(ب)	الصناعة	(ب)	الاستواء
(ج)	التجارة	(ج)	الجلي
(د)	السياحة	(د)	السرطان
س٢٠	تعد صناعة الأسلحة من الصناعات:	س٢٦	يبلغ عدد المناطق الزمنية على سطح الأرض:
(أ)	المعدنية	(أ)	٢٨ منطقة
(ب)	الخزفية	(ب)	٢٠ منطقة
(ج)	الكيميائية	(ج)	٢٢ منطقة
(د)	الزجاجية	(د)	٢٤ منطقة
س٢١	كل ما يحيط بنا من نجوم ومجرات ومخلوقات حية:	س٢٧	درجة مدار السرطان:
(أ)	الكون	(أ)	٢٣,٥° جنوباً
(ب)	الشهب	(ب)	٢٣,٥° شمالاً
(ج)	النيازك	(ج)	٦٦,٥° شمالاً
(د)	الكواكب	(د)	٤٠° جنوباً
س٢٢	يبلغ عدد كواكب المجموعة الشمسية:	س٢٨	لا يشعر سكان الأرض بحركتها بسبب:
(أ)	خمسة	(أ)	كبر حجمها
(ب)	سبعة	(ب)	ثقلها
(ج)	ثمانية	(ج)	عدم انتظام حركتها
(د)	تسعة	(د)	استدارتها

تابع الأسئلة

س ٢٩	سبب تعاقب الليل والنهار:	س ٣١	أكبر قارات العالم مساحة:
(أ)	دوران الأرض حول الشمس	(أ)	آسيا
(ب)	ميل محور الأرض	(ب)	أستراليا
(ج)	دوران الأرض حول نفسها	(ج)	أوروبا
(د)	ثبات ميل محور الأرض	(د)	إفريقيا
س ٣٠	يحدث الصيف في شمال الكرة الأرضية عندما تتعامد أشعة الشمس على:	س ٣٢	يغطي الماء سطح الأرض بنسبة:
(أ)	مدار الجدي	(أ)	٧١ %
(ب)	خط الاستواء	(ب)	٧٣ %
(ج)	الدائرة القطبية الشمالية	(ج)	٢٩ %
(د)	مدار السرطان	(د)	٦٣ %

ثالثاً: الأسئلة المقالية:

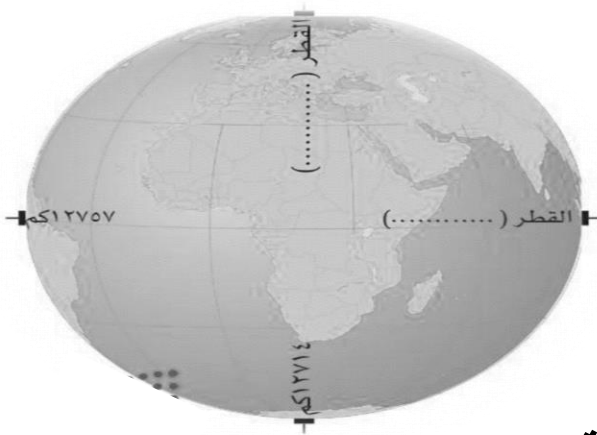


س ٣٣ / اذكر أبرز عاملين لقيام الحضارات.

- ١-
- ٢-

س ٣٤ / ما الأسس التي قامت عليها الحضارة الإسلامية؟

- ١-
- ٢-
- ٣-
- ٤-



س ٣٥ / دون على الشكل ما يأتي:

- أ- محور الأرض القطبي
- ب- محور الأرض الاستوائي.

انتهت الأسئلة

معلم المادة :

يوسف خضر الرحيلي

أسئلة اختبار الفصل الدراسي الأول (الدور الأول) لعام 1444 هـ

اسم الطالب: نموذج الإجابة الصف: رقم الجلوس:

40

40

10

10

أولاً: أسئلة الصواب والخطأ من (1) إلى (10):

ظل (أ) للعبارة الصحيحة و (ب) للعبارة الخاطئة فيما يلي:

(✓)	س1	شبه الجزيرة العربية مهد الحضارات ومنها انطلقت الهجرات.
(✓)	س2	استفاد المسلمون من علوم الحضارات السابقة في مختلف الجوانب.
(✗)	س3	ظهرت العناية ببناء القصور في عصر الخلفاء الراشدين.
(✗)	س4	لم تكن للعرب معرفة بالتجارة قبل الإسلام.
(✗)	س5	وزارة التفويض أن ينفذ الوزير أوامر الخليفة فقط.
(✓)	س6	تنتمي المجموعة الشمسية لمجرة درب التبانة.
(✓)	س7	كواكب المجموعة الشمسية جميعها ذات شكل كروي.
(✗)	س8	أبعاد الأرض متساوية.
(✓)	س9	خطوط الطول عبارة عن أنصاف دوائر متساوية في الطول.
(✗)	س10	تتركز اليابسة في نصف الكرة الأرضية الجنوبي.

22

٢٢

ثانياً: أسئلة الاختيار من متعدد من (11) إلى (32):

اختر الإجابة الصحيحة من بين البدائل فيما يلي ثم ظلها في ورقة الإجابة:

أنشئت الدواوين في عهد الخليفة:	س14	تفاعل المجموعات البشرية مع البيئة المحيطة بها:	س11
أبو بكر الصديق τ	(أ)	الحضارة 1	(أ)
عمر بن الخطاب τ 1	(ب)	الوزارة	(ب)
عثمان بن عفان τ	(ج)	القضاء	(ج)
علي بن أبي طالب τ	(د)	التاريخ	(د)
أول من أدخل نظام الشرطة في الإسلام:	س15	سقطت إمبراطورية (الكلدانيين) على يد:	س12
عمر بن العاص τ 1	(أ)	الفرس 1	(أ)
عمر بن الخطاب τ	(ب)	الرومان	(ب)
معاوية بن أبي سفيان τ	(ج)	الصينيين	(ج)
أبو بكر الصديق τ	(د)	الأكاديين	(د)
العلم الذي يهتم ببيان معاني آيات القرآن الكريم هو علم:	س16	عرفت الكتابة (الهيروغليفية) في الحضارة:	س13
الفقه	(أ)	الصينية	(أ)
التفسير 1	(ب)	الفرعونية 1	(ب)
الحديث	(ج)	الإسلامية	(ج)
التاريخ	(د)	الرومانية	(د)

تابع الأسئلة

(1)

17س	من أشهر علماء المسلمين في علم الفيزياء:	23س	أكبر كواكب المجموعة الشمسية:
(أ)	أبو الريحان البيروني ①	(أ)	زحل
(ب)	جابر بن حيان	(ب)	المريخ
(ج)	محمد الخوارزمي	(ج)	المشتري ①
(د)	سيبويه	(د)	الأرض
18س	اعتنى المسلمون ببناء القلاع والحصون:	24س	يبلغ عدد دوائر العرض:
(أ)	لتكون عواصم للدول الإسلامية	(أ)	120 دائرة
(ب)	لأغراض اقتصادية	(ب)	150 دائرة
(ج)	لأغراض دينية	(ج)	180 دائرة ①
(د)	لحماية حدود الدولة ①	(د)	360 دائرة
19س	العناية بتوفير وسائل الري ببناء السدود وإقامة الجسور من مظاهر العناية بـ:	25س	خط الطول الرئيسي يسمى:
(أ)	الزراعة ①	(أ)	جرينتش ①
(ب)	الصناعة	(ب)	الاستواء
(ج)	التجارة	(ج)	الجدي
(د)	السياحة	(د)	السرطان
20س	تعد صناعة الأسلحة من الصناعات:	26س	يبلغ عدد المناطق الزمنية على سطح الأرض:
(أ)	المعدنية ①	(أ)	28 منطقة
(ب)	الخزفية	(ب)	20 منطقة
(ج)	الكيميائية	(ج)	22 منطقة
(د)	الزجاجية	(د)	24 منطقة ①
21س	كل ما يحيط بنا من نجوم ومجرات ومخلوقات حية:	27س	درجة مدار السرطان:
(أ)	الكون ①	(أ)	23,5° جنوباً
(ب)	الشهب	(ب)	23.5° شمالاً ①
(ج)	النيازك	(ج)	66.5° شمالاً
(د)	الكواكب	(د)	40° جنوباً
22س	يبلغ عدد كواكب المجموعة الشمسية:	28س	لا يشعر سكان الأرض بحركتها بسبب:
(أ)	خمسة	(أ)	كبر حجمها ①
(ب)	سبعة	(ب)	ثقلها
(ج)	ثمانية ①	(ج)	عدم انتظام حركتها
(د)	تسعة	(د)	استدارتها

تابع الأسئلة

س29	سبب تعاقب الليل والنهار:	س31	أكبر قارات العالم مساحة:
(أ)	دوران الأرض حول الشمس	(أ)	آسيا ①
(ب)	ميل محور الأرض	(ب)	أستراليا
(ج)	دوران الأرض حول نفسها ①	(ج)	أوروبا
(د)	ثبات ميل محور الأرض	(د)	إفريقيا
س30	يحدث الصيف في شمال الكرة الأرضية عندما تتعامد أشعة الشمس على:	س32	يغطي الماء سطح الأرض بنسبة:
(أ)	مدار الجدي	(أ)	71 % ①
(ب)	خط الاستواء	(ب)	73 %
(ج)	الدائرة القطبية الشمالية	(ج)	29 %
(د)	مدار السرطان ①	(د)	63 %

ثالثاً: الأسئلة المقالية:

8
8

2
2

س33/ اذكر أبرز عاملين لقيام الحضارات.

1- الموقع والتضاريس

2- المناخ

س34/ ما الأسس التي قامت عليها الحضارة الإسلامية؟

1- الأساس الديني

2- الأساس اللغوي

3- الأساس العلمي

4- الأساس الأخلاقي

4
4

س35/ دون على الشكل ما يأتي:

أ- محور الأرض القطبي

ب- محور الأرض الاستوائي.

2
2



انتهت الأسئلة

معلم المادة :

يوسف خضر الرحيلي

(3)

السؤال الأول :

أ- اختاري الإجابة الصحيحة مما يلي :

- ١ . القائد المسلم الذي فتح مدينة الديبل (قتيبة من مسلم ، محمد بن القاسم الثقفي ، أبو مسلم الخرساني)
- ٢ . المضيق الذي عبره طارق بن زياد لفتح الاندلس يسمى مضيق (باب المندب ، جبل طارق ، هرمز)
- ٣ . ولد عبد الملك بن مروان في مدينة (البصرة ، دمشق ، المدينة المنورة)
- ٤ . تولى الخلافة بعد الخليفة معاوية ابي سفيان . (مروان بن الحكم ، يزيد بن معاوية ، عمر بن عبدالعزيز)
- ٥ . يقع مسجد قبة الصخرة في دولة (سوريا ، الأردن ، فلسطين)
- ٦ . استمر عصر الدولة الاموية (٩١ عام ، ٨٥ عام ، ٧٠ عام)

ب - صلي الاحداث في العمود (أ) بالشخصيات في العمود (ب) :

الاشخاصيات	الاحداث
معاوية بن ابي سفيان	١ - قاد الفتح الإسلامي في بلاد السند
الحسن رضي الله عنه	٢ - أسس مدينة القروان وجعلها قاعدة لنشر الاسلام
عقبة بن نافع	٣ - نزل عن الخلافة لمعاوية بن ابي سفيان حقناً لدا المسلمين.
محمد بن القاسم الثقفي	٤ - انشأ دار لسك النقود الإسلامية .
عبد الملك بن مروان	٥ - انشاء قاعده بحرية للسفن.

السؤال الثاني :

أ- عددي اثنين مما يلي .

١ - أسباب نهاية الدولة الاموية.

١ ٢

٢ - اعمال الوليد بن عبد الملك

١ ٢

ب- عللي ما يلي.

١ - تسمية الدولة الاموية بهذا الاسم.

.....

٢ - بناء عقبة بن نافع مدينة القروان

.....

ج - رتبي الاحداث التاريخ من الاقدم على الاحداث.

انتهت الأسئلة

أ. فاطمة العمري

() فتح الاندلس () خلاف ابي بكر الصديق () قيام الدولة الاموية

❖ في عام كم انتهت الدولة الاموية