

تم تحميل وعرض المادة من

منهجي

mnhaji.com



موقع منهجي منصة تعليمية توفر كل ما يحتاجه المعلم
والطالب من حلول الكتب الدراسية وشرح للدروس
بأسلوب مبسط لكافة المراحل التعليمية وتوزيع
المناهج وتحضير وملخصات ونماذج اختبارات وأوراق
عمل جاهزة للطباعة والتحميل بشكل مجاني

حمل تطبيق منهجي ليصلك كل جديد



المصحح : التوقيع: المراجع : التوقيع: الدرجة كتابية: درجة

اسم الطالب : رقم الجلوس ()

٢٠

السؤال الأول / اختر الإجابات الصحيحة فيما يلي بوضع دائرة حولها:

١	هي انتماء الانسان الى وطنه على أسس من القيم والاخلاق والمبادئ :				
أ	المواطنة	ب	الأمانة	ج	الصدق
٢	عدد دوائر العرض:				
أ	١٨٠ دائرة	ب	١٥٠ دائرة	ج	١٨٠ دائرة
٣	من مظاهر الأمانة				
أ	حفظ الأسرار	ب	اخذ شيء ليس من حقنا	ج	الرشوة
٤	خط الطول الرئيسي ودرجته صفر هو خط:				
أ	جرينيثش	ب	السرطان	ج	الجدى
٥	من واجبات المواطن				
أ	التزام الأنظمة	ب	العيب بالتملكات العامة	ج	التزوير والغش
٦	تعرض فيه المقتنيات التاريخية				
أ	المتحف	ب	الحديقة	ج	السوق
٧	عدد خطوط الطول:				
أ	٣٦٠ خطأ	ب	٣٥٥ خطأ	ج	٣٥٠ خطأ
٨	تبلغ مساحة وطني المملكة العربية السعودية:				
أ	٢.٠٠٠.٠٠٠ كم ^٢	ب	٣.٠٠٠.٠٠٠ كم ^٢	ج	٤.٠٠٠.٠٠٠ كم ^٢
٩	المال الذي تحصله الدولة من الأشخاص والمؤسسات أو الشركات لدعم المجتمع وتطويره				
أ	الأجور	ب	الضريبة	ج	الزكاة
١٠	من سمات الموقع الجغرافي السياسية لوطني : تحيط به				
أ	٦ دول عربية	ب	٧ دول عربية	ج	٨ دول عربية


السؤال الثاني /: أكمل

أ - من حقوق المواطن:

١ -
٢ -

ب - تمكننا خطوط الطول من تحديد :

١ -
٢ -



السؤال الثالث/ ضع علامة (√) أمام العبارات الصحيحة وعلامة (x) أمام العبارات غير الصحيحة:

١٠

١. ضريبة القيمة المضافة في وطني هي ١٥ %	()
٢. الصدق هو قول الحقيقة دون تغيير وفعل ما هو صحيح	()
٣. الموقع الفلكي هو موقع وطني بالنسبة لخطوط الطول ودوائر العرض	()
٤. عندما نجد آثاراً قديمة نبلغ الجهات المختصة عنها	()
٥. خطوط الطول دوائر كاملة	()
٦. يحد وطني من جهة الغرب البحر الأحمر	()
٧. الرياض من المدن المليونية في عدد السكان	()
٨. فرضت (ضريبة السلع المنتقاه) للحد من استعمال منتجات التبغ ومشروبات الطاقة	()
٩. يتميز مناخ مناطق وطني بكثرة الأمطار واعتدال الحرارة طوال العام	()
١٠. تأتي المملكة في المركز السادس من بين الدول العربية من حيث المساحة	()

السؤال الرابع / ضع الكلمات الموجودة في الجدول التالي في الفراغ المناسب:

٦

المواطن المسؤول	دوائر العرض	التعداد السكاني	الصحراوي	الأمانة	دعم المحتاجين
-----------------	-------------	-----------------	----------	---------	---------------

١. من فوائد المشاركة المجتمعية.

٢. إذا تحققت لدى المواطن تحقق الأمن له ولوطنه.

٣. حصر شامل لجميع أفراد الوطن وجمع معلومات عن خطائهم .

٤. هي دوائر وهمية كاملة موازية لخط الاستواء.

٥. هو الانسان ذو الخلق الحميد الملتزم لتعاليم دينه السمحة .

٦. تقع المملكة ضمن الأقليم.....

--- انتهت الأسئلة ---

المصحح : التوقيع: المراجع : التوقيع: الدرجة كتابية: درجة

اسم الطالب : نموذج الإجابة رقم الجلوس ()

٢٠

السؤال الأول / اختر الإجابات الصحيحة فيما يلي بوضع دائرة حولها:

١	هي انتماء الانسان الى وطنه على أسس من القيم والاخلاق والمبادئ :				
أ	المواطنة	ب	الأمانة	ج	الصدق
٢	عدد دوائر العرض:				
أ	١٨٠ دائرة	ب	١٥٠ دائرة	ج	١٨٠ دائرة
٣	من مظاهر الأمانة				
أ	حفظ الأسرار	ب	اخذ شيء ليس من حقنا	ج	الرشوة
٤	خط الطول الرئيسي ودرجته صفر هو خط:				
أ	جرينيتش	ب	السرطان	ج	الجدى
٥	من واجبات المواطن				
أ	التزام الأنظمة	ب	العيب بالتملكات العامة	ج	التزوير والغش
٦	تعرض فيه المقتنيات التاريخية				
أ	المتحف	ب	الحديقة	ج	السوق
٧	عدد خطوط الطول:				
أ	٣٦٠ خطأ	ب	٣٥٥ خطأ	ج	٣٥٠ خطأ
٨	تبلغ مساحة وطني المملكة العربية السعودية:				
أ	٢ كم ٢.٠٠٠.٠٠٠	ب	٢ كم ٣.٠٠٠.٠٠٠	ج	٢ كم ٤.٠٠٠.٠٠٠
٩	المال الذي تحصله الدولة من الأشخاص والمؤسسات أو الشركات لدعم المجتمع وتطويره				
أ	الأجور	ب	الضريبة	ج	الزكاة
١٠	من سمات الموقع الجغرافي السياسية لوطني : تحيط به				
أ	٦ دول عربية	ب	٧ دول عربية	ج	٨ دول عربية

السؤال الثاني /: أكمل

أ - من حقوق المواطن:

١ - العناية بمستقبل المواطن. ٢ - تحقيق الاستقرار، وحفظ الأمن.

ب - تمكنا خطوط الطول من تحديد :

١ - المواقع ٢ - التواقيت

السؤال الثالث/ ضع علامة (√) أمام العبارات الصحيحة وعلامة (x) أمام العبارات غير الصحيحة:

١٠

(√)	١. ضريبة القيمة المضافة في وطني هي ١٥ %
(√)	٢. الصدق هو قول الحقيقة دون تغيير وفعل ما هو صحيح
(√)	٣. الموقع الفلكي هو موقع وطني بالنسبة لخطوط الطول ودوائر العرض
(√)	٤. عندما نجد آثاراً قديمة نبلغ الجهات المختصة عنها
(x)	٥. خطوط الطول دوائر كاملة
(√)	٦. يحد وطني من جهة الغرب البحر الأحمر
(√)	٧. الرياض من المدن المليونية في عدد السكان
(√)	٨. فرضت (ضريبة السلع المنتقاه) للحد من استعمال منتجات التبغ ومشروبات الطاقة
(x)	٩. يتميز مناخ مناطق وطني بكثرة الأمطار واعتدال الحرارة طوال العام
(x)	١٠. تأتي المملكة في المركز السادس من بين الدول العربية من حيث المساحة

السؤال الرابع / ضع الكلمات الموجودة في الجدول التالي في الفراغ المناسب:

٦

المواطن المسؤول	دوائر العرض	التعداد السكاني	الصحراوي	الأمانة	دعم المحتاجين
-----------------	-------------	-----------------	----------	---------	---------------

١. دعم المحتاجين من فوائد المشاركة المجتمعية.

٢. إذا تحققت الأمانة لدى المواطن تحقق الأمن له ولوطنه.

٣. التعداد السكاني حصر شامل لجميع أفراد الوطن وجمع معلومات عن خصائصهم .

٤. دوائر العرض هي دوائر وهمية كاملة موازية لخط الاستواء.

٥. المواطن المسؤول هو الانسان ذو الخلق الحميد الملتزم لتعاليم دينه السمحة .

٦. تقع المملكة ضمن الأقليم الصحراوي .

--- انتهت الأسئلة ---



رقم الجلوس

الدرجة	المصحح	التوقيع	المراجع	التوقيع
٤٠				

اسم الطالب

اختبار مادة الدراسات الاجتماعية للفصل الدراسي الثالث ١٤٤٤ هـ
استعن بالله ثم أجب على جميع الأسئلة التالية

٢٠

السؤال الأول :-

ضع علامة (√) امام العبارة الصحيحة وعلامة (×) امام العبارة الخاطئة ممايلي :-

١. من الأمانة الحفاظ على أسرار الناس ()
٢. تقع المملكة العربية السعودية في أقصى الجنوب الغربي لقارة اسيا ()
٣. من السمات الدينية والثقافية لوطني أن فيه الحرمين الشريفين ()
٤. خيانة الوطن مخالفة للأمانة ()
٥. يقطع خط جرينتش الكرة الأرضية من الشمال إلى الجنوب ()
٦. يزداد التوقيت ساعة واحدة كلما اتجهنا شرق خط جرينتش بمقدار ١٥ خطأً ()
٧. تساعدنا دوائر العرض على معرفة التوقيت ()
٨. خطوط الطول دوائر كاملة ()
٩. مناخ المملكة العربية السعودية بارد صيفا معتدل شتاءً ()
١٠. ضريبة القيمة المضافة في وطني تبلغ ٢٥ % ()

٤

السؤال الثاني :-

اختر الرقم من العمود (أ) وضعه امام ما يناسبه من العمود (ب) :

- | | |
|---------------------------------------|--------------------|
| (أ) | (ب) |
| ١- من واجبات المواطن | () المتحف |
| ٢- من حقوق المواطن | () الاثار |
| ٣- العلم الذي يعنى بالمواقع التاريخية | () التعليم |
| ٤- تعرض فيه المقتنيات التاريخية | () التزام الأنظمة |

ابني الغالي باقي الأسئلة في الخلف ...

السؤال الثالث:-

١٠

ضع الكلمات التالية بما يناسبها من الفراغات :

(موازية - متساوية - القطبين - ٣٦٠ - وهمية)

- ١ . تتصف خطوط الطول بأنها وعددها خط .
- ٢ . تلتقي جميع خطوط الطول عند
- ٣ . تتصف دوائر العرض بأنها و لخط الأستواء

السؤال الرابع:-

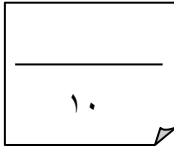
٦

ضع خطا تحت الإجابة الصحيحة من بين الأقواس التالية :

- ١- توزيع السكان في جميع مناطق وطني (متغير باستمرار - متساوي - متفاوت)
- ٢- أكثر فئة من السكان في وطني (متوسطو السن - صغار السن - كبار السن)
- ٣- ينتقل الناس من البلدات الصغيرة للإقامة في المدن الكبيرة بسبب (الوظائف - الزراعة - الرعي)

(انتهت الأسئلة)

السؤال الثالث:-

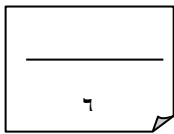


ضع الكلمات التالية بما يناسبها من الفراغات :

(موازية - متساوية - القطبين - ٣٦٠ - وهمية)

- ١ . تتصف خطوط الطول بأنها **متساوية** وعددها **٣٦٠**..... خط .
- ٢ . تلتقي جميع خطوط الطول عند **القطبين**..
- ٣ . تتصف دوائر العرض بأنها **وهمية** و**متوازية** لخط الأستواء

السؤال الرابع :-



ضع خطا تحت الإجابة الصحيحة من بين الأقواس التالية :

- ١- توزيع السكان في جميع مناطق وطني (متغير باستمرار - متساوي - متفاوت)
- ٢- أكثر فئة من السكان في وطني (متوسطو السن - صغار السن - كبار السن)
- ٣- ينتقل الناس من البلدات الصغيرة للإقامة في المدن الكبيرة بسبب (الوظائف - الزراعة - الرعي)

(انتهت الأسئلة)

المادة: الدراسات الاجتماعية
الصف: السادس الابتدائي
الزمن: ساعة
التاريخ:



المملكة العربية السعودية
وزارة التعليم
الإدارة العامة للتعليم بمنطقة

مدرسة

أسئلة الفصل الدراسي الثالث (الدور الأول) للعام ١٤٤٤ هـ

اسم الطالبة: رقم الجلوس:

المصحح	الدرجة	الدرجة كتابة	المراجع	الدرجة بعد المراجعة	الدرجة كتابة
			التوقيع		
	٤٠			٤٠	

السؤال الأول: أ) ضعي علامة (√) امام العبارة الصحيحة وعلامة (×) أمام العبارة الخاطئة: ٤

()	المواطنة هي الانتماء للوطن على أسس القيم والاخلاق	(١)
()	من واجبات المواطن الأمانة والصدق	(٢)
()	من فوائد الصدق تقوية العلاقات بين الناس	(٣)
()	غياب الصدق والأمانة يؤدي الى الفساد والفوضى	(٤)
()	الأثار ثروة وطنية والحفاظ عليها واجب وطني	(٥)
()	يستفيد الوطن من الأثار لتعزيز الجانب الثقافي	(٦)
()	من وظائف الضرائب مالية واقتصادية واجتماعية	(٧)
()	تصرف الزكاة لمستحقين الضمان الاجتماعي (الأسر المحتاجة)	(٨)
()	عندما أجد اثار قديمة أبلغ الجهات المختصة عنها	(٩)
()	تدور الأرض حول محورها مدة ٢٤ ساعة	(١٠)
()	مناخ المملكة العربية السعودية بارد وكثير الأمطار	(١١)
()	خطوط الطول هي عبارة عن دوائر كاملة حقيقية	(١٢)
()	قيمة ضريبة الدخل في المملكة ٤٠٪	(١٣)
()	تأسست هيئة الزكاة والضريبة والجمارك في عهد الملك عبدالله بن عبدالعزيز	(١٤)

(ب) اختاري الإجابة الصحيحة فيما يأتي:

١٤

١	من أمثلة الاعمال والتنقيب الأثري في وطني.....			
أ	الفاو	ب	سكاكا	ج الطائف
٢	هي الأماكن التي تعرض فيها الآثار والقصص التاريخية.....			
أ	المتاحف	ب	المدارس	ج الملاعب
٣	ضريبة القيمة المضافة في وطني.....			
أ	١٥%	ب	٢٥%	ج ٣٠%
٤	عدد خطوط الطول.....			
أ	٣٦٠	ب	١٢٠	ج ١٨٠
٥	أكثر سكان المملكة من فئة.....			
أ	شباب	ب	كبار السن	ج صغار السن
٦	ينتقل الناس من البلدان الصغيرة الى المدن بسبب.....			
أ	الوظائف	ب	الزراعة	ج الرعي
٧	خط الطول الرئيسي و درجته صفر هو.....			
أ	جرينتش	ب	الجدبي	ج السرطان
٨	العلم الذي يعتني بالمواقع التاريخية هو.....			
أ	الاثار	ب	الطب	ج الهندسة
٩	من أنواع الصدق في القول.....			
أ	تجنب الكذب	ب	الغش	ج اتقان العمل
١٠	من فوائد المشاركة المجتمعية.....			
أ	عدم التعاون	ب	دعم المحتاجين	ج عدم الثقة
١١	تقع أجزاء واسعة من المملكة العربية السعودية ضمن الحزام			
أ	البارد	ب	الصحرا	ج القطبي
١٢	تمكنا خطوط الطول من تحديد.....			
أ	المناخ	ب	المواقع والتواقيت	ج الزلازل
١٣	تحيط بالمملكة العربية السعودية.....عربية			
أ	خمس دول	ب	ثمانى دول	ج ستة دول
١٤	تربط المملكة العربية السعودية بين..... قارات			
أ	خمس	ب	ثلاث	ج أربعة

السؤال الثاني: أ) أملئ الفراغات بالكلمات المساعدة:

الموقع الجغرافي

السكان

التعليم والصحة

الضريبة

- ١) هم المواطنون والمقيمون في الوطن من ذكور وإناث
- ٢) من حقوق المواطن
- ٣) المال الذي تحصله الدولة من الأشخاص والشركات
- ٤) يقصد به موقع المملكة العربية السعودية بالنسبة للعالم والدول المجاورة

(أ)	(ب)
١) حصر شامل لكل الأفراد في الوطن	التزام النظام
٢) من السمات الدينية والثقافية في وطني وجود	الصدق
٣) هو قول الحقيقة دون تغيير وتزييف	قبلة المسلمين
٤) من مظاهر الأمانة	التعداد السكاني

السؤال الثالث: أذكرني فقط ٤ من واجبات المواطن :

- ١-
- ٢-
- ٣-
- ٤-

انتهت الأسئلة
والله الموفق

المادة: الدراسات الاجتماعية
الصف : سادس الابتدائي
الزمن : ساعة
التاريخ:



المملكة العربية السعودية
وزارة التعليم
الإدارة العامة للتعليم بمنطقة
مدرسة

نموذج إجابة الفصل الدراسي الثالث (الدور الأول) للعام ١٤٤٤ هـ

اسم الطالبة: نموذج الإجابة . رقم الجلوس:

المصحح	الدرجة	الدرجة كتابة	المراجع	الدرجة بعد المراجعة	الدرجة كتابة
			التوقيع		
	٤٠			٤٠	

السؤال الأول: أ) ضعي علامة (√) امام العبارة الصحيحة وعلامة (×) أمام العبارة الخاطئة: ٤

(صح)	المواطنة هي الانتماء للوطن على أسس القيم والأخلاق	(١)
(صح)	من واجبات المواطن الأمانة والصدق	(٢)
(صح)	من فوائد الصدق تقوية العلاقات بين الناس	(٣)
(صح)	غياب الصدق والأمانة يؤدي الى الفساد والفوضى	(٤)
(صح)	الأثار ثروة وطنية والحفاظ عليها واجب وطني	(٥)
(صح)	يستفيد الوطن من الأثار لتعزيز الجانب الثقافي	(٦)
(صح)	من وظائف الضرائب مالية واقتصادية واجتماعية	(٧)
(صح)	تصرف الزكاة لمستحقين الضمان الاجتماعي (الأسر المحتاجة)	(٨)
(صح)	عندما أجد اثار قديمة أبلغ الجهات المختصة عنها	(٩)
(صح)	تدور الأرض حول محورها مدة ٢٤ ساعة	(١٠)
(خطأ)	مناخ المملكة العربية السعودية بارد وكثير الأمطار	(١١)
(خطأ)	خطوط الطول هي عبارة عن دوائر كاملة حقيقية	(١٢)
(خطأ)	قيمة ضريبة الدخل في المملكة ٤٠٪	(١٣)
(خطأ)	تأسست هيئة الزكاة والضريبة والجمارك في عهد الملك عبدالله بن عبدالعزيز	(١٤)

(ب) اختاري الإجابة الصحيحة فيما يأتي:

١٤

١	من أمثلة الاعمال والتنقيب الأثري في وطني.....			
أ	الفاو	ب	سكاكا	ج الطائف
٢	هي الأماكن التي تعرض فيها الآثار والقصص التاريخية.....			
أ	المتاحف	ب	المدارس	ج الملاعب
٣	ضريبة القيمة المضافة في وطني.....			
أ	١٥%	ب	٢٥%	ج ٣٠%
٤	عدد خطوط الطول.....			
أ	٣٦٠	ب	١٢٠	ج ١٨٠
٥	أكثر سكان المملكة من فئة.....			
أ	شباب	ب	كبار السن	ج صغار السن
٦	ينتقل الناس من البلدان الصغيرة الى المدن بسبب.....			
أ	الوظائف	ب	الزراعة	ج الرعي
٧	خط الطول الرئيسي و درجته صفر هو.....			
أ	جرينتش	ب	الجدى	ج السرطان
٨	العلم الذي يعتني بالمواقع التاريخية هو.....			
أ	الاثار	ب	الطب	ج الهندسة
٩	من أنواع الصدق في القول.....			
أ	تجنب الكذب	ب	الغش	ج اتقان العمل
١٠	من فوائد المشاركة المجتمعية.....			
أ	عدم التعاون	ب	دعم المحتاجين	ج عدم الثقة
١١	تقع أجزاء واسعة من المملكة العربية السعودية ضمن الحزام			
أ	البارد	ب	الصحراوي المداري	ج القطبي
١٢	تمكنا خطوط الطول من تحديد.....			
أ	المناخ	ب	المواقع والتوقيت	ج الزلازل
١٣	تحيط بالمملكة العربية السعودية.....عربية			
أ	خمس دول	ب	ثماني دول	ج ستة دول
١٤	تربط المملكة العربية السعودية بين..... قارات			
أ	خمس	ب	ثلاث	ج أربعة

السؤال الثاني: أ) أملئ الفراغات بالكلمات المساعدة:

٤

الموقع الجغرافي

السكان

التعليم والصحة

الضريبة

١) هم المواطنون والمقيمون في الوطن من ذكور وإناث **السكان**

٢) من حقوق المواطن **التعليم والصحة**

٣) المال الذي تحصله الدولة من الأشخاص والشركات **الضريبة**

٤) يقصد به موقع المملكة العربية السعودية بالنسبة للعالم والدول المجاورة **الموقع الجغرافي**

٤

(أ)		(ب)
١) حصر شامل لكل الأفراد في الوطن	٤	التزام النظام
٢) من السمات الدينية والثقافية في وطني وجود	٣	الصدق
٣) هو قول الحقيقة دون تغيير وتزييف	٢	قبلة المسلمين
٤) من مظاهر الأمانة	١	التعداد السكاني

السؤال الثالث: أذكرني فقط ٤ من واجبات المواطن :

٤

١- الأمانة و الصدق / التزام المسؤولية

٢- الفخر بالوطن و تراثه / المشاركة المجتمعية

٣- المحافظة على البيئة / المحافظة على الممتلكات العامة والخاصة

٤- التزام الأنظمة / التميز والابداع في الدراسة والعمل

انتهت الأسئلة

والله الموفق

المادة: الدراسات الاجتماعية
الصف : السادس الابتدائي
الزمن: ساعه ونصف
عدد الأوراق: ٤
عدد الأسئلة: ٣



المملكة العربية السعودية
وزارة التعليم
الإدارة العامة للتعليم بالقصيم
ابتدائية المحيلاني

بسم الله الرحمن الرحيم

أسئلة اختبار مادة الدراسات الاجتماعية الصف السادس الابتدائي

للعام الدراسي ١٤٤٢ / ١٤٤٣ هـ

الفصل الدراسي الثالث (الدور الأول)

الاسم :

رقم الجلوس :

المراجعة		المصححة		الدرجة		رقم السؤال
التوقيع	الاسم	التوقيع	الاسم	كتابة	رقمًا	
						السؤال الأول
						السؤال الثاني
						السؤال الثالث
						المجموع
						٤٠

التوقيع :

جمعه :

التوقيع :

راجعه :

السؤال الأول : ضع دائرة حول الحرف الذي يمثل الإجابة الصحيحة فيما يلي

١٥

1. ضريبة القيمة المضافة في المملكة العربية السعودية

أ 10% ب 15% ج 20% د 25%

2. هي الأماكن التي تعرض فيها الآثار وقصصها التاريخية

أ المستشفيات ب المتاحف ج المدارس د البيوت

3. من أهم الأمثلة لأعمال التنقيب الأثري في وطني

أ تبوك ب الفاو ج حائل د عرعر

4. من أنواع الصدق في القول

أ الغش والتزوير ب تجنب الكذب والمبالغة ج إتقان العمل د الامانة

5. الجهة التي تتولى تحصيل الضرائب في وطني

أ وزارة التعليم ب هيئة الزكاة والجمارك ج وزارة الثقافة د وزارة الصحة

6. العلم الذي يعنى بالمواقع التاريخية

أ الطب ب الهندسة ج الآثار د الفلك

7. ينتقل الناس من البلدات الصغيرة للإقامة في المدن الكبيرة بسبب

أ الوظائف ب الزراعة ج الرعي د الصناعة

8. توزيع السكان في جميع مناطق وطني

أ متساوي ب متغير باستمرار ج متفاوت د منتظم

9. أكثر فئة من السكان في وطني

أ صغار السن ب متوسطو السن ج كبار السن د الاطفال

10. واجبنا تجاه موظف الإحصاء وتعداد السكان هو

أ عدم الإجابة عن الاسئلة ب التعاون معه وتزويده بالمعلومات ج اعطاؤه إجابات غير صحيحة د تجنب التعاون معه

11. من فوائد المشاركة في المجتمع

أ دعم المحتاجين ب عدم الانتماء للوطن ج عدم الثقة د عدم تحمل المسؤولية

12. هو حصر شامل لكل الأفراد في الوطن

أ التعداد السكاني ب المشاركة المجتمعية ج المواطنة د الضرائب

13. عدد خطوط الطول

أ 360 ب 180 ج 90 د 30

14. خط الطول الرئيسي ودرجته صفر

أ الاستواء ب جرينتش ج الجدي د السرطان

15. عدد دوائر العرض

أ 180 ب 360 ج 90 د 30

السؤال الثاني : ضع علامة ✓ أما العبارة الصحيحة و علامة × أما العبارة الخاطئة

١٥

()	١ . الآثار هي سجل حضاري مهم للوطن لأنها تعبر عن امتداد تاريخ الوطن وتراثه
()	٢ . من صور الأمانة المحافظة على اسرار الناس
()	٣ . من واجبات المواطن التزام الأنظمة والقوانين
()	٤ . المواطن المسؤول هو الانسان ذو الخلق الحميد الملتزم بتعاليم دينه
()	٥ . كان الرسول صلى الله عليه وسلم يلقب بالصادق الامين
()	٦ . غياب الصدق والامانه يؤدي الى الاستقرار والامن
()	٧ . اهمال الأمانة يقود الى عقاب في الدنيا وعقاب في الآخرة
()	٨ . خيانة الوطن مخالفة للامانة
()	٩ . ضريبة القيمة المضافة في وطني ٢٥%
()	١٠ . عندما اجد اثار قديمة ابلغ الجهات المختصة عنها
()	١١ . التعليم والصحة من حقوق المواطن
()	١٢ . يقطع خط جرينيتش الكرة الأرضية من الشمال الى الجنوب
()	١٣ . خطوط الطول هي دوائر كاملة
()	١٤ . ينقص التوقيت ساعة واحدة كلما ابتعدنا ١٥ درجة غرب خط جرينيتش
()	١٥ . تساعدنا دوائر العرض على معرفة التوقيت

السؤال الثالث : ضع الكلمات الموجودة في الجدول التالي في الفراغ المناسب

١٠

متساوية	الامن	التزام الانظمة	التعليم	المتحف
هيئة الزكاة والضريبة والجمارك	خط جرنييتش	تعزيز انتماء المواطنين	٣٦٠	السكان

١. تتصف خطوط الطول بأنها

٢. عدد خطوط الطول

٣. الخط الرئيسي لخطوط الطول هو

٤. الأمانة تحقق للوطن.

٥. من واجبات المواطن

٦. من حقوق المواطن

٧. تعرض فيه المقتنيات التاريخية.

٨. تتولى تحصيل الضرائب

٩. من فوائد المشاركة في المجتمع

١٠. هم المواطنون والمقيمون في الوطن من ذكور واناث

انتهت الأسئلة
دعواتي لكم بالتوفيق

المادة: الدراسات الاجتماعية
الصف: السادس الابتدائي
الزمن: ساعة ونصف
عدد الأوراق: ٤
عدد الأسئلة: ٣



المملكة العربية السعودية
وزارة التعليم
الإدارة العامة للتعليم بالقصيم
ابتدائية المحيلاني

بسم الله الرحمن الرحيم

أسئلة اختبار مادة الدراسات الاجتماعية الصف السادس الابتدائي

للعام الدراسي ١٤٤٢ / ١٤٤٣ هـ

الفصل الدراسي الثالث (الدور الأول)

الاسم : نموذج الإجابة
رقم الجلوس :

المراجعة		المصححة		الدرجة		رقم السؤال
التوقيع	الاسم	التوقيع	الاسم	كتابة	رقمًا	
						السؤال الأول
						السؤال الثاني
						السؤال الثالث
						المجموع
						٤٠

التوقيع :

جمعه :

التوقيع :

راجعه :

السؤال الأول : ضع دائرة حول الحرف الذي يمثل الإجابة الصحيحة فيما يلي

١٥

1. ضريبة القيمة المضافة في المملكة العربية السعودية

أ 10% ب 15% ج 20% د 25%

2. هي الأماكن التي تعرض فيها الآثار وقصصها التاريخية

أ المستشفيات ب المتاحف ج المدارس د البيوت

3. من أهم الأمثلة لأعمال التنقيب الأثري في وطني

أ تبوك ب الفاو ج حائل د عرعر

4. من أنواع الصدق في القول

أ الغش والتزوير ب تجنب الكذب والمبالغة ج إتقان العمل د الامانة

5. الجهة التي تتولى تحصيل الضرائب في وطني

أ وزارة التعليم ب هيئة الزكاة والجمارك ج وزارة الثقافة د وزارة الصحة

6. العلم الذي يعنى بالمواقع التاريخية

أ الطب ب الهندسة ج الآثار د الفلك

7. ينتقل الناس من البلدات الصغيرة للإقامة في المدن الكبيرة بسبب

أ الوظائف ب الزراعة ج الرعي د الصناعة

8. توزيع السكان في جميع مناطق وطني

أ متساوي ب متغير باستمرار ج متفاوت د منتظم

9. أكثر فئة من السكان في وطني

أ صغار السن ب متوسطو السن ج كبار السن د الاطفال

10. واجبنا تجاه موظف الإحصاء وتعداد السكان هو

أ عدم الإجابة عن الاسئلة ب التعاون معه وتزويده بالمعلومات ج اعطاؤه إجابات غير صحيحة د تجنب التعاون معه

11. من فوائد المشاركة في المجتمع

أ دعم المحتاجين ب عدم الانتماء للوطن ج عدم الثقة د عدم تحمل المسؤولية

12. هو حصر شامل لكل الأفراد في الوطن

أ التعداد السكاني ب المشاركة المجتمعية ج المواطنة د الضرائب

13. عدد خطوط الطول

أ 360 ب 180 ج 90 د 30

14. خط الطول الرئيسي ودرجته صفر

أ الاستواء ب جرينتش ج الجدي د السرطان

15. عدد دوائر العرض

أ 180 ب 360 ج 90 د 30

السؤال الثاني : ضع علامة ✓ أما العبارة الصحيحة و علامة X أما العبارة الخاطئة

١٥

(✓)	١ . الآثار هي سجل حضاري مهم للوطن لأنها تعبر عن امتداد تاريخ الوطن وتراثه
(✓)	٢ . من صور الأمانة المحافظة على اسرار الناس
(✓)	٣ . من واجبات المواطن التزام الأنظمة والقوانين
(✓)	٤ . المواطن المسؤول هو الانسان ذو الخلق الحميد الملتزم بتعاليم دينه
(✓)	٥ . كان الرسول صلى الله عليه وسلم يلقب بالصادق الامين
(X)	٦ . غياب الصدق والامانه يؤدي الى الاستقرار والامن
(✓)	٧ . اهمال الأمانة يقود الى عقاب في الدنيا وعقاب في الآخرة
(✓)	٨ . خيانة الوطن مخالفة للامانة
(X)	٩ . ضريبة القيمة المضافة في وطني ٢٥ %
(✓)	١٠ . عندما اجد اثار قديمة ابلغ الجهات المختصة عنها
(✓)	١١ . التعليم والصحة من حقوق المواطن
(✓)	١٢ . يقطع خط جرينيتش الكرة الأرضية من الشمال الى الجنوب
(X)	١٣ . خطوط الطول هي دوائر كاملة
(✓)	١٤ . ينقص التوقيت ساعة واحدة كلما ابتعدنا ١٥ درجة غرب خط جرينيتش
(X)	١٥ . تساعدنا دوائر العرض على معرفة التوقيت

السؤال الثالث : ضع الكلمات الموجودة في الجدول التالي في الفراغ المناسب

١٠

المتحف	التعليم	التزام الانظمة	الامن	متساوية
السكان	٣٦٠	تعزيز انتماء المواطنين	خط جرينيتش	هيئة الزكاة والضريبة والجمارك

١. تتصف خطوط الطول بأنها...**متساوية**....

٢. عدد خطوط الطول**٣٦٠**.....

٣. الخط الرئيسي لخطوط الطول هو **خط جرينيتش**.....

٤. الأمانة تحقق **الامن**..... للوطن.

٥. من واجبات المواطن **التزام الانظمة**.....

٦. من حقوق المواطن **التعليم**.....

٧. **المتحف**..... تعرض فيه المقتنيات التاريخية.

٨. تتولى تحصيل الضرائب **هيئة الزكاة والضريبة والدخل**.....

٩. من فوائد المشاركة في المجتمع **تعزيز انتماء المواطنين**.....

١٠. هم المواطنون والمقيمون في الوطن من ذكور واناث **السكان**.....

انتهت الأسئلة
دعواتي لكم بالتوفيق