

تم تحميل وعرض المادة من

# منهجي

mnhaji.com



موقع منهجي منصة تعليمية توفر كل ما يحتاجه المعلم  
والطالب من حلول الكتب الدراسية وشرح للدروس  
بأسلوب مبسط لكافة المراحل التعليمية وتوازيع  
المناهج وتحاضير وملخصات ونماذج اختبارات وأوراق  
عمل جاهزة للطباعة والتحميل بشكل مجاني

حمل تطبيق منهجي ليصلك كل جديد




التاريخ:	 وزارة التعليم Ministry of Education	المملكة العربية السعودية
المادة: العلوم		وزارة التعليم
الصف: الثاني الابتدائي		الابتدائية الأربعة الإدارة العامة للتعليم بمنطقة ..... المدرسة/.....
اسم الطالب/ة..... الفصل/.....		

## تقويم ختامي لمهارات علوم الصف الثاني – (الفصل الدراسي الثالث) عام ١٤٤٤ هـ

### السؤال الأول:

\* من خلال الصور التالية نحدد المواد (صلبة \_ سائلة \_ غازية) تحت كل صورة



.....

.....

.....

.....

.....

\* نصل المفردة والعبارة المناسبة لها:

### السؤال الثاني :

مادة تنتج حرارة عند احتراقها

المادة

هي أي شيء يشغل مكانا ، وله كتلة

القوة

مؤثر يغير الحالة الحركية للجسم ، دفع أو سحب

الوقود

\* نجيب عما يأتي بصح أو خطأ:

### السؤال الثالث :

(.....)

١\_ يقاس حجم السائل بوحدة اللتر

(.....)

٢\_ المادة الصلبة لها شكل محدد

(.....)


٣\_ الاحتكاك قوة تبطئ حركة الاجسام

(.....)

٤\_ نقيس درجة الحرارة بالمسطرة

\* مانوع القوة المستخدمة لتحريك الأشياء فيما يلي ؟

### السؤال الرابع :



.....

.....

.....







←

\* ايهما يمثل تغير كيميائي في الصورتين

السؤال الخامس :

\* نضع كل كلمة مما يلي في المكان المناسب :

الاجتكاك	الدفع	السحب	الاجاذبية
	←		<input type="text"/>
	←		<input type="text"/>
	←		<input type="text"/>
	←		<input type="text"/>

\* بين الشكل التالي



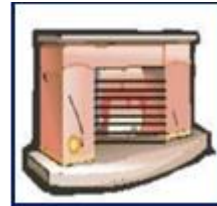
(.....)



\* نحدد فيما يلي مصادر الحرارة التي نستخدمها في حياتنا اليومية :










السؤال السادس :


\* ماذا يحدث للمادة في الصورة عند تعرضها للحرارة :



.....



.....



.....

\* نحيط الاجسام التي يجذبها المغناطيس :



سكره الشمري



التاريخ:	 وزارة التعليم Ministry of Education	المملكة العربية السعودية
المادة: العلوم		وزارة التعليم
الصف: الثاني الابتدائي		الإدارة العامة للتعليم بمنطقة ..... المدرسة/.....
اسم الطالب/ة..... الفصل/.....		

تقويم ختامي لمهارات علوم الصف الثاني - (الفصل الدراسي الثالث) عام ١٤٤٤ هـ

السؤال الأول:

\* من خلال الصور التالية نحدد المواد (صلبة - سائلة - غازية) تحت كل صورة



.....غازية.....      .....سائلة.....      .....غازية.....      .....سائلة.....      .....صلبة.....

\* نصل المفردة والعبارة المناسبة لها:

السؤال الثاني:



\* نحيب عما يأتي بصح أو خطأ:

السؤال الثالث:

- (.....) ✓
- (.....) ✓
- (.....) ✓
- (.....) ✗

- ١\_ يقاس حجم السائل بوحدة اللتر
- ٢\_ المادة الصلبة لها شكل محدد
- ٣\_ الاحتكاك قوة تبطئ حركة الاجسام
- ٤\_ نقيس درجة الحرارة بالمسطرة

\* مانوع القوة المستخدمة لتحريك الأشياء فيما يلي؟

السؤال الرابع:



دفع



تجاذب



للمجذب







\* ايها يمثل تغير كيميائي في الصورتين

غيب عطاء حمة



السؤال الخامس :

\* نضع كل كلمة مما يلي في المكان المناسب :

الاجاذبية	السحب	الدفع	الاحتكاك
الاجاذبية	←		
السحب	←		
الدفع	←		
الاحتكاك	←		



\* بين الشكل التالي

الدائرة الكهربائية (.....)

\* نحدد فيما يلي مصادر الحرارة التي نستخدمها في حياتنا اليومية :



\* ماذا يحدث للمادة في الصورة عند تعرضها للحرارة :

السؤال السادس :



تتكثف



تتبخر



تنصهر

\* نحيط الاجسام التي يجذبها المغناطيس :



سكره الشمري

تم الحل بواسطة:  
غيب عطاء مة