

تم تحميل وعرض المادة من

# منهجي

mnhaji.com



موقع منهجي منصة تعليمية توفر كل ما يحتاجه المعلم  
والطالب من حلول الكتب الدراسية وشرح للدروس  
بأسلوب مبسط لكافة المراحل التعليمية وتوزيع  
المناهج وتحضير وملخصات ونماذج اختبارات وأوراق  
عمل جاهزة للطباعة والتحميل بشكل مجاني

حمل تطبيق منهجي ليصلك كل جديد



التاريخ:	 وزارة التعليم Ministry of Education	المملكة العربية السعودية
المادة: العلوم		وزارة التعليم
الصف: الأول الابتدائي		الإدارة العامة للتعليم بمنطقة .....
الفصل / .....		اسم الطالب/ة .....

## تقويم ختامي لمهارات علوم الصف الأول – (الفصل الدراسي الثالث) عام ١٤٤٤

السؤال الأول: نكتب (الصيف\_ الشتاء\_ الربيع\_ الخريف) تحت صورة كل فصل:

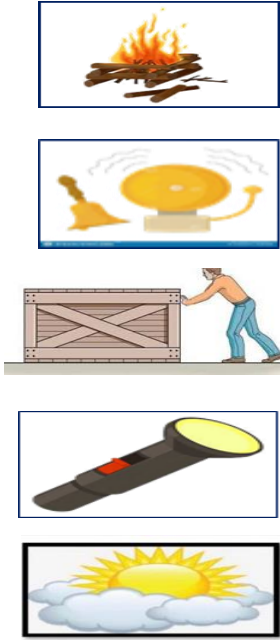









السؤال الثاني: نصل كل كلمة بالصورة المناسبة:



- غائم
- ضوء
- حرارة
- صوت
- دفع

السؤال الثالث: نحدد موقع الأشياء ب (تحت \_ يمين - فوق \_ خلف) تحت كل صورة:

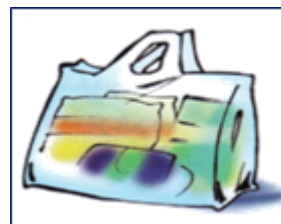







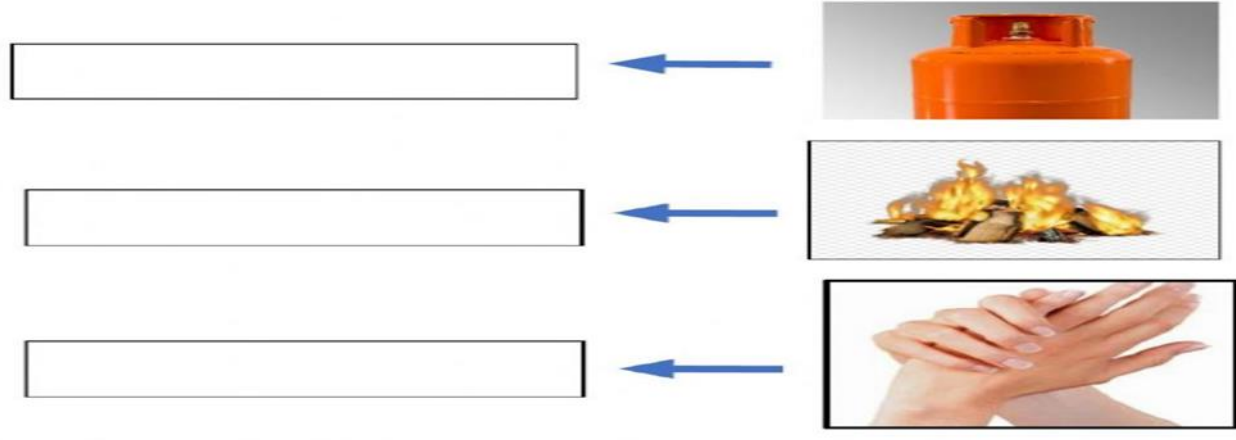



السؤال الرابع: \* نضع إشارة صح تحت الجسم الذي يسمح بمرور الضوء من خلاله:




ب/ ايهما نلبس في فصل الشتاء؟

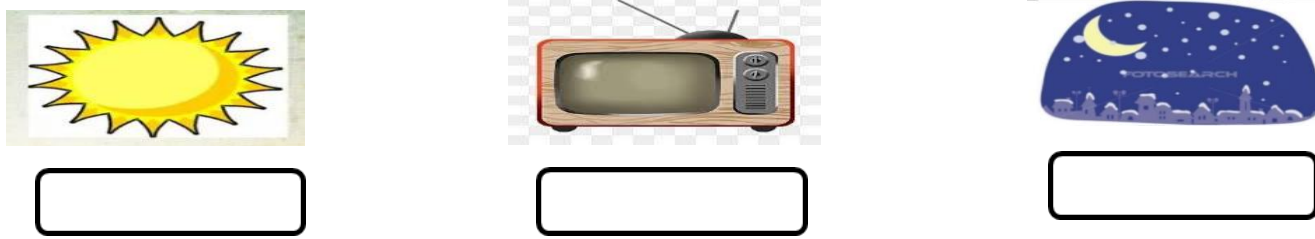
السؤال الخامس: نكتب مصادر الحرارة بجانب كل صورة ( الاحتكاك \* احتراق الخشب \* الغاز )



السؤال السادس: ١- أيهما يصدر صوت:



٢ / ما مصادر الضوء الطبيعية على الأرض:



السؤال السابع: ١- نصف نوع الحركة في الصور التالية ( دورانية \* مستقيم \* متعرج):



ب- نصل كل مفردة بمعناها

مقدار البعد بين جسمين

السرعة

وصف حركة الجسم سريعة او بطيئة

المسافة



بالتوفيق يا صغاري

سكره الشمري

التاريخ:	 وزارة التعليم Ministry of Education	المملكة العربية السعودية
المادة: العلوم		وزارة التعليم
الصف: الأول الابتدائي		الإدارة العامة للتعليم بمنطقة .....
اسم الطالب/ة.....		الفصل/.....

## تقويم ختامي لمهارات علوم الصف الأول - (الفصل الدراسي الثالث) عام ١٤٤٤

السؤال الأول: نكتب (الصيف\_ الشتاء\_ الربيع\_ الخريف) تحت صورة كل فصل:



الخريف



الربيع




الشتاء



الصيف

السؤال الثاني: نصل كل كلمة بالصورة المناسبة:



السؤال الثالث: نحدد موقع الأشياء ب (تحت - يمين - فوق - خلف) تحت كل صورة:



فوق



تحت

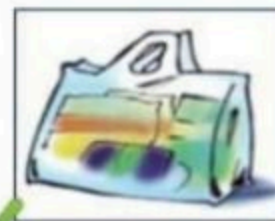


يمين



خلف

السؤال الرابع: \* نضع إشارة صح تحت الجسم الذي يسمح بمرور الضوء من خلاله:






ب/ ايهما نلبس في فصل الشتاء؟






غيب عطاء ممة



السؤال الخامس: نكتب مصادر الحرارة بجانب كل صورة ( الاحتكاك \* احتراق الخشب \* الغاز )

<input type="text" value="الغاز"/>	←	
<input type="text" value="احتراق الخشب"/>	←	
<input type="text" value="الاحتكاك"/>	←	

السؤال السادس: ١ - أيهما يصدر صوت :

		
<input type="text"/>	<input type="text"/>	<input checked="" type="text"/>

٢ / ما مصادر الضوء الطبيعية على الأرض :

		
<input checked="" type="text"/>	<input type="text"/>	<input type="text"/>

السؤال السابع: ١ - نصف نوع الحركة في الصور التالية ( دورانية \* مستقيم \* متعرج ):

		
<input type="text" value="دورانية"/>	<input type="text" value="متعرج"/>	<input type="text" value="مستقيم"/>

ب - نصل كل مفردة بمعناها

<u>مقدار البعد بين جسمين</u>	<input type="text" value="السرعة"/>
<u>وصف حركة الجسم سريعة او بطيئة</u>	<input type="text" value="المسافة"/>



بالتوفيق يا صغاري

سكره الشمري

تم الحل بواسطة:

غي عطاء مة