

تم تحميل وعرض المادة من

منهجي
mnhaji.com



موقع منهجي منصة تعليمية توفر كل ما يحتاجه المعلم
والطالب من حلول الكتب الدراسية وشرح للدروس
بأسلوب مبسط لكافة المراحل التعليمية وتوزيع
المناهج وتحضير وملخصات ونماذج اختبارات وأوراق
عمل جاهزة للطباعة والتحميل بشكل مجاني

اليوم /
التاريخ /
اسم الطالبة /



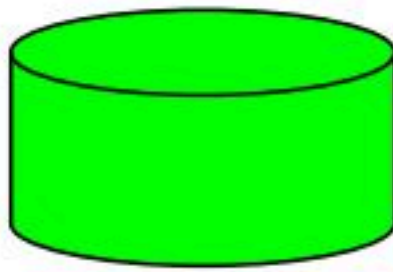

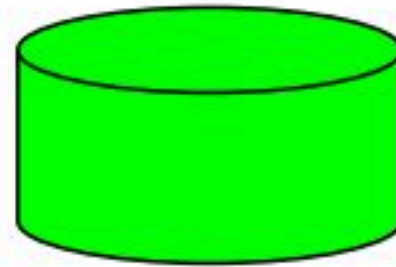



المملكة العربية السعودية

وزارة التربية (٢٨٠)
الإدارة العامة للتعليم بجدة
مكتب تعليم خليص (بنات)
شعبة الصفوف الأولية

اختبار تشخيصي لمادة الرياضيات الصف الأول الابتدائي الفصل الدراسي الأول


س ١ : صغيرتي صلي الأشكال المتطابقة بعضها ببعض:



س ٢ : اختاري العدد المناسب لكل مجموعة معطاة :



(١ - ٤ - ٥)



(٦ - ٩ - ٣)

(٤ - ٨ - ٢)



س ٢ : صغيرتي باناملك الجميلة لوني ٣ بالونات :

